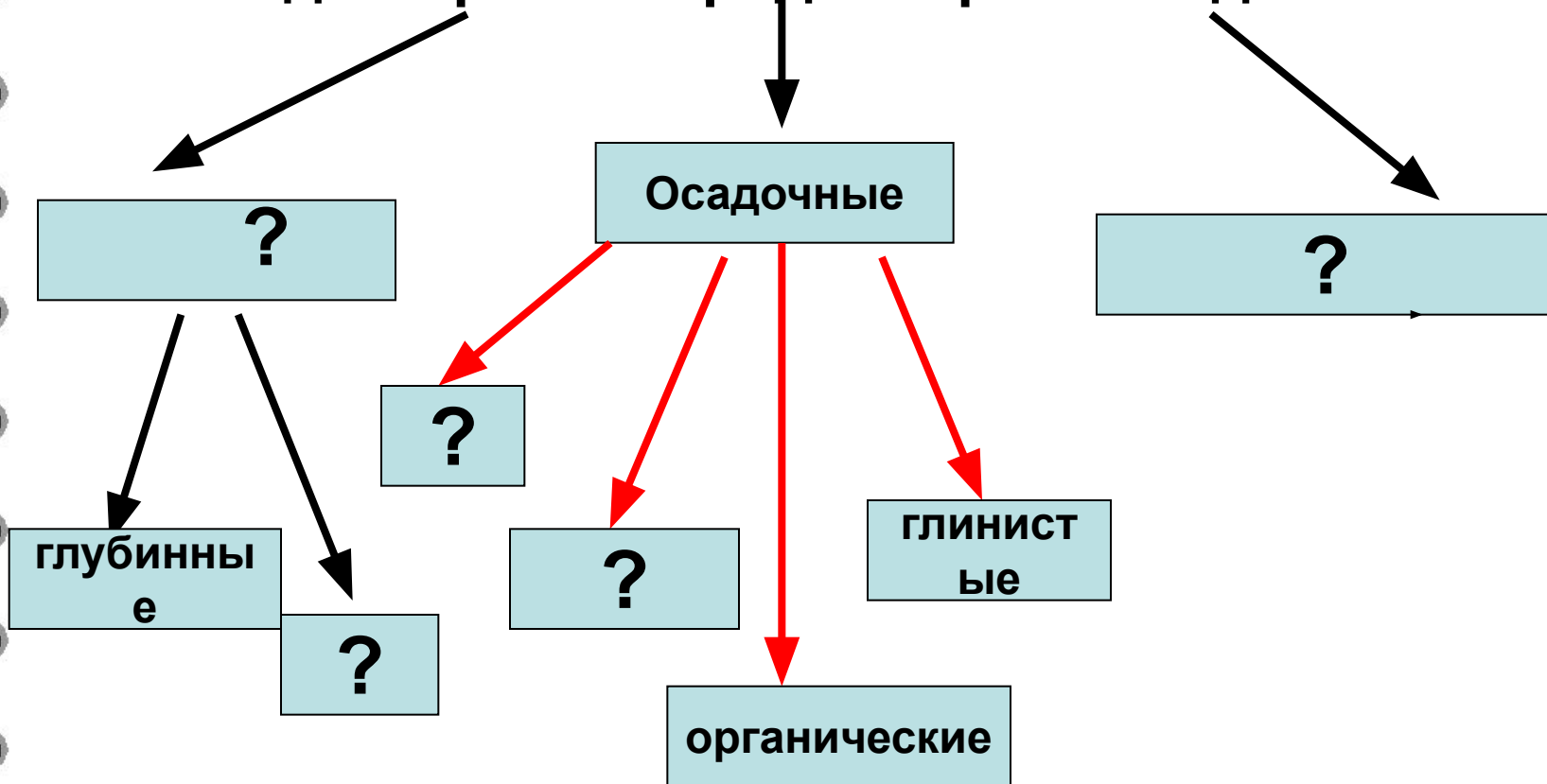
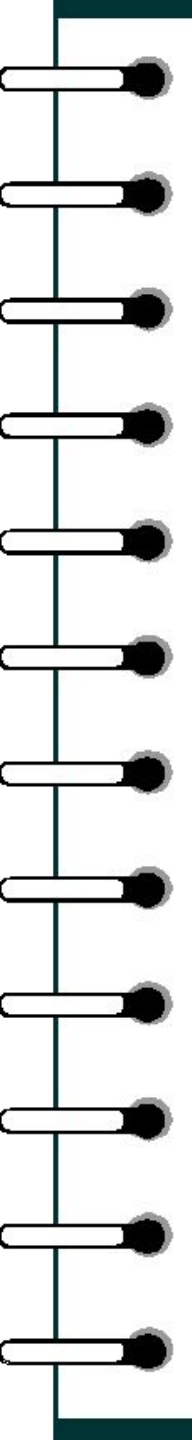


Самооценка работы на уроке (+) (-)

I. Дополните схему

Виды горных пород по происхождению






II. Назовите «лишнюю горную породу» и объясните свой выбор


1) базальт, пемза, гранит, обсидиан,

2) гранит, базальт, известняк, каменный уголь

**IV Перечислите виды
движений земной коры, назовите
их характерные признаки**



?



?

Отгадайте загадку

- В Мексике есть великан –
Это самый высокий в стране вулкан.



О

Р

И

С

А

Б

А

Тихоокеанское огненное кольцо





Инопланетяне отправляются
в путь

Где бы вы **безопасную** выбрали посадочную площадку для корабля? Почему?



Что объединяет эти картинки?

Рельеф суши

Учебник стр.88

Неровности земной поверхности

1)

Выступы материков

Впадины океанов

2)

Горы

Равнины

Тема урока:

Горы суши



Горы – это?

Задачи урока:

1. Что такое горы, как образуются?

3. Где расположены ?

2. Как обозначаются на карте ?

4. Как различаются по высоте ?

Учебник стр. 89

Горы-

Обширные участки
земной поверхности

высоко приподнятые
над равнинами


имеют сильно
пересеченный рельеф



*«Хребтами горбились породы,
Взрывались, плавилась, кипя-
И миллионы лет природа
Лепила самое себя».*



**Много гор образуют горную систему, которая имеет
собственное название**



Географические задачи № 1,2 стр. 89

Задание в рабочей тетради стр.

Гребень хребта




Вершины

Перевал



Склоны







**Высокие
Свыше
2000м**



**Средние
1000-2000
м**

*«С давних пор привыкли горы
О высотах вести споры.
Трудно это или просто
Нам расставить их по росту?».*



**Низкие
До 1000м**

Различны по высоте

**Изобразите в виде схемы
в тетради**

Продолжите фразу ...

1. Рельеф – это

2. Горы -

Найдите на карте

Высокие горы

Средневысотные горы

Низкие горы



Синквейн
«горы – это..»
2 прилагательных
3 глагола
свое отношение
СИНОНИМ

Задачи урока:

1. Что такое горы, как образуются?

2. Как обозначаются на карте ?

3. Где расположены ?

4. Как различаются по высоте ?



Домашнее задание:

**Выполнить географическую задачу на стр. 92
раб. Тетрадь стр.**

Оцените свою работу