





«Моя математика» 1 класс

Урок 48

Тема урока: «Числа 1- 9»

Урок 48 Помогите Вове записать выражения к моделям и сравнить их значения.

	
$7 + 1$	$7 + 2$
<input type="text"/>	<input type="text"/>

	
$+ 3$	$+ 3$
<input type="text"/>	<input type="text"/>

> = <

Внимание!

Данное задание можно выполнить интерактивно. Для этого презентацию надо перевести в режим редактирования.

Советы учителю.

Презентация к уроку составлена на основе заданий, расположенных в учебнике. Рекомендую открыть учебник на странице с данным уроком, прочитать задания и посмотреть их в данной презентации в режиме демонстрации.

Внимание!

Некоторые задания можно выполнять интерактивно. Например, продолжить ряд, сравнить или вставить пропущенные числа. Для этого презентацию надо перевести в режим редактирования.

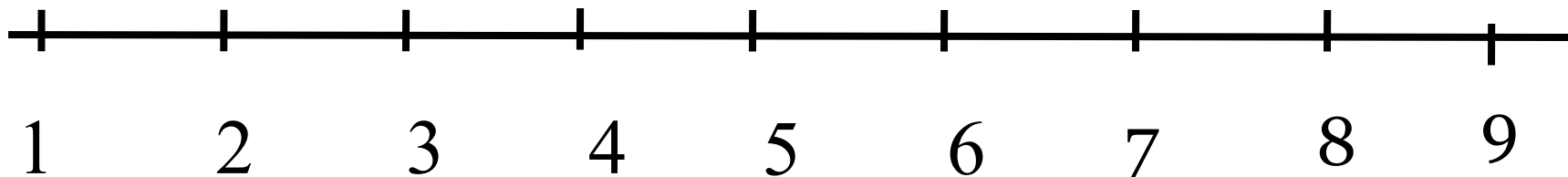
*Автор презентации
Татузова Анна
Васильевна
учитель школы
№ 1702
г. Москвы*

Цели урока:

Сформировать умение:

- выполнять сложение и вычитание в пределах 9.
- составлять простые задачи и выражения по рисункам и схемам, сравнивать выражения.

Урок 48



$$1+2=3$$

$$3+2=5$$

$$5+2=7$$

$$7+2=9$$

Продолжи ряды.(РТ №1, с. 45)

9 8 8 9 8 7 7 8 ? ? ?

Урок 48

Подставляем числа в «окошки».

3	<	
---	---	--

9	>	
---	---	--

3+		=	2+	
----	--	---	----	--



Внимание!

Данное задание можно выполнить интерактивно. Для этого презентацию надо перевести в режим редактирования.

$$9 - 1 - 1 - 2 + 3 + 1 =$$

1	2	3	4	5	6	7	8
---	---	---	---	---	---	---	---

-


Урок 48

Подставляем числа в «окошки».

3	<	
---	---	--

9	>	
---	---	--

3+		=	2+	
----	--	---	----	--



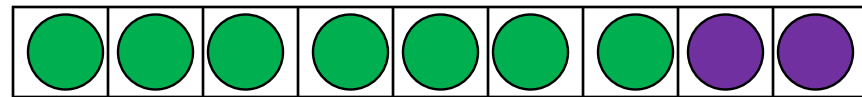
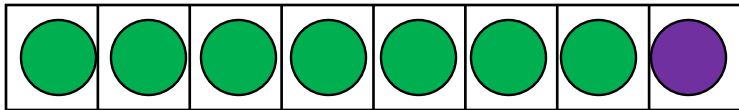
Работа с числовыми карточками

$$9 - 1 - 1 - 2 + 3 + 1 = 9$$

Урок 48

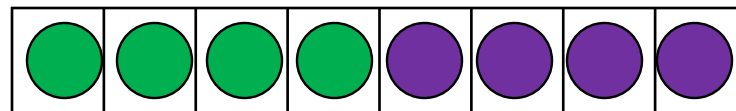

Помоги Вове записать выражения к моделям и

сравнить их значения.




$$7 + 1$$

$$7 + 2$$



$$+ 3$$

$$+ 3$$

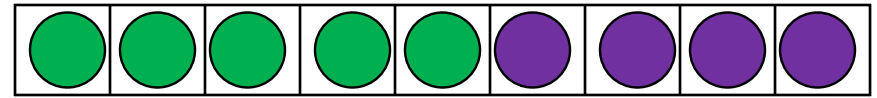



Внимание!

Данное задание можно выполнить интерактивно. Для этого презентацию надо перевести в режим редактирования.

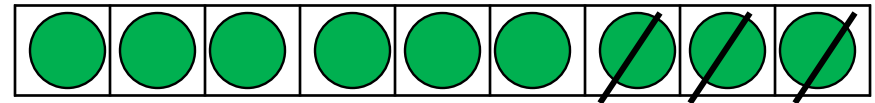
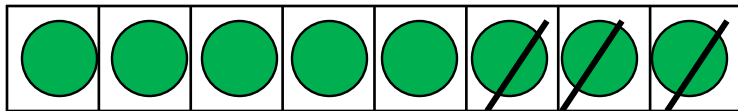
Урок 48

Помоги Вове записать выражения к моделям и сравнить их значения.



$$4 + \square$$

$$5 + \square$$



$$- 3$$

$$- 3$$

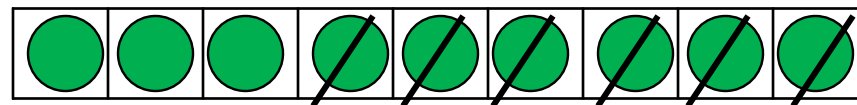
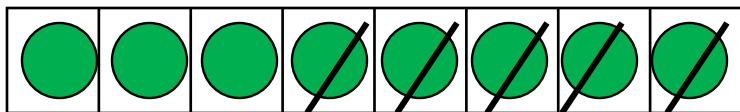
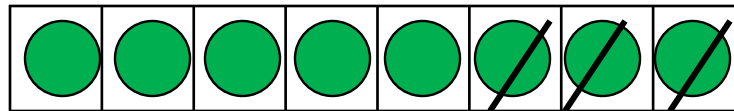
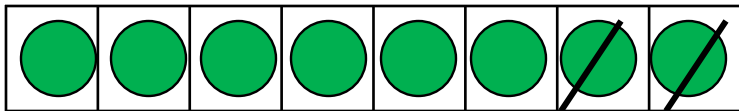


Внимание!

Данное задание можно выполнить интерактивно. Для этого презентацию надо перевести в режим редактирования.

Урок 48

Помоги Вове записать выражения к моделям и сравнить их значения.



Внимание!

Данное задание можно выполнить интерактивно. Для этого презентацию надо перевести в режим редактирования.

1 2 3 4 5 6 7 8



$$6+3$$

$$6+1+1+1$$

$$6+1+2$$

$$6+2+1$$



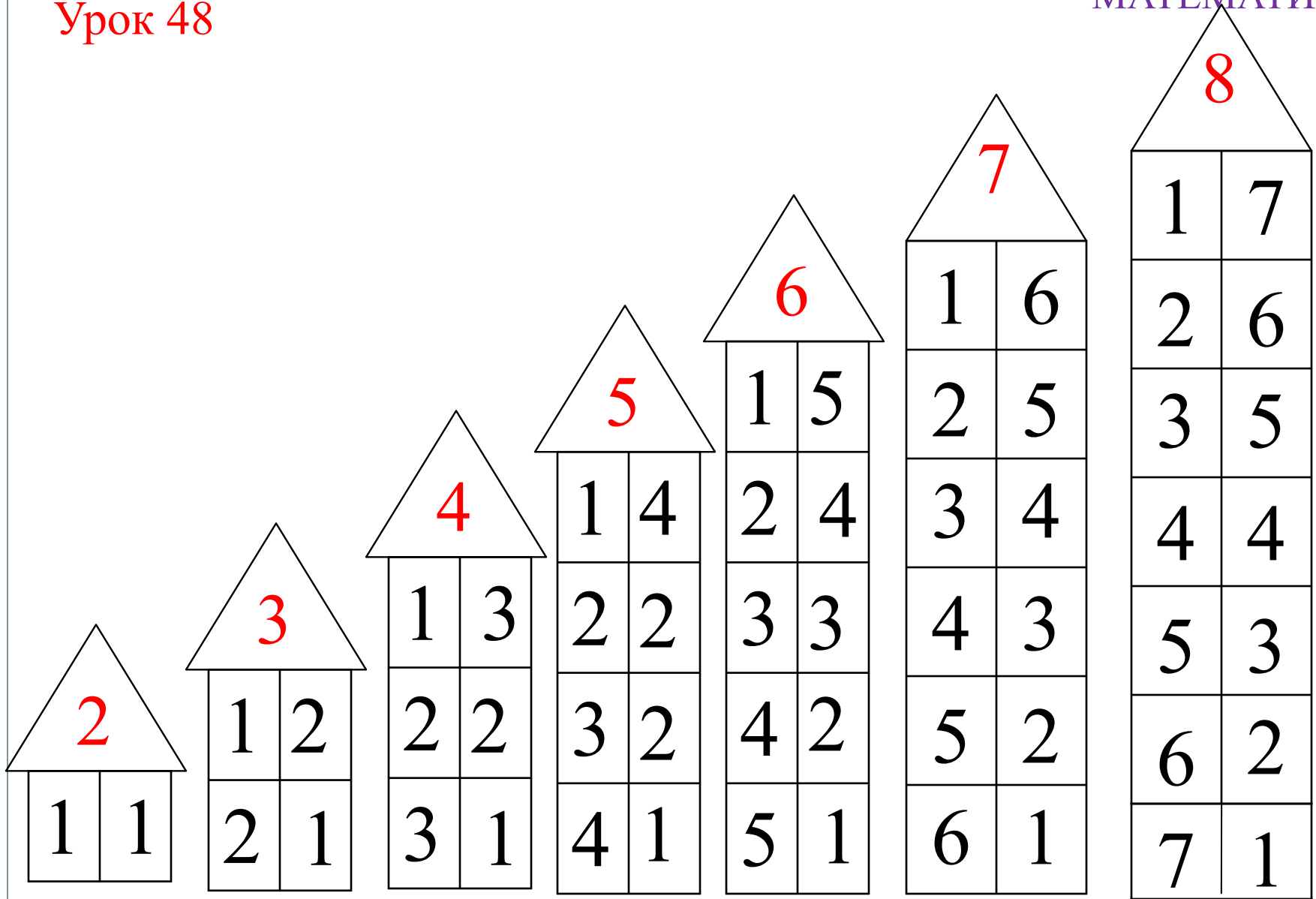
$$5+4$$

$$5+1+1+1+1$$

$$5+1+3$$

$$5+3+1$$

$$5+2+2$$



	1	2	3	4	5	6	7	8
9	8	7	6	5	4	3	2	1

Спасибо!