

«Моя математика» 1 класс

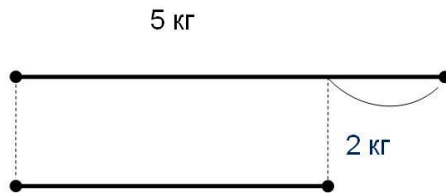
Урок 81

Тема урока: «Решение задач»

Учебник № 3, с. 6

МАТЕМАТИКА

Плюшкин



? кг

$$5 - 2 = 3 \text{ (кг)}$$

Ответ: 3 кг.



Пышкин

*Автор презентации
Татузова Анна
Васильевна
учитель школы
№ 1702
г. Москвы*

Советы учителю.

Презентация к уроку составлена на основе заданий, расположенных в учебнике. Рекомендую открыть учебник на странице с данным уроком, прочитав задания и просмотреть их в данной презентации в режиме демонстрации.

Внимание!

Некоторые задания можно выполнять интерактивно. Например, продолжить ряд, сравнить или вставить пропущенные числа. Для этого презентацию надо перевести в режим редактирования.


Задания	Варианты ответов
1. Чему равна разность чисел 9 и 6?	2 1 3
2. 8 – это 5 и сколько?	5 3 4
3. На сколько 7 больше 2?	4 9 5
4. Сумма каких двух чисел равна 9?	10 и 1 5 и 4 2 и 8
5. Уменьши 6 на 1?	7 4 5
6. К какому числу прибавили 7, если получили 10?	7 3 2
7. На сколько уменьшили 8, если получили 4?	на 4 на 2 на 3
8. 10 - это 6 и сколько?	5 4 3
9. Какое число больше 3 на 4?	7 1 6
10. Какое равенство станет верным, если в «окошко» записать число 6?	$2 + \square = 9$ $\square - 5 = 1$ $10 - \square = 3$

Задания	Варианты ответов
1. Чему равна разность чисел 9 и 6?	2 1 3
2. 8 – это 5 и сколько?	5 3 4
3. На сколько 7 больше 2?	4 9 5
4. Сумма каких двух чисел равна 9?	10 и 1 5 и 4 2 и 8
5. Уменьши 6 на 1?	7 4 5
6. К какому числу прибавили 7, если получили 10?	7 3 2
7. На сколько уменьшили 8, если получили 4?	на 4 на 2 на 3
8. 10 - это 6 и сколько?	5 4 3
9. Какое число больше 3 на 4?	7 1 6
10. Какое равенство станет верным, если в «окошко» записать число 6?	$2 + \square = 9$ $10 - \square = 3$ $\square - 5 = 1$



ВЗЯЛИ ДЛЯ
КАШИ

ВЫПИЛИ



? ч.



взяли для
каши

выпили



? ч.

Сколько всего чашек молока нужно использовать на завтрак Кате и Пете?

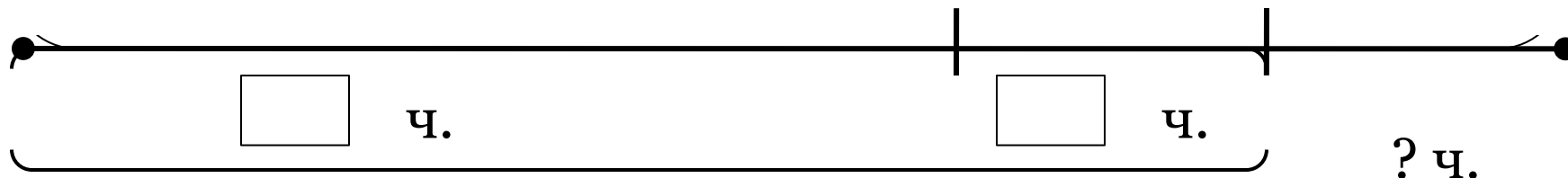
$$1) 6 + 2 = 8 \text{ (ч.)}$$



взяли для
каши

выпили

осталось



? ч.



Сколько чашек молока останется кошке?


$$1) 6 + 2 = 8 \text{ (ч.)}$$



взяли для
каши

выпили

осталось



Сколько чашек молока останется кошке?

$$1) 6 + 2 = 8 \text{ (ч.)}$$

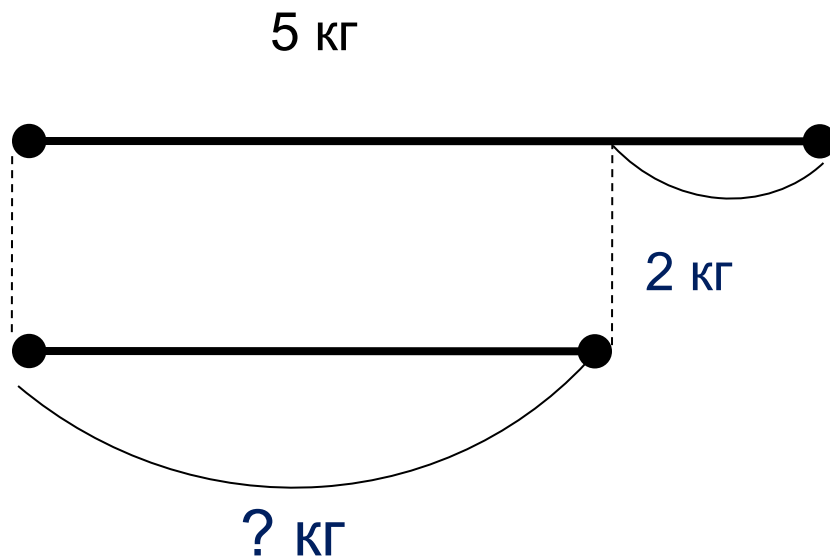
$$2) 10 - 8 = 2 \text{ (ч.)}$$

Ответ: 2 чашки.

Плюшкин



Это на 2 кг больше,



$$5 - 2 = 3 \text{ (кг)}$$

Ответ: 3 кг.



Пышкин

Плюшкин



Сладкоежка Плюшкин испёк торт массой 5 кг, а сладкоежка Пышкин – массой кг. Найди общую массу этих тортов.



Пышкин

Плюшкин



Пышкин



Плюшкин



Сладкоежка Плюшкин испёк торт массой 5 кг, а сладкоежка Пышкин – массой 3 кг. Найди общую массу этих тортов.

$$5\text{кг} + 3\text{кг} = 8\text{кг}$$

Ответ: 3 кг.



Пышкин

Спасибо!