

Решение уравнений.

2 класс.



Устный счёт.

- Из величин 5 см, 5 дм, 5 м выберите подходящую для предположения «Миша вырос за лето на ...»

- *Задача-шутка*


Когда цапля стоит на одной ноге, она весит 12 кг. Сколько она будет весить, если встанет на 2 ноги?

Логическая задача


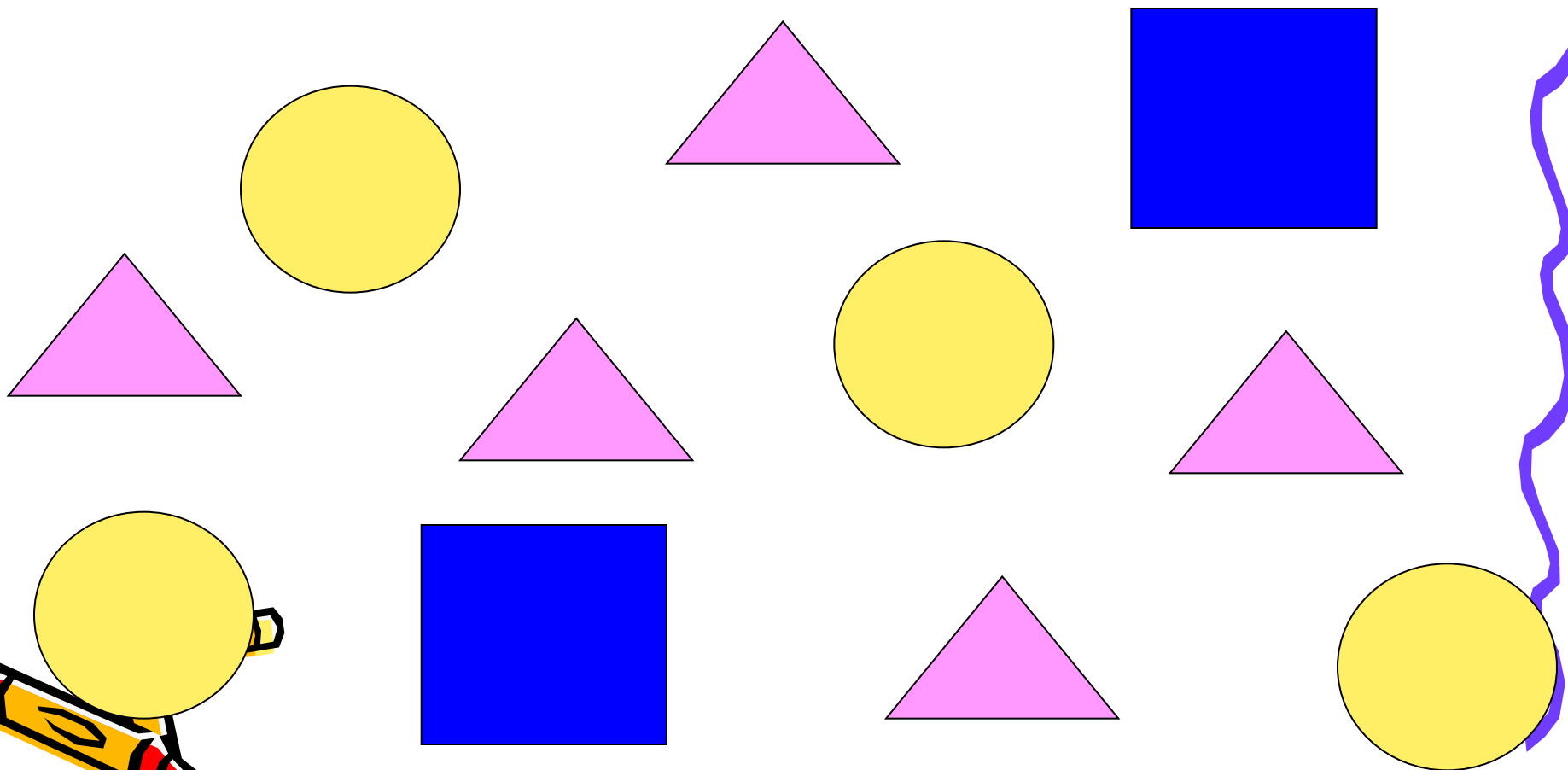
На двух руках 10 пальцев. Сколько пальцев на 8 руках?

Работа над задачами.

- С. 74, № 1.
- - Прочитайте условие задачи. Запишите кратко или выполните рисунок.
- - Решите задачу.
- - *I-Вариант*- составьте задачу обратную данной, чтобы она решалась сложением.
II-Вариант- вычитанием.



Физкультминутка.




Решение уравнений.

- №3, с.74.

- $x+9=18$

$x-5=47$

$13+x=25$





Итог урока.

- Звонит звонок,
Закончился урок.

