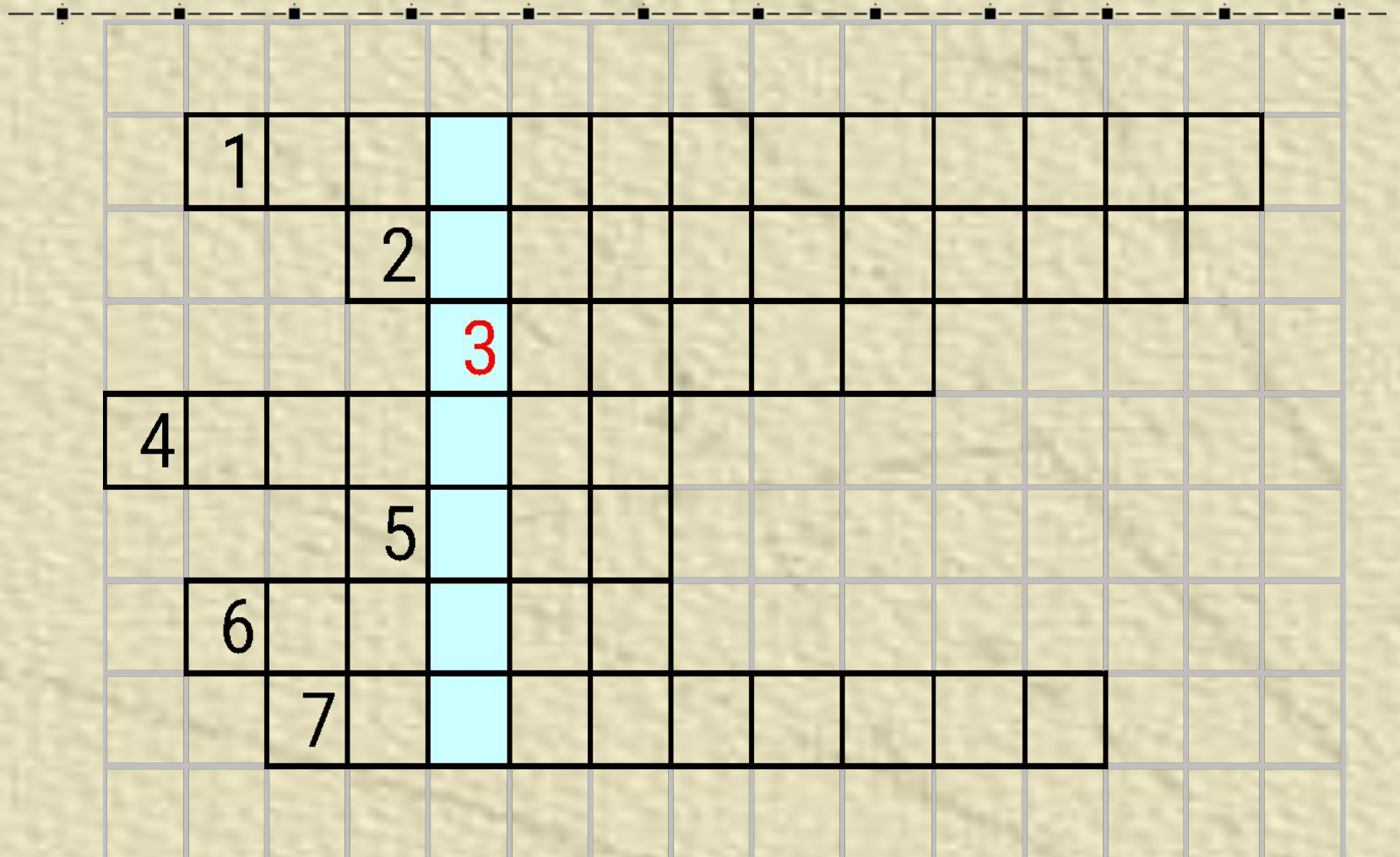
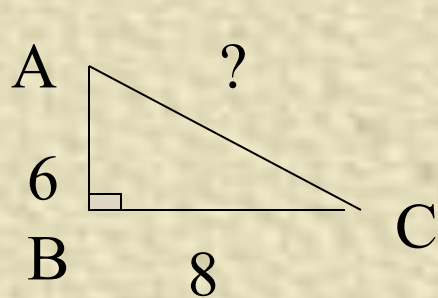


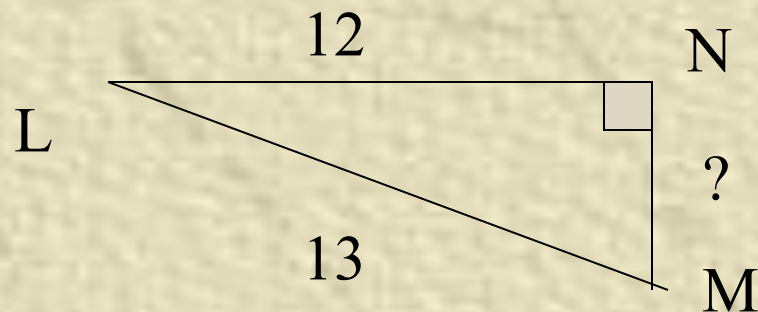
*Да, путь познания не гладок.
Но знаем мы со школьных лет,
Загадок больше, чем разгадок,
И поискам предела нет!*



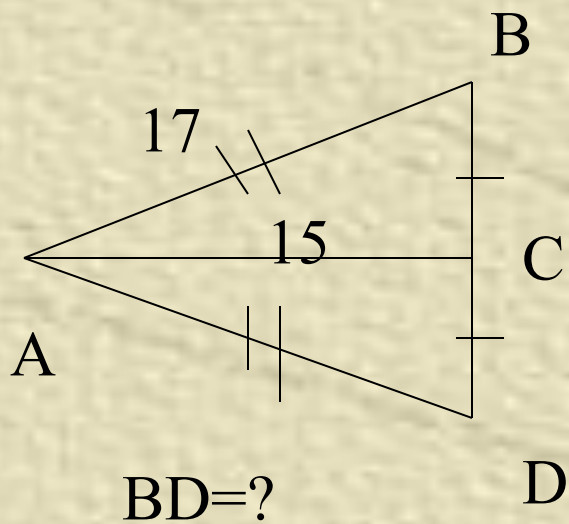
Устный счет



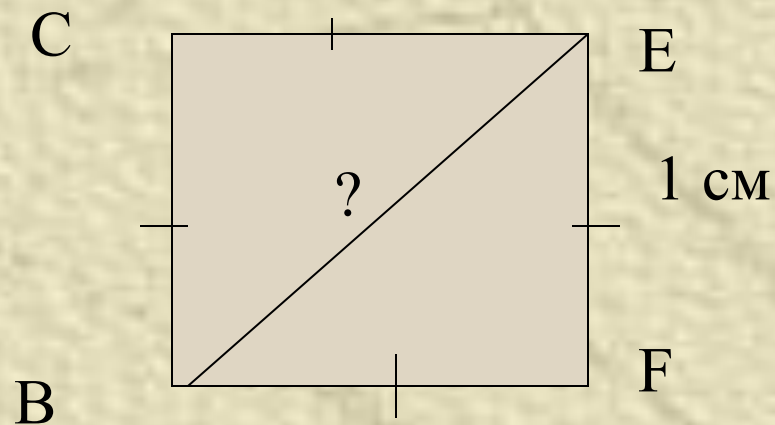
AC=?



NM=?



BD=?



ТЕСТ

1. В прямоугольном треугольнике квадрат гипотенузы равен...
 - А) сумме катетов;
 - Б) квадрату катета;
 - В) сумме квадратов катетов;
 - Г) ответа нет.
2. Квадрат катета равен разности квадрата гипотенузы и другого катета в треугольнике с углами...
 - А) 45 и 50;
 - Б) 30 и 45;
 - В) 28 и 62;
 - Г) ответа нет.
3. Какой из треугольников с указанными сторонами прямоугольный...
 - А) 2; 5; 4.
 - Б) 10; 10; 10.
 - В) 12; 9; 15.
 - Г) ответа нет.

