

Посчитай - ка

Вставьте пропущенные числа:

$$20 - \quad = 18$$

$$\quad - 2 = 35$$

$$32 - \quad = 21$$

$$15 + 33 = \quad$$

$$\quad - 4 = 15$$



Посчитай - ка

Проверка

$$20 - 2 = 18$$

$$37 - 2 = 35$$

$$32 - 11 = 21$$

$$15 + 33 = 48$$

$$19 - 4 = 15$$



Посчитай -ка

Составьте обратные примеры:

$$36 + 4 =$$



Посчитай - ка

Проверка

$$36 + 4 = 40$$

$$40 - 36 = 4$$






$$40 - 4 = 36$$



Посчитай - ка

Какая фигура «лишняя»?

Докажи свой выбор.



Посчитай - ка

В парке 45 лип и 30 кленов.

Что мы узнаем выполнив действия?

$$45 - 30$$

$$45 + 30$$

