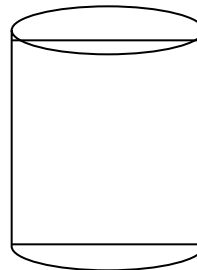

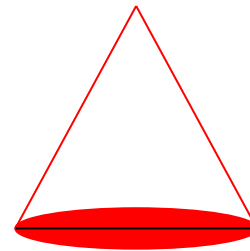
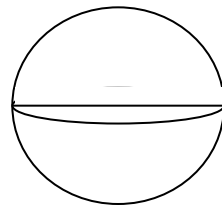





Давайте, ребята, учиться считать,  
Делить, умножать, прибавлять, вычитать.  
Запомните все, что без точного счёта  
Не сдвинется с места любая работа.



# Весёлый человечек





$$a \cdot b = S \text{ } \underline{\hspace{1cm}}$$

$$(a + b) \cdot 2 = P \text{ } \underline{\hspace{1cm}}$$

$$a \cdot 4 = P \text{ } \square$$

$$a \cdot a = S \text{ } \square$$

$a - ? \text{ cm}$

$$S = 49 \text{ cm}^2$$



Найдите периметр  
вырезанной фигуры

