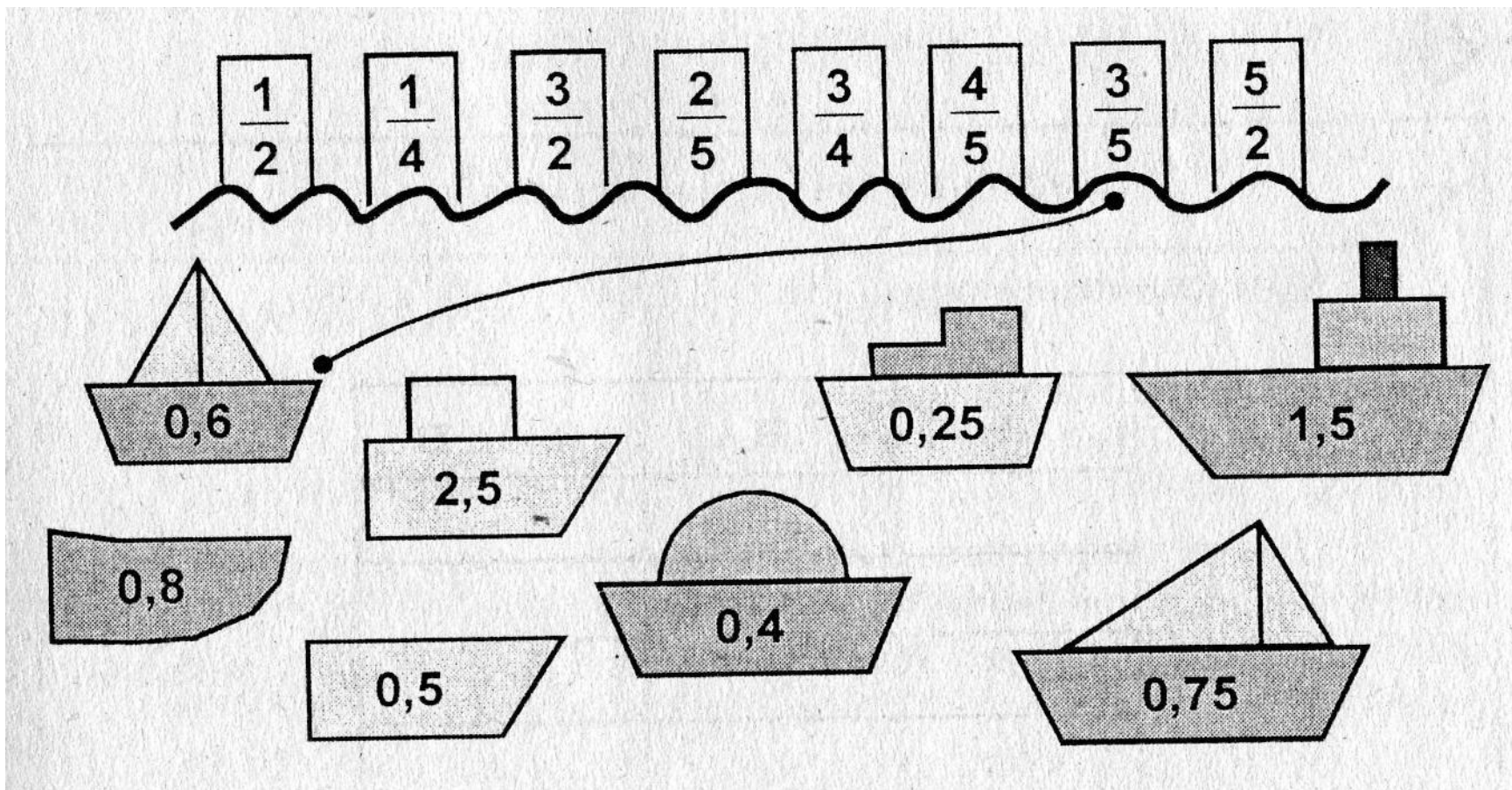




# Действия с десятичными дробями



# 1. Найдите причал для каждой ЛОДКИ



# Впишите знак действий



$8,8 \quad 10=88$

$7,5 \quad 100=750$

$3,3 \quad 100=0,033$

$44,55 \quad 0,1=4,455$

$10,5 \quad 10=1,05$

$0,37 \quad 10=3,7$

$0,36 \quad 100=36$

$3,78 \quad 0,01=0,0378$





## Выполните действия

1)  $0,769 + 42,389 =$

2)  $114,8 - 71,35 =$

3)  $2,87 : 5,6 =$

4)  $1,75 : 7 =$

5)  $2,88 \div 0,8 =$

6)  $0,382 \cdot 15 =$



Поставьте запятые, чтобы получилось  
верное равенство

1. 52+18=7

2. 3+108=408

3. 42+17=212

4. 736-336=4

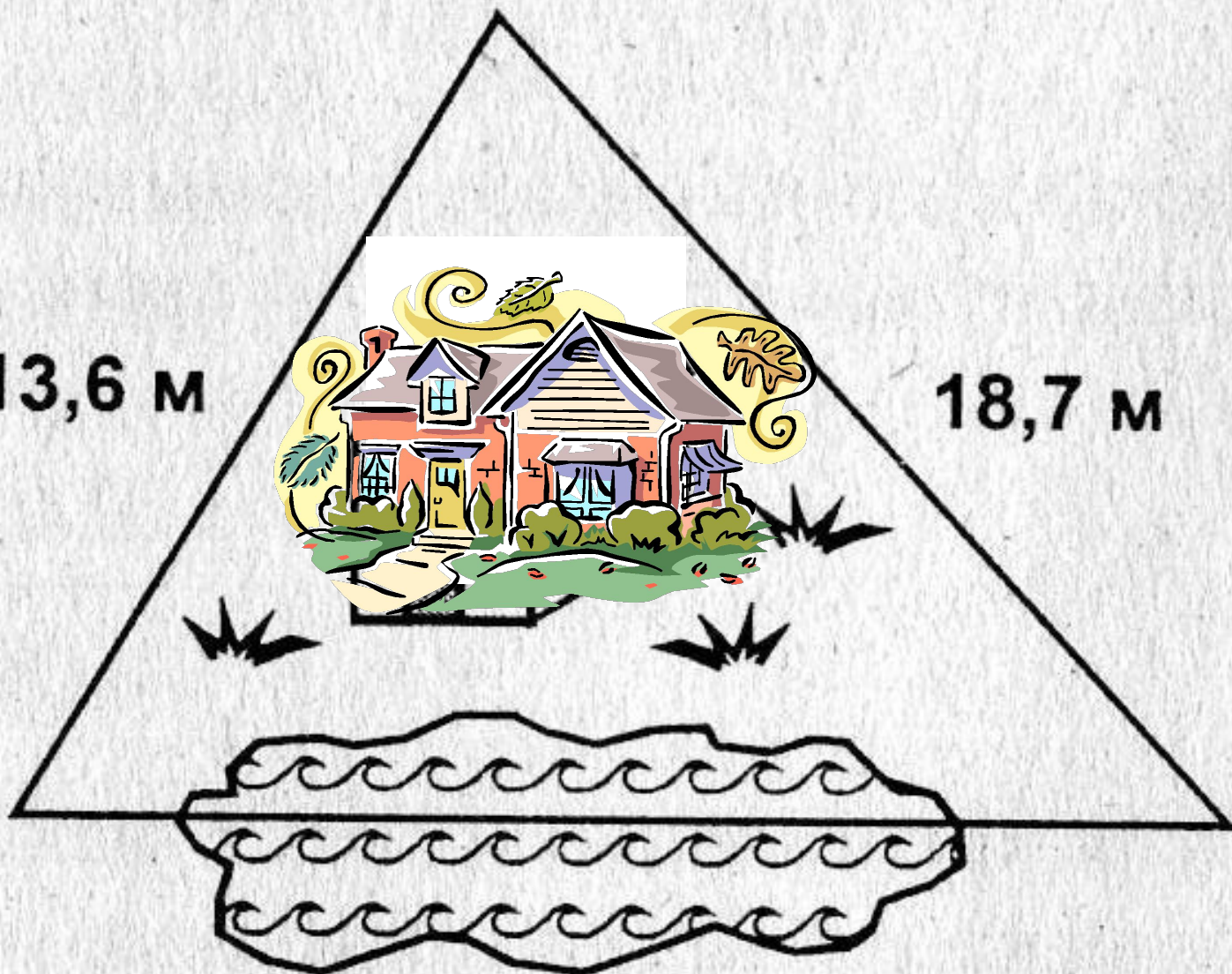
5. 63-27=603

6. 57-4=17



13,6 м

18,7 м



Периметр забора равен 42,9м

# Решите уравнения:

- $3,2 x = 33,28$


- $35 : x - 20 = 15$

- $7,2 ( 5,4 y - 3,2 ) + 7,024 = 11,2$



## Решите задачу:

Твой рюкзак вместе с туристским снаряжением весит 11,75 кг. Кроме того, тебе нужно взять посуду, которая весит 2 кг и 2,9 кг продуктов. Сколько плиток шоколада ты можешь ещё взять, если за плечами у тебя не должно быть больше 17 кг, а каждая плитка шоколада весит 70 г.?



2,9кг



2кг



11,75

кг



# Рецепт бабушкиного печенья:

- Взять треть чайной ложки соды, полчайной ложки соли, три четвертых пачки маргарина, полтора стакана сахара, один и три десятых кг муки. Замесить тесто, выложить его в форму и поставить на четверть часа в духовку.

