

Кто с детских лет  
занимается математикой, тот  
развивает свой мозг, свою  
волю, воспитывает в себе  
настойчивость и упорство в  
достижении цели.

А. Маркушевич.



Ответьте на вопрос. С помощью каких дробей записаны цены на игрушках?



50,7 р.



40,2 р.

Прочитайте числа.

Скажите: а) Сколько стоит вся покупка?

б) На сколько рублей одна игрушка дороже другой?



Девиз урока:  
Знания имей отличные  
по теме  
*« Дроби  
десятичные».*



Прочитайте дроби:

0,3

0,74

0,002



# Что больше?

0,4

2,7

5,18



## *Сформулируйте правила сложения и вычитания десятичных дробей*

Чтобы сложить (вычесть) десятичные дроби, нужно:

- Уравнять в этих дробях количество знаков после запятой;
- Записать их друг под другом так, чтобы запятая была записана под запятой;
- Выполнить сложение (вычитание), не обращая внимания на запятую;
- Поставить в ответе запятую под запятой в данных дробях.

# Вычисли устно.

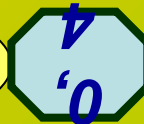
Какой кошке поклонялись древние индейцы?



Ягуар


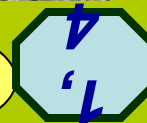


Рысь



Гепард

д





Вычисли устно.  
какую птицу

называли  
птицей-легендой?



11

Священны  
й ибис



12

Венце  
ный  
журавль



10

Белый и черный  
аисты



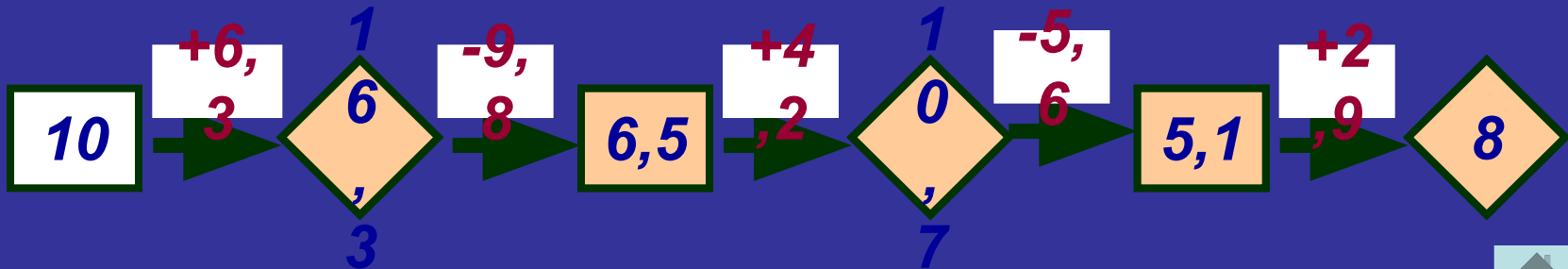
**ВЫЧИСЛИ УСТНО.**  
 Из шкурок какого зверька шилась  
 королевская мантия?



**Белка** 9

**Горноста́й** 8

**Собо́ль** 10



# Диктант.

1. Число 6,5 увеличьте на 0,1.
2. К числу 6,555 прибавьте 0,1.
3. Число 6,5 уменьшите на 0,1.
4. От числа 6,55 отнимите 0,1.
5. На сколько число 0,99 меньше 1.
6. Решите уравнение :
  - а)  $X + 4,5 = 9,6$ ;
  - б)  $X - 2,12 = 5,4$



# Проверьте:

1. 6.6
2. 6.655
3. 6,4
4. 6,45
5. 0.01
6. а) 5.1    б) 7,52

Оценка: «5» - 7 заданий, «4»- 5,6 заданий,  
«3» - 3,4 задания.

Найдите сумму чисел.

<b>30,56</b>	<b>15,6</b>	<b>70,2</b>
<b>1,2</b>	<b>10,33</b>	<b>4,4</b>
<b>250</b>	<b>90,543</b>	<b>17,42</b>
<b>296,5</b>	<b>41,69</b>	<b>100,25</b>

# Найдите сумму чисел по правилу

- 1. из первой строчки выберите не самое маленькое , но и не самое большое число.
- 2. Из второй строчки выберите самое большое число.
- 3. Из третьей строчки выберите самое маленькое число.
- 4. Из четвертой строчки выберите самое маленькое число.

**Проверьте себя.**

$$30,56+10,33+17,42+41,63=$$
$$=100(\text{см})=1(\text{м}).$$

*Длина европейского  
бобра достигает  
1 м, а вес 30 кг.*



Сигнальное устройство пропускает только  
карточки с верными равенствами. Найди  
«верные»  
карточки. Прочитай полученное слово.

$$5\text{м}17\text{см}=5.17\text{м}$$

К

$$320\text{см}=3.2\text{м}$$

Л

$$12\text{см}=1,2\text{м}$$

Д

$$4\text{м}7\text{см}=4.7\text{м}$$

В



$$30\text{см}=0.3\text{м}$$

Ё

$$4\text{т}270\text{кг}=4,27\text{т}$$

С

$$3\text{км}270\text{м}=3.27\text{м}$$

Т

$$3\text{м}2\text{см}=3,2\text{м}$$

Н



# Клёст



## Решите задачу.

Яблоко, груша и апельсин вместе имеют массу 0,95 кг.

Масса апельсина 360г, а груша на 0,158кг его легче.

Найдите массу яблока.



***Помогите клоуну  
разобраться, где и какие  
он допустил ошибки?***



- $7,2 + 5 = 7,7$
- $0,1 - 0,03 = 0,07$
- $0,2 + 0,3 = 0,5$
- $5 + 0,9 = 1,4$

# Проверь себя.



- $7,2 + 5 = 12,2$
- $0,1 - 0,03 = 0,07$
- $0,2 + 0,3 = 0,5$
- $5 + 0,9 = 5,9$

Ятрышник – красивое  
многолетнее растение.  
Занесено в Красную  
книгу.



Прострел.  
Занесен в  
Красную  
книгу.



**Давайте любить и охранять  
нашу природу,  
стараться  
узнавать о ней  
как можно  
больше.**





## Итоги урока.

**Итак, сегодня на уроке мы**

- **закрепили знания по теме «Сложение и вычитание десятичных дробей»;**
- **а также узнали о животных и растениях нашего края.**
- **Спасибо за урок!**