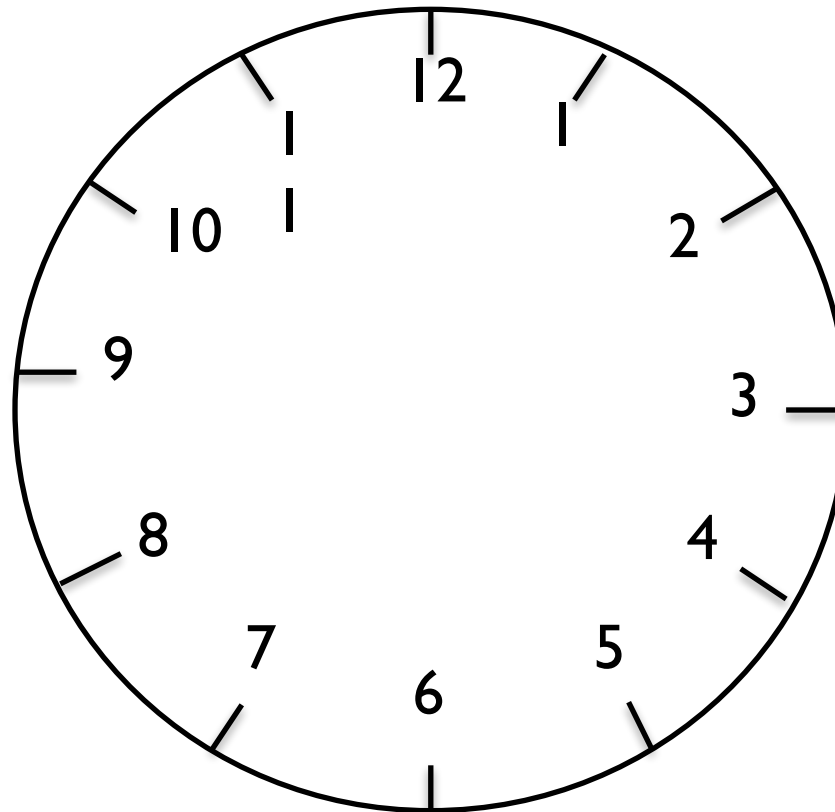


Приём вычислений вида $26+4$

Автор презентации
Учитель начальных классов
Нюнькова А.А.
МОУ «Ряжская СШ №2»
г.Ряжск

I. Логическая разминка


° -Я задумала два числа из этого круга. Сложила их и получила 20. Какие числа я задумала?




-Заполните таблицу, и вы узнаете, какие знания нам понадобятся при изучении нового материала.

| | | | | | | | | | |
|-----|---|---|---|---|---|---|---|---|---|
| 10- | 1 | 8 | 3 | 6 | 5 | 4 | 7 | 2 | 9 |
| это | 9 | 2 | 7 | 4 | 5 | 6 | 3 | 8 | 1 |

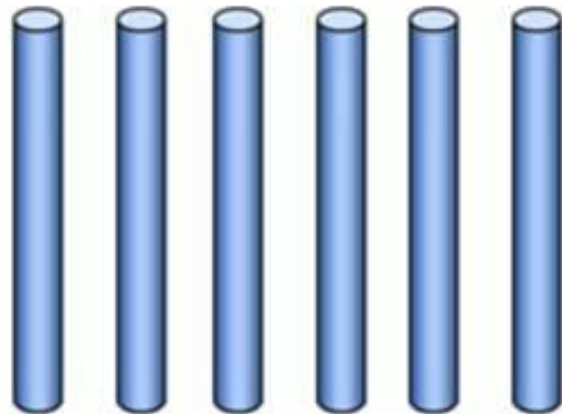




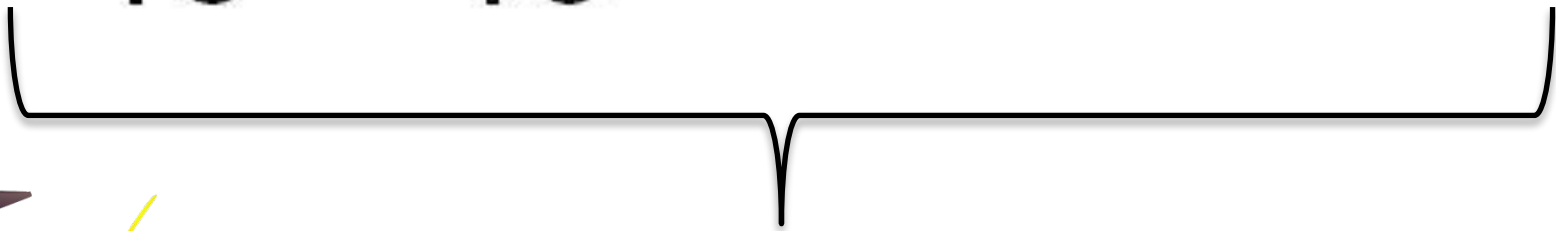
10



10



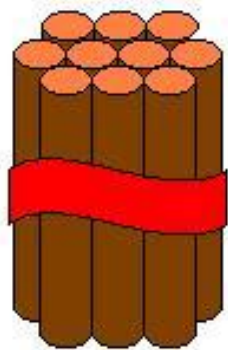
1 2 3 4 5 6



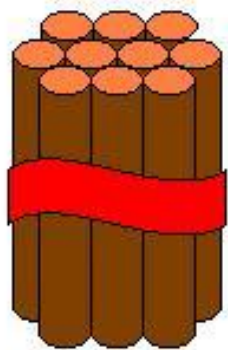
Число 26



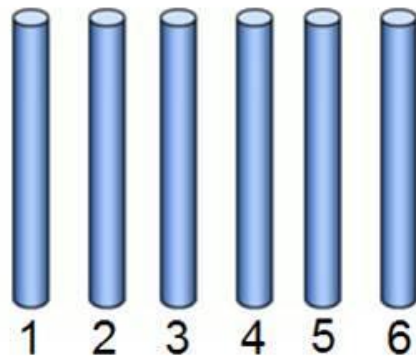
-Прибавьте к числу 26 число 4. Как это сделать?




10



10



+




10

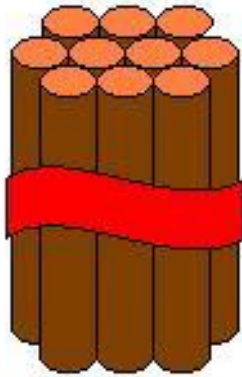





?



10



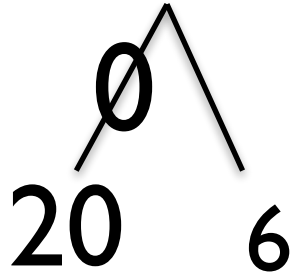
10



1

0

$$26+4=20+(6+4)=20+10$$



$$26+4=30$$





Работа по учебнику

№1 (с.60), №2 (с.60), №3
(с.60), №6 (с.60), №5 (с.60)

Молодцы!

***Желаю всем
успехов!***

