

# РАВНИНЫ И ГОРЫ РОССИИ

Окружающий мир  
4 класс



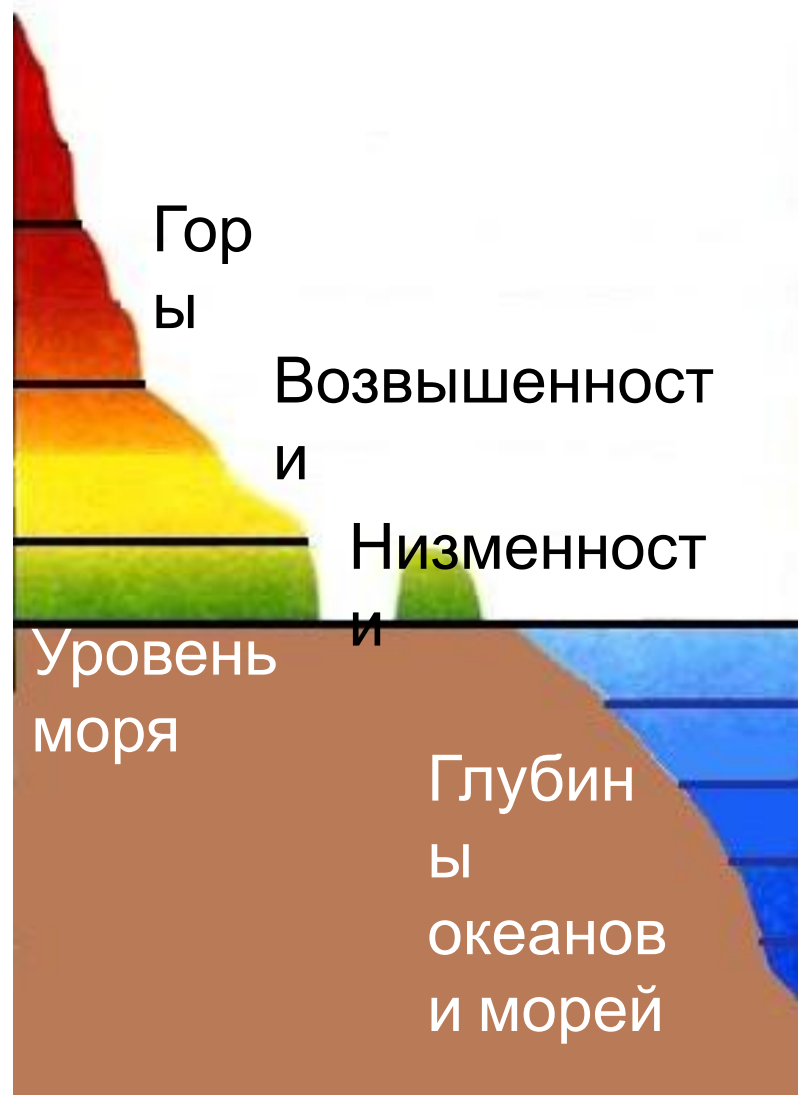
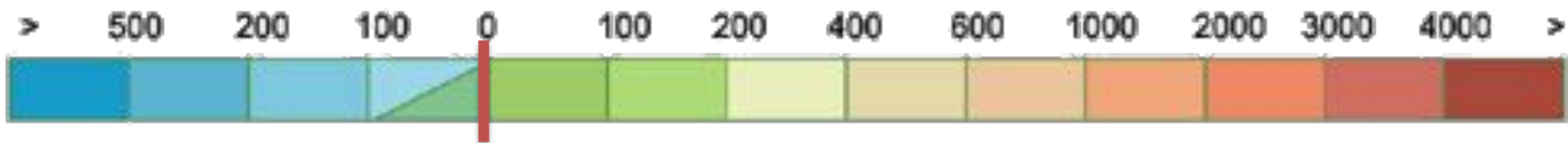
# Работа в парах



Рассмотрите карту на с. 64-65 учебника и ответьте на вопросы:

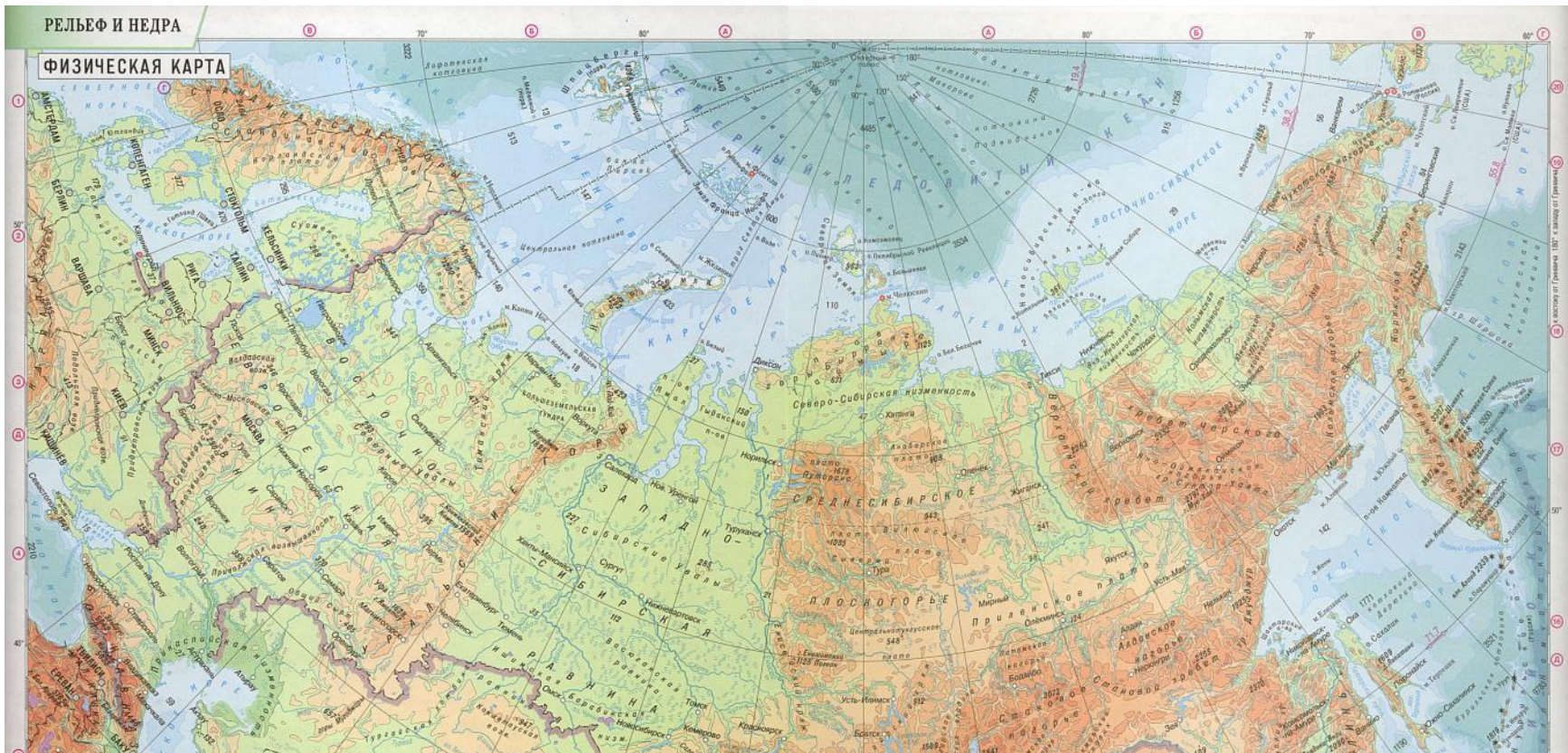
Как называется эта карта?

Какое значение имеет цвет на карте?



Для определения высот и глубин на физических картах помещают шкалу высот и глубин. С помощью шкалы и соответствующей окраски на картах можно узнать, где находятся высокие участки суши, где - низкие, где глубокие участки моря (океана), а где - мелкие.

# Формы рельефа Земли



Равнины на физической карте изображены зеленым цветом. Возвышенности – желтым цветом. Горы – коричневым цветом.

# Формы рельефа Земли

Равнины



Горы



Равнины и горы являются основными формами земной поверхности.

# Равнины

Плоские

Холмистые




Если на равнине нет возвышений и понижений, то ее называют плоской. Можно ехать часами и не встретить на плоской равнине заметных спусков и подъемов. Далеко видна линия горизонта.

Гораздо чаще встречаются холмистые равнины, где повышения чередуются с понижениями и рельеф более разнообразен. В природе обычно участки плоских и

е уча  
пове



# Работа в парах



1. Найдите на карте (с. 64-65 учебника) Восточно-Европейскую и Западно-Сибирскую равнины.
2. Чем отличается их изображение?
3. Определите, какая равнина холмистая, а какая плоская.

# Восточно-Европейская равнина





# Западно-Сибирская равнина



равнине течёт много рек.



# Работа в парах



1. Найдите на карте (с. 64-65 учебника) Среднесибирское плоскогорье.
2. Что вы можете сказать о поверхности плоскогорья?
3. А что означает слово «плоскогорье»?
4. Как вы думаете, это горы или равнина?

# Среднесибирское плоскогорье



на  
с



Равнины составляют большую часть территории России. Однако наша страна славится и своими величественными горами. Горы расположены в основном на юге и востоке России.

# Горы

Старые



Молодые



Не все горы сформировались в один и тот же период, некоторые много миллионов лет назад, а другие значительно позднее. **Форма горы указывает на ее возраст.**

# Уральские горы



# Кавказские горы



Это молодые и самые (высотой до 5000 м). Многие вершины постоянно покрыты снегом. Самая высокая гора - Эльбрус, двуглавой, потому что у него две вершины.

# Алтай и Саяны



Это молодые высокие горы, которые славятся красотой и богатством живой природы. **Алтай** включён в Список Всемирного наследия.



# Горы на полуострове Камчатка



С севера на ю  
проходят горы  
вулканов! Вулканы  
природно



# Вулканы Камчатки



Вулкан Ключевская сопка имеет высоту 4750 м. Он извергается каждые 6-7 лет. Извержение продолжается по несколько месяцев.

# Подведём итоги



1. Покажите на карте известные вам равнины России.

2. Какие горы нашей страны вы запомнили?

Покажите их на карте