

# НАЗВАННЯ ЧИСЕЛ ДО ДВАДЦАТИ

# Устный счёт

**2 4 6 8 10 12 14 16 18 20**

# Найдите значения сумм

$$12 + 2$$

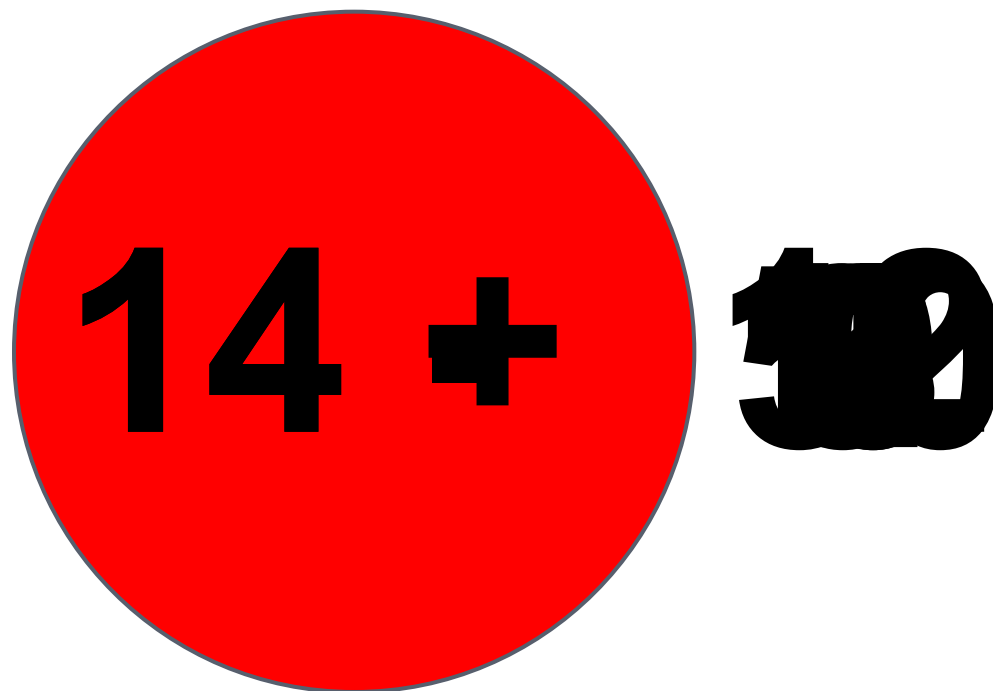
$$15 + 2$$

$$11 + 2$$

$$13 + 2$$

$$16 + 2$$

# Игра «Светофор»



# Игра «День-ночь»

$$12+7-9-8+5-3-4+6+10-5=11$$

# Подберите схему и решите

## задачу

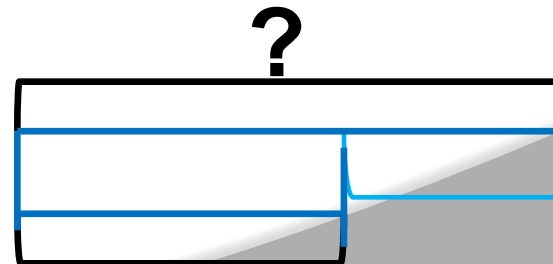
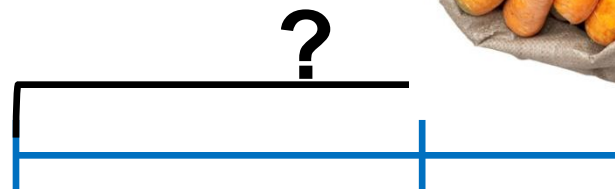
На склад привезли 17 мешков картофеля, а моркови на 7 мешков меньше. Сколько мешков моркови привезли на склад?



?



?



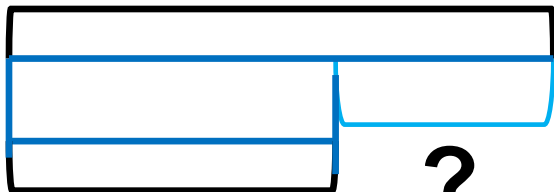
# Подберите схему и решите

## задачу

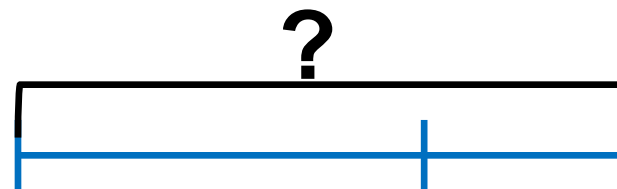
*В парке посадили 15 лип. Это на 3  
дерева меньше. Чем рябин. Сколько  
посадили рябин?*



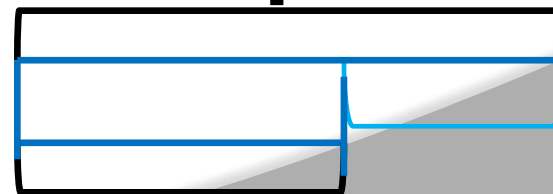
?



?



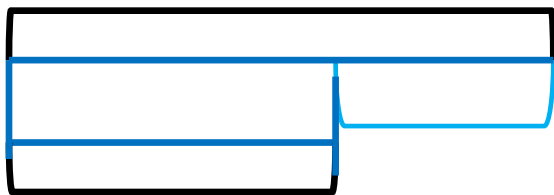
?



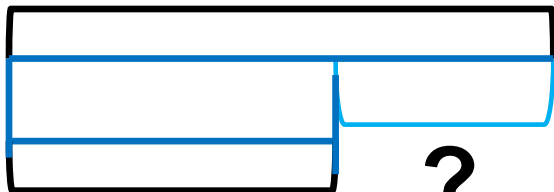
# Подберите схему и решите

## задачу

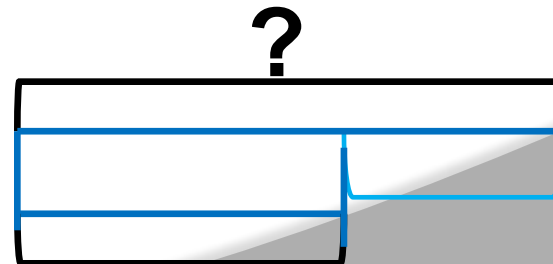
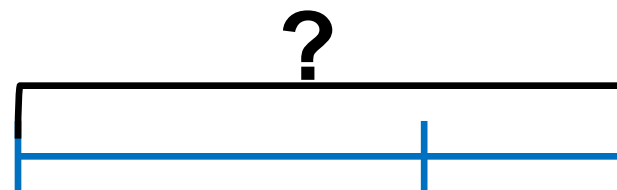
*С первого куста сняли 16 помидор  
а со второго – 12. На сколько  
помидоров меньше сняли со вто-  
рого куста, чем с первого?*



?



?

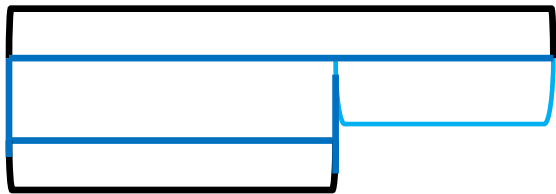





# Подберите схему и решите

## задачу

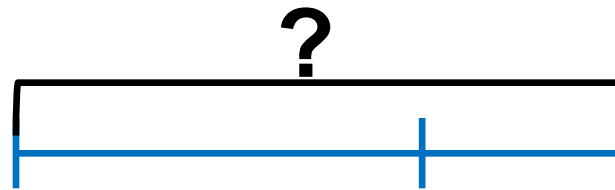
Миша поймал несколько рыбок. Когда мама взяла на уху 6 рыбок, у него осталось 10 рыбок. Сколько рыбок поймал Миша?



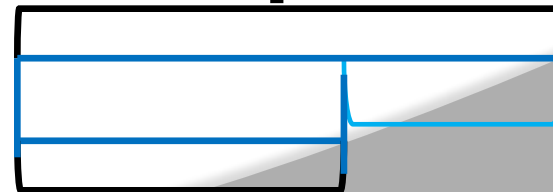
?



?



?



**Задания подготовлены по книге «Устные упражнения на уроках математики. 1 класс» (авт. Л.Г. Петерсон, И.Г. Липатникова)  
Презентация выполнена Галановой Е.В., учителем начальных классов  
ГБОУ школы №328 Санкт-Петербурга**