






Будем

считать





Какая дорожка
длиннее? Короче?





Построй ряд чисел из ответов

- К задуманному числу прибавили 1 и получили 7. Какое число задумали?

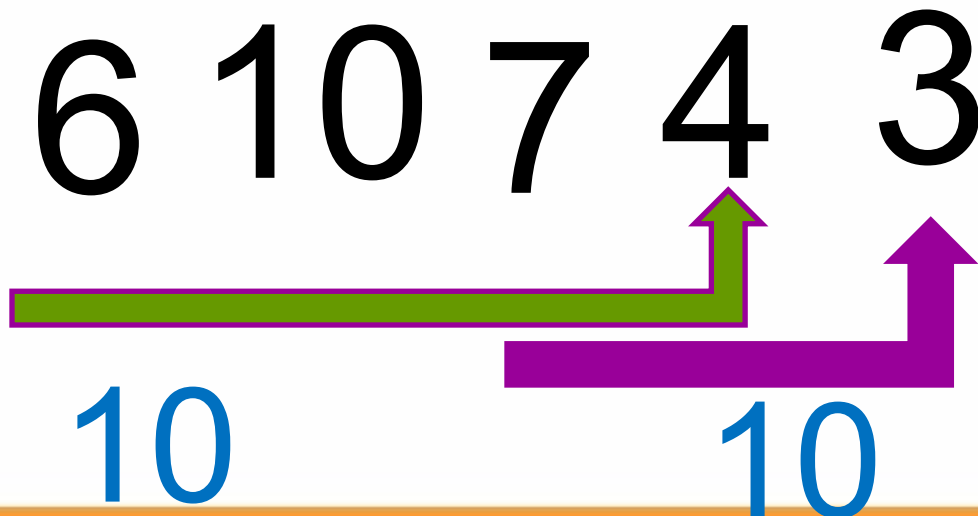


- Какое число при счёте следует за числом 9?
- Число на 1 меньше, чем 8.
- Какое число имеет соседей 3 и 5?



□ Какое число
предшествует числу
4?

ПРОВЕРЬ



30

