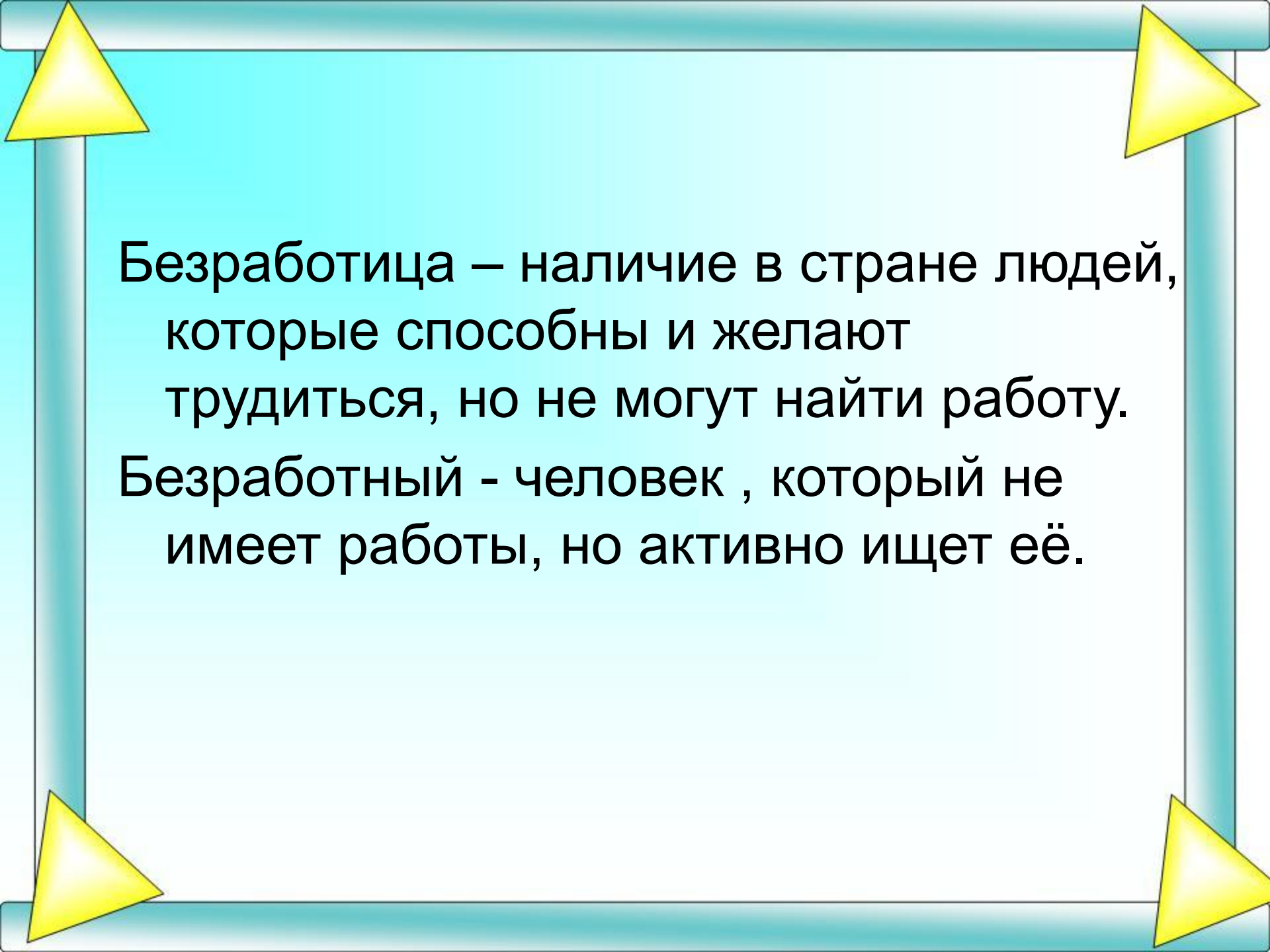




# Понятие безработицы, её виды.



Безработица – наличие в стране людей, которые способны и желают трудиться, но не могут найти работу.

Безработный - человек , который не имеет работы, но активно ищет её.

# Население страны

```
graph TD; A[Население страны] --> B[Рабочая сила (экон. актив. насел)]; A --> C[Выбывшие из состава раб. силы]; A --> D[Нетрудоспособное население]; B --> E[занятые]; B --> F[безработные]; C --> G[Пенсионеры, инвалиды, учащиеся, домохозяйки.]; D --> H[Дети, подростки.];
```

The diagram is a hierarchical flowchart titled "Население страны" (Country Population). It is set against a light blue background with a darker blue border and four yellow triangles at the corners. The root node is a yellow box containing the title. Three arrows point downwards from this box to three separate yellow boxes: "Рабочая сила (экон. актив. насел)", "Выбывшие из состава раб. силы", and "Нетрудоспособное население". From the "Рабочая сила" box, two arrows point to two orange boxes: "занятые" and "безработные". From the "Выбывшие из состава раб. силы" box, one arrow points to the text "Пенсионеры, инвалиды, учащиеся, домохозяйки.". From the "Нетрудоспособное население" box, one arrow points to the text "Дети, подростки.".

**Рабочая сила  
(экон. актив.  
насел)**

**занятые**

**безработные**

**Выбывшие из  
состава  
раб. силы**

Пенсионеры,  
инвалиды,  
учащиеся,  
домохозяйки.

**Нетрудоспособное  
население**

Дети,  
подростки.

Безработица в стране характеризуется уровнем безработицы.

$$\text{Уров.безраб} = \frac{\text{кол-во безработных}}{\text{кол-во раб.силы}} \cdot 100\%$$

$$\text{Уров.занятости} = \frac{\text{кол-во занятых}}{\text{кол-во раб.силы}} \cdot 100\%$$

Примеры.

В 1990г в США уровень безработицы = 5,5%.

В 1995г в России уровень занятости = 91,8%.

Чему равен уровень безработицы?

# Виды безработицы

- **Фрикционная** (её составляют люди, которые уволены по собственному желанию или ищут работу в первый раз) – существует во всех странах.
- **Структурная** – НТП сокращает спрос на одних работников и увеличивает спрос на работников других профессий.

# Виды безработицы

- **Циклическая** присуща странам, переживающим экономический спад.
- **Сезонная** (люди остаются без работы, так как некоторые виды деятельности осуществляются в определенное время года).

- **Полная занятость** – ситуация, когда в стране отсутствует циклическая безработица.
- **Естественная норма безработицы** – ситуация, когда в стране существует только фрикционная и структурная безработица.

## Определите статус лиц.

- 1) Работник, работавший не по специальности, уволившийся по собственному желанию и ищущий работу по специальности.
- 2) Оля Куликова, не работающая и являющаяся студенткой дневного отделения Высшей школы экономики.
- 3) Работник текстильного предприятия в городе Иваново, переведенный на режим неполного рабочего дня.

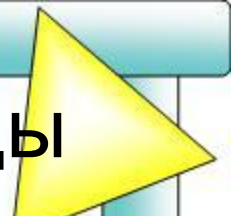
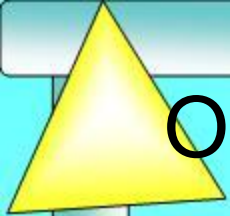


# Определите статус лиц.

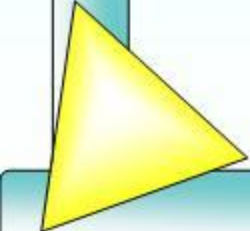
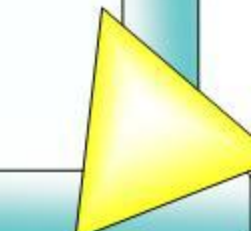
- 4) Шахтер, который по состоянию здоровья больше не может работать.
- 5) Катя Иванова – лаборантка кафедры экономич. теории ВШЭ, которая учится в этом же ВУЗе на вечернем отделении.
- 6) Женщина-домохозяйка, которая полностью посвятила себя дому и семье.
- 7) Женщина, ушедшая с работы в декретный отпуск.

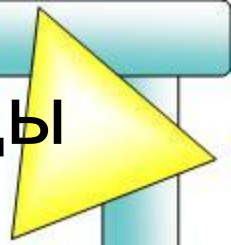
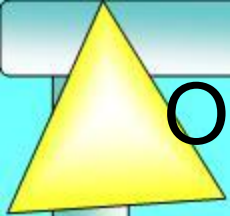
## Определите статус лиц.

- 8) Женщина, ожидающая ребенка, которая уволилась с работы.
- 9) Многодетная мать, работающая на поставки контролером в кинотеатре.
- 10) Медсестра, работавшая в Рязани, вышла замуж за москвича, переехала жить в Москву и хочет устроиться на работу.




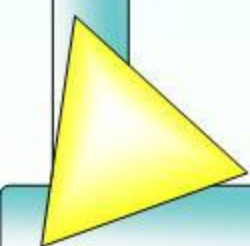
Определите к какому виду безработицы относятся следующие безработные.

- 1) Квалифицированный бухгалтер уволился, потому что у него не сложились отношения с директором фирмы, и сейчас он находится в поисках рабочего места.
  - 2) В последнее время внедрение персональных компьютеров в России сократило спрос на машинисток, а также понизился спрос на рабочую силу, занятую на предприятиях по производству пишущих машинок.
- 
- 



Определите к какому виду безработицы относятся следующие безработные.

3) Много лет тому назад высококвалифицированные стеклодувы остались без работы из-за приобретения специальных станков для изготовления бутылок.



- На рынке труда рыночный спрос на труд описывается уравнением  $D_L = 100 - 2W$ , а рыночное предложение труда описывается уравнением  $S_L = 40 + 4W$ , где  $W$  – дневная ставка заработной платы (в долл.).
- Какая ставка заработной платы установится на этом рынке? Какое количество работников будет нанято на работу?
- Государство устанавливает минимальную ставку заработной платы на уровне 15 долл. в день. Найти предложение труда (кол-во чел) и спрос на труд (кол-во чел). Определить кол-во безработных человек.
- Представьте графическое решение данной задачи.

# Домашняя работа.

- **Подготовиться к контрольной работе**
- Реальный и номинальный доход;
- Что продают на рынке труда;
- Задачи профсоюзов;
- Кто является безработным;
- Виды безработицы;
- Полная занятость и естественная норма безработицы;
- Разобрать задачу.