




*Математику  
уже затем  
учить надо,  
что она ум  
в порядок  
приводит*

**М.В.Ломоносов**

# ТЕМА УРОКА:

*Закрепление пройденного  
по теме «ЧИСЛА ОТ 1 ДО 100»*




# *ЦЕЛИ:*

- закрепить знания таблицы умножения;
- закрепить умения решать задачи и уравнения;
- закрепить приёмы сложения и вычитания в пределах 100





***В гости к  
смешарикам***



2·3

6

8:2

4

4·3

12

12:2

6

3·6

18

15:5

3


5·5

25


20:4

5







1



2





3



4


# Найди лишнюю фигуру





20м

40м



Дом Ньюши

25м

25м

Дом Бараша



15



20

28

**Задачи в стихах**

# Реши задачу (стр.34)

цена	количество	стоимость
одинаковая	5 шт.	35 р.
	6 шт.	? р.

## Решение:

1)  $35:5=7$  (р.)

2)  $6 \cdot 7=42$  (р.)

**Ответ:** 42 рубля заплатили за белые нитки



# ФИЗМИНУТКА





**Выполни  
тест**





# Реши уравнения

$$x+23=58$$

$$x=58-23$$

$$x=35$$

---

$$35+23=58$$

$$58=58$$



$$x \cdot 4 = 12$$

$$x = 12 : 4$$

$$x = 3$$

---

$$3 \cdot 4 = 12$$

$$12 = 12$$

$$16 : x = 4$$

$$x = 16 : 4$$

$$x = 4$$

---

$$16 : 4 = 4$$

$$4 = 4$$





# Домашнее задание

стр. 34

зад.3



Спасибо за урок! МОЛОДЦЫ!!!





Сравни, если возможно

$$2\text{м} > 16\text{дм}$$

$$52\text{л} > 25\text{л}$$

$$30\text{см} = 3\text{дм}$$

$$1\text{дм}4\text{см} < 41\text{см}$$

$$30\text{кг} > 3\text{кг}$$

~~$$5\text{кг} > 5\text{ч}$$~~



$$1\text{м} > 1\text{см}$$

$$1\text{ч} < 10\text{ч}$$



