



ЧЕРНОЕ МОРЕ

МРАМОРНОЕ МОРЕ

Б а л к а н с к и й

МАКЕДОНИЯ

Пелла

г. Олимп

СЕВЕРНАЯ ГРЕЦИЯ

Фермопильский проход

СРЕДНЯЯ ГРЕЦИЯ

Дельфы

о. Итака

Херонес

Коринф

Микены

Олимпия

ЮЖНАЯ ГРЕЦИЯ

Мессения

Спарта

ЛАКОНИЯ

Спиритон

о. Лемнос

Троя

П - О В

Малая Азия

о. Эвбея

о. Лесбос

о. Хиос

БЕОТИЯ

Фивы

Марафон

АТТИКА

Афины

о. Саламин

о. Эгина

о. Самос

Меандер

Милет

о. Делос

Родос

о. Фера

о. Родос

Кносс

о. Крит

● Города греков
 — Границы и названия главных областей Греции
 АТТИКА

Тема урока

«Вся Греция стоит на двух ногах, одной ногой является Афинское, а другой – Спартанское государство»

Тема урока

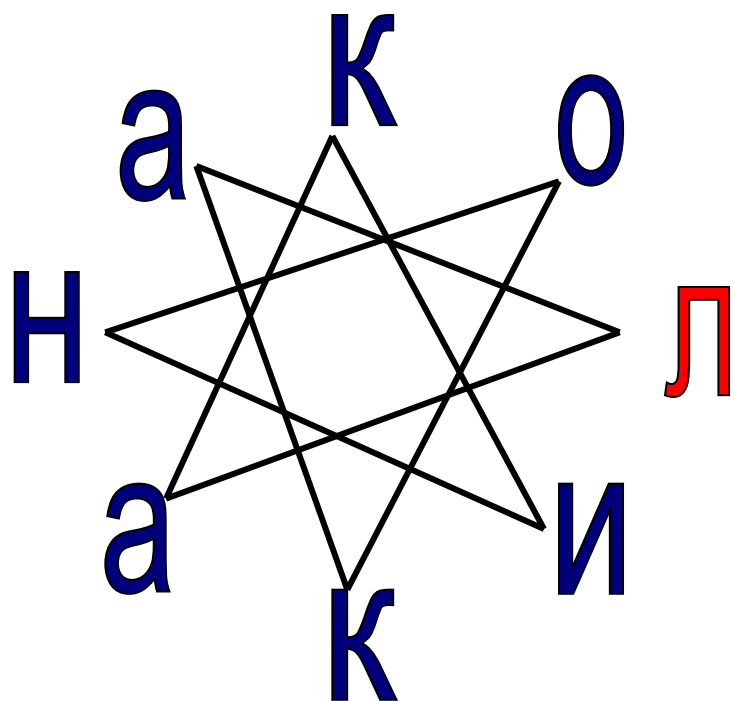
ДРЕВНЯЯ

СПАРТА

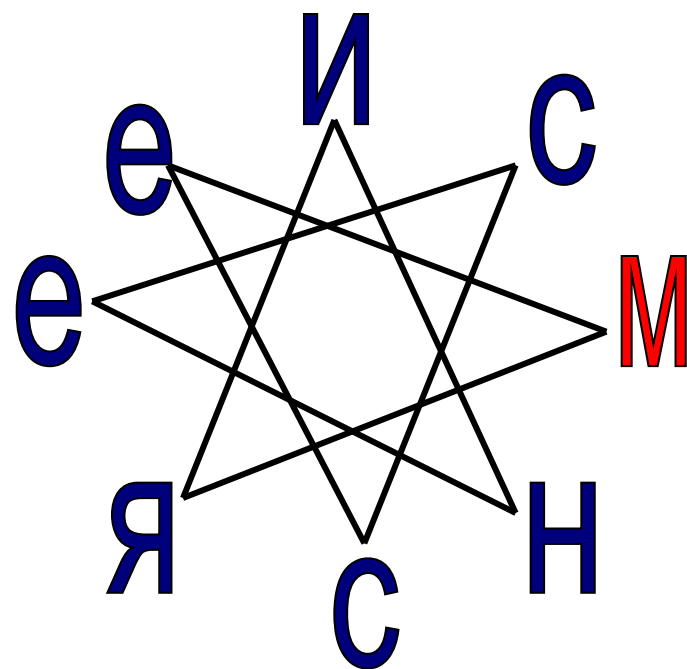
Сравнительная таблица

Линии сравнения	Афины	Спарта
Местоположение и природные условия	В Средней Греции(область Аттика) Мало плодородной земли Благоприятные условия для мореплавания	
Население	Свободные (демос, аристократия) Рабы	
Занятия	Основное занятие: ремесло и торговля	
Органы управления	Архонты Ареопаг Народное собрание	

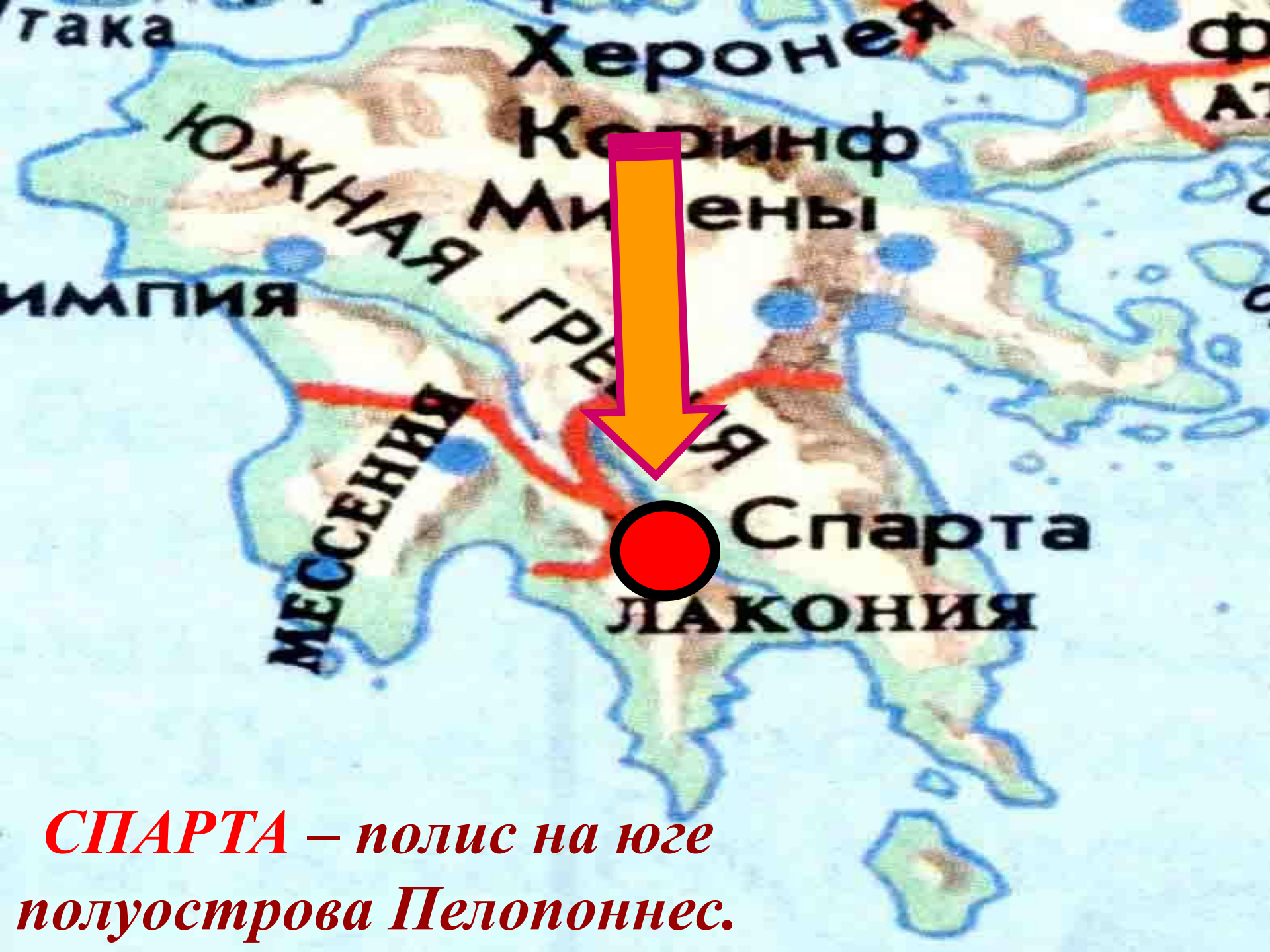
Расшифруй кругограммы:



Лаконика



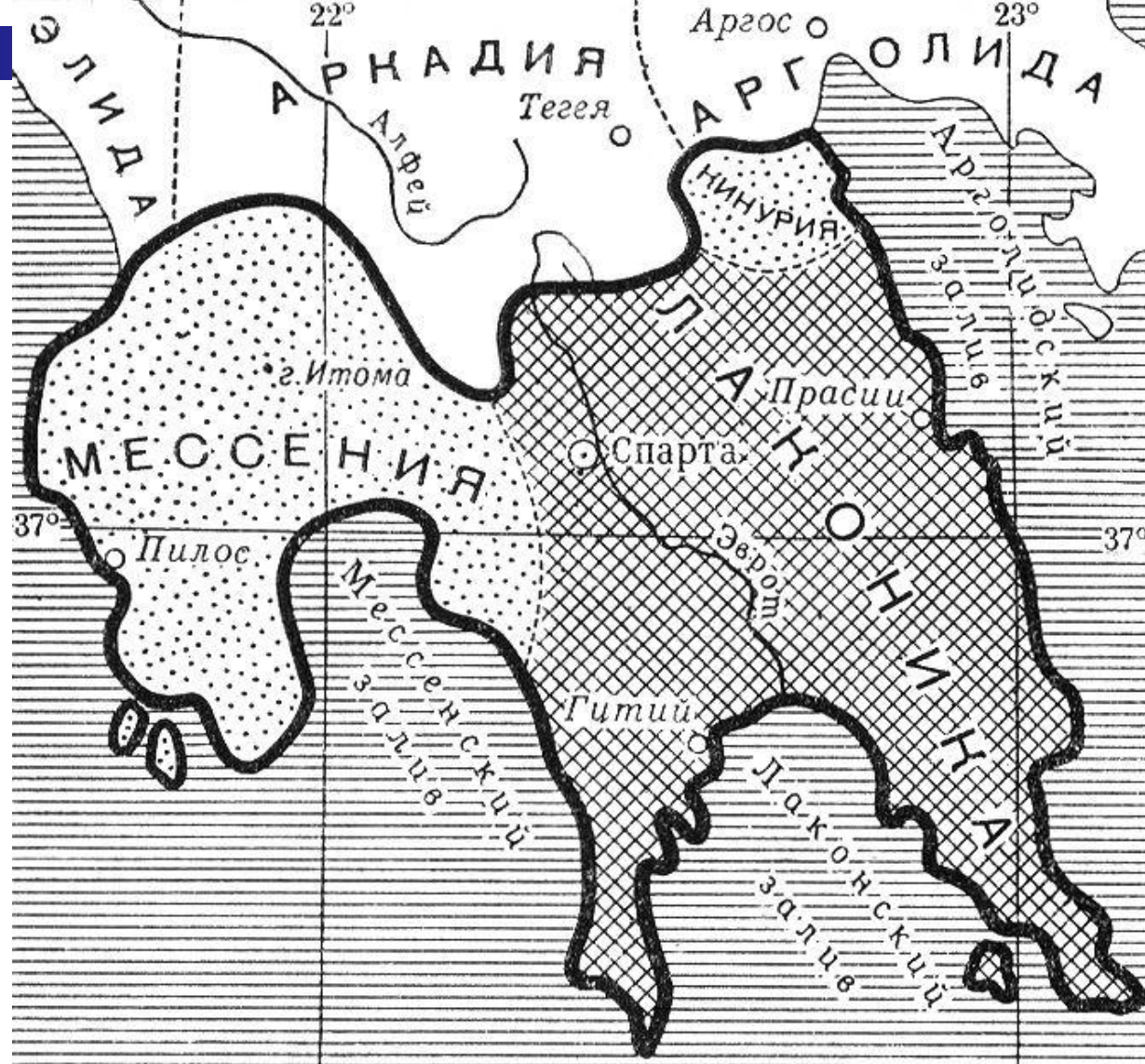
Мессения



***СПАРТА** – полис на юге
полуострова Пелопоннес.*

Спарта была вторым по важности городом-государством Греции после Афин





Постепенно спартанцы покорили всю Лаконию. А 7-ом веке до н.э. завоевали соседнюю область — плодородную *Мессению*.

Жители Древней Спарты

СПАРТАНЦЫ

ПЕРИЭКИ

ИЛОТЫ

Основные понятия и термины

ПЕРИЭКИ

(по-гречески
«живущие вокруг»)-
неполноправная
часть населения
в Спарте.



ИЛОТЫ

ПЕРИЭКИ

Лично несвободные
(рабы)

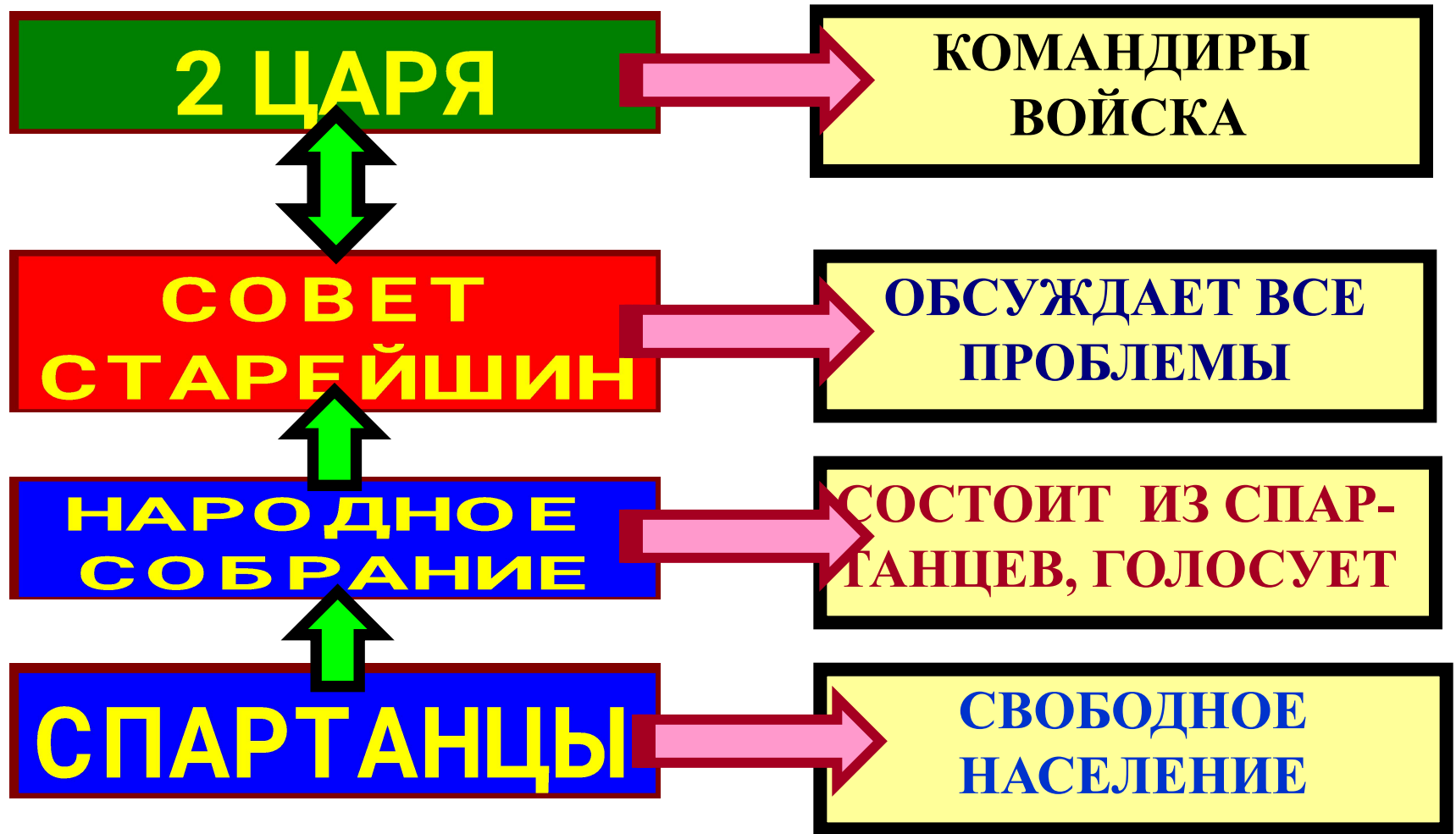
Лично свободные

НЕ могли иметь землю

Могли иметь землю


Нет политических прав

Органы управления



В 6-ом веке до н.э. Спарта стала одним из самых могущественных полисов Греции

Спарта – военный лагерь



ВСЕ СПАРТАНЦЫ-МУЖЧИНЫ БЫЛИ
ВОИНАМИ

ТОРГОВЛЯ
РЕМЕСЛО
СЕЛЬСКОЕ
УЗЯЙСТВО



Общественные обеды





Спартанка отдает своего сына государству

НОВОРОЖДЕННЫЙ

Если крепкий и здоровый,
то опускали в холодный
ручей и отдавали отцу



Если хилый и нездоровый,
то относили в горы и
бросали в пропасть


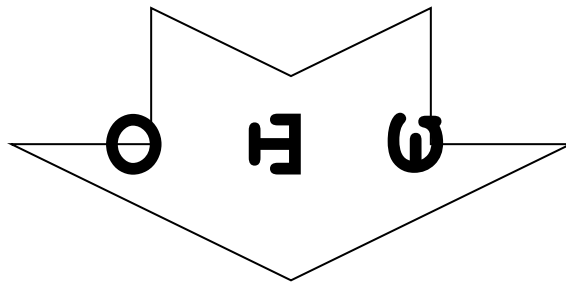


Рассмотрите иллюстрацию.
Какие виды спортивных занятий
здесь изображены?

Какие качества характера они развивают?



Спартанское воспитание



- ✓ *строгое послушание;*
- ✓ *военные навыки;*
- ✓ *умение пользоваться оружием;*
- ✓ *пренебрежение удобствами;*
- ✓ *простота в общении и немногословность*
(такая речь называется лакони́чной)

АРМИЯ СПАРТАНЦЕВ



**Назовите элементы вооружения
спартанского воина?**

Вооружение спартанского Вооружение спартанского воина состояло из:



Металлического
шлема

Кожаных доспехов


Ножных лат

Копья

Металлического щита

Меча

АРМИЯ СПАРТАНЦЕВ:



Спартанцы впервые в мире ввели порядок в действия воинов- они придумали **ФАЛАНГУ**
Фаланга состояла

из 8 рядов
по тысяче воинов в
каждом.
3 первых ряда
выставляли вперед копья

Фаланга врубалась
в противника и
уничтожала его.

Сравнительная таблица

Линии сравнения	Афины	Спарта
Местоположение и природные условия	<p>В Средней Греции(область Аттика)</p> <p>Мало плодородной земли</p> <p>Благоприятные условия для мореплавания</p>	<p>В Южной Греции(область Лакония и Мессения)</p> <p>Много плодородной земли.</p> <p>Менее благоприятные для мореплавания</p>
Население	<p>Свободные (демос, аристократия)</p> <p>Рабы</p>	<p>Спартанцы Периэки Государственные рабы(илоты)</p>
Занятия	<p>Основные занятия: ремесло и торговля</p>	<p>Основные занятия: земледелие (илоты)</p> <p>война (спартанцы)</p>
Органы управления	<p>Архонты</p> <p>Ареопаг</p> <p>Народное собрание</p>	<p>2 царя Совет старейшин(апелла) Народное собрание (герусия)</p>

Краткие выводы

- 1. Спарта – полис на юге полуострова Пелопоннес.*
- 2. Население Спарты составляли спартанцы, периэки и илоты.*
- 3. За соблюдением всех правил следил Совет старейшин.*
- 4. Все спартанцы были воинами, поскольку Спарта часто вела войны с соседями. Кроме того, спартанцы должны были постоянно удерживать в своей власти покоренных илотов.*
- 5. Спартанское воспитание было одним из самых жестоких в Греции и было полностью подчиненно интересам государства.*

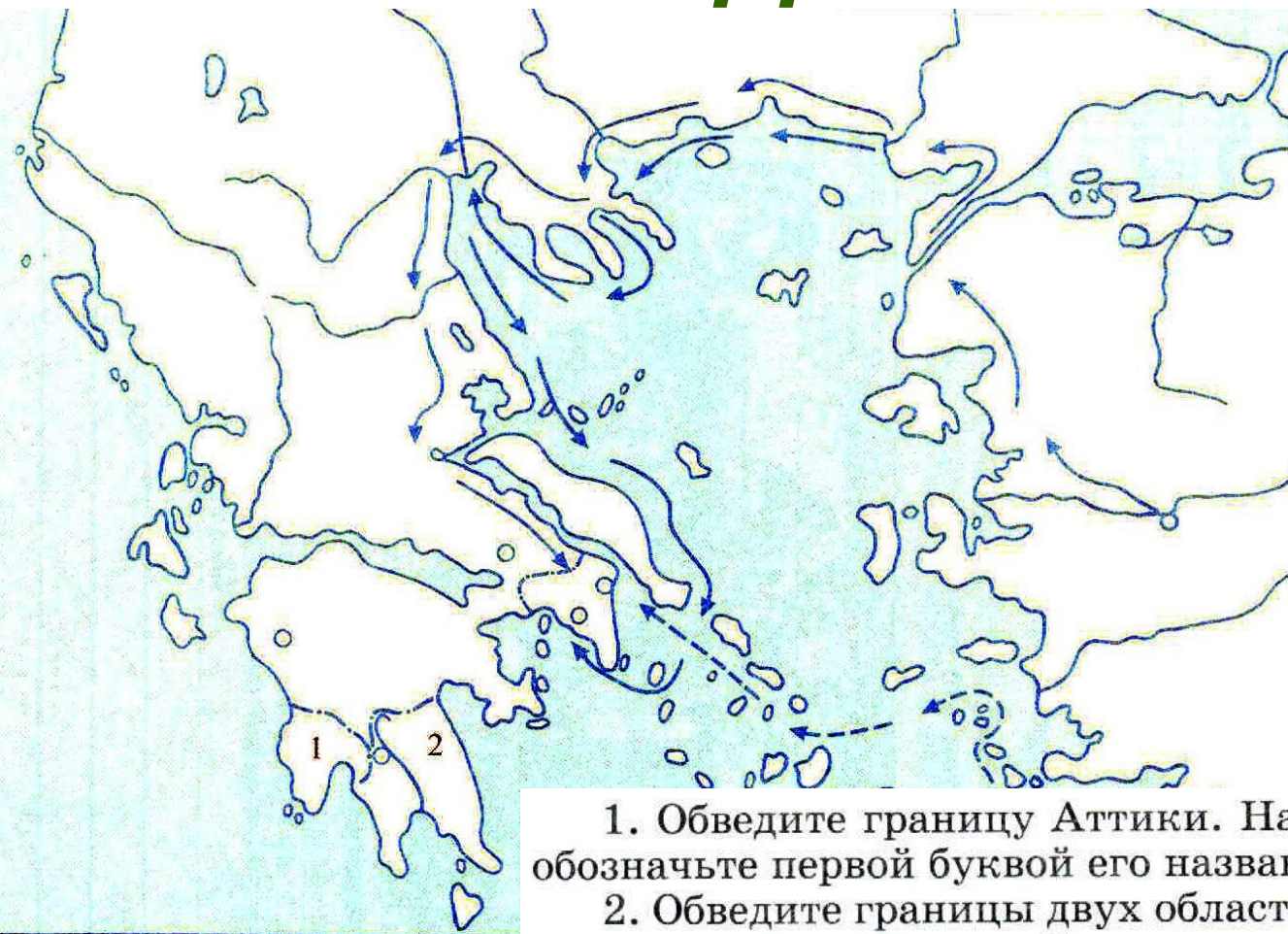
Домашнее задание

§ 31 в учебнике

*Ответить на вопросы после параграфа
(устно)*

Заполнить контурную карту

Домашнее задание



1. Обведите границу Аттики. Найдите ее главный город и обозначьте первой буквой его название.

2. Обведите границы двух областей в Южной Греции, находившихся под властью Спартанского государства. Напишите названия этих областей:

1 _____ .

2 _____ .

3. Обозначьте первой буквой название главного города Спартанского государства.