

# Окружающий мир

## Наша планета ЗЕМЛЯ

Образовательная система «Школа – 2100»

2 класс

*Горячева Е.А.*

*учитель начальных классов*

*МОУ СОШ №14 г. Новочеркасск*

*Ростовская область*



# Разделите слова на группы:

Масштаб, карта, глобус, север, река,  
гора, меридианы, запад, параллели,  
экватор, юг, шар, прямоугольник,  
искажение, лес, восток, модель,  
озеро.

Подсказки:

- 1. Возможные группы: «Стороны света», «Условные линии», «Участки земли».*
- 2. Где можно найти все эти группы?*

**ГЛОБУС**



**ШАР**



**МОДЕЛ**

**Ь**



**КАРТА**



**ПРЯМОУГОЛЬН**




**ИСК**  
**ИСКАЖЕНИЕ**

# *В мастерской художника*




***Посмотрите на эти рисунки.  
Чем они отличаются?***



**Что необычного вы заметили,  
глядя на эти квадраты?**

---









# Посмотри ~~Греда~~ ~~карту~~ ~~те~~, ~~полушарий~~. **ЧТО** и **КАКИМ ЦВЕТОМ** обозначают на карте.

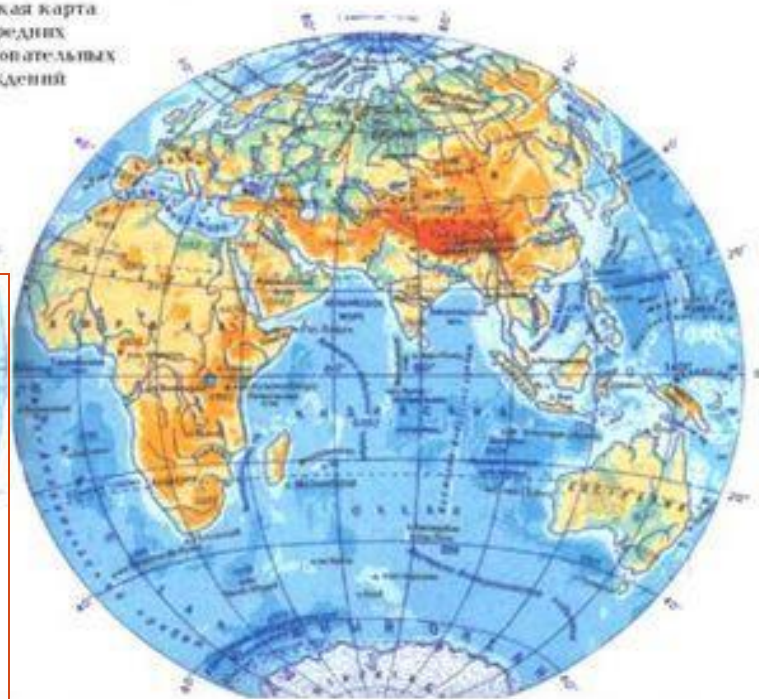
ЗАПАДНОЕ ПОЛУШАРИЕ

ВОСТОЧНОЕ ПОЛУШАРИЕ

Физическая карта  
для средних  
общеобразовательных  
учреждений

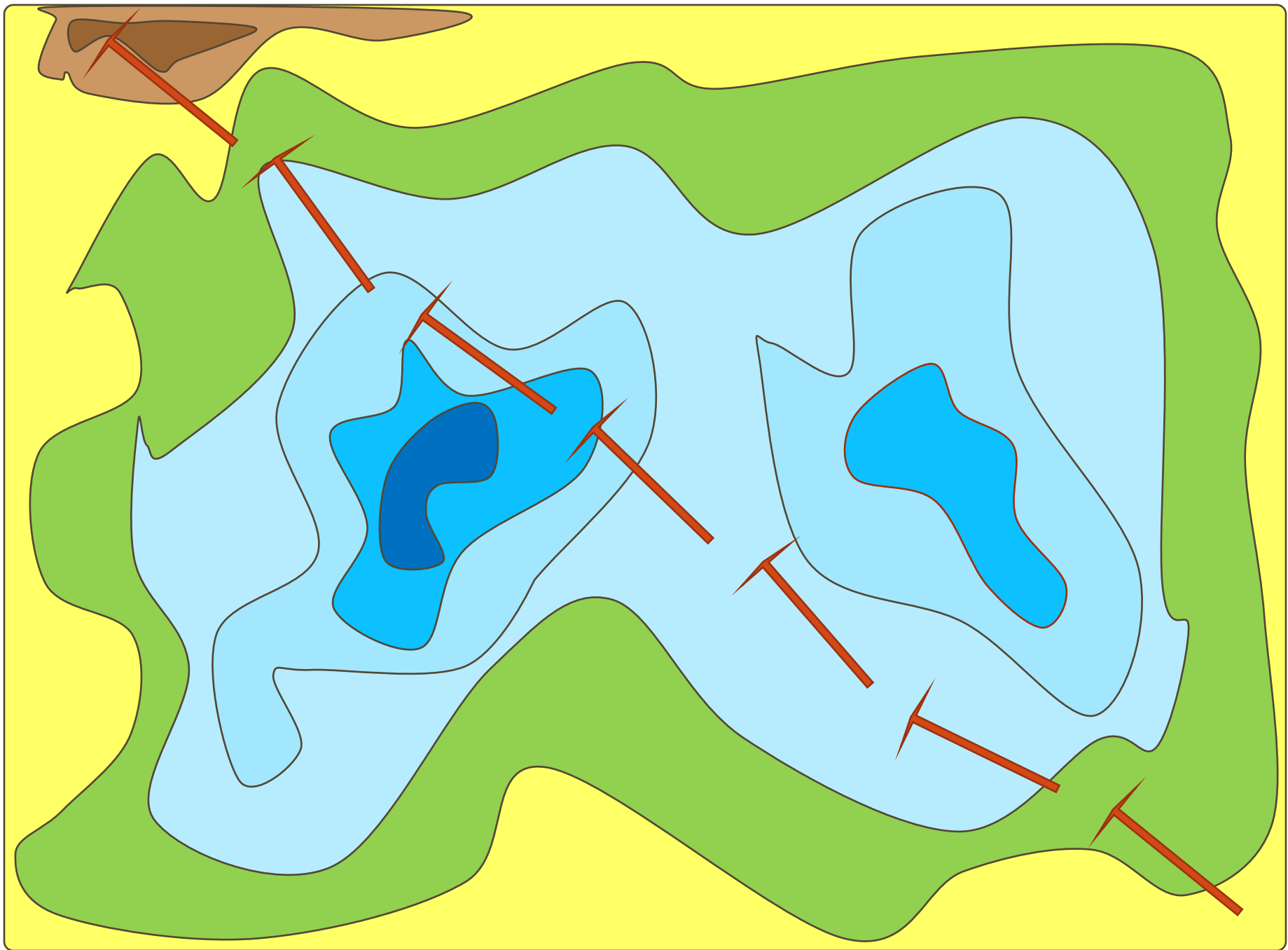
**ЗАПОМНИТЕ!**

- |   |   |           |
|---|---|-----------|
|  |  | – водоёмы |
|  |  | – равнины |
|  |  | – горы    |











*Маленькое озеро*

*Лес*



*Скалистый берег моря*

**Нарисуйте карту этих географических объектов**  
*Панорама долины реки Тисы*

**Пе  
ст  
л**




**ой  
е  
»**

*И снова в мастерской  
художника*



*Наша такая маленькая и такая большая  
ПЛАНЕТА ЗЕМЛЯ*

## Снимок из космоса




## Карта и фотография



*Реки маленькой страны Гвинея-Биссау причудливо намывают ил на мелководье Атлантического океана*

## ***Снимок из космоса***



## **Карта и фотография**



***Морские льды Арктики в Баренцевом море между островами Колгуевым и Новой землей***

## Снимок из космоса




## Карта и фотография









**Великая река Лена впадает в  
Северный Ледовитый океан**

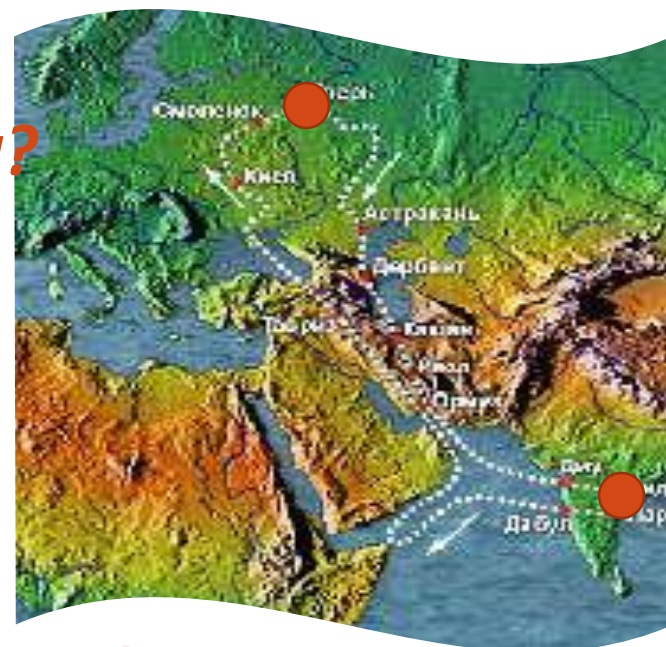
**Более 500 лет назад, когда Америка еще не была открыта Колумбом, русский купец Афанасий Никитин из города Твери отправился в Индию. На ваших столах – фрагменты карты, где отмечен путь Афанасия Никитина.**



**По каким местам он проходил?**

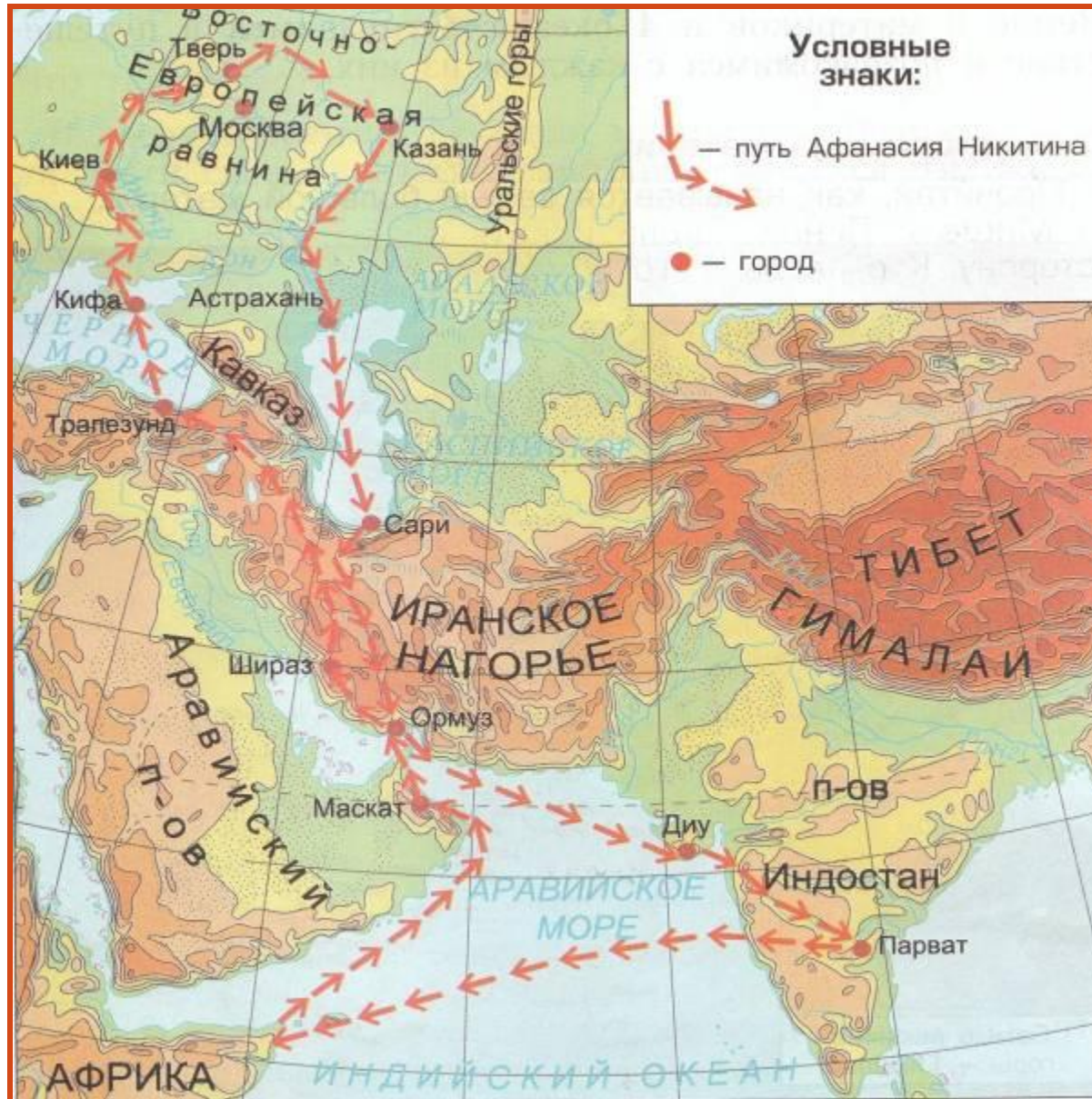
**Подсказка:**

- |   |   |           |
|---|---|-----------|
|   |   | – водоёмы |
|  |  | – равнины |
|  |  | – горы    |



**Как по-вашему, на чем он передвигался?**

# Творческое домашнее задание





**Адреса**

**фотографий:**

<http://www.dumka.ru/product425.html>

<http://nub1an.livejournal.com/>

<http://www.scanex.ru/ru/gallery/index07.html>

<http://www.hobitus.com/>

<http://ru.wikipedia.org/wiki/>

<http://uchkol.rbs.ru/>

<http://images.yandex.ru/>

http://taina.aib.ru/biography/afanasij-nikitin.

[htm](#)

<http://www.deti.religiousbook.org.ua/>