

ЛЕГО ТЕСТ

1 КЛАСС
ГРУППА «ЛЕГОКОНСТРУИРОВАНИЕ»



1. ЧТО ТАКОЕ «LEGO»? ВЫБЕРИТЕ ПРАВИЛЬНЫЙ ОТВЕТ


- А) ИГРУШКА
- Б) КОНСТРУКТОР
- В) ФИРМА ОДЕЖДЫ
- Г) МУЛЬТФИЛЬМ



ТЕСТ ПО «ЛЕГО»

1. Что такое «LEGO»? Выберите правильный ответ

- А) Игрушка**
- Б) Конструктор**
- В) Фирма одежды**
- Г) Мультфильм**



2.ВЫБЕРИТЕ КАРТИНКУ, НА КОТОРОЙ ПОКАЗАН КОНСТРУКТОР «LEGO»

А
В
Б
Г

2.Выберите картинку, на которой показан конструктор «LEGO»

А



Б



В



Г



3.КАК НАЗЫВАЕТСЯ ДЕТАЛЬ, ИЗОБРАЖЕННАЯ НА КАРТИНКЕ? ВЫБЕРИТЕ ПРАВИЛЬНЫЕ ОТВЕТЫ.

А) ПРЯМОУГОЛЬНИК

Б) КОЛЕСО

В) КУБИК

Г) КВАДРАТ

Д) КИРПИЧИК

3.Как называется деталь, изображенная на картинке? Выберите правильные ответы.

а) Прямоугольник

б) Колесо

в) Кубик

г) Квадрат

д) Кирпичик



4.КАК НАЗЫВАЕТСЯ ДЕТАЛЬ, ИЗОБРАЖЕННАЯ НА КАРТИНКЕ? ВЫБЕРИТЕ ПРАВИЛЬНЫЙ ОТВЕТ.

А) ПРЯМОУГОЛЬНИК

Б) КОЛЕСО

В) КУБИК

Г) ПЛАСТИНА

Д) КИРПИЧИК

4.Как называется деталь, изображенная на картинке? Выберите правильный ответ.

а) Прямоугольник

б) К

в) К

г) Пла

д) Кирп



5.КАК НАЗЫВАЕТСЯ ЧАСТЬ ДЕТАЛИ, ИЗОБРАЖЕННАЯ НА КАРТИНКЕ? ВЫБЕРИТЕ ПРАВИЛЬНЫЙ ОТВЕТ.

- А)ШИП
- Б) ТРУБКА
- В)КРУГ
- Г) ЗУБЧИК

5.Как называется часть детали, изображенная на картинке? Выберите правильный ответ.

а)Шип
б) Тру
в)Кру
г) Зуб



The image shows a yellow LEGO minifigure on the left, holding two yellow cylindrical pieces. To the right is a close-up of a purple LEGO Technic brick with four studs on top. Below the brick is a yellow LEGO minifigure head. The background is red with colorful polka dots.


6. КАК НАЗЫВАЕТСЯ ЧАСТЬ ДЕТАЛИ, ИЗОБРАЖЕННАЯ НА КАРТИНКЕ? ВЫБЕРИТЕ ПРАВИЛЬНЫЙ ОТВЕТ.

- А) ШИП
- Б) ТРУБКА
- В) КРУГ
- Г) ЗУБЧИК

6. Как называется часть детали, изображенная на картинке? Выберите правильный ответ.



а)



7. С ПОМОЩЬЮ ЧЕГО СОЕДИНЯЮТСЯ ДЕТАЛИ КОНСТРУКТОРА МЕЖДУ СОБОЙ? ВЫБЕРИТЕ ПРАВИЛЬНЫЙ ОТВЕТ.

- А) САМОРЕЗЫ
- Б) БОЛТИКИ И ГАЙКИ
- В) КЛЕЙ
- Г) ШИПЫ И ТРУБКИ

7. С помощью чего соединяются детали конструктора между собой? Выберите правильный ответ.



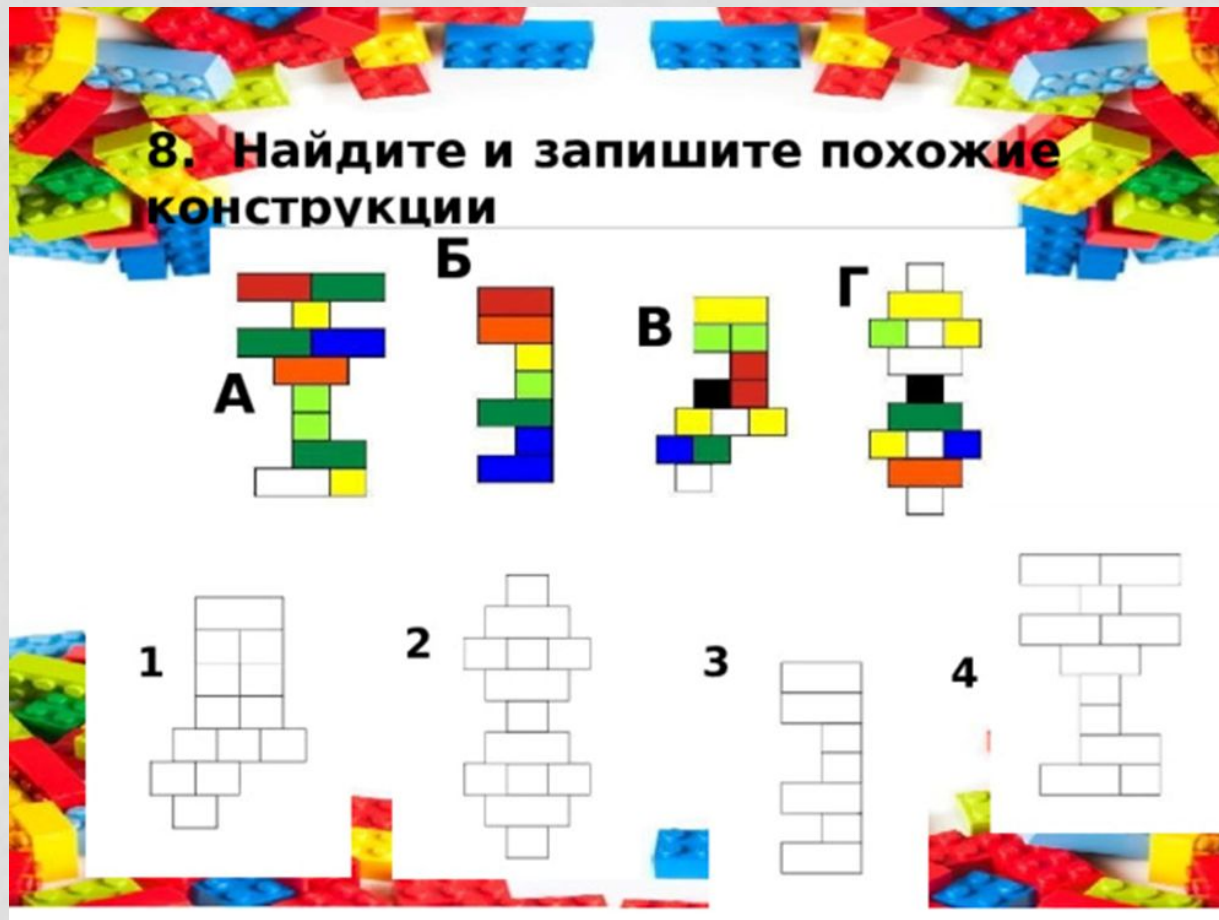
- А) Саморезы
- Б) Болты
- В) Клей
- Г) Шипы



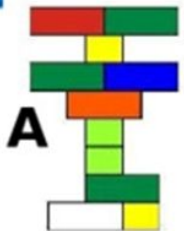
8. НАЙДИТЕ И ЗАПИШИТЕ ПОХОЖИЕ КОНСТРУКЦИИ

Б
Г
В
А
2
1
3
4


8. Найдите и запишите похожие конструкции



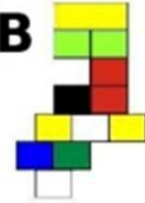
А




Б



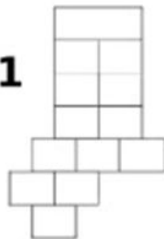
В



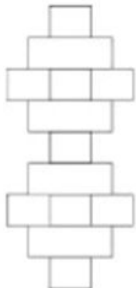
Г



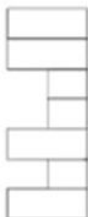
1



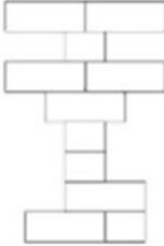
2



3




4



9. СКОЛЬКО ДЕТАЛЕЙ ПОНАДОБИЛОСЬ ДЛЯ ЭТОЙ МОДЕЛИ? ВЫБЕРИТЕ ПРАВИЛЬНЫЙ ОТВЕТ.

- А) 15
- Б) 14
- В) 13
- Г) 12



9. Сколько деталей понадобилось для этой модели? Выберите правильный

- А) 15**
- Б) 14**
- В) 13**
- Г) 12**



- А) «МОЙ ДОМ»
- Б) «БАШНИ»
- В) «КРЕПОСТЬ»
- Г) «ЗАМОК»

10. Модель из какой темы занятия изображена на картинке?

- А) «Мой дом»**
- Б) «Башни»**
- В) «Крепость»**
- Г) «Замок»**

