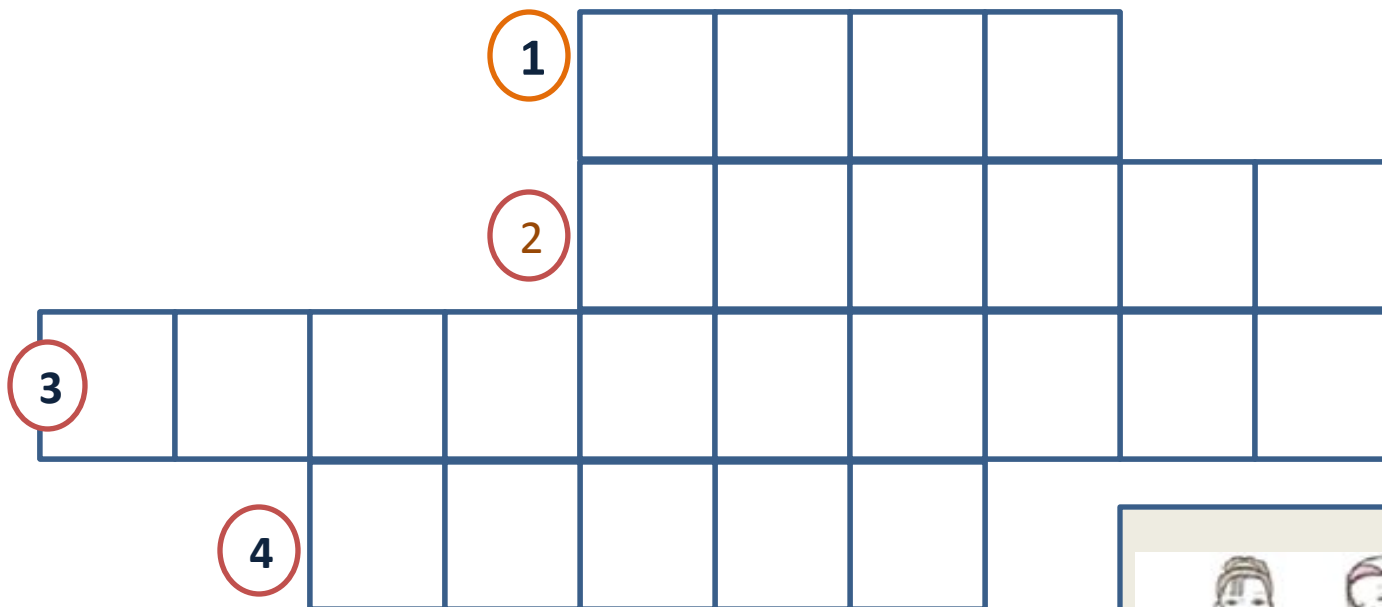


Определи вид отделки изделия



Слова подсказки:
волан, аппликация, оборка,
рюша



С какого этапа начинается
изготовление швейного
изделия?

Первый этап в изготовлении
швейного изделия – снятие
мерок.



Для чего необходимо снимать мерки?

- Чтобы изделие соответствовало размеру человека.
- Чтобы юбка хорошо сидела на фигуре.



На что повлияет правильное
снятия мерок?

На качество готового изделия

Как необходимо выполнять
работу?

Необходимо снимать мерки
правильно, точно.



Тема урока:

Снятие мерок и
построение чертежа
ОСНОВЫ ПРЯМОЙ ЮБКИ



Цель урока:

- Освоить основные приёмы снятия мерок
- Снять мерки
- Построить чертеж прямой юбки



Юбка

«Женская одежда от талии
книзу, а также
соответствующая часть
платья»

Сергей Иванович Ожегов

Найдите юбку



А



Б



В



Г



Д

Виды одежды по способу

НОСКИ





Задание

1. Одежда, которая держится на талии (поясе), называют

поясной.

К ней относятся: юбки, брюки, шорты, фартук.

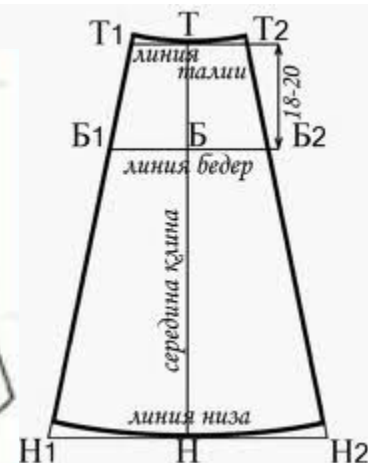
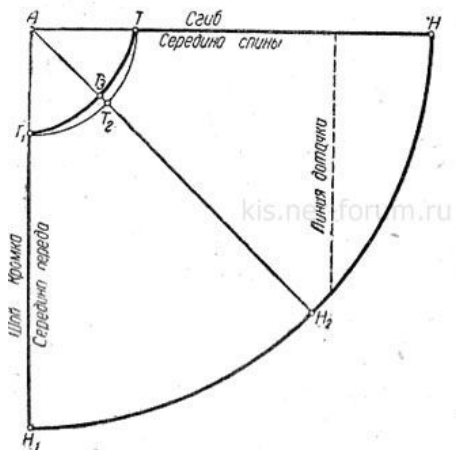
2. Одежда, которая держится на плечах, называют

плечевой.

К ней относятся:

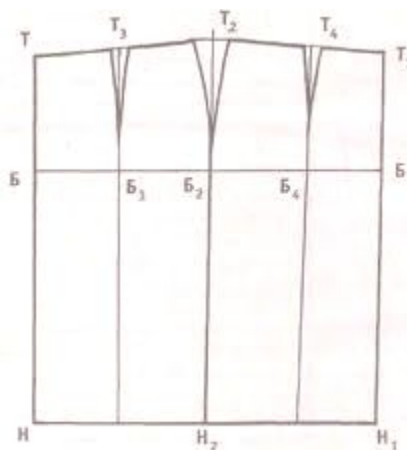
платья, блузки, сарафаны, жилеты, пальто, плащи, куртки.

Покрой юбки



Клешевая юбка

Клиньевая юбка



Прямая юбка

Клешевая юбка




- Самая простая по раскрою юбка
- Не имеет вытачек
- Состоит из одной или двух деталей

Клешевая юбка



Клиньевая юбка




- Состоит из нескольких одинаковых клиньев, расширяющихся книзу
- Число клиньев лучше делать четным

Клиньевая юбка



Прямая юбка



- Состоит из двух деталей: переднего и заднего полотнищ
- Заднее полотнище может быть цельнокроеное или со швом по середине

Прямая юбка





А

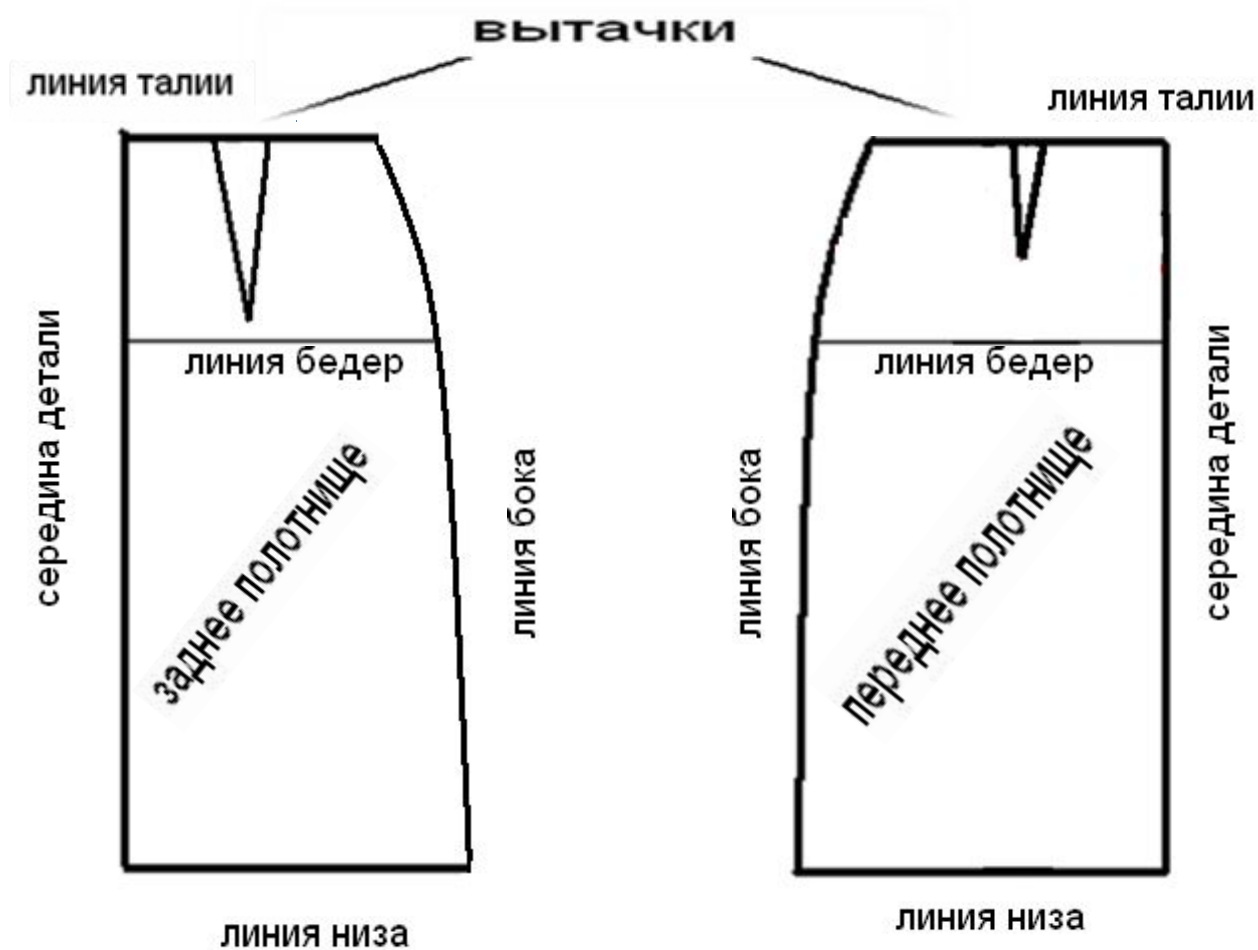


Б



В

Название деталей, контурных линий юбки



Мерки для построения чертежа юбки

- Полуобхват талии $С_t$
- Полуобхват бёдер $С_б$
- Длина изделия $Д_и$
- Длина спины до талии $Д_{тс}$

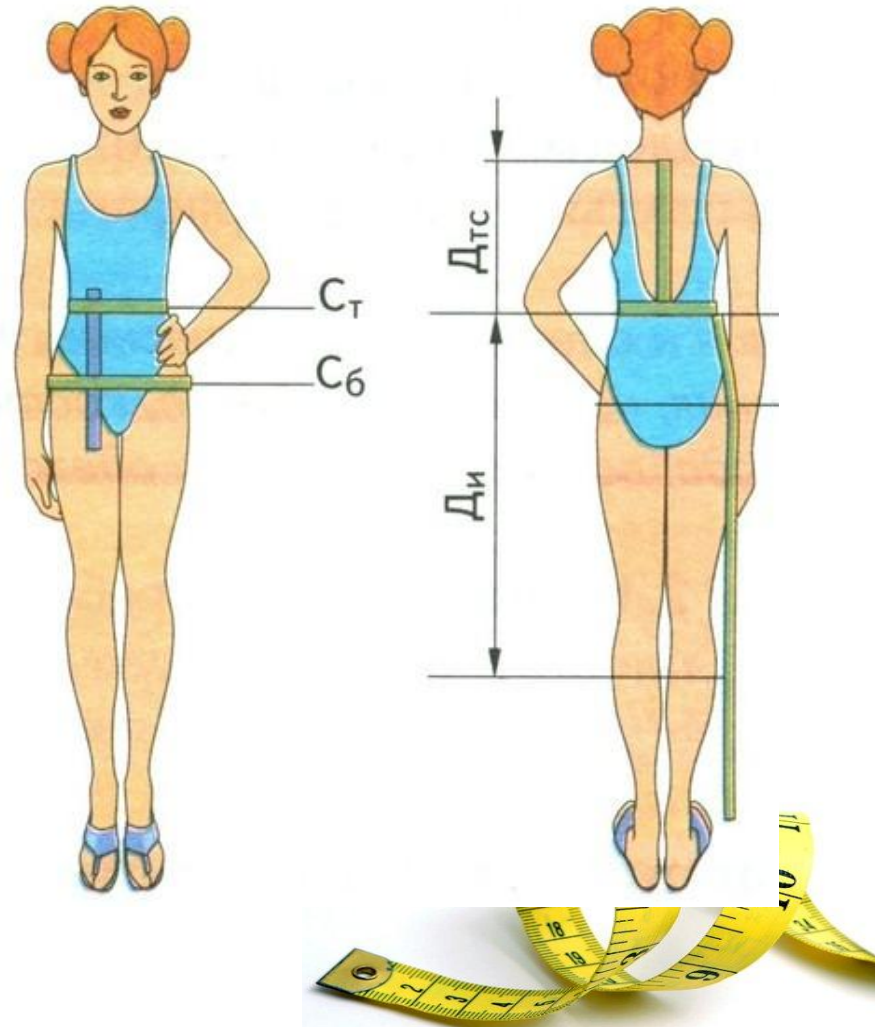


Таблица мерок

Название мерки	Буквенное обозначение	Правило снятия мерки	Назначение мерки
Полуобхват талии	Ст	Горизонтально вокруг туловища по линии талии	Определение длины пояса
Полуобхват бедер	Сб	Горизонтально вокруг туловища сзади по наиболее выступающим точкам ягодиц	Определение ширины юбки
Длина спины до талии	Дтс	От седьмого шейного позвонка до талии	Определение положения линии бедер
Длина юбки	Ди	От линии талии до желаемой длины изделия	Определение длины юбки

ВЫБЕРИТЕ МЕРКИ ДЛЯ ПОСТРОЕНИЯ ЧЕРТЕЖА ОСНОВЫ ПРЯМОЙ ЮБКИ



Сш

Сг

Ди

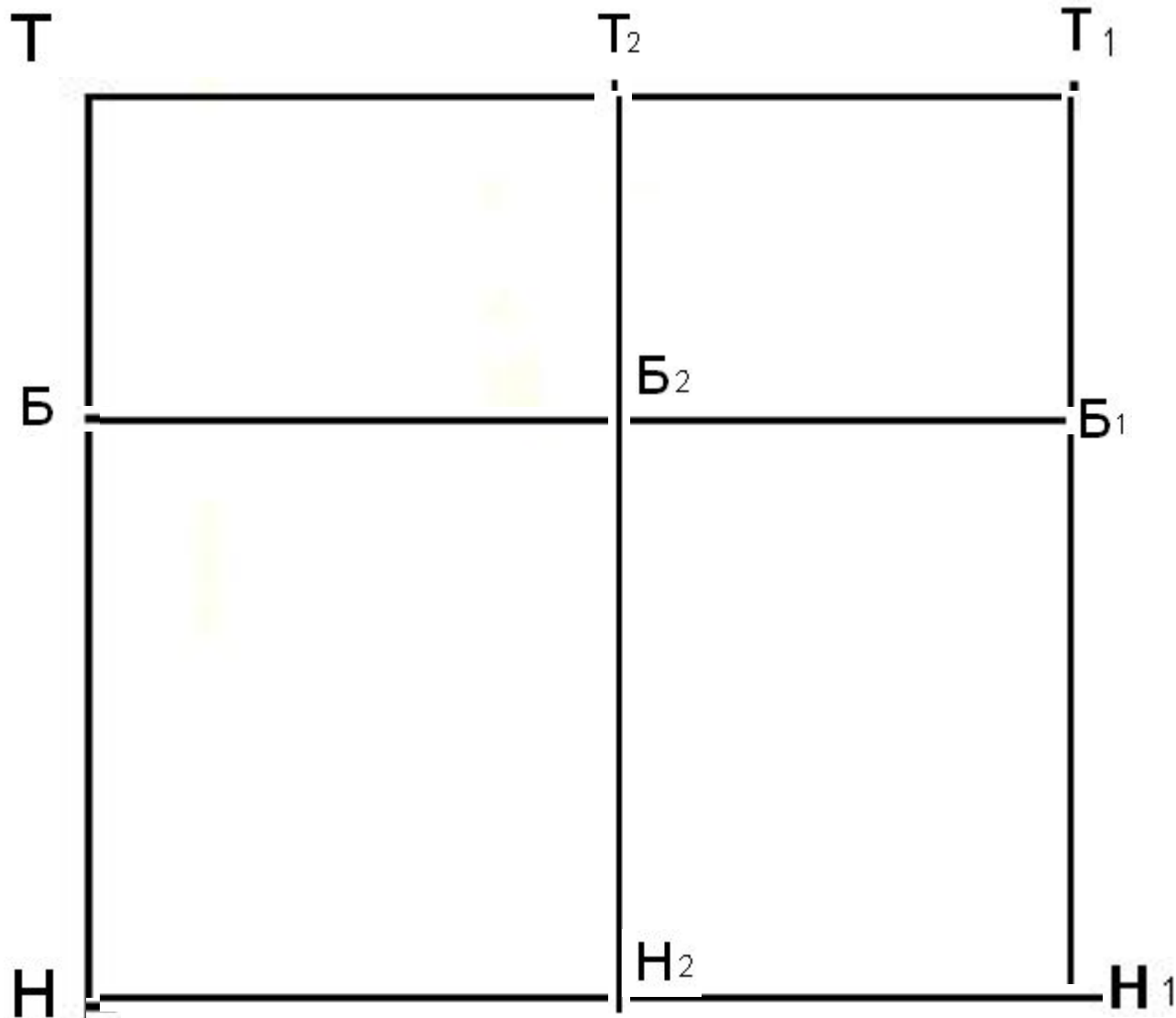
Ст

Дтс

Сб

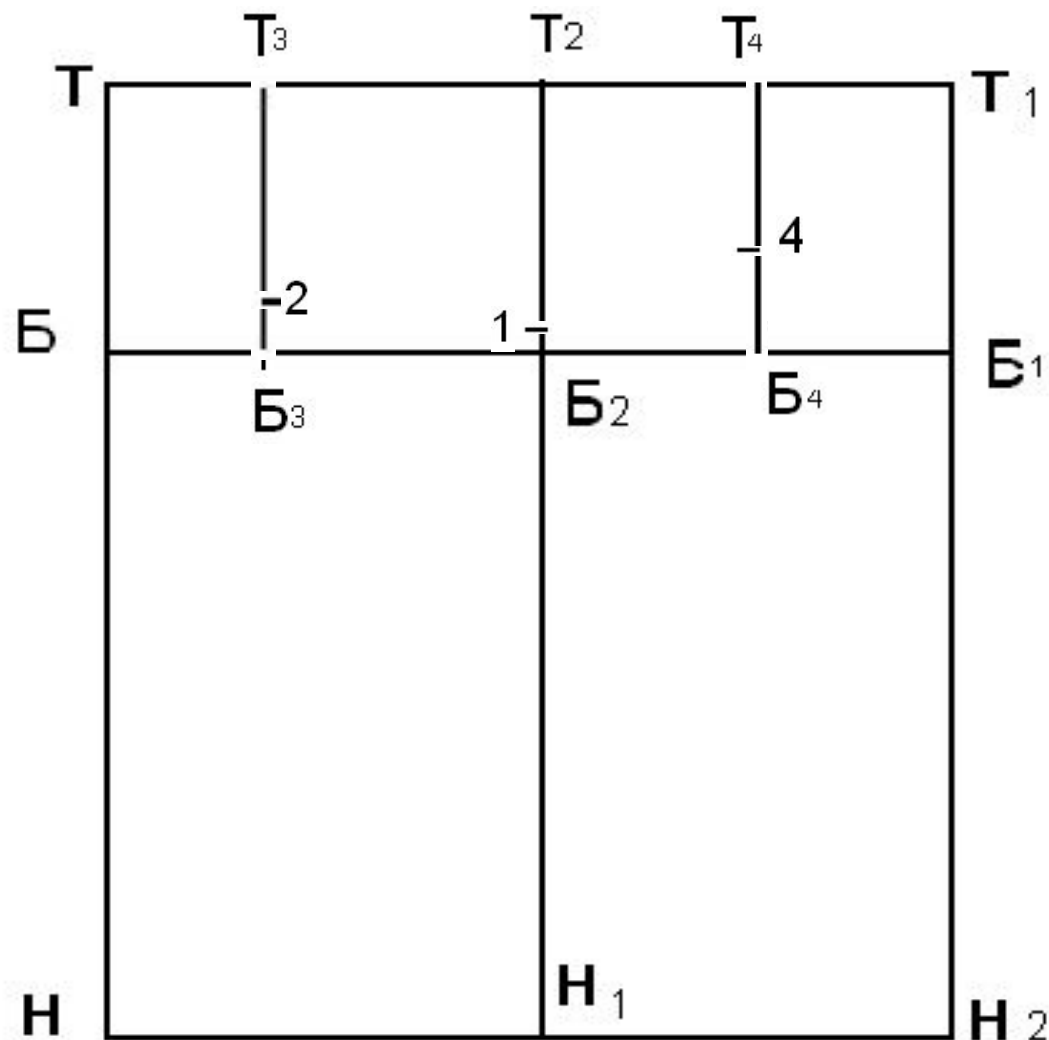
Др

Построение сетки



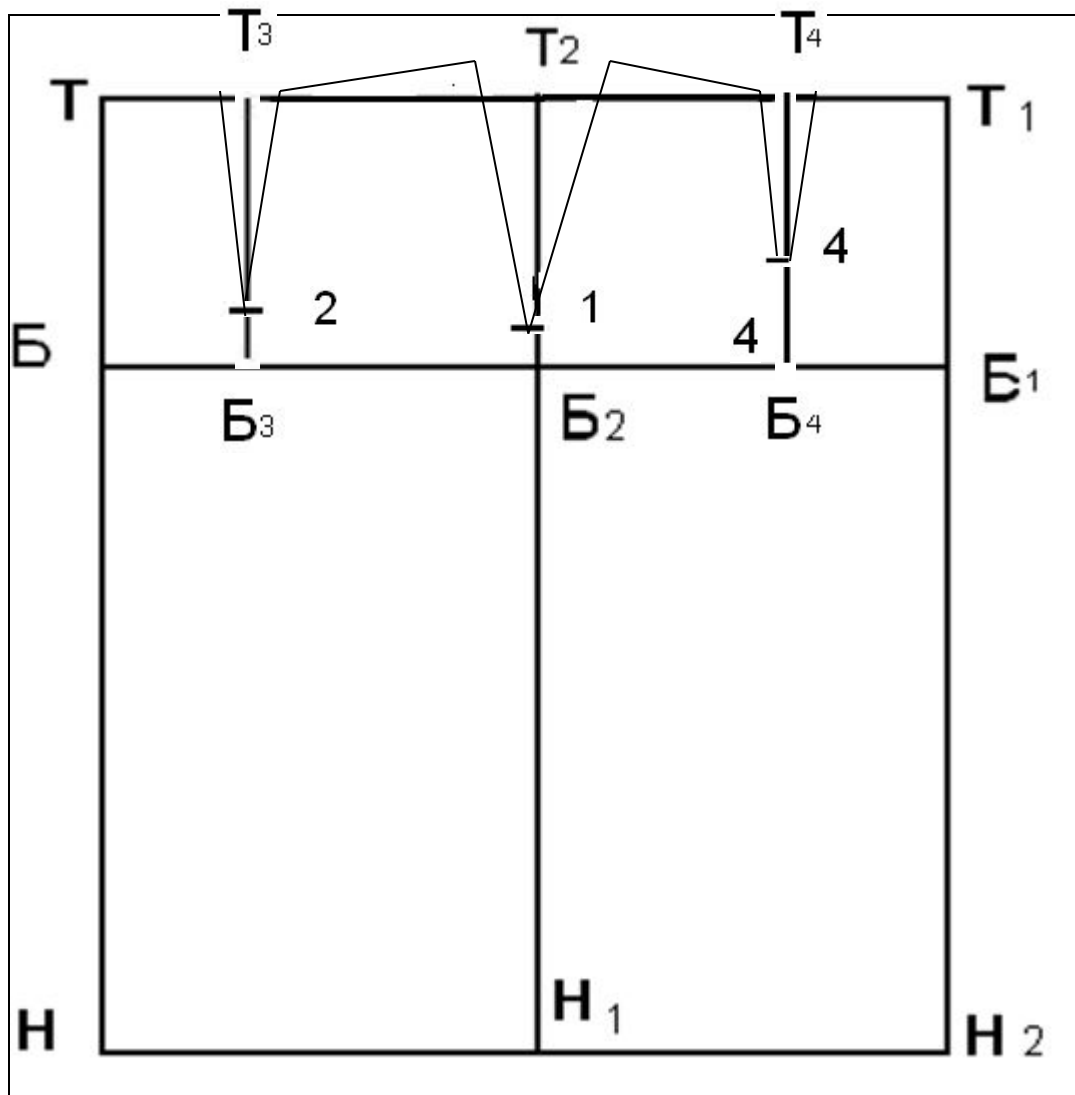
1. $\angle T$
2. $TH = Ди$
3. $TT_1 = Cб + Пб$
4. TT_1H_1H
5. $TБ = Дст : 2$
6. $ББ_1$
7. $TT_2 = TT_1 : 2 - 1$
8. $T_2Б_2H_2$

Определение положения выточек на переднем и заднем полотнище



1. ББ₃ = ТТ₂:2-2
2. Б₃Т₃
3. Б₁Б₄ = Т₁Т₂:2-2
4. Б₄Т₄
5. Б₃2 = 2
6. Б₄4 = 4
7. Б₂1 = 1

ПОСТРОЕНИЕ ВЫТАЧЕК

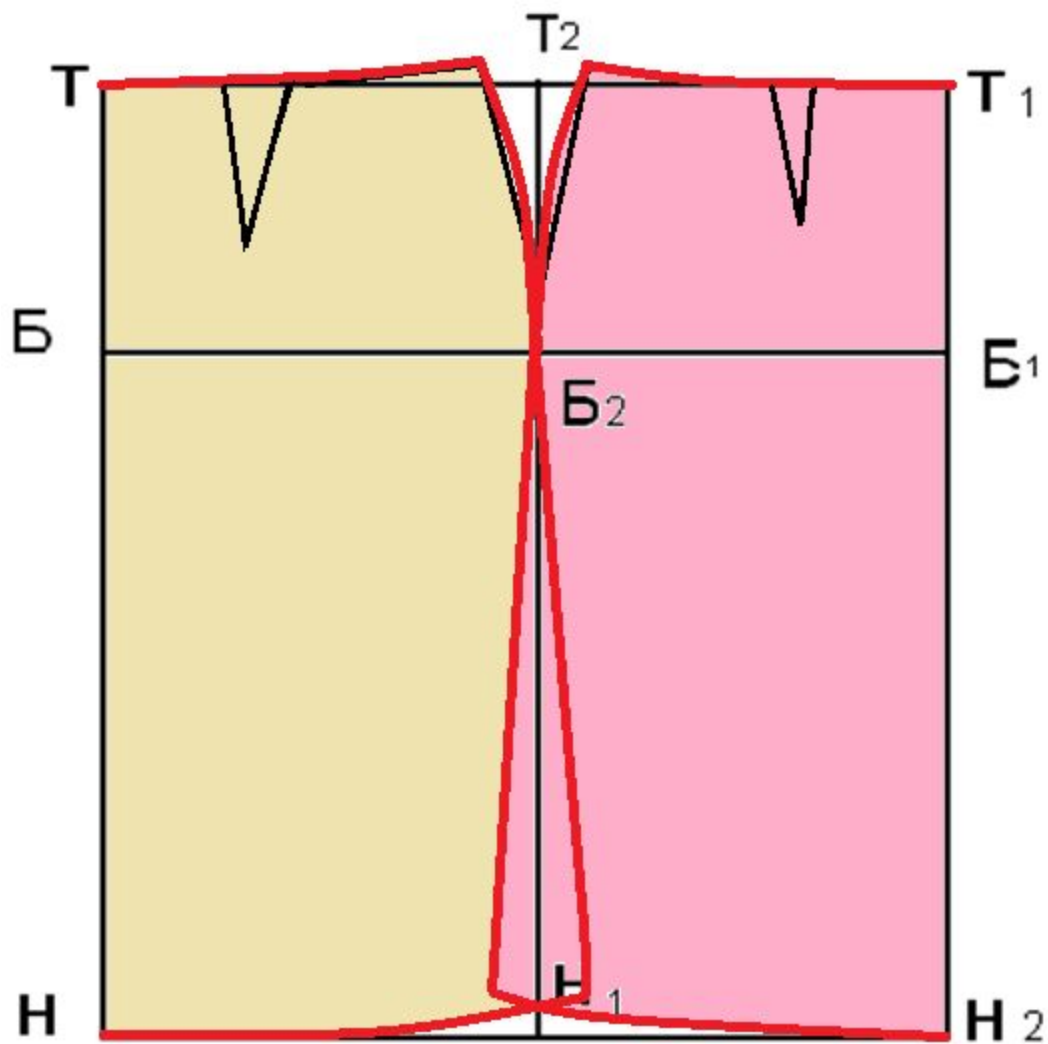


$P:2$

$F:2$

$N:2$

Обведите контур ЧЕРТЕЖА СПЛОШНОЙ ОСНОВНОЙ
ЛИНИЕЙ



Подведём итоги

Какую цель ставили перед собой?

Научиться снимать мерки для построения чертежа юбки и построить чертеж прямой юбки.

Выполнили план урока?

С какими трудностями (проблемами) вы столкнулись на уроке?

Что необходимо сделать, чтобы их избежать (решить)?

Благодарю за урок