

ГИА ОГЭ

БЛОК ДВАДЦАТЬ ТРЕТИЙ

*Задания, в которых необходимо верно
провести расчет числовых
показателей*

1. Определите миграционный прирост населения России в 2010 г.

Ответ запишите в виде числа.

Международная миграция населения в России (человек)

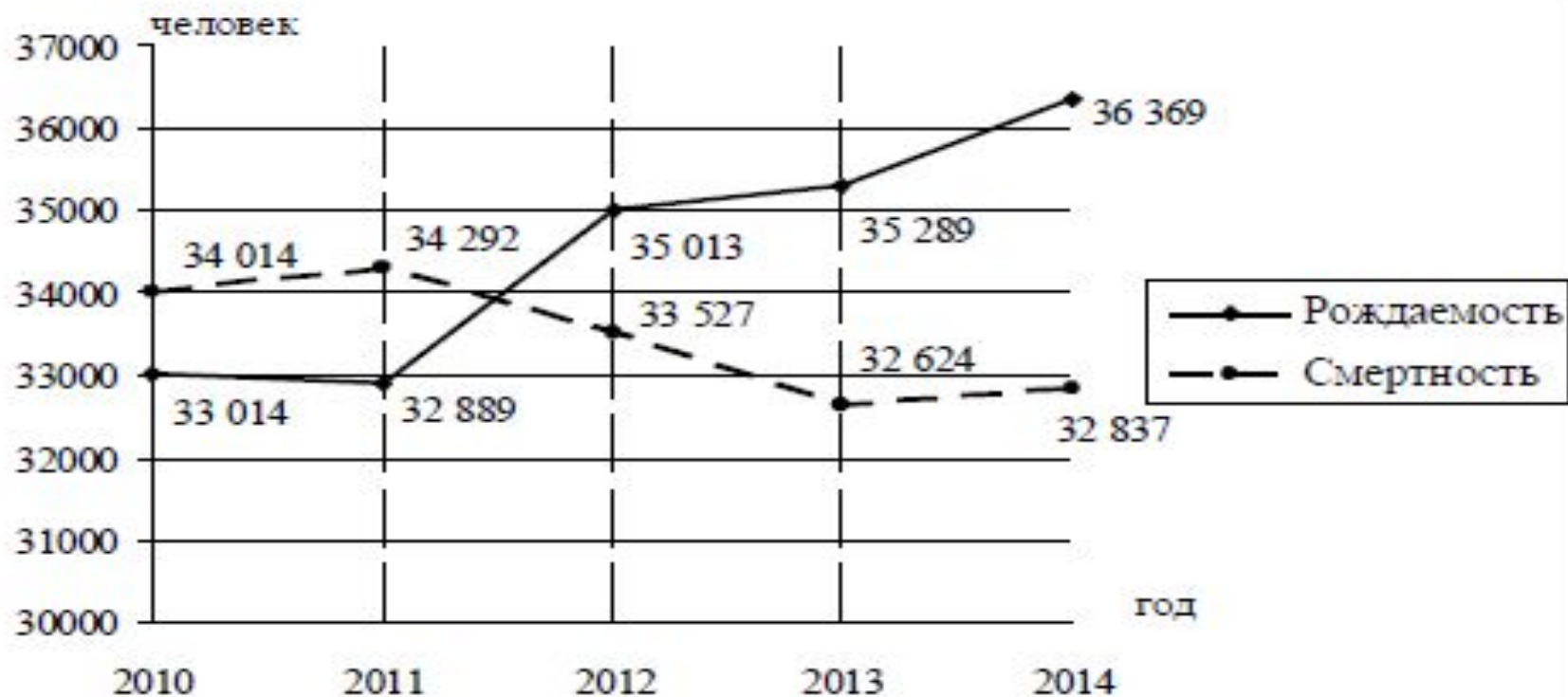
Годы	Прибыло	Выбыло
2009 г.	279 907	32 458
2010 г.	191 656	33 578
2011 г.	356 535	36 774
2012 г.	417 681	122 751

Ответ: _____ чел.

2. Определите естественный прирост населения в Ставропольском крае в 2014 г.

Ответ запишите в виде числа.

Воспроизводство населения в Ставропольском крае в 2010–2014 гг. (человек)

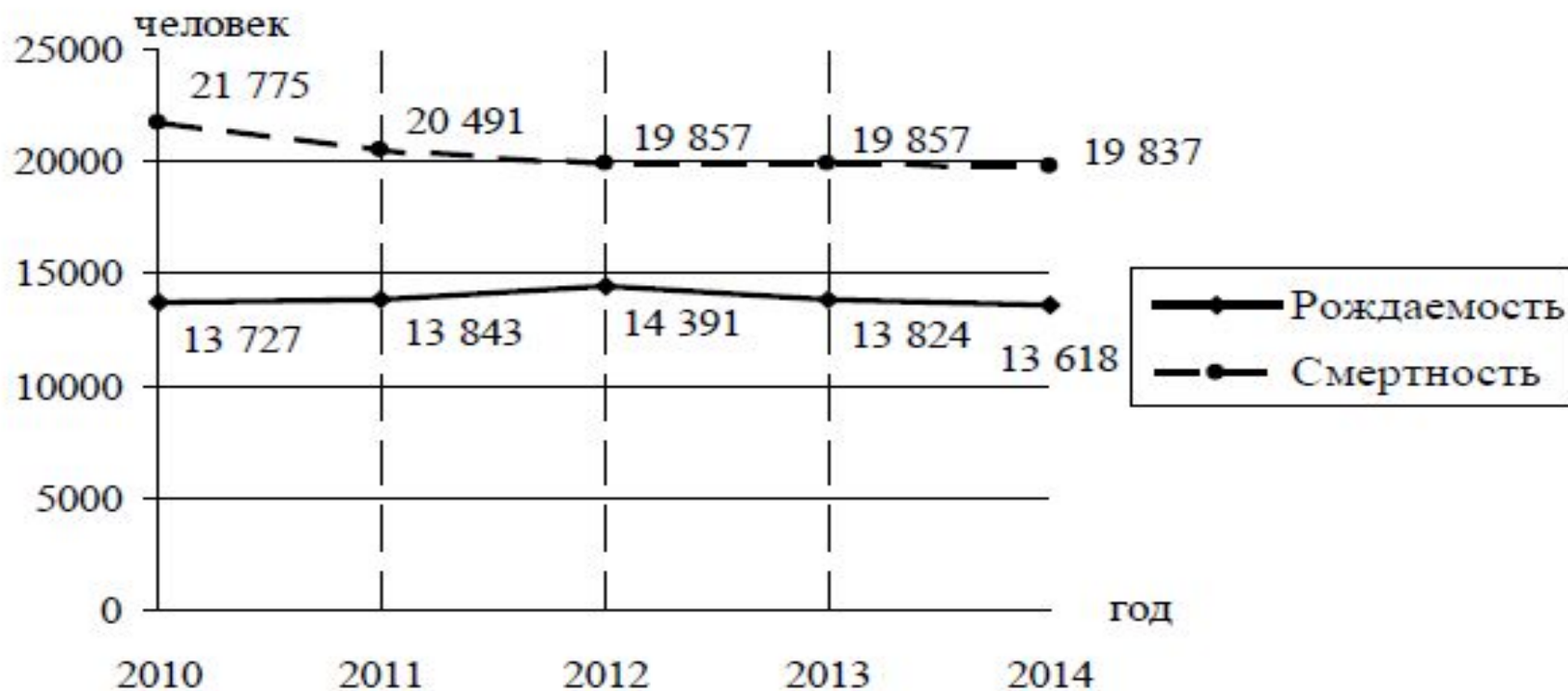


Ответ: _____ чел.

3. Определите естественный прирост населения в
Брянской области в 2014 г.

Ответ запишите в виде числа.

**Воспроизводство населения в Брянской области в
2010–2014 гг. (человек)**

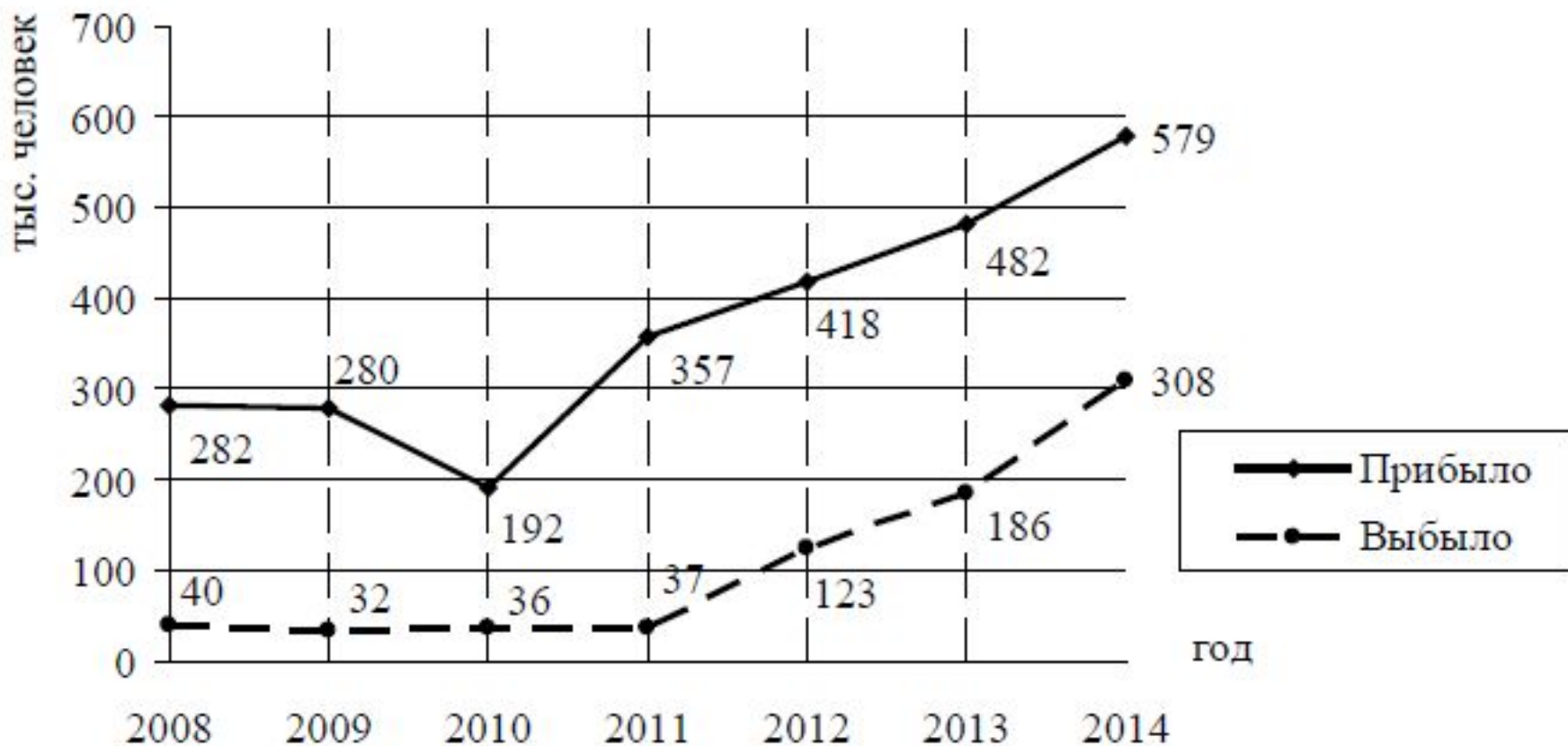


Ответ: _____ чел.

4. Определите величину миграционного прироста населения России в 2014 г.

Ответ запишите в виде числа.

Международная миграция в России за период 2008–2014 гг.



Ответ: _____ чел.

5. Определите естественный прирост населения в
Курской области в 2018 г.

Ответ запишите в виде числа.

**Воспроизводство населения в отдельных регионах РФ в
2015-2018 гг. (на тыс. человек)**

Регион	2015 г.		2016 г.		2017 г.		2018 г.	
	Рождае- мость	Смерт- ность	Рождае- мость	Смерт- ность	Рождае- мость	Смерт- ность	Рождае- мость	Смерт- ность
Курская область	12,1	13,9	11,6	13,9	10,3	13,4	9,8	13,4
Липецкая область	12,6	15,0	12,1	15,0	10,8	14,8	10,2	14,7
Брянская область	12,5	15,8	12,0	15,6	9,7	14,9	9,7	14,8
Тульская область	11,9	11,6	11,2	11,5	10,3	11,1	9,8	11,3

Ответ: _____ чел.

6. Определите естественный прирост населения в России в 2009 г.

Ответ запишите в виде числа.

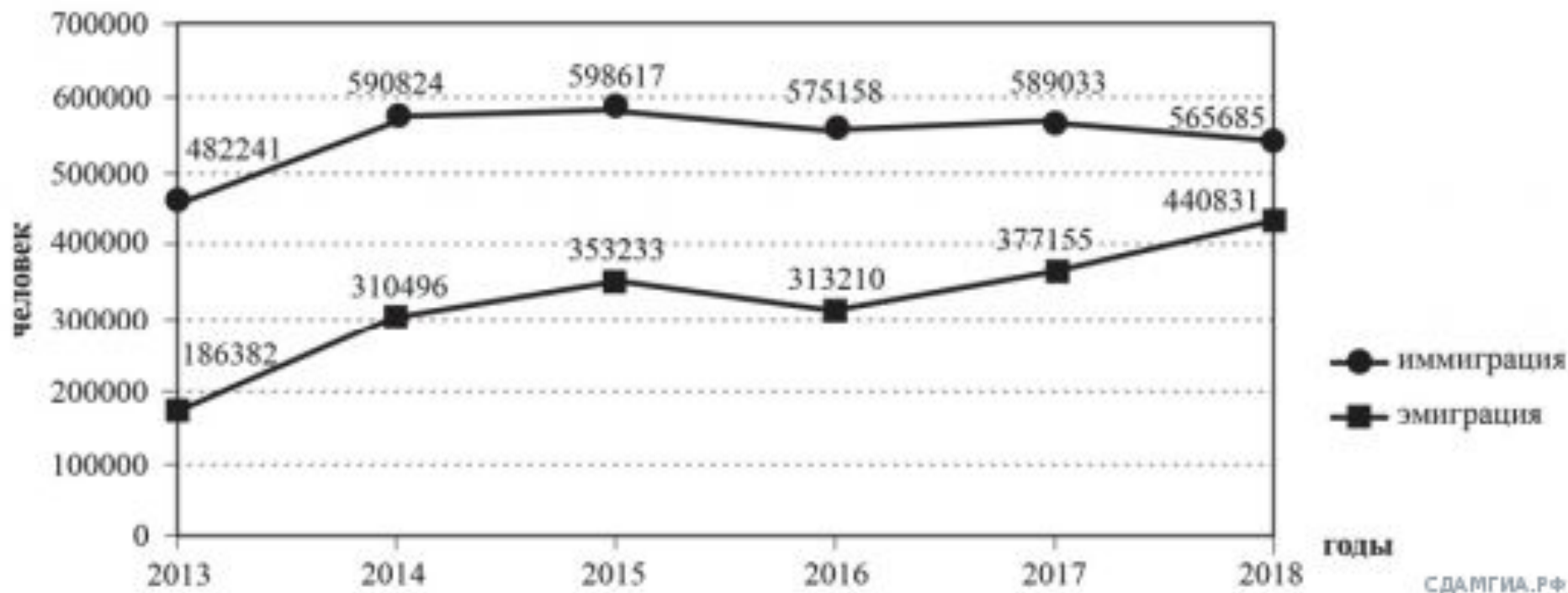
Компоненты изменения общей численности населения России в 2009–2012 гг. (тыс. человек)

Годы	Среднегодовая численность населения	Общий прирост населения	Миграционный прирост населения
2009	142 785	96,3	345,2
2010	142 849	31,9	271,5
2011	142 961	191,0	320,1
2012	143 202	290,7	295,0

Ответ: _____ чел.

7. Определите величину миграционного прироста населения России в 2016 г.
Ответ запишите в виде числа.

Международная миграция в России за период 2013–2018 гг.



Ответ: _____ чел.

8. Определите естественный прирост населения в Воронежской области (человек) в 2011 г.

Ответ запишите в виде числа.

Изменение численности постоянного населения субъектов РФ в 2011 г.

Субъект РФ	Среднегодовая численность населения	Общий прирост населения	Миграционный прирост населения
Белгородская область	1 536 073	3720	8350
Владимирская область	1 436 531	-8693	-252
Воронежская область	2 333 158	-3303	9863
Ивановская область	1 054 040	-6069	795

Ответ: _____ чел.

9. Определите естественный прирост населения в РФ
(в тыс. человек) в 2010 г.

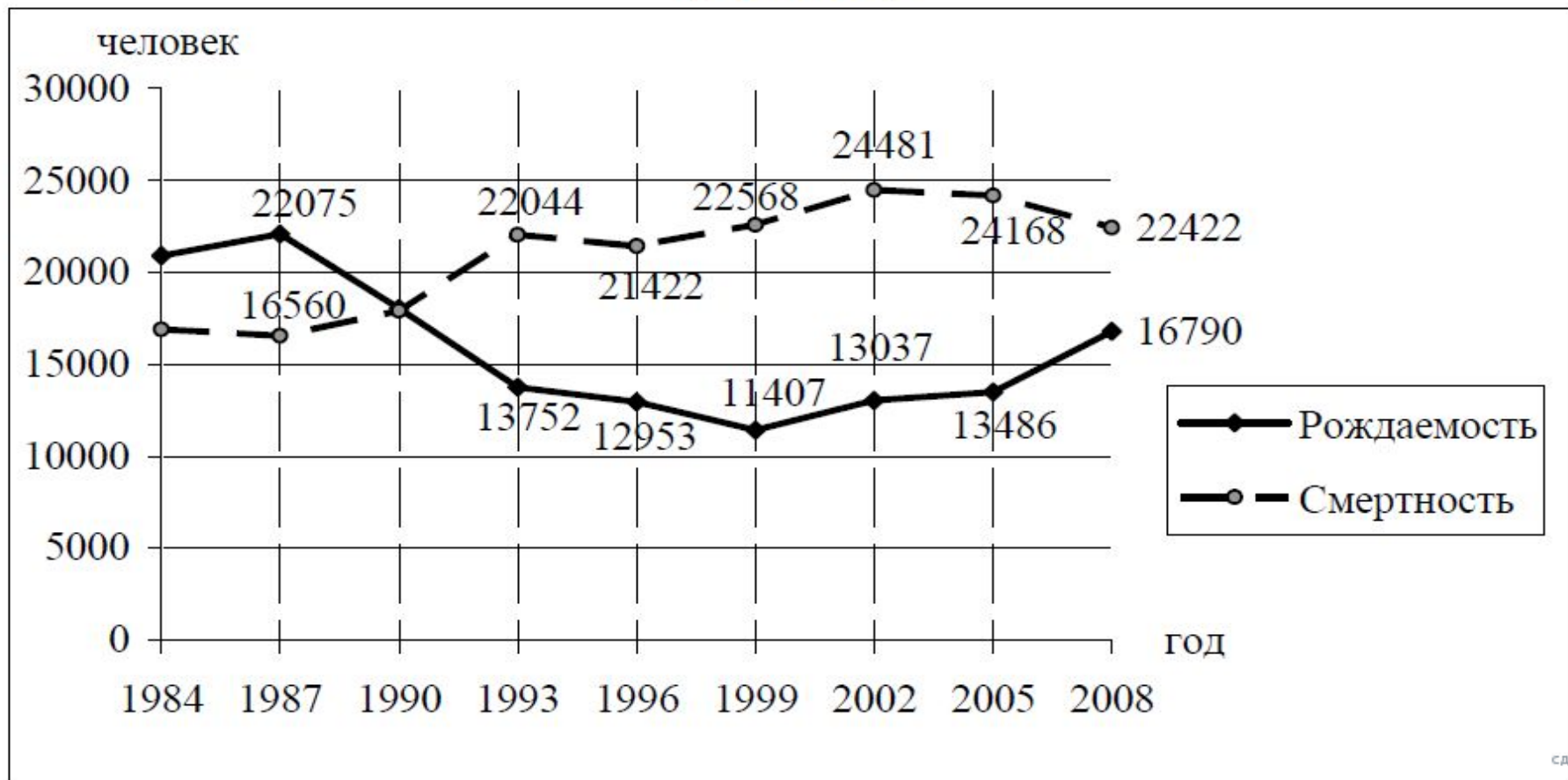
Ответ запишите в виде числа.

Годы	Среднегодовая численность населения	Общий прирост населения	Миграционны й прирост населения
2008	142 742	-10,3	351,7
2009	142 785	96,3	345,2
2010	142 849	31,9	271,5
2011	142 961	191,0	320,1

Ответ: _____ чел.

10. Определите естественный прирост населения Белгородской области в 1987 г. *Ответ запишите в виде числа.*

**Воспроизводство населения в Белгородской области в 1984–2008 гг.
(человек)**



Ответ: _____ чел.

11. Определите миграционный прирост населения Астраханской области в 2009 г.

Ответ запишите в виде числа.

Изменение численности населения Астраханской области в 2007–2010 гг.

Показатель	2007 г.	2008 г.	2009 г.	2010 г.
Общий прирост населения за год, человек	6747	4367	1872	–381
Естественный прирост населения за год, человек	–615	561	820	671

Ответ: _____ чел.

12. Определите величину миграционного прироста населения России в 2013 г.

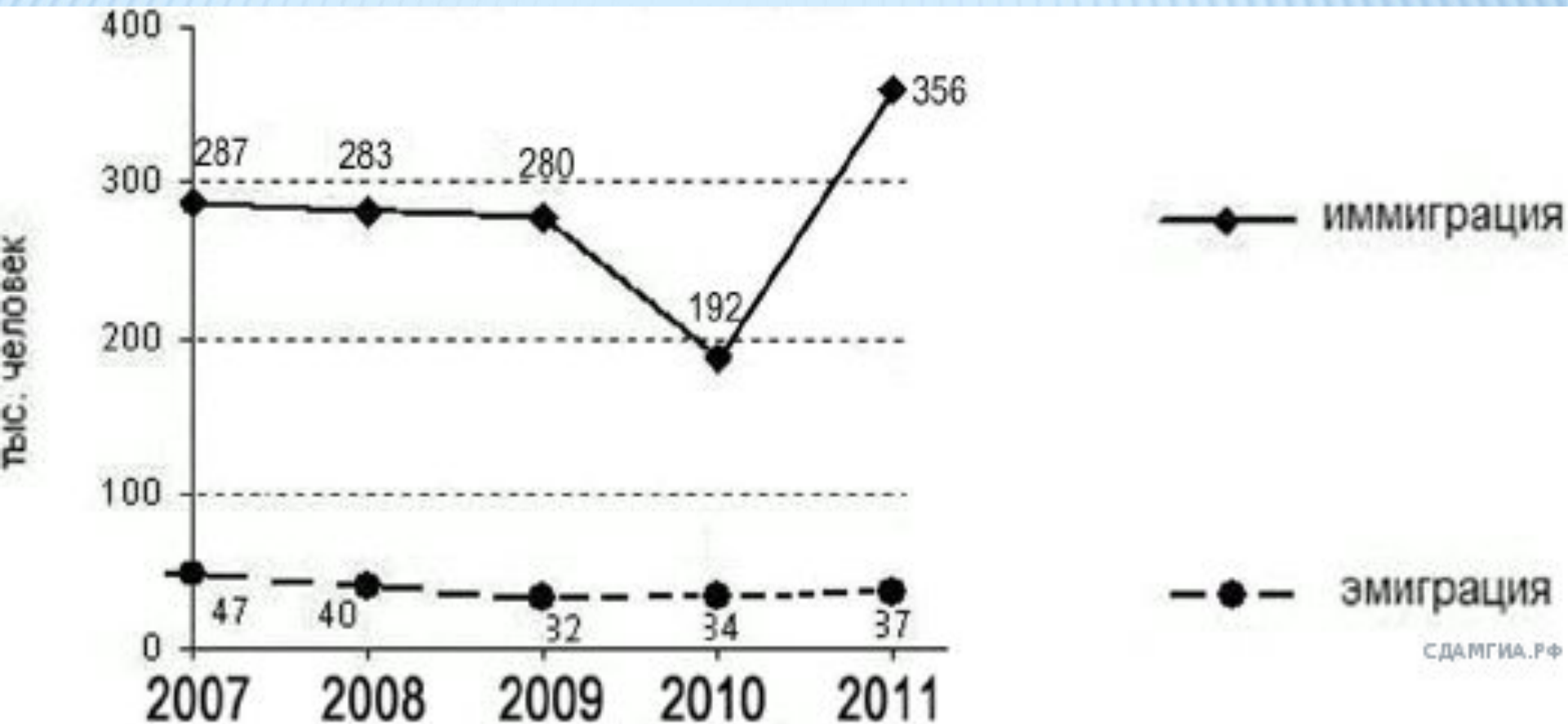
Ответ дайте в тысячах человек.



Ответ: _____ чел.

13. Используя данные графика, определите показатель миграционного прироста населения в России в 2011 г. Ответ запишите в виде числа.

Международная миграция в России



Ответ: _____ чел.

14. Определите величину естественного прироста населения России в 2012 г.

Ответ запишите в виде числа.

Компоненты изменения общей численности населения в России, тыс. человек

Годы	Среднегодовая численность населения	Общий прирост	Миграционный прирост
2009	142 737,2	-114,6	247,4
2010	142 849,0	-81,5	158,1
2011	142 960,5	190,7	319,8
2012	143 201,7	291,7	295,0

Ответ: _____ чел.

15. Используя данные таблицы, определите миграционный прирост населения России в 2011 г.
Ответ запишите в виде числа.

Международная миграция населения в России (человек)

Годы	2008	2009	2010	2011
Прибыло	281 614	279 907	191 656	356 535
Выбыло	39 508	32 458	33 578	36 774

Ответ: _____ чел.

16. Используя данные таблицы, определите, на сколько человек сократилась численность населения Брянской области в 2011 г.

Ответ запишите в виде числа.

**Изменение численности населения некоторых областей России
2011**

Области	Число прибывших на постоянное местожительство, чел.	Число убывших на постоянное местожительство, чел.	Естественный прирост населения за год, чел.
Белгородская	40 661	32 311	−4630
Курская	27 903	18 469	−5975
Брянская	37 072	41 362	−6648
Воронежская	54 331	44 468	−13 166

Ответ: _____ чел.

17. Используя данные таблицы, определите, на сколько человек сократилась численность населения Республики Коми в 2011 г.

Ответ запишите в виде числа.

Изменение численности населения некоторых регионов в 2011

	Число родившихся, человек	Число умерших, человек	Миграционный прирост населения за год, чел.
Иркутская область	37 110	33 910	- 8022
Хабаровский край	17 255	19 509	- 6612
Республика Коми	11 720	11 065	- 10 033
Республика Саха (Якутия)	16 402	8892	- 9809

18. Определите показатель естественного прироста населения в 1994 г.

Ответ запишите в виде числа.

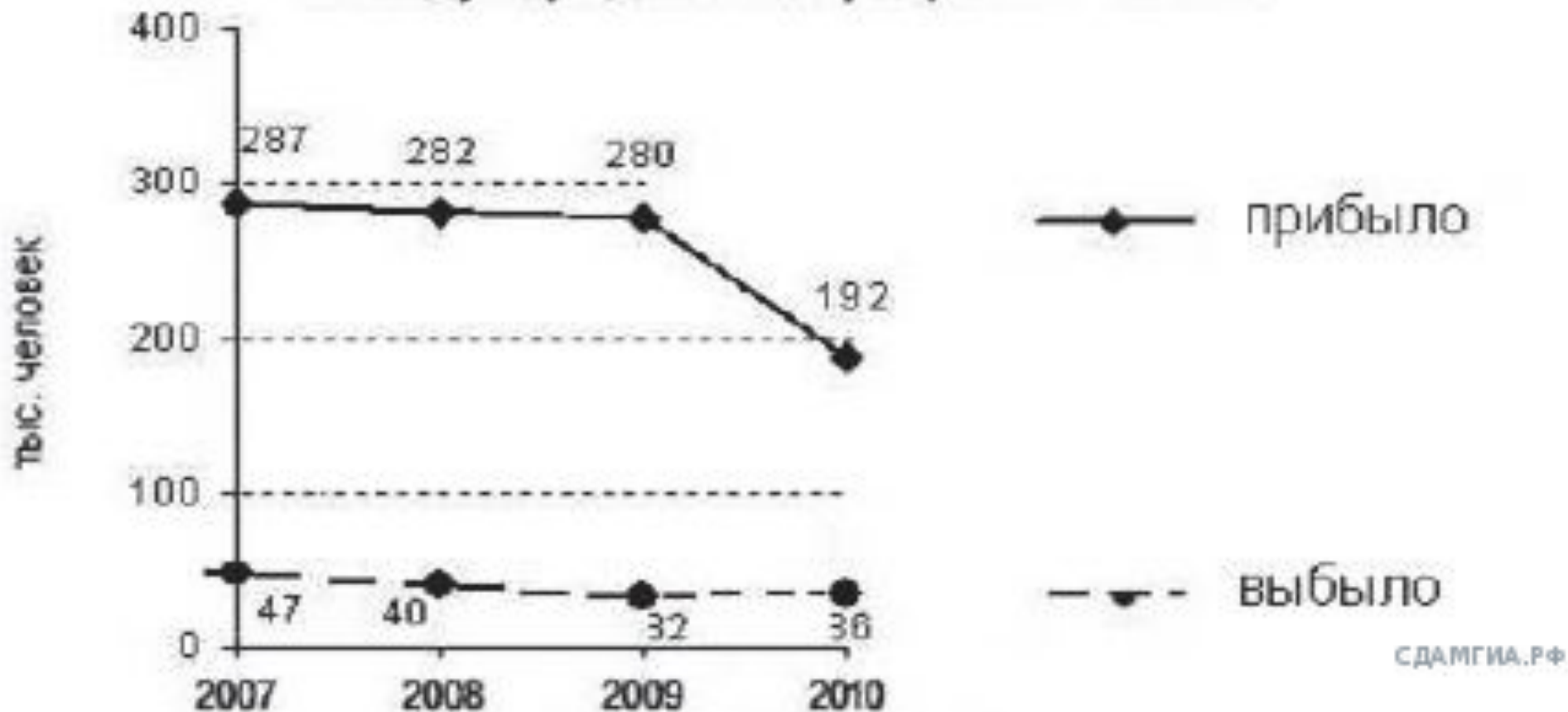


Ответ: _____ чел.

19. Определите величину миграционного прироста населения России в 2009 г.

Ответ запишите в виде числа.

Международная миграция в России.



Ответ: _____ чел.

20. Используя данные таблицы, определите величину миграционного прироста населения Московской области в 2009 г.

Ответ запишите в виде числа.

Изменение численности населения Московской области

Показатель	2007 г.	2008 г.	2009 г.	2010 г.
Общий прирост населения за год, человек	27 101	39 809	40 145	44 693
Естественный прирост населения за год, человек	-46 816	-40 859	-32 942	-32 076

Ответ: _____ чел.

БЛОК ДВАДЦАТЬ ТРЕТИЙ

Верные ответы:

1. 158078

2. 3532

3. 6219

4. 271

5. -3,6

6. -248,9

7. 261948

8. -13166

9. -239,6

10. 5515

11. 1052

12. 296

13. 319

14. -3,3

15. 319761

16. -10938

17. 9378

18. -6

19. 248

20. 73087