

ПОНЯТИЕ «МНОЖЕСТВО» И СПОСОБЫ ЗАДАНИЯ. 2 класс.

**Подготовили: Сагедиева Миляуша, Нигматуллина
Гузель,
05-407 группа**

МНОЖЕСТ

ВО

З
В
Е
Р
И





Множеств

о

от слова

МНОГО

Назови

пожест



РЫБ
Ы

Назови

множество




ПТИЦ Ы

ЗАДАНИЕ №1



посуда



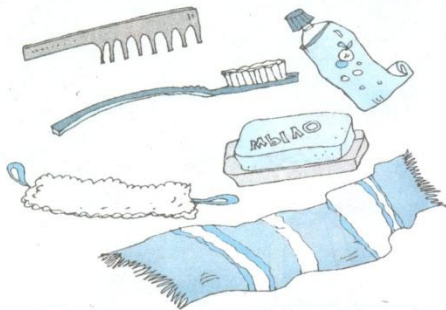
животные



обувь



игрушки



Банные принадлежности



Предметы для рисования



Назови множество



ОДЕЖДА
А

Назови

множество



ДЕРЕВ ья



Назови

МНОГО



НАСЕКОМ ЫЕ



О Б У В Ь






Множеств
о
состоит из
элементо
в

ЗАДАНИЕ №2

Букет, стая, рой, косяк, стадо



СТАДО




СТАЯ



РОЙ




БУКЕТ




КОСЯК

ДЕРЕВ



ОВОЩ

И




СПОРТИВНЫЕ ПРИНАДЛЕЖНОСТИ




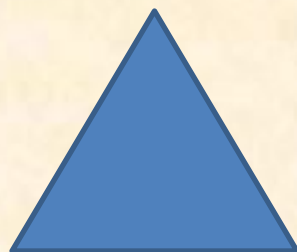


ЗАДАНИЕ

Множ.



МНОЖЕСТВО ПТИЦ

ЗАДАНИЕ №4



ЗАДАНИЕ

№5

КАРТОШКА

ОГУРЕЦ

ЯБЛОКО

СЫР

ГРУША

ПОМИДОР

КОЛБАСА

ЛИМОН

СВЁКЛА

МАСЛО

АПЕЛЬСИН

МЯЧ

МОРКОВЬ

ХЛЕБ

ТЫКВА

АНАНАС





ЗАДАНИЕ №6



МНОЖЕСТВО

- Музыкальных инструментов
- Спортивных принадлежностей
- Строительных инструментов

ЗАДАНИЕ №7



МНОЖЕСТВО ЦВЕТОВ

ЗАДАНИЕ

№ 9

МОСКВА, ЛОНДОН, САНКТ-ПЕТЕРБУРГ,
ПАРИЖ, СУЗДАЛЬ, ЯРОСЛАВЛЬ, БЕРЛИН,
КИЕВ, **РОСТОВ, ВЛАДИМИР,
КОСТРОМА**



★ б) Можно ли дописать названия:
ВОЛОГДА, ВОЛГА, ОДЕССА, РОССИЯ?

ЗАДАНИЕ №9

9

Дай названия столбцам. Расставь слова по этим столбцам:
ДУБ, ОКУНЬ, ЛЕЩ, ЮБКА.

	РЫБЫ	
ОДЕЖДА	ЩУКА	ДЕРЕВЬ
БРЮКИ	АКУЛА	Я ЕЛЬ
РУБАШКА	КАРАСЬ	СОСНА
	ОКУН	ДУБ
ЮБКА	Ь	
	ЛЕЩ	



**Карточки с
тестовыми
заданиями для
проверки
степени
усвоения
нового
материала.
(на два**



Какие элементы принадлежат одному множеству?



1, 2, 3, 6



1, 2, 4, 5






3, 4, 5, 6

Какой предмет относится к данному множеству?



Отметь «лишнюю» геометрическую фигуру.



Какие элементы принадлежат одному множеству?



2, 4, 5, 6



1, 2, 3, 5

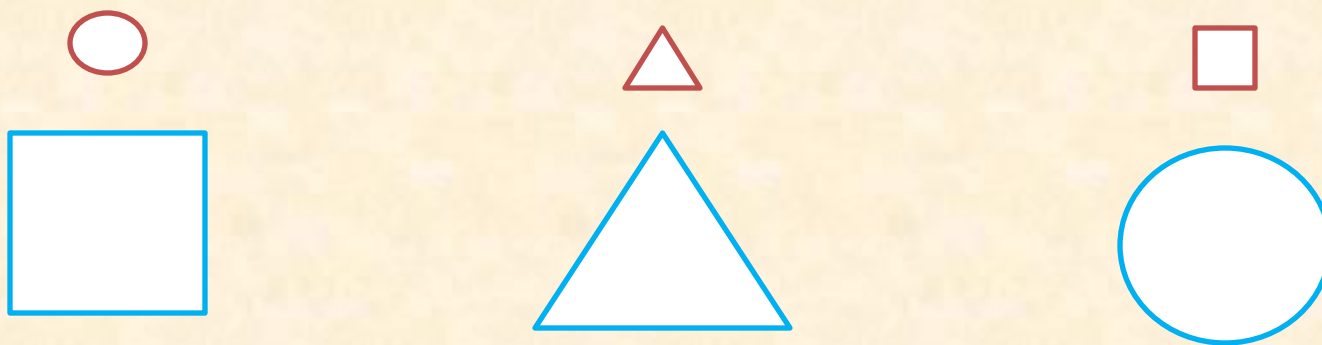



1, 2, 5, 6

Какой предмет относится к данному множеству?



Отметь «лишнюю» геометрическую фигуру.



**ДОМАШНЕЕ ЗАДАНИЕ:
НАРИСУЙТЕ ЛЮБОЕ
МНОЖЕСТВО ПРЕДМЕТОВ С
ОБЩИМ НАЗВАНИЕМ И
ПОДПИШИТЕ
НАЗВАНИЕ ПОД КАРТИНКОЙ.**

