


20 марта

Классная работа



Посмотри скорей, дружок,
Все ли у тебя в порядке:
Книжки ручки и тетрадки?
Будем мы работать дружно,
Многое успеть нам нужно.





Понапрасну не болтай,
Рассуждай и убеждай.
Здесь не нужен шум и
гам,
Ты решай задания сам.
Если же не сможешь
вдруг,
Пусть придёт на помощь
друг.



ДЕВИЗ УРОКА:

**ЗНАЕШЬ – ГОВОРИ,
НЕ ЗНАЕШЬ СЛУШАЙ**



Устный счёт

$$15-8+6+70+6-4-10+3-8=$$




Устный счёт

$$15-8+6+70+6-4-10+3-8=70$$



Вопросы от мышонка Мити



- 2 1. Найди числа, которые делятся на 6, и запиши в квадратах результат деления. Остальные числа зачеркни.

6 28 36 46 14 54 48 18 30 12 26 60 1 42 24

2. Составь выражения и найди их значения:

а) На сколько 4 меньше 24?

б) Во сколько раз 9 меньше 54?

в) На сколько 18 больше 3?

г) Во сколько раз 40 больше 8?

3. Составь программу действий и вычисли:

$42 : 7 \cdot 3 - 5 \cdot 0 : 6 + 27 - 30 : 6 =$

Задания от мышонка Моти



«Поразмысли-ка»

На листе бумаги нарисовали квадраты и круги. Всего получилось 4 фигуры. Сколько было квадратов и сколько кругов, если первых было на 2 больше, чем вторых?






На листе бумаги нарисованы квадраты и круги.
Всего
получилось 4 фигуры. Сколько квадратов и сколько
кругов,

ес

1 круг и

3 квадрата



«Поразмысли-ка»

Во время футбольного матча Петя забил 7 голов в чужие ворота. Выиграла или проиграла Петина команда, если окончательный счёт был 10 : 6?



Во время футбольного матча Петя забил 7 голов в чужие ворота. Выиграла или проиграла Петина команда, если окончательный счёт был

10 : 6



Выиграла

«Поразмысли-ка»

Великан жил на втором этаже девятиэтажного дома. Однажды ему захотелось жить повыше. Он перевернул дом крышей вниз и так поставил. На каком этаже оказалась квартира великана?





Логические задачи

Арбуз, дыня и тыква весят четыре, пять и шесть килограмм. Арбуз тяжелее, чем дыня. Что сколько весит?

Серёжа любит яблоки и груши, а Саша - клубнику и малину. Кому из ребят нравятся ягоды?

Представить в виде суммы
разрядных слагаемых

• 84, 39, 45, 63, 35, 47, 52



Решите примеры

- $56 - 6 = 50$
- $40 + 4 = 44$
- $80 + 3 = 83$
- $40 + 20 = 60$
- $51 - 1 = 50$
- $63 - 60 = 3$
- $35 - 15 = 20$




1. Вычисли.

43 + 7 =						59 + 32 =						
60 - 4 =						76 - 36 =						

2. Выполни вычисления.

$\begin{array}{r} + 36 \\ 4 \\ \hline \end{array}$	$\begin{array}{r} + 42 \\ 28 \\ \hline \end{array}$	$\begin{array}{r} - 64 \\ 34 \\ \hline \end{array}$	$\begin{array}{r} - 80 \\ 7 \\ \hline \end{array}$	$\begin{array}{r} + 53 \\ 37 \\ \hline \end{array}$
--	---	---	--	---



Выполни действия:

$34 + 7$

$45 + 39$

$46 + 6$

$27 + 68$

$34 + 27$

$45 + 9$

$46 + 26$

$37 + 58$



Выбери и реши примеры на новый вычислительный приём:

$16 + 80$

$79 + 19$

$40 - 12$


$57 + 37$

$59 - 7$

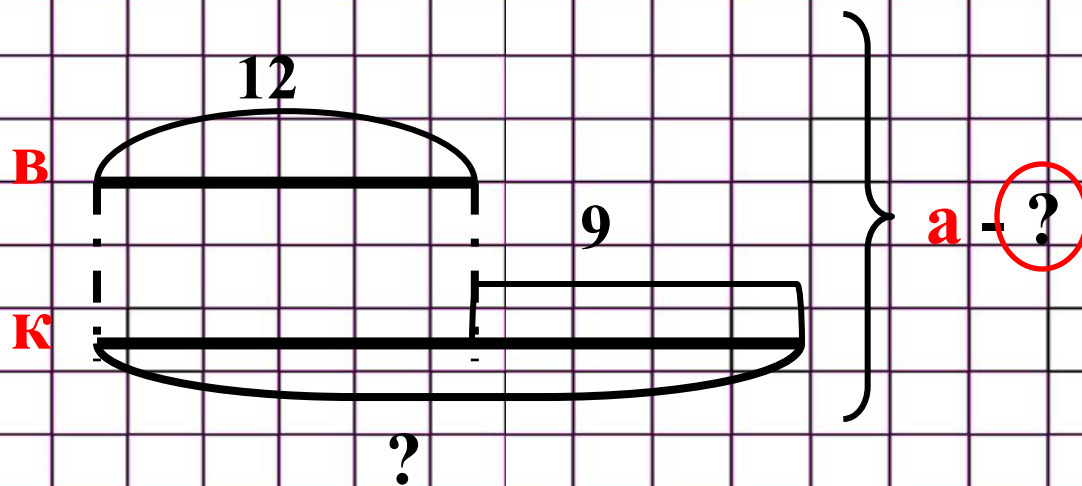
$25 + 31$

$68 + 28$

$96 - 8$



7 Воробей высиживает птенцов 12 дней, кулик – на 9 дней дольше, а белый аист – столько, сколько кулик и воробей вместе. Сколько дней высиживает птенцов белый аист?




1) $12 + 9 = 21$ (день) – высиживает птенцов кулик

2) $12 + 21 = 33$ (дня) – высиживает птенцов аист

Ответ: 33 дня аист высиживает птенцов.

8 а) Мама посадила в саду 35 красных тюльпанов, жёлтых – на 8 тюльпанов меньше, чем красных, а белых – на 3 больше, чем красных. Сколько всего тюльпанов посадила мама?

б) Паша купил 26 листов красной бумаги, зелёной – на 9 листов больше, чем красной, а синей – на 7 меньше, чем красной. Сколько всего листов цветной бумаги купил Паша?



1 Заполни пропуски числами, как показано в образце.



2 По каждому рисунку составь пример на вычитание, как показано в образце. Заполни пропуски.

	$38 - 18 = \square$
	$72 - \square = \square$
	$\square - 34 = \square$
	$\square - \square = \square$
	$\square - \square = \square$

3 Выполни вычисления.

$\begin{array}{r} 54 \\ - 24 \\ \hline 30 \end{array}$	$\begin{array}{r} 62 \\ - 12 \\ \hline \end{array}$	$\begin{array}{r} 36 \\ - 26 \\ \hline \end{array}$	$\begin{array}{r} 73 \\ - 53 \\ \hline \end{array}$	$\begin{array}{r} 81 \\ - 21 \\ \hline \end{array}$
--	---	---	---	---

4 Вычисли.

$$56 - 36 = 50 - 30 = \square$$

└─┬─┘
 □ 6

$$78 - 28 = \square - 20 = \square$$

└─┬─┘
 □ □

$$64 - 54 = \square - 50 = \square$$

└─┬─┘
 □ □

$$35 - 15 = \square - 10 = \square$$

└─┬─┘
 □ □

- 5 Выполни вычисления. Прочитай загадку, записав в таблицы под ответами примеров соответствующие части слов. Отгадай её и запиши отгадку.

Х

$82 - 12$

НА

$20 : 5 + 16$

ТИ

$14 : 2 + 9$

ПРО

$100 - 70$

ДЫХ

$18 : 3 + 30$

ВОДА

$78 - 38 + 2$

ОТ

$(53 + 7) : 6$

СТА

$46 + 2 \cdot 2$

АХ

$23 + 15 : 5$

Я

$(17 - 7) : 5$

ПЯ

$20 + 54 - 34$

ПТ

$16 : 4 + 55$

АЕТ

$5 + 35 + 21$

20

40	16

30	42	70

10	36	61

50	2

59	26

Отгадка. _____

- 6 Запиши в порядке возрастания все двузначные числа, в записи которых используется цифра 6.

Ответ. _____

Рефлексия



*Я доволен своей
работой на уроке.*



*На уроке я работал
неплохо.*



*На уроке мне было
трудно.*



**Я научился! А
вы?**





Старшеклассники посадили 20 берез, 8 кленов и 10 осин.

$$20+8$$

$$20+10+8$$

$$8+10$$

$$20-10$$

