

# Дорожные знаки

5

Автор работы – педагог дополнительного образования  
Гранько Виктор Тарасович  
ГБОУ СОШ №4 им. Кусто Василеостровского района  
Санкт-Петербурга.



**А**



**Б**



**В**


**Какие знаки предоставляют Вам преимущество при проезде нерегулируемых перекрестков?**

1. Только А.
2. А и В.
3. Все.




**Разрешен ли Вам обгон?**

1. Разрешен.
2. Запрещен, если скорость мотоцикла более 30 км/ч.
3. Запрещен.



**Разрешено ли водителю поставить грузовой автомобиль на стоянку в этом месте указанным способом?**

1. Да.
2. Да, если разрешенная максимальная масса автомобиля менее 3,5 т.
3. Нет.



**По какой траектории Вы можете выполнить разворот?**

1. Только по А.
2. Только по Б.
3. По любой.



**А**



**Б**



**В**

**Какими знаками обозначают участки, на которых водитель обязан уступать дорогу пешеходам, находящимся на проезжей части?**

1. Только А и Б.
2. Только Б и В.
3. Всеми.



**Разрешено ли Вам подъехать к месту своей работы, расположенному в зоне действия этих знаков?**

1. Разрешено только в нерабочие дни.
2. Разрешено только в рабочие дни.
3. Разрешено в любой день.
4. Не разрешено.



**Вы буксируете неисправный автомобиль. По какой полосе Вы можете продолжить движение?**

1. Только по правой.
2. По любой.

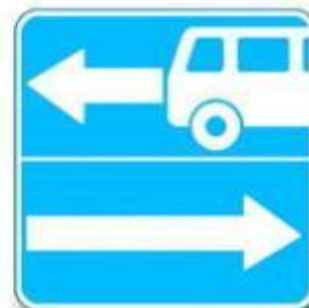




**А**



**Б**



**В**


**Какие знаки информируют Вас, что на перекрестке необходимо уступить дорогу транспортным средствам, приближающимся слева?**

1. Только А.
2. Только Б.
3. Только А и Б.
4. Все.



**Разрешено ли Вам при управлении легковым автомобилем с прицепом продолжить движение в прямом направлении?**

1. Разрешено.
2. Разрешено, если Вы проживаете в зоне действия знака.
3. Запрещено.



**В каком из направлений Вам разрешено движение?**

1. Только Б.
2. Только А и Б.
3. Только Б и В.
4. Во всех из указанных.



**Этот знак:**

1. Показывает направления движения на перекрестке.
2. Указывает, что на пересекаемой дороге движение осуществляется по двум полосам.



**50 м**

**А**



**Б**

**Какие знаки указывают протяженность зоны для разворота?**

1. Только А.
2. Только Б.
3. Все.



**На каком расстоянии до скользкого участка дороги устанавливается этот знак в населенном пункте?**

1. 150—300 м.
2. 50—100 м.
3. Непосредственно перед началом скользкого участка.



**Каким транспортным средствам разрешена остановка в зоне действия знака?**

1. Только такси с включенным таксометром.
2. Только автомобилям, на которых установлен опознавательный знак «Инвалид».
3. Всем перечисленным транспортным средствам.



**А**



**Б**

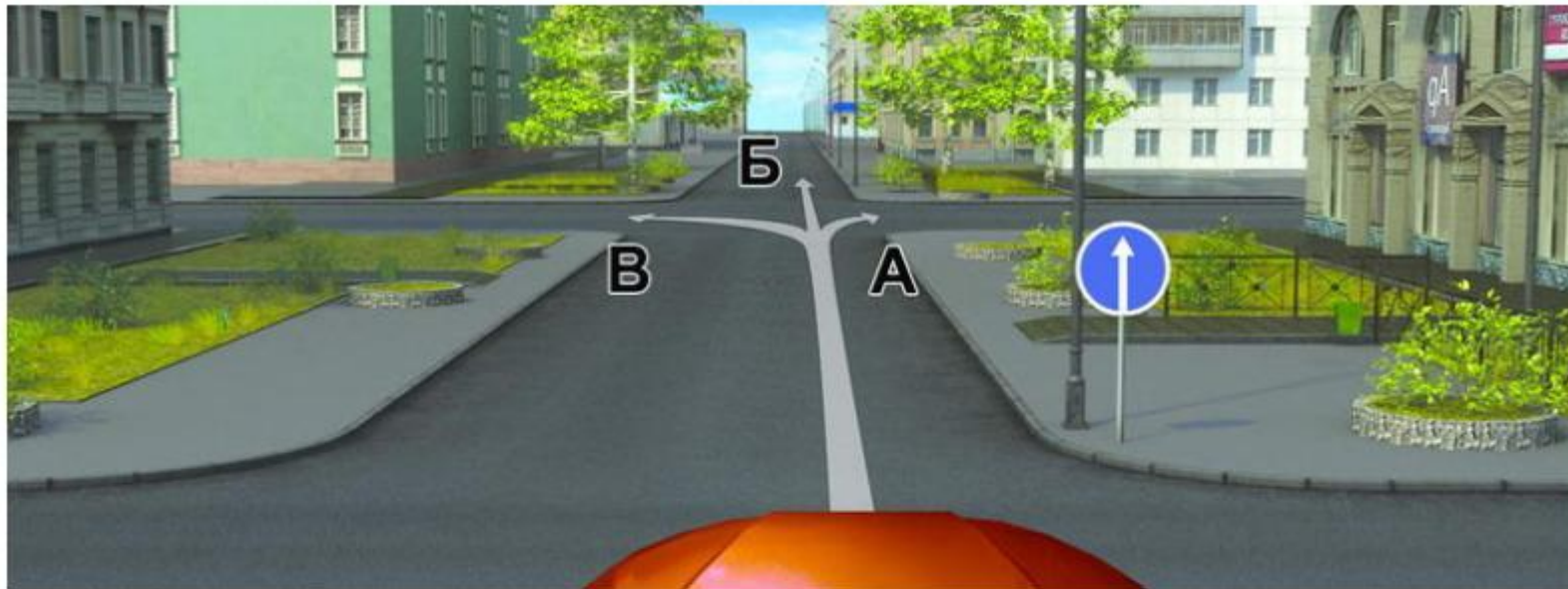


**В**

**Какой из знаков используется для обозначения кемпинга?**

1. Только А.
2. Только Б.
3. Только В.
4. Б и В.





**В каких из указанных направлений Вы можете продолжить движение на следующем перекрестке?**

1. Только Б.
2. А или Б.
3. Во всех.



**А**




**Б**



**В**

**Какие знаки разрешают движение со скоростью 60 км/ч?**

1. Только Б.
2. Б и В.
3. Ни один из знаков.




**Кто из водителей нарушил правила стоянки?**

1. Только водитель грузового автомобиля.
2. Водители мотоцикла и грузового автомобиля.
3. Все водители.
4. Никто не нарушил.



**Разрешено ли Вам въехать на мост одновременно с мотоциклистом, если Вы не затрудните ему движение?**

1. Да.
2. Нет.



**В каких направлениях Вам разрешено продолжить движение на перекрестке?**

1. Только В.
2. А или В.
3. Во всех, кроме Г.