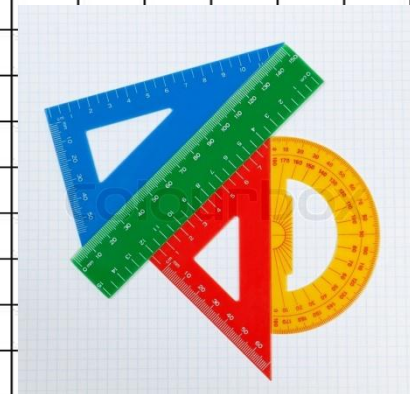




**Мы урок начнем с разминки,
Выпрямляем свои спинки,
На носочках потянулись,
Вправо-влево повернулись,
И друг другу улыбнулись.**

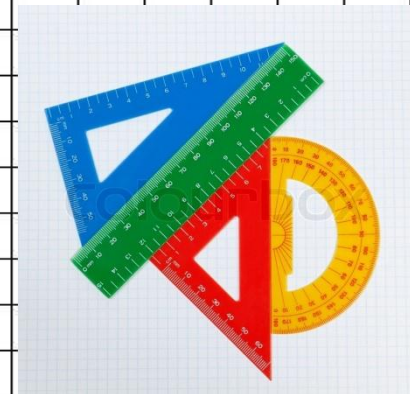
1,2,3,4,5-

Урок пора нам начинать.





Помогите Буратино:
посчитайте от 0 до 10,
посчитайте от 10 до 0.




0	1	2	3	3	4	5	7	9	8	10
---	---	---	---	---	---	---	---	---	---	----





Ответьте устно




Назовите число, следующее за числом 4.

Назовите число, стоящее перед числом 3.

Назовите соседей числа 6.


Назовите предыдущее число для числа 9.






Чтобы к числу прибавить 1,
надо назвать следующее за ним
число при счёте.

+1

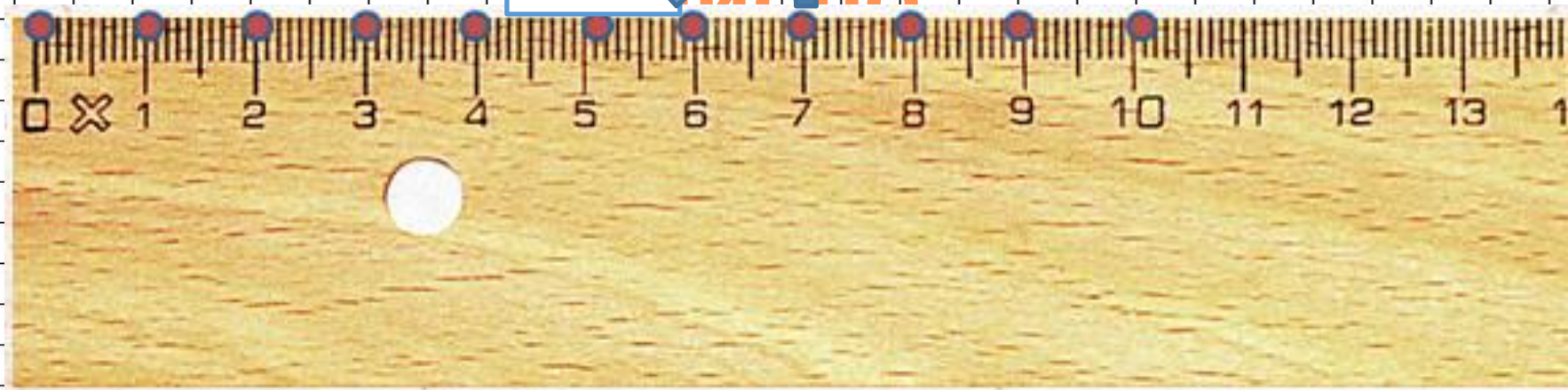




Чтобы из числа отнять 1,



надо на **-1** отнять предыдущее
число





Поработаем устно по учебнику
страница 80



$$\square + 1$$

$$\square - 1$$

Закончи предложения:

Чтобы к числу прибавить 1, надо назвать следующее за ним число при счёте.

Чтобы вычесть из числа 1, надо назвать ...

Спиши и вычисли. Запомни таблицы.

$$1 + 1 = 2$$

$$2 + 1 =$$

$$3 + 1 =$$

$$4 + 1 =$$

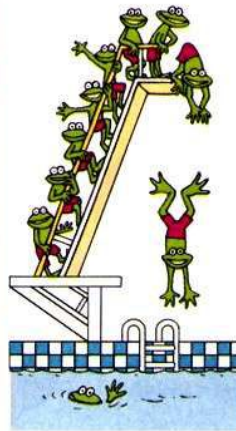
$$5 + =$$

$$6 + =$$

$$7 + =$$

$$8 + =$$

$$9 + 1 = 10$$



$$10 - 1 = 9$$

$$9 - 1 =$$

$$8 - 1 =$$

$$7 - =$$

$$6 - =$$

$$5 - =$$

$$4 - =$$

$$3 - =$$

$$2 - = 1$$

ПЛЮС:



МИНУС:



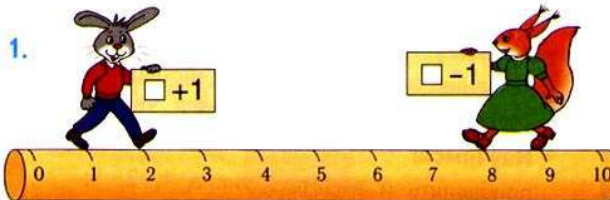
Запись $3 + 1 = 4$ можно прочитать так:

«Три плюс один равно четырём».

Запись $7 - 1 = 6$ можно прочитать так:

«Семь минус один равно шести».

1.




$$1 + 1 = 2$$

$$2 + 1 = \square$$

$$9 - 1 = 8$$

$$8 - 1 = \square$$





$$\square + 1$$

$$\square - 1$$

Закончи предложения:

Чтобы к числу прибавить 1, надо назвать следующее за ним число при счёте.

Чтобы вычесть из числа 1, надо назвать

Спиши и вычисли. Запомни таблицы.

$$1 + 1 = 2$$

$$2 + 1 =$$

$$3 + 1 =$$

$$4 + 1 =$$


$$5 + =$$

$$6 + =$$

$$7 + =$$

$$8 + =$$

$$9 + 1 = 10$$



$$10 - 1 = 9$$

$$9 - 1 =$$

$$8 - 1 =$$

$$7 - =$$

$$6 - =$$

$$5 - =$$

$$4 - =$$

$$3 - =$$

$$2 - = 1$$

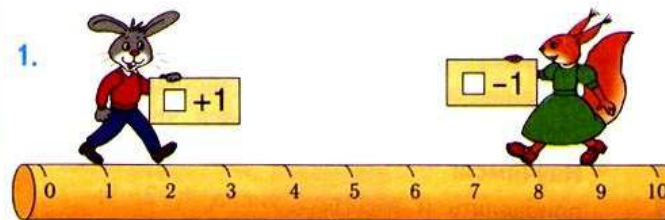
Запись $3 + 1 = 4$ можно прочитать так:

«Три плюс один равно четырём».

Запись $7 - 1 = 6$ можно прочитать так:

«Семь минус один равно шести».

1.



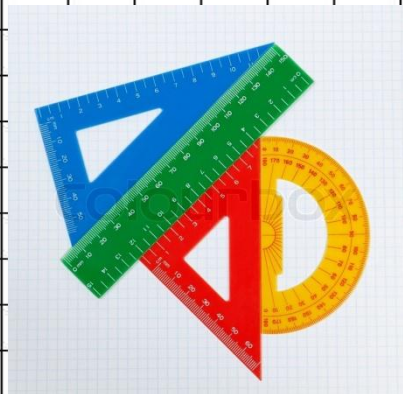
$$1 + 1 = 2$$

$$2 + 1 = \square$$

$$9 - 1 = 8$$

$$8 - 1 = \square$$


ПЛЮС:





Физминутка

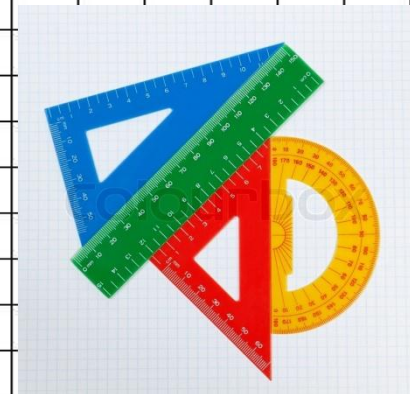
Буратино потянулся,
Раз-нагнулся, два-нагнулся,
Руки в стороны развел
Видно ключик не нашел.
Чтобы ключ ему достать,
Надо на носочки встать.
Крепче Буратино стой,
Вот он – ключик золотой.





Составь задачу по
решению.

$$8 + 1 =$$





В рабочей тетради откройте
страницу 29
Выполните все задания.

