

**Урок математики
УМК «Школа России»
1 класс**

«Числа 6 и 7. Письмо цифры 7»

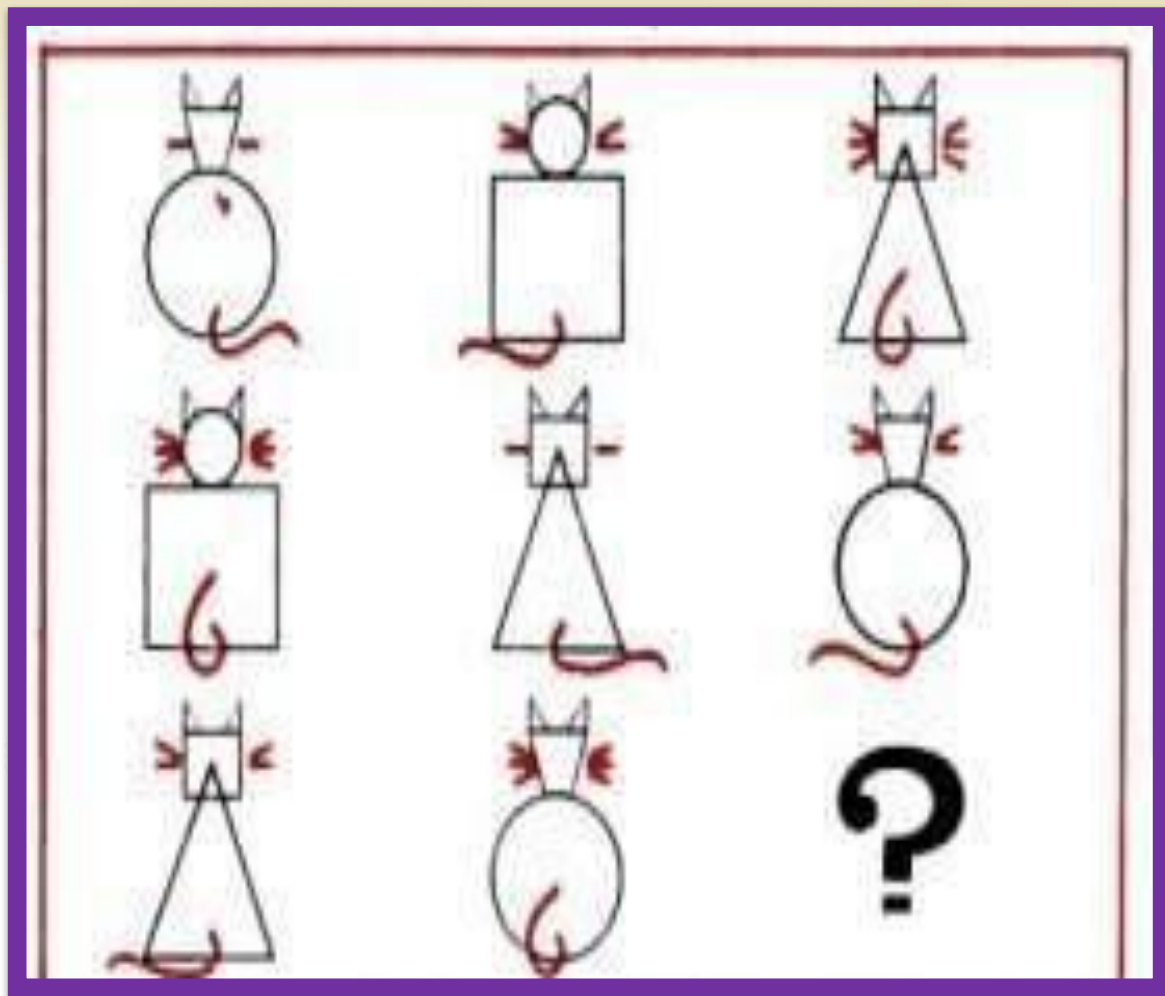


**Встало солнышко давно,
Заглянуло к нам в окно,
На урок торопит нас
Математика сей**



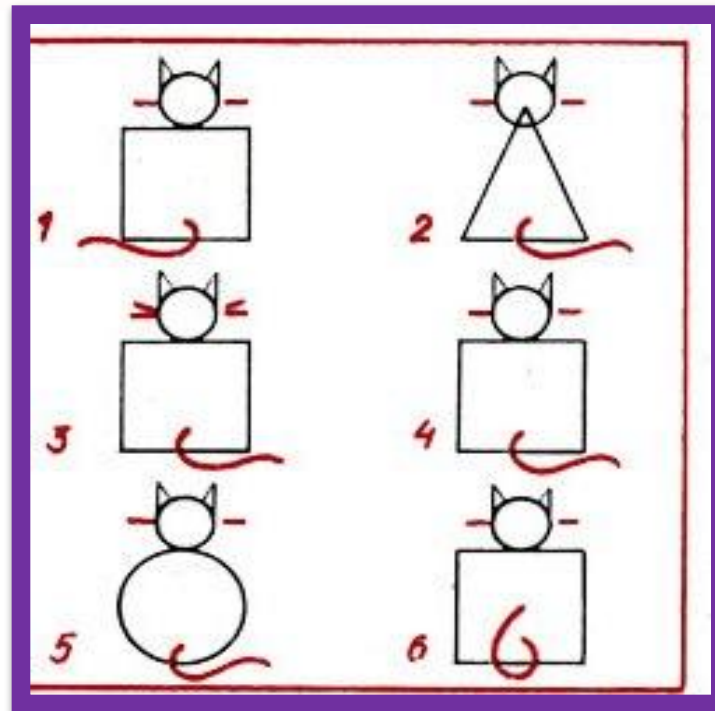
-Нарисуй недостающую кошечку.

-Понаблюдайте, что меняется?



(Форма туловища,
голова,
количество усов,
направление
хвоста)

- Какое туловище будет у кошечки?
- А голова?
- По сколько усов у кошечки?
- Сколько усов у недостающей кошечки?
- Понаблюдайте, куда направлен хвост у нарисованных кошечек?
- А куда должен быть направлен хвост у пропущенной кошечки?



1. Квадратное.
2. Круглая.
3. 1.
4. Вправо.

- Сколько дней в неделе?
- Назови первый день недели.
- Какой день будет после среды?
- Какой день будет перед субботой?
- Каким по счету днем недели является **воскресенье**?
- Какой день сегодня?
- Какой был вчера?
- Какой будет завтра?



Индивидуальная работа

Заполни пропуски

$$? + ? = 5$$

$$? + ? = 5$$

$$? + ? = 5$$

$$? + ? = 5$$

$$? + ? = 4$$

$$5 + ? = 6$$

$$? + ? = 4$$

$$? - 1 = 6$$

$$? + ? = 4$$

$$6 - 1 = ?$$

$$7 - ? = 4$$

$$? + 1 = 7$$



Поставьте нужные знаки

меньше



равно



больше



$3 \circ 4$

$4 \circ 3$

$4 \circ 6$

$1 \circ 6$

$3 \circ 7$

$2 \circ 5$



Поставьте нужные знаки

меньше



равно



больше



3	4	4	3
4	6	1	6
3	7	2	5



Работа по учебнику



★
СРАВНИ:


▲
●
◆
◆
●
●
▼

▲
◆
●
●
◆
▼

✖

1
2
3
4
5
6
7

Как можно получить число 6? число 7?



$5 + 1 = 6$
 $6 + 1 = 7$

$6 - 1 = 5$
 $7 - 1 = 6$

▲▲▲▲▲

6

■ ■ ■ ■ ■

5

● ● ● ● ● ● ●

7


● ● ● ● ●

4

●	●	●	●
●	●	●	●

6

6666 6666
 $1,2,3,4,5,6$



52

Работа по учебнику



Какое время показывают каждые часы?



Которым по счёту будет красный квадрат, если считать справа налево? синий квадрат? Сколько всего квадратов? Которым по счёту будет зелёный кружок, если считать слева направо?



В лесной школе белочка и заяц начертили по одной фигуре каждый. Эти фигуры были разными.



не стал чертить



не стала

чертить  и . Кто какую фигуру на- чертил?

«Проверочные работы», с. 12, 13.



КАКОЕ
НЕРАВЕНСТВО
ПРОПУЩЕНО?

$6 > 5$
 $5 > 4$
 $4 > 3$
 $2 > 1$



Самостоятельная работа с самопроверкой

$6 - 1 =$

$7 - 2 =$

$2 + 5 =$

$7 - 3 =$

$6 + 0 =$

$7 - 4 =$

$5 - 4 =$

$5 + 1 =$

$7 - 2 =$

$2 + 5 =$

$6 - 1 =$

$5 - 2 =$

$6 - 5 =$

$3 + 4 =$

$5 - 1 =$

$6 - 0 =$

$1 + 6 =$

$7 - 2 =$



Работа по учебнику стр. 54



К шести прибавить 1 получится .
Из семи вычесть 1 получится .

$5 + 1 = \square$ $6 - 1 = \square$
 $6 + 1 = \square$ $7 - 1 = \square$

Сколько вагонов в каждом поезде? В каком из них больше вагонов и на сколько?

$7 - 1 = \square$ $5 - \square = 4$ $\square - 1 = 2$
 $6 - 1 = \square$ $4 - \square = 3$ $\square - 1 = 1$

Карточки с какими числами перевернуть?

777 777
1,2,3,4,5,6,7

54

Молодцы!

