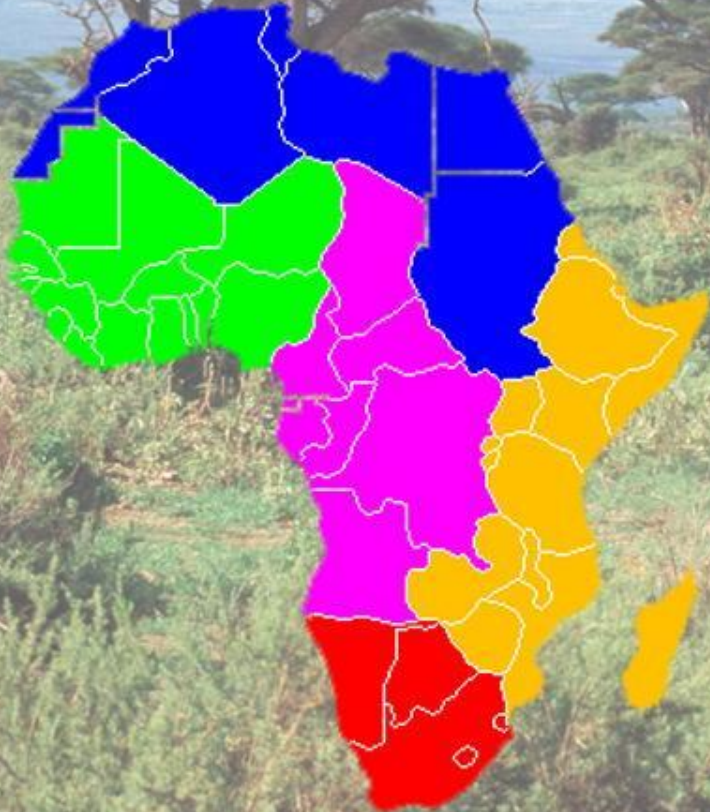


Южная Африка



Задание 1 (устное). По климатической карте проследить изменение климата в Южной Африке с севера на юг и с востока на запад (атлас, с. 25).

Задание 2 (устное). Проследить чередование природных зон в Южной Африке по карте атласа (атлас, с. 15).


Задание 3 (письменное). Выписать в тетрадь государства Южной Африки, с указанием столиц, используя карты атласа (или из учебника с. 121).



ЮАР

(Южно-Африканская республика)

Столица -
Претория



Южно-Африканская Республика (ЮАР) (африкаанс *Republiek van Suid-Afrika*; англ. *Republic of South Africa*) — государство, расположенное в южной части Африканского континента.

Длина береговой линии составляет 2 798 км. ЮАР имеет площадь 1 219 090 км², страна является 24-й по площади в мире (после Мали).




**Особенности рельефа и
полезные ископаемые с. 136**

Климат и внутренние воды с. 136



Природные зоны с. 137



Население и хозяйство страны

с. 137-138

По численности населения Южно-Африканская республика находится на 25-м месте в мире — в общей сложности в стране проживает 49,1 млн человек.

Религиозный состав:

христиане-сионисты (11,1 %),
пятидесятники (8,2 %),
католики (7,1 %),
методисты (6,8 %),
голландские реформисты (6,7 %),
англикане (3,8 %),
другие христиане (36 %),
мусульмане (1,5 %),
приверженцы других религий (2,3 %),
неопределившиеся (1,4 %),
атеисты (15,1 %).



Домашнее задание

- Прочитать параграф 26 (с. 134 – 138)
- Ответить письменно на вопросы с. 138 1,3.
- Посмотреть видеофильм ЮАР.

