

**Победа греков над  
персами в  
Марафонской  
битве.**

# План:

- 1. Над греками нависла угроза порабощения.
- 2. Марафонская битва.
- 3. Причины победы греков.

# Проверка Д.3.

- Как часто проходили Олимпийские игры?
- Кто принимал участие в состязаниях?
- Как готовились спортсмены?
- По каким видам спорта шло состязание?
- Как чествовали победителей Олимпийских игр?

Вспомните где находилась территория, на которой проживали племена персов?  
Какие крупные государства покорили персы?  
Кто был самым могущественным царём Персидской державы?  
Какие государства Балканского полуострова покорили персы?  
Почему персы стремились к новым завоеваниям?





# 1. Над греками нависла угроза порабощения.


- Персидский царь Дарий отправляет своих послов в города Греции с требованием покориться Персидской державе. Жители многих полисов решили покориться Персии. Лишь в двух крупнейших городах Афинах и Спарте отказались.



Прочитайте учебник  
п. 1.

Как поступили с  
персидскими послами в  
Афинах и в Спарте?

- Царь Дарий отправил военный флот для покорения Эллады.



# 2. Марафонская битва.

- Летом 490 года до н.э. в Марафонской бухте показали корабли персов.





# На должность стратега народное собрание избрало Мильтиада.

- Запишите в тетрадь: стратег –по-гречески «военачальник».
- От Марафона до Афин около 40 км.
- Мильтиад преградил путь врагам на Афины. Но сойти с холмов на равнину поостерегся.
- Персидский военачальник не смог выманить греков на равнину, где преимущества получала бы персидская конница. Тогда он решился на опасный шаг.

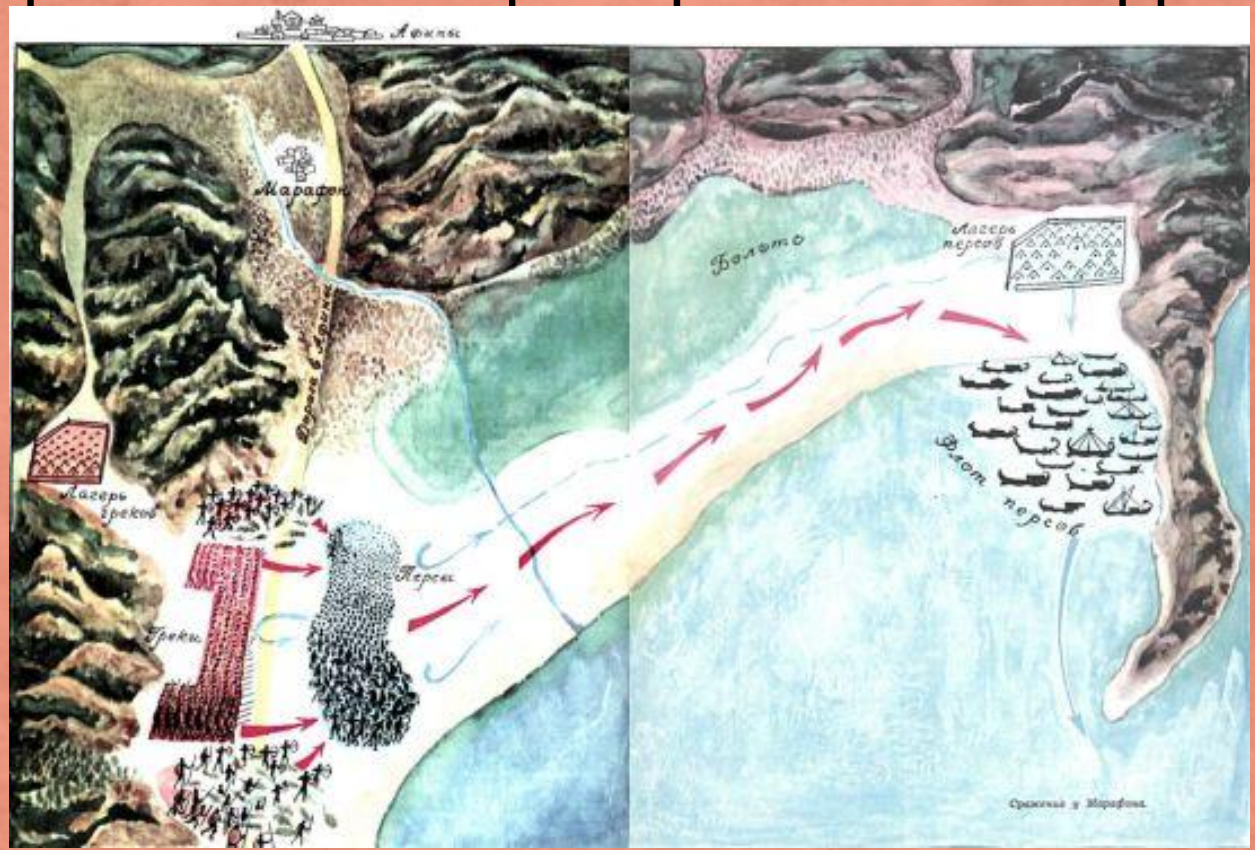
**Часть персидского войска ночью , включая конницу была посажена на корабли, чтобы обогнув Аттику ворваться в беззащитные Афины.**

**Другая часть войска осталась в Марафонской равнине.**

**Узнав об этом Мильтиад отважился на сражение.**




Вследствие численного превосходства персов и значительной ширины долины Мильтиад не мог дать своей фаланге необходимой глубины. Кроме того, он учитывал возможность охвата своих флангов персидской конницей. Поэтому он уменьшил количество шеренг в центре и соответственно увеличил число шеренг на флангах. Общее протяжение фронта достигало примерно 1 км.



Чтобы не дать персидской коннице времени атаковать греков на равнине и чтобы вслед за стрельбой из луков непосредственно перейти к рукопашному бою, Мильтиад двинулся с высот на неприятеля "беглым маршем". "Беглый марш" позволял быстро преодолевать поражаемое стрелами пространство и морально действовал на противника.



Персам удалось прорвать боевую линию греков в центре, но края устояли. Когда же персы бросились вглубь к греческому лагерю греки напали на персов сзади. Персы обратились в бегство.



Афиняне завладели семью кораблями. На остальных кораблях персы отплыли в море, стремясь достичь Афин раньше, чем это сделает греческое войско. Афиняне также устремились в город и, опередив противника, достигли его раньше, чем персидское войско. Мильтиад расположил свое войско на восточной стороне Афин. Персы, подойдя на своих кораблях к Фалеру (Фалер был тогда гаванью афинян) и увидев, что афинское войско стоит у города и готово к битве, не отважились высадиться. Персидский флот повернул назад и поплыл обратно в Азию.



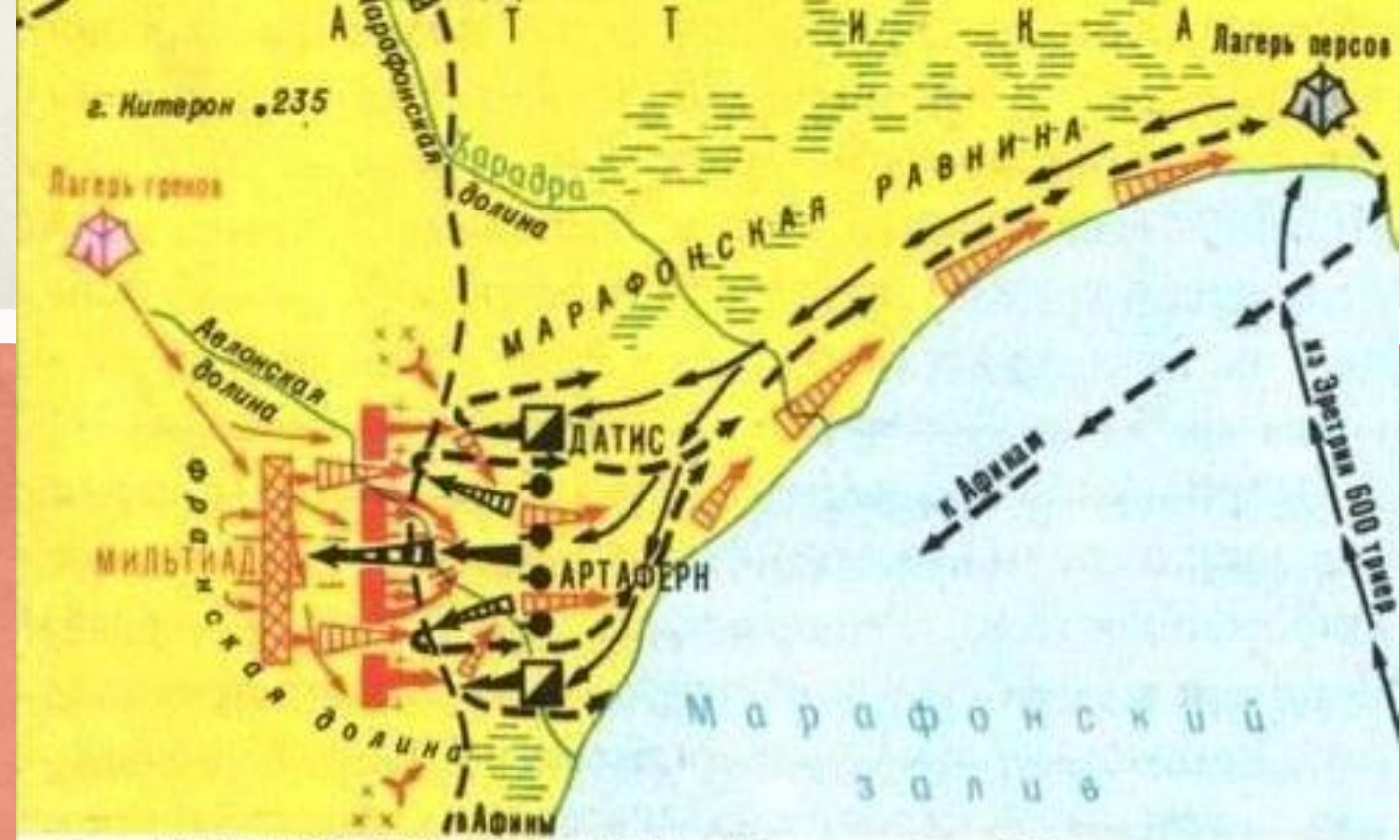
- Картина, изображающая Фидиппида, который приносит весть о победе в Марафонской битве.

По легенде после победы над персами в Афины был **отправлен гонец со счастливой вестью**. Этот гонец по имени Фидиппид бежал без остановки **42 километра 195 метров**, выкрикнул: *«Радуйтесь, афиняне, мы победили!»* - и упал замертво.

Теперь установлено: марафонский бегун - это всего лишь легенда, которую мы знаем со слов Плутарха. На самом деле гонец Фидиппид бегал не в Афины, а гораздо дальше, в Спарту, за подкреплением (**230 км.**), по дороге позволял себе время от времени отдохнуть, остался жив, но спартанцы на помощь афинянам опоздали.



В бою греки потеряли 192 человека, персы — 6 400 человек.



**МАРАФОНСКАЯ БИТВА 13 сентября 490 г. до н. э.**

- |   |   |
|---|---|
| <p>Передвижение войск</p> <p>→ греческих</p> <p>← персидских</p> <p>Положение войск сторон перед битвой</p> <p>■ греческих</p> <p>● персидских</p> <p>× Засеки и завалы</p> <p>▲ Атаки греческими войсками персидских войск</p> | <p>← Контратака персидских войск</p> <p>← Прорыв персидскими лучниками центра греческой фаланги</p> <p>→ Отход греческих войск</p> <p>▲ Атака греческими войсками персидских лучников и разгром их</p> <p>→ Отступление персидских войск и преследование их греческими войсками</p> |
|---|---|

## В чем значение победы афинян в Марафонской битве?



- ◆ персы перестали считаться непобедимыми
- ◆ победа в Марафонской битве воодушевила греков на борьбу

В Марафонской битве греки дали первый отпор персам. На месте сражения на Марафонском поле, рядом с братской могилой воинов, павших за родину, был воздвигнут памятник в честь вождя греков Мильтиада. Сцены из марафонской битвы были изображены в одном из портиков, находившихся на главной площади Афин.



# Начинаем заполнение таблицы в тетрадах. «Греко-персидские войны».

Дата	Сражение	Результаты сражения
1) 490г. До н.э.	Марафонская битва	Победа греков

Д. з. § 34, ответить на вопросы к параграфу,  
Заканчиваем заполнение таблицы.