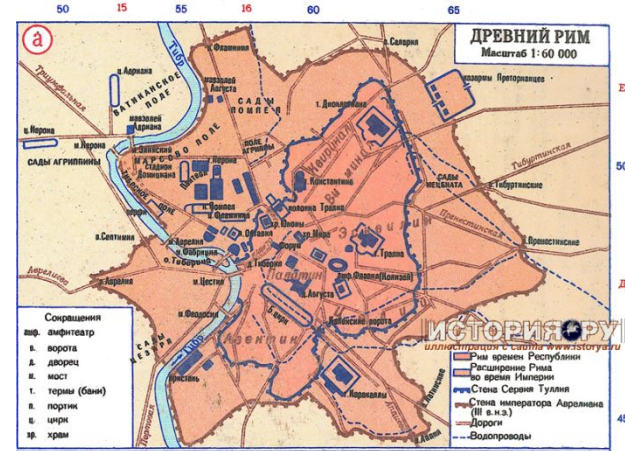
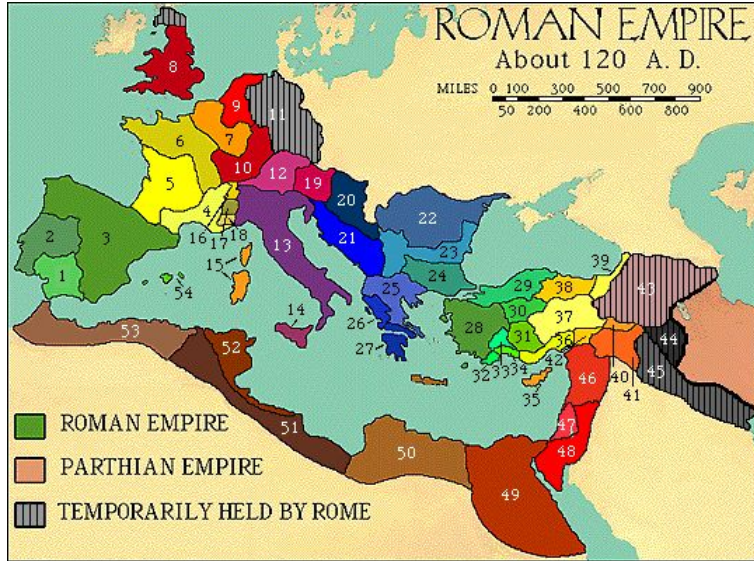




# ДРЕВНИЙ РИМ




# 1. СООТНЕСИТЕ НАЗВАНИЕ СООРУЖЕНИЯ И ЕГО ИЗОБРАЖЕНИЕ (НА КАЖДОМ СЛАЙДЕ — ОДНО СООРУЖЕНИЕ В РАЗНЫХ РАКУРСАХ ИЛИ РЕКОНСТРУКЦИЯХ)


- А. Термы Каракалы
- Б. Аппиева дорога
- В. Колизей
- Г. Римский Форум
- Д. Пантеон
- Е. Колонна Трояна
- Ж. Акведук




## 2. СООТНЕСИТЕ НАЗВАНИЕ СООРУЖЕНИЯ И ЕГО ИЗОБРАЖЕНИЕ



- А. Термы Каракалы
- Б. Аппиева дорога
- В. Колизей
- Г. Римский Форум
- Д. Пантеон
- Е. Колонна Трояна
- Ж. Акведук



### 3. СООТНЕСИТЕ НАЗВАНИЕ СООРУЖЕНИЯ И ЕГО ИЗОБРАЖЕНИЕ



- А. Термы Каракалы
- Б. Аппиева дорога
- В. Колизей
- Г. Римский Форум
- Д. Пантеон
- Е. Колонна Трояна
- Ж. Акведук



## 4. СООТНЕСИТЕ НАЗВАНИЕ СООРУЖЕНИЯ И ЕГО ИЗОБРАЖЕНИЕ

- А. Термы Каракалы
- Б. Аппиева дорога
- В. Колизей
- Г. Римский Форум
- Д. Пантеон
- Е. Колонна Трояна
- Ж. Акведук



## 5. СООТНЕСИТЕ НАЗВАНИЕ СООРУЖЕНИЕ И ЕГО ИЗОБРАЖЕНИЕ




- А. Термы Каракалы
- Б. Аппиева дорога
- В. Колизей
- Г. Римский Форум
- Д. Пантеон
- Е. Колонна Трояна
- Ж. Акведук



## 6. СООТНЕСИТЕ НАЗВАНИЕ СООРУЖЕНИЯ И ЕГО ИЗОБРАЖЕНИЕ



- А. Термы Каракалы
- Б. Аппиева дорога
- В. Колизей
- Г. Римский Форум
- Д. Пантеон
- Е. Колонна Трояна
- Ж. Акведук



## 7. СООТНЕСИТЕ НАЗВАНИЕ СООРУЖЕНИЯ И ЕГО ИЗОБРАЖЕНИЕ

- А. Термы Каракалы
- Б. Аппиева дорога
- В. Колизей
- Г. Римский Форум
- Д. Пантеон
- Е. Колонна Трояна
- Ж. Акведук





ОТВЕТЫ:

