

Историческая география. Темы 21-25:

Тема 21. Российская империя в период правления Александра III (1881-1894 гг.)

Тема 22. Российская империя в 1894-1907 гг. Первая русская революция 1905-1907 гг.

Тема 23. Российская империя в 1907-1914 гг. Столыпинская аграрная реформа.

Тема 24. Россия в Первой мировой войне 1914-1918 гг. Революция 1917 г. Свержение монархии.

Тема 25. Октябрьская революция и гражданская война в России (1917-1921 гг.)

Автор разработки: Маховиков Д.В. https://vk.com/d_makhovikov

Сообщество для подготовки к ЕГЭ по истории: <https://vk.com/clubege2019history>




№ 13. Заполните пропуск в предложении (укажите десятилетие): «Начало строительства железнодорожной магистрали, на которой находится город под цифрой «4», относится к 18_____ -м годам».

№ 14. Запишите название города под цифрой «3», являвшегося в 1727-1729 гг. местом ссылки А.Д. Меншикова.

№ 15. Запишите название государства, отмеченного на карте цифрой «6».

№ 16. Какие суждения, относящиеся к схеме, являются верными? Выберите три суждения из шести предложенных.

- 1) Большая часть территорий, отмеченных на карте цифрой «1», в настоящий момент входят в состав Российской Федерации.
- 2) Все территории, заштрихованные на карте, вошли в состав Российской империи в период правления одного императора.
- 3) Варшава входила в состав Российской империи в конце XIX в.
- 4) Часть территорий Закавказья были присоединены Российской империей в результате войн с государством под цифрой «6».
- 5) Под цифрой «2» на карте отмечен город Смоленск.
- 6) Российская империя не имела общей границы с Афганистаном в начале XIX в.





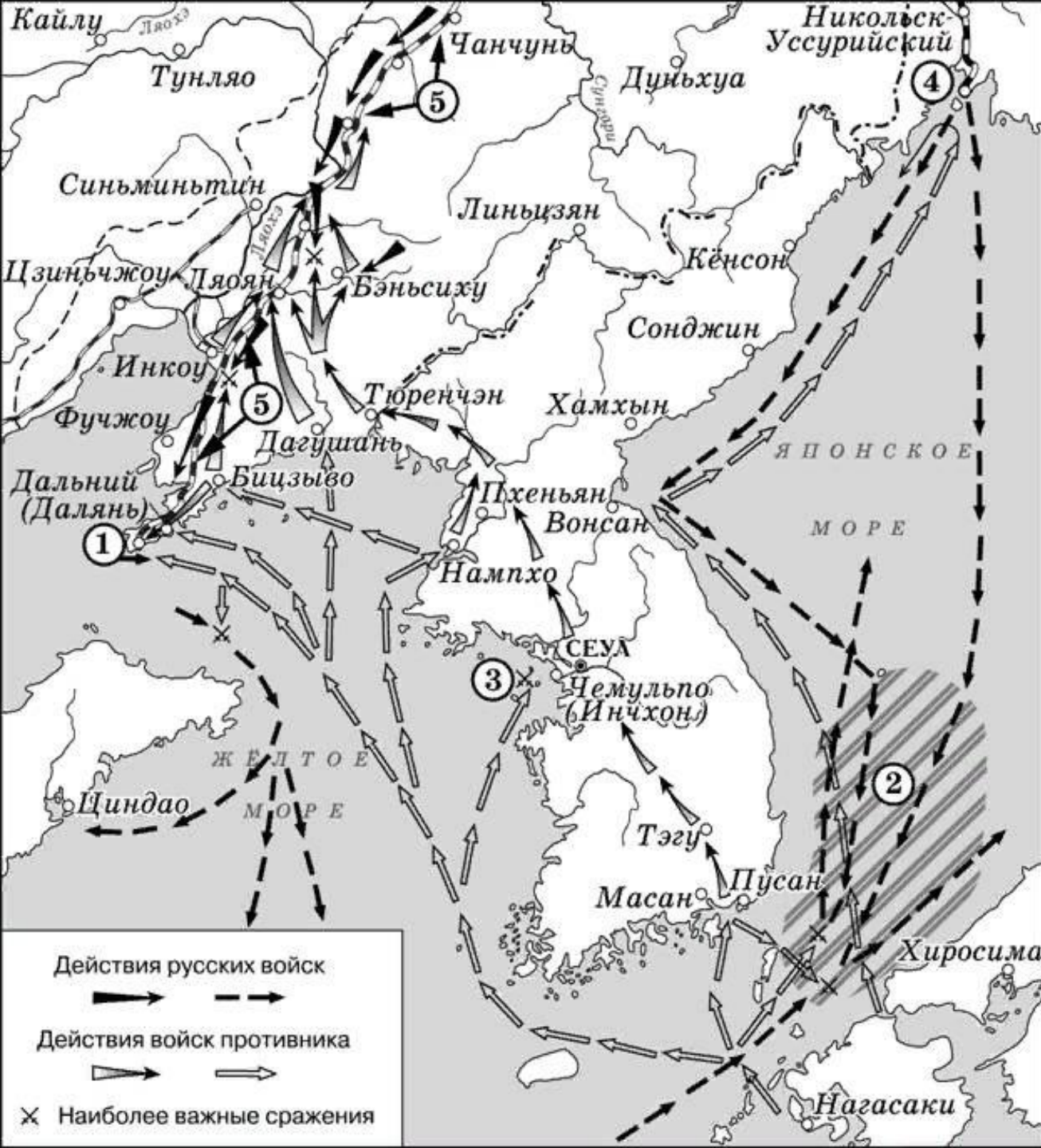
№ 13. Заполните пропуск в предложении:
«Строительство железной дороги, обозначенной на
схеме, началось в тысяча восемьсот _____ годах»
(укажите десятилетие).

№ 14. Укажите название войны, в ходе которой
проходила пятимесячная оборона города-порта,
обозначенного на схеме цифрой «3».

№ 15. Укажите название города, отмеченного на карте
под цифрой «1».

№ 16. Какие суждения, относящиеся к событиям,
представленным на схеме, являются верными?
Выберите три суждения из шести предложенных.

- 1) Строительство железной дороги, представленной на
схеме, полностью завершилось лишь к середине XX в.
- 2) Цифрой «1» на схеме обозначен город, в котором
отбывали наказание декабристы в виде каторжных работ.
- 3) Строительство южной ветки железнодорожной
магистрали, обозначенной на схеме цифрой «2»,
способствовало обострению отношений России и Японии.
- 4) Граница российских владений, обозначенная на схеме,
проходящая по реке Амуру, была определена Айгунским и
Пекинским договорами.
- 5) Цифрой «3» на схеме обозначен порт, являвшийся на
рубеже XIX–XX вв. базой русского тихоокеанского флота и
мужественно оборонявшийся во время русско-японской
войны.
- 6) Город, обозначенный на схеме цифрой «4», был
основан в XX в.



№ 13. Заполните пропуск в предложении: «Военные действия, обозначенные на схеме, завершились в тысяча девятьсот _____ году». Ответ запишите словом.


№ 14. Укажите название города, обозначенного на схеме цифрой «4».


№ 15. Укажите название сражения, район которого обозначен на схеме цифрой «2».


№ 16. Какие суждения, относящиеся к схеме, являются верными? Выберите три суждения из шести предложенных.


- 1) Сражение, обозначенное на схеме цифрой «3», произошло в первые дни войны.
- 2) Из-за объекта, обозначенного на схеме цифрой «5», в 1969 г. произошёл военный конфликт между СССР и Китаем.
- 3) В сражении, район которого обозначен на схеме цифрой «2», российским флотом командовал С.О. Макаров.
- 4) На схеме обозначены города, подвергшиеся атомной бомбардировке США в августе 1945 г.
- 5) Город, обозначенный на схеме цифрой «1», российские войска обороняли более месяца.
- 6) Война, события которой отражены на схеме, укрепила авторитет государственной власти в России.





 Положение русских войск и флота к началу войны


 Нападение японского флота на русскую эскадру

 Действия японской армии и флота

 Действия русских войск и флота

 Важнейшие сражения на море и суше

 Прорыв части русской эскадры в ходе сражения

 Положение русских и японских войск к концу войны

№ 13. Заполните пропуск в предложении. «Корабли противника напали на город, обозначенный на схеме цифрой «1», в январе 19_____ года.

№ 14. Укажите название города, обозначенного на схеме цифрой «3».

№ 15. Заполните пропуск в предложении: «В сражении, обозначенном на схеме цифрой «4», приняли участие корабли российского флота: канонерская лодка «Кореец» и крейсер «_____»

№ 16. Какие суждения, относящиеся к схеме, являются верными? Выберите три суждения из шести предложенных.

- 1) В сражении, обозначенном на схеме цифрой «2», российский и японский флоты понесли примерно равные потери.
- 2) В сражении около города, обозначенного на схеме цифрой «6», российскими войсками командовал вице-адмирал Степан Макаров.
- 3) К концу войны, события которой отражены на схеме, российские войска отошли к городу Сыпин.
- 4) На схеме обозначены все территории, потерянные Российской империи в соответствии с условиями мирного договора, заключенного по итогам войны.
- 5) На территории, обозначенной на схеме римской цифрой «I», произошел один из первых военных конфликтов времен Холодной войны.
- 6) На схеме обозначены города, подвергшиеся атомной бомбардировке США в августе 1945 г.



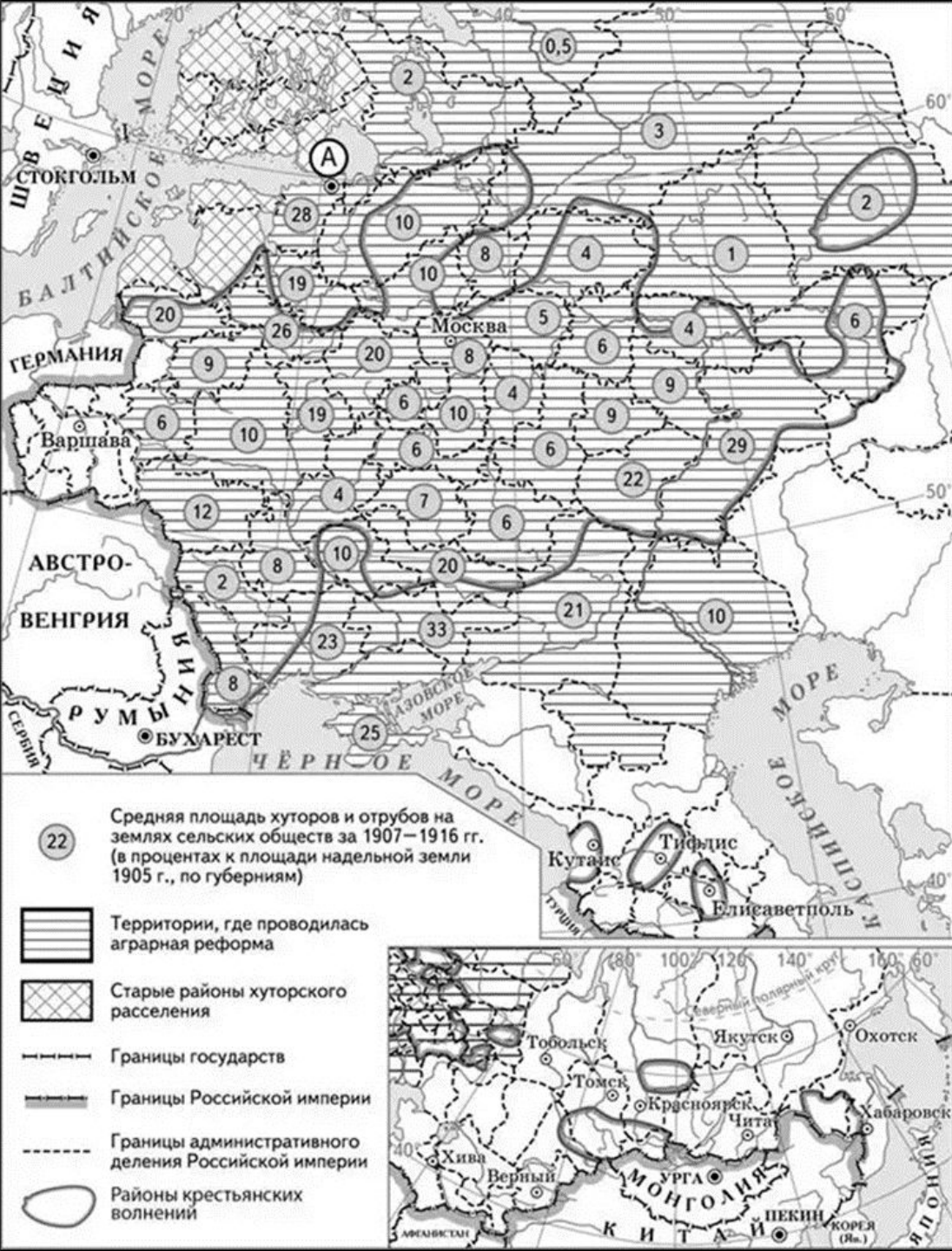
№ 13. Заполните пропуск в предложении: «События, отражённые на схеме, начались в тысяча девятьсот _____ году».

№ 14. Укажите название города, обозначенного на схеме цифрой «1».

№ 15. Укажите монарха, в период правления которого в состав Российской империи вошел город, отмеченный на карте цифрой «3».

№ 16. Какие суждения, относящиеся к событиям, обозначенным на схеме, являются верными? Выберите три суждения из шести предложенных.

- 1) Город под цифрой «5» вошел в состав Российской империи при Николае I.
- 2) Город под цифрой «1» был центром крупного вооруженного восстания в ходе событий, отраженных на схеме.
- 3) Город под цифрой «4» был взят мятежниками в ходе восстания Степана Разина 1670–1671 гг.
- 4) Город под цифрой «3» в советские времена являлся столицей Азербайджанской ССР.
- 5) На карте отражены события революции 1917 г. в России.
- 6) В период отраженных на карте событий Россия принимала участие в Первой мировой войне.



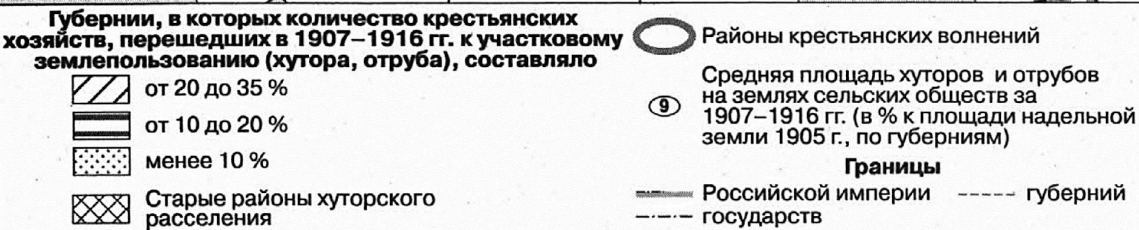
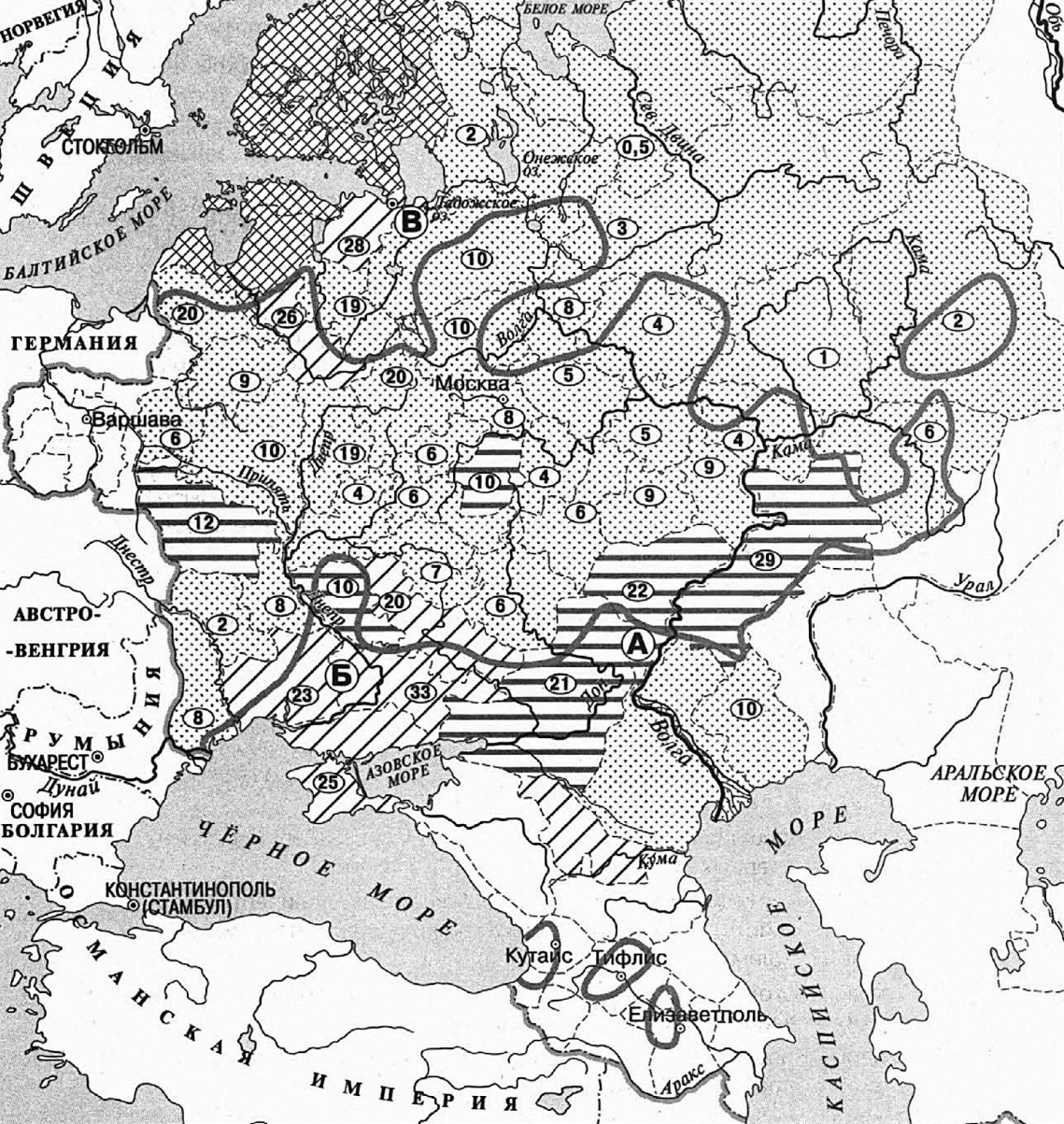
№ 13. Укажите фамилию государственного деятеля – инициатора реформы, ход которой представлен на схеме.

№ 14. Заполните пропуск в предложении: «Одной из целей реформы, которой посвящена схема, было разрушение крестьянской _____ и предоставление земли крестьянам в частную собственность».

№ 15. Укажите название города, обозначенного на схеме буквой «А», в период, когда проводилась реформа, которой посвящена схема.

№ 16. Какие суждения, относящиеся к схеме, являются верными? Выберите три суждения из шести предложенных.

- 1) Одной из причин проведения данной реформы стал революционный кризис в России.
- 2) На территории Кавказа в 1901–1907 гг. не происходило крестьянских волнений.
- 3) Последствием реформы, ход которой представлен на схеме, стала отмена временнообязанного состояния крестьян.
- 4) Территория Крыма стала одной из областей, в которых средняя площадь хуторов и отрубов на землях сельских обществ в 1907–1916 гг. превысила 20%.
- 5) Реформа, ход которой представлен на схеме, проводилась на всех без исключения территориях, входивших в состав Российской империи.
- 6) Территории Прибалтики и Финляндии относились к районам, где хуторское расселение появилось ранее 1907 г.



№ 13. Заполните пропуск в предложении. «Указ, положивший начало реформе, ход которой отражен на данной схеме, был издан в 19_____ году».

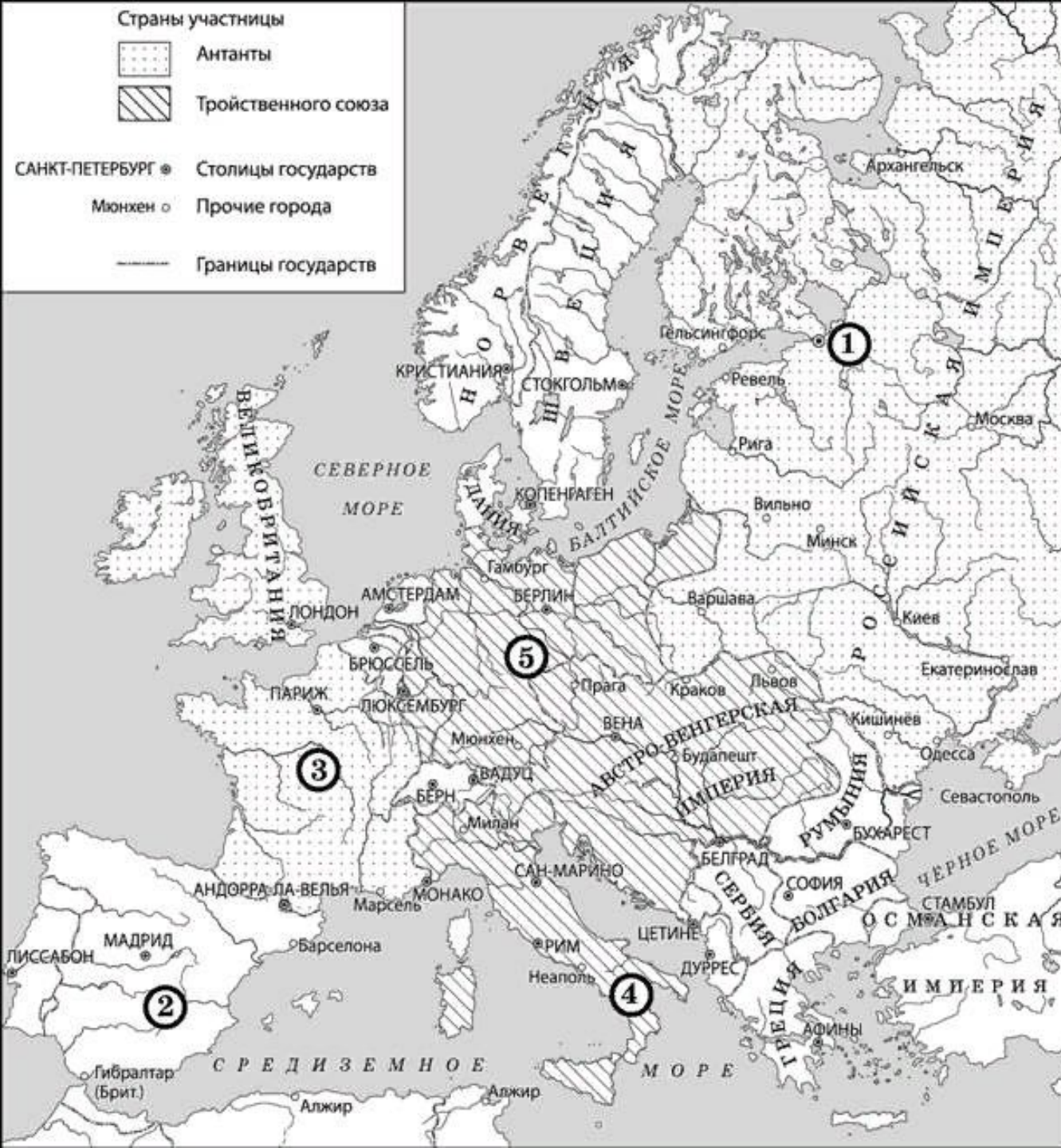
№ 14_1. Укажите фамилию председателя Совета министров Российской империи – инициатора и руководителя реформы, ход которой отражен на данной схеме.

№ 14_2 Заполните пропуск в предложении: «Согласно схеме, старыми районами хуторского расселения являлись территории Прибалтики и _____»

№ 15. Заполните пропуск в предложении: «Согласно схеме, в нижнем течении реки Волги максимальный показатель средней площади хуторов и отрубов составил _____ % к площади наделной земли в губернии».

№ 16. Какие суждения, относящиеся к схеме, являются верными? Выберите четыре суждения из восьми предложенных.

- 1) Реформа, ход которой отражен на схеме, стала одним из последствий революции, начало которой положило событие, произошедшее в городе, обозначенном буквой «В».
- 2) Согласно схеме, переход крестьян на хутора и отруба охватил всю территорию Российской империи.
- 3) Территория Крыма стала одной из областей, в которых было наиболее значительное количество крестьянских хозяйств, перешедших к участковому землепользованию.
- 4) Средняя площадь хуторов и отрубов, согласно схеме, была наименьшей в северных губерниях Российской империи.
- 5) В губерниях, обозначенных на схеме буквой «А», количество крестьянских хозяйств, перешедших к участковому землепользованию, было наименьшим.
- 6) Согласно схеме, на территории Закавказья не происходило крестьянских волнений, вызванных реформой.
- 7) Граница Российской империи, обозначенная на схеме, установилась в годы правления Екатерины II.
- 8) В губерниях, обозначенных на схеме буквой «Б», количество крестьянских хозяйств, перешедших к участковому землепользованию, было наибольшим.



№ 13. Укажите век, к началу которого относится внешнеполитическая ситуация, отражённая на схеме.

Ответ запишите словом.

№ 14. Назовите государство, отмеченное на карте цифрой «2».

№ 15. Укажите название государства, отмеченного на карте цифрой «3».

№ 16. Какие суждения, относящиеся к схеме, являются верными? Выберите три суждения из шести предложенных.

- 1) Государство, отмеченное на карте цифрой «4», принимало участие в Первой мировой войне на стороне Антанты.
- 2) Государство, отмеченное на карте цифрой «5», прекратило свое существование в результате Первой мировой войны.
- 3) Львов в период, отраженный на карте, входил в состав Австро-Венгрии.
- 4) Когда началась Первая мировая война, город под цифрой «1» был переименован в Ленинград.
- 5) На момент внешнеполитической ситуации, отраженной на карте, Великобритания не входила ни в один из военных блоков.
- 6) Государство под цифрой «5» имело республиканское устройство в период, к которому относится внешнеполитическая ситуация, отраженная на схеме.



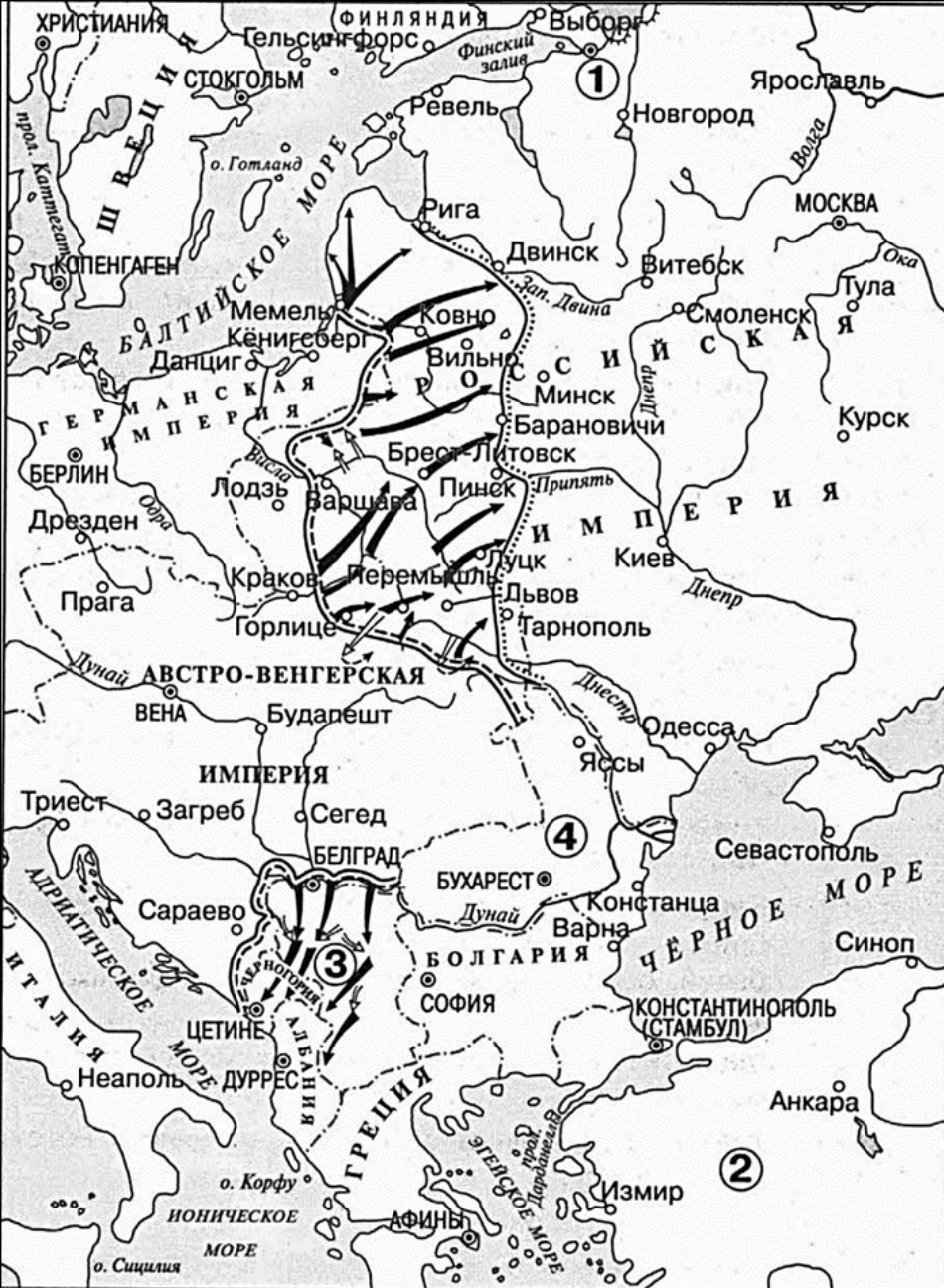
№ 13. Укажите название войны, в ходе которой произошли события, обозначенные на схеме.

№ 14. Укажите название города, обозначенного на схеме цифрой «2», в период, когда происходили события, которым посвящена схема.

№ 15. Укажите название государства, обозначенного на схеме цифрой «3», в период, когда происходили события, которым посвящена схема.

№ 16. Какие суждения, относящиеся к исторической ситуации, обозначенной на схеме, являются верными? Выберите три суждения из шести предложенных.

- 1) Действия войск противника Российской империи, обозначенные на схеме, стали причиной событий, вошедших в историю как «Великое отступление» русской армии.
- 2) После окончания данной войны город, обозначенный на схеме цифрой «1», стал столицей независимого государства.
- 3) Государство, территория которого обозначена на схеме цифрой «4», вступило в данную войну на стороне Германии.
- 4) Государство, территория которого обозначена на схеме цифрой «5», вступило в данную войну в год её начала.
- 5) В год, к которому относятся события, обозначенные на схеме, противник России занял г. Бердичев.
- 6) Участником событий, обозначенных на схеме стрелками, был генерал М.Д. Скобелев.



№ 13. Заполните пропуск в предложении: «События, обозначенные на схеме стрелками, относятся к 19 _____ году».

№ 14_1. Укажите название государства, обозначенного на схеме цифрой «3».

№ 14_2. Укажите название города, обозначенного цифрой «1», в период событий, которым посвящена схема.

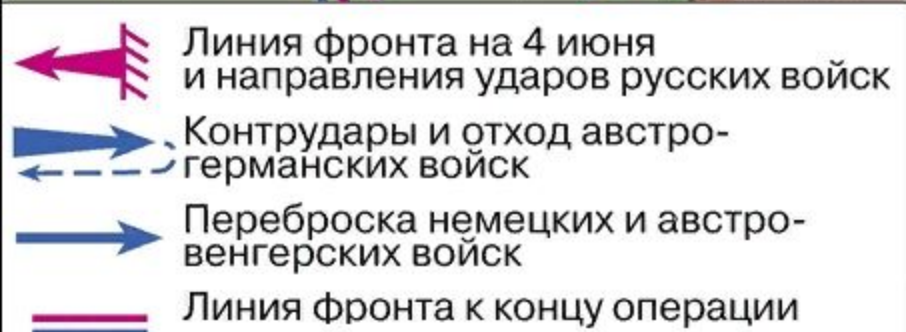
№ 15_1. Укажите название военного блока, в который входила Россия, в период событий, которым посвящена схема.

№ 15_2. Назовите правителя России в период, когда произошли события, обозначенные на схеме.

№ 16. Какие суждения, относящиеся к схеме, являются верными? Выберите четыре суждения из десяти предложенных.

- 1) На схеме обозначен город, где произошло событие, ставшее поводом к войне, которой посвящена схема.
- 2) Государство, территория которого обозначена цифрой «2», вступило в войну в том же году, к которому относятся отраженные на схеме события.
- 3) Государство, территория которого обозначена на схеме цифрой «4», вступило в войну на стороне России.
- 4) В ходе наступления, обозначенного на схеме, противник России захватил Брест-Литовск.
- 5) В ходе наступления, обозначенного на схеме, противник России захватил Киев.
- 6) На схеме обозначен город, где в период Смутного времени было сформировано Второе ополчение.
- 7) Современником событий, обозначенных на схеме, был Петр Столыпин.
- 8) В период событий, обозначенных на схеме, Финляндия входила в состав России.
- 9) В период, когда произошли обозначенные на схеме события, столицей России была Москва.
- 10) На данной схеме представлены действия противников России только против русских войск.

<p>Действия</p> <p>← русские войс и их союзников</p> <p>← германских войс и их союзников</p>	<p>--- Линии фронтов в разные периоды боевых действий</p> <p>- - - - - Границы государств</p>
---	---



Масштаб 1:2 000 000

№ 13. Укажите название города под цифрой «2», с наступления на которого началось успешное осуществление операции.

№ 14. Укажите название государства под цифрой «1».

№ 15. Заполните пропуск. «События, отраженные на карте, произошли летом тысяча девятьсот _____ года»

№ 16. Какие суждения, относящиеся к событиям, отраженным на карте, являются верными? Выберите три суждения из шести предложенных.

- 1) Главнокомандующим всеми фронтами российской армии в ходе наступления, отраженного на карте, был великий князь Николай Николаевич.
- 2) Командующим юго-западного фронта, перешедшего в наступление, отраженное на карте, был Антон Деникин.
- 3) Наступление юго-западного фронта не было поддержано остальными фронтами российской армии.
- 4) В ходе событий, отраженных на карте, в Таврическом дворце работала Государственная дума IV созыва.
- 5) Следствием наступательной операции, отраженной на карте, было заключение мирного договора между Россией и государством под цифрой «1».
- 6) Активным участником событий, отраженных на карте, являлся генерал Алексей Брусилов.



Линии фронта

- | | | | |
|-------|----------------------|-------|-------------------|
| ===== | до 4.06 | ===== | по окончании боёв |
| +++++ | 16.06 | | |
| ↖ ↗ | Направление прорывов | | |
| ----- | Границы государств | | |

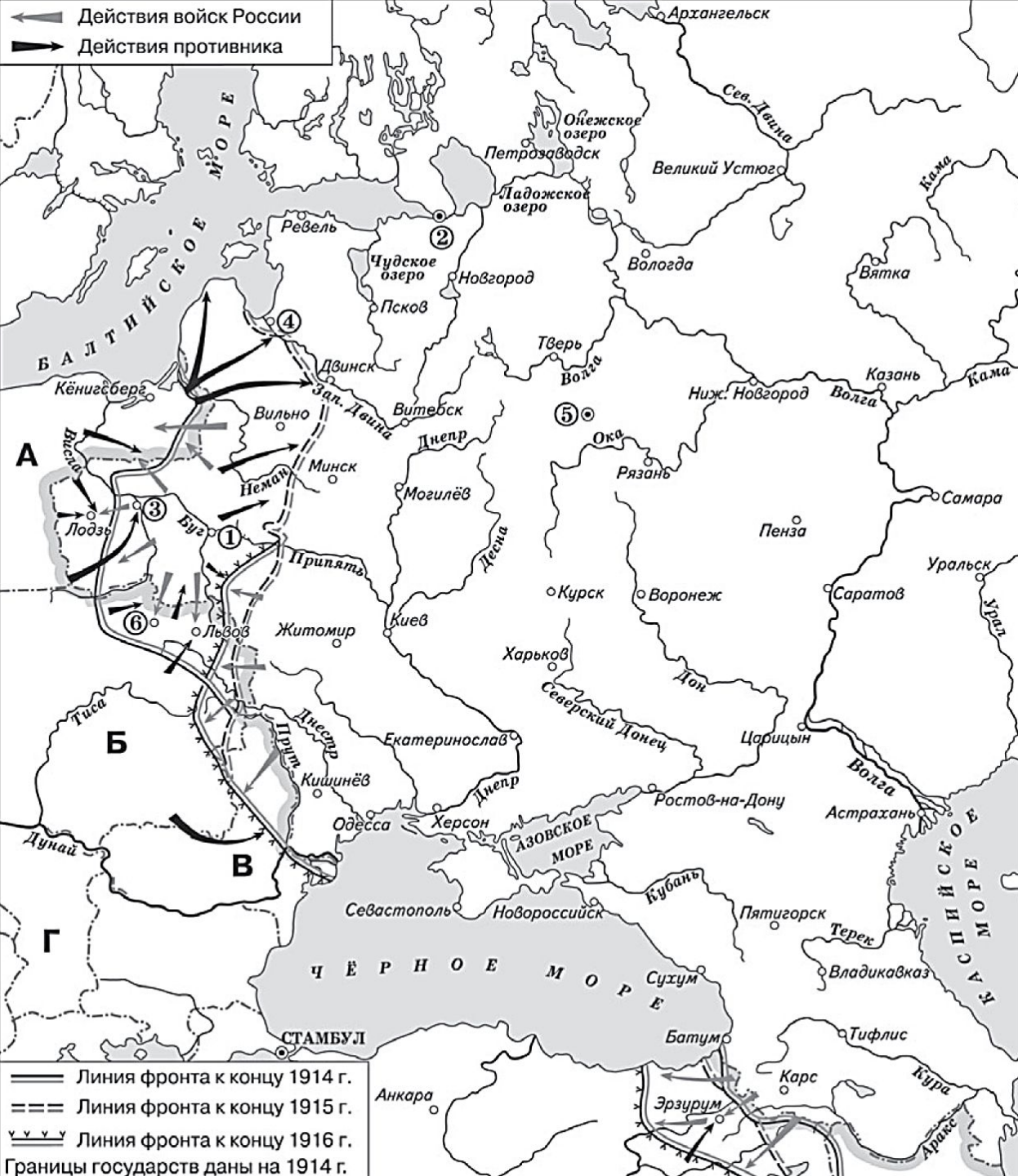
№ 13. Укажите название государства, обозначенного на схеме цифрой «1».

№ 14. Укажите фамилию военачальника (командующего фронтом), под руководством которого русские войска предприняли наступление, обозначенное на схеме.

№ 15. Укажите название крупнейшего сражения, проходившего в том же году на Западном фронте войны, события которой обозначены на схеме.

№ 16. Какие суждения, относящиеся к схеме, являются верными? Выберите четыре суждения из семи предложенных.

- 1) В ходе наступления, обозначенного на схеме, русские войска заняли Луцк.
- 2) Современником событий, обозначенных на схеме, был Александр Керенский.
- 3) В районе боевых действий, обозначенных на схеме, протекала река Днестр.
- 4) В ходе наступления, обозначенного на схеме, русские войска заняли Владимир-Волынский.
- 5) В период военных действий, обозначенных на схеме, пост Верховного главнокомандующего русской армией занимал император Николай II.
- 6) События, обозначенные на схеме стрелками, длились более года.
- 7) В результате событий, показанных на схеме, государство, обозначенное цифрой «1», было выведено из войны.



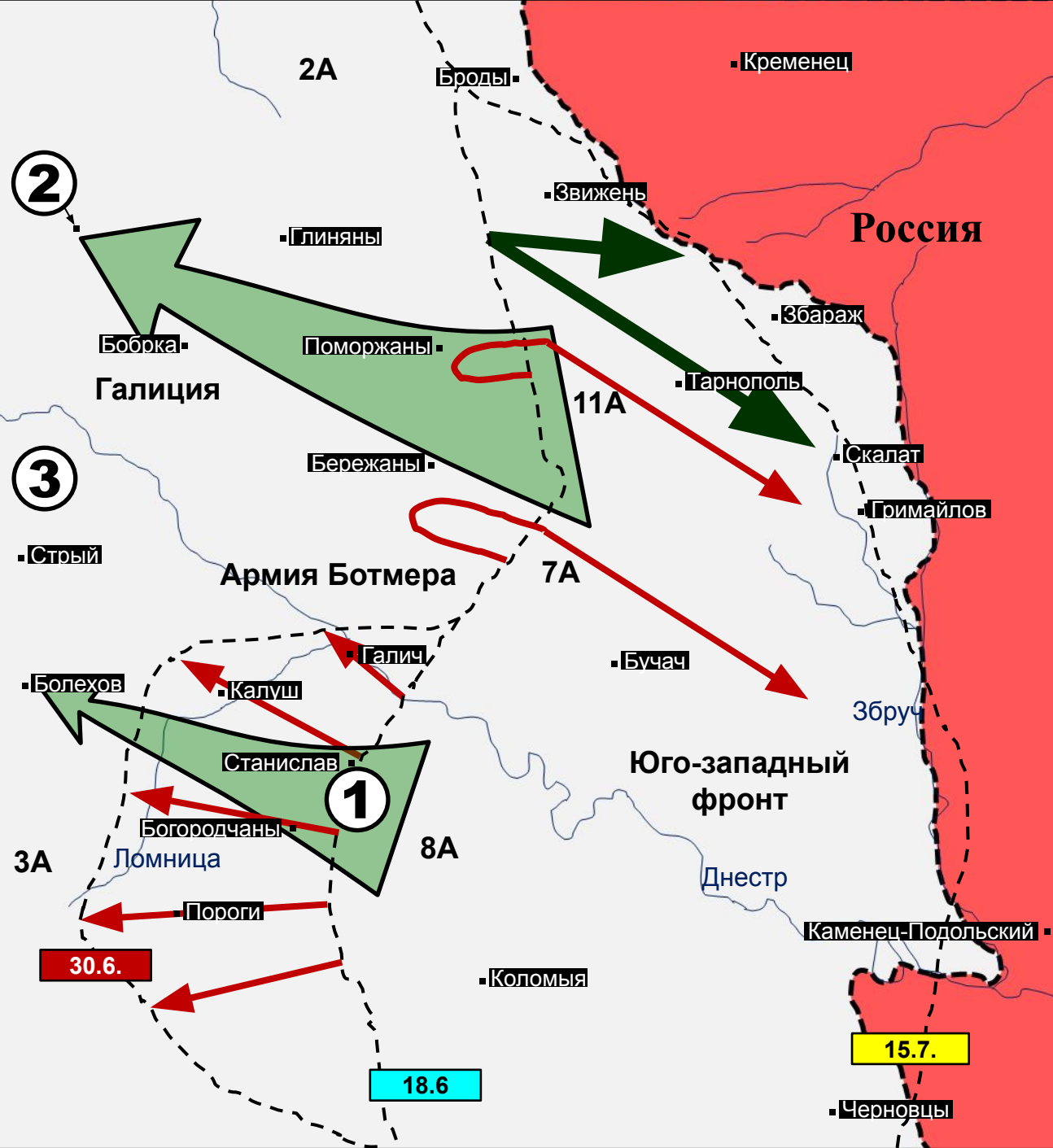
№ 13. Напишите название польского города, который русские войска были вынуждены оставить в ходе боев 1914 г.

№ 14. Напишите имя полководца, под руководством которого в 1916 г. русской армии удалось прорвать оборонительные позиции противника.

№ 15. Напишите название города, в котором в январе 1918 г. было создано Учредительное собрание.

№ 16. Какие суждения, относящиеся к событиям, обозначенным на схеме, являются верными? Выберите три суждения из шести предложенных.

- 1) На город, обозначенный на схеме цифрой «2», в августе 1917 г. наступали войска генерала Л. Г. Корнилова.
- 2) В ходе Первой мировой войны столица Российской империи была перенесена в Нижний Новгород.
- 3) В городе, обозначенном цифрой «1», был подписан мирный договор, по которому Россия вышла из Первой мировой войны.
- 4) Цифрой «4» на схеме обозначен город, где был сформирован первый состав Совета народных комиссаров.
- 5) Начало войне, показанной на схеме, положил политический кризис, связанный с убийством летом 1914 г. одного из руководителей государства, обозначенного буквой «Б».
- 6) Государство, обозначенное на схеме буквой «Г», было противником России.



--- 18.6. ---	Линия Юго-западного фронта к началу наступления
--- 30.6. ---	Линия фронта 8 армии к 30 июня
--- 15.7. ---	Линия Юго-западного фронта к концу германо-австрийского контрнаступления (15 июля)
	План прорыва австро-германского фронта русскими войсками
	Наступление 8 русской армии 23-24 июня
	Неудачные атаки 11 и 7 русских армий 18-19
	Контрудар австро-германских войск

- № 13. Укажите название города под цифрой «2»
- № 14. Укажите название государства, отмеченного на карте цифрой «3»
- № 15. Заполните пропуск. «События, отраженные на карте, произошли летом тысяча девятьсот _____ года»
- № 16. Какие суждения, относящиеся к событиям, отраженным на карте, являются верными? Выберите три суждения из шести предложенных.
- 1) Главкомандующим всеми фронтами российской армии в ходе наступления, отраженного на карте, был великий князь Николай Николаевич.
 - 2) Командующим 8-й армии (действия которой отражены на участке фронта маркированном цифрой «1») в ходе отраженного на карте наступления был Алексей Брусилов.
 - 3) Наступление некоторых армий Юго-западного фронта сопровождалось братанием с войсками противника.
 - 4) Военным министром Российского государства в период наступления был князь Георгий Львов.
 - 5) На карте отражена последняя попытка масштабного наступления российской армии в войне
 - 6) Активным участником событий, отраженных на карте, являлся генерал Лавр Корнилов.



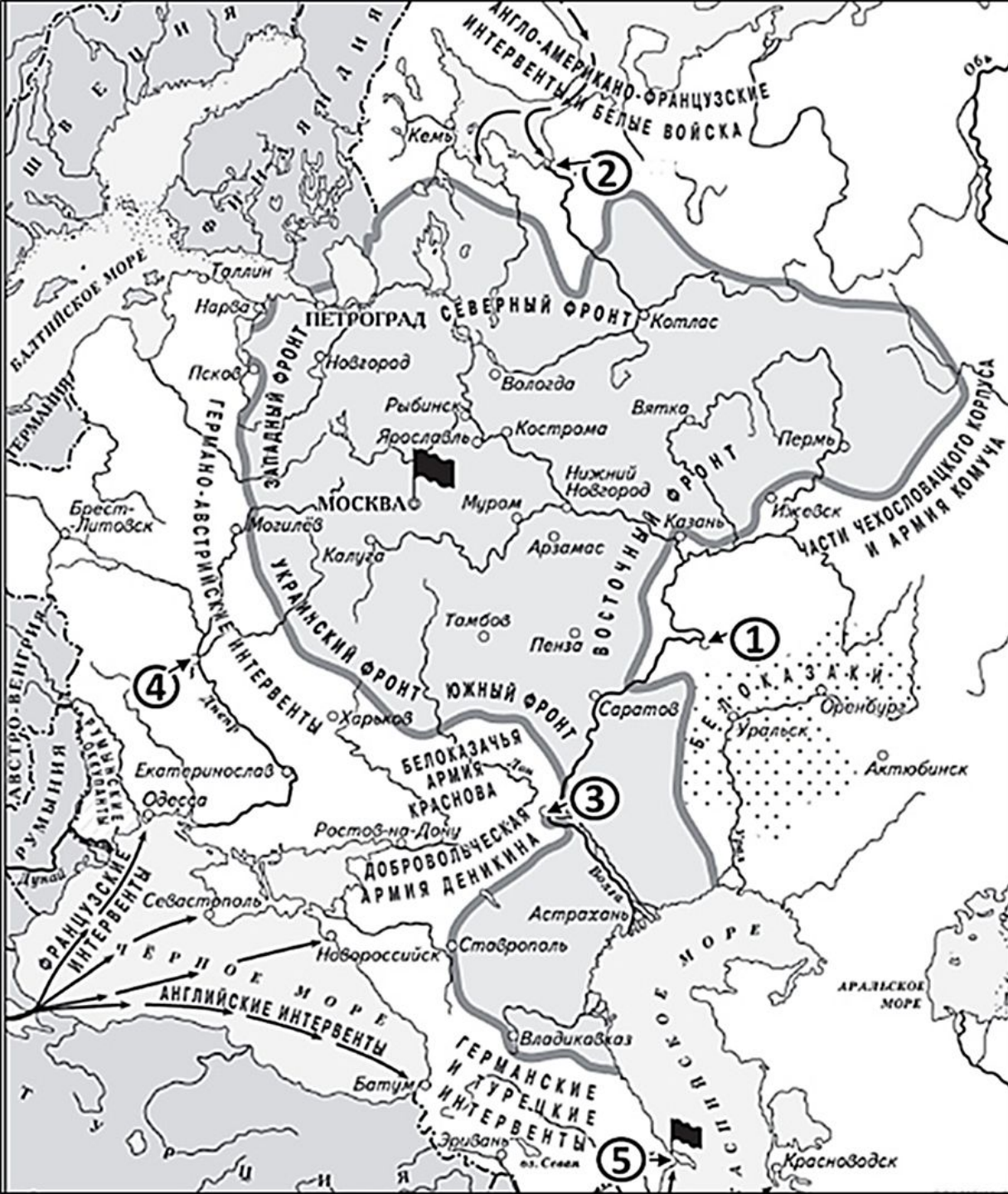
№ 13. Заполните пропуск в предложении: «События, обозначенные на схеме, произошли к 19____ году».

№ 14. Укажите российского монарха, при котором начались события, отраженные на карте.

№ 15. Укажите название города под цифрой «1», где в период отраженных на карте событий находилась Ставка Верховного главнокомандующего российскими войсками.

№ 16. Какие суждения, относящиеся к событиям, обозначенным на схеме, являются верными? Выберите три суждения из шести предложенных.

- 1) Государство, отмеченное цифрой «4», было союзником России в войне, которая происходила одновременно с событиями, отраженными на карте.
- 2) В городе под цифрой «2» был подписан мирный договор, результатом которого был выход России из войны, которая происходила одновременно с событиями, отраженными на карте.
- 3) Вся территория государства, указанного на карте цифрой «4», была разделена между Германией и СССР по договору о дружбе и границе от 28 сентября 1939 г.
- 4) В городе под цифрой «3» русский император подписал отречение в ходе событий, отраженных на карте.
- 5) В ходе событий, отраженных на карте, было создано более десяти Советов рабочих депутатов.
- 6) Оренбургский совет не поддержал лозунг «Вся власть Советам» в сентябре-октябре года, в котором произошли отраженные на карте события.



- № 13. Укажите современное название города под цифрой «3»
- № 14. Напишите пропущенное слово: «Ситуация, описанная на карте, сложилась к лету тысяча девятьсот _____ года».
- № 15. Укажите аббревиатуру – название антибольшевистского правительства, базировавшегося в городе под цифрой «1».
- № 16. Какие суждения, относящиеся к событиям, обозначенным на схеме, являются верными? Выберите три суждения из шести предложенных.
- 1) Город под цифрой «5» в советские годы был административным центром Азербайджанской ССР.
 - 2) В городе под цифрой «4» в ходе описанных на карте событий, находилось правительство гетмана Павла Скоропадского.
 - 3) В городе под цифрой «2» в период событий, отмеченных на карте, находились войска Антанты.
 - 4) Антибольшевистское правительство, базировавшееся в ходе описанных на карте событий в городе под цифрой «1», под давлением Красной армии переберется в город под цифрой «3».
 - 5) В городе под цифрой «1» в год, события которого отражены на карте, была расстреляна царская семья.
 - 6) Город под цифрой «4» в 1922-м году войдет в состав Белорусской ССР.



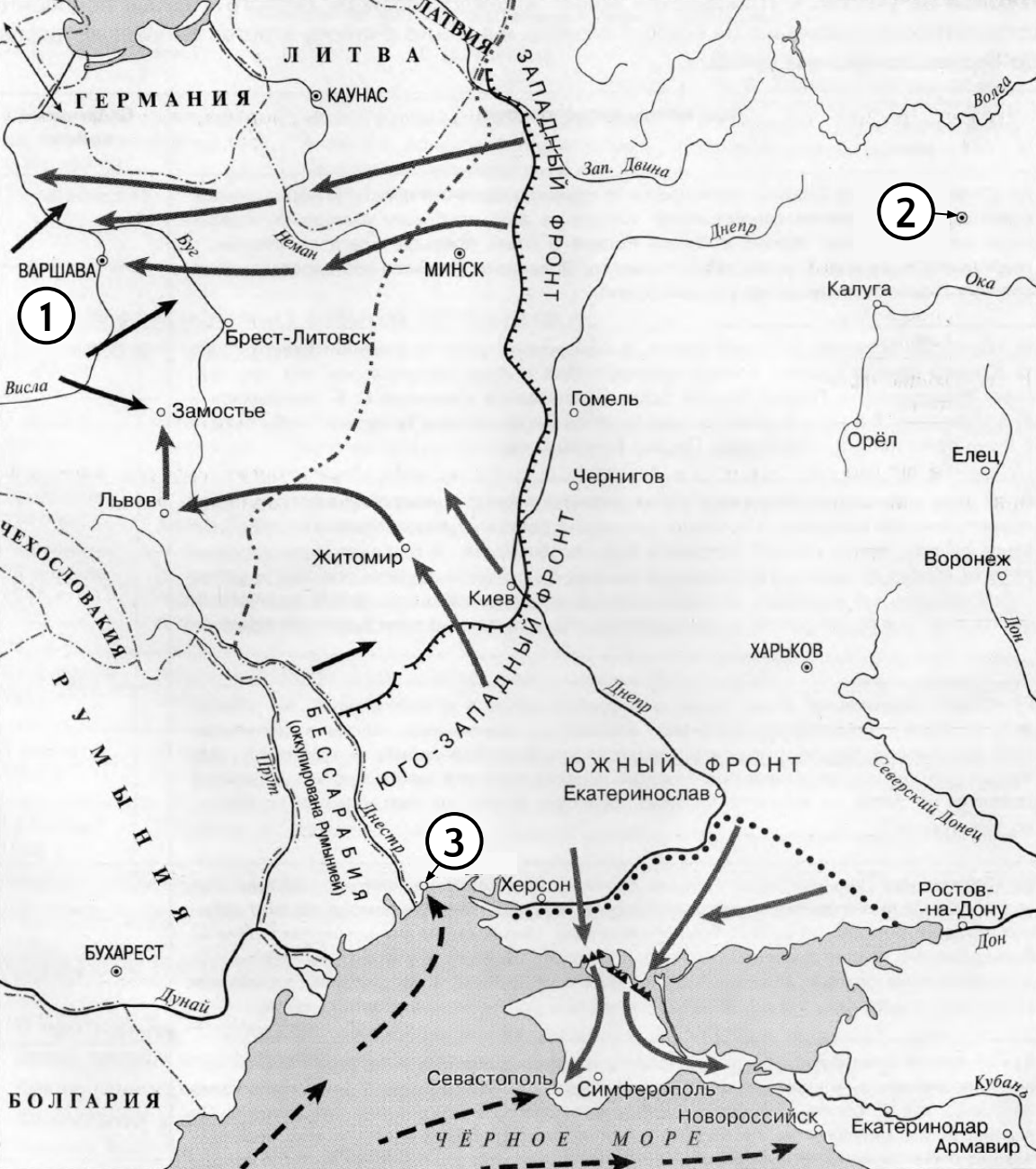
№ 13. Укажите название города под цифрой «1», где за год до описанных на карте событий была расстреляна царская семья.

№ 14. Напишите пропущенное слово: «События, обозначенные на схеме, начались в тысяча девятьсот _____ году».

№ 15. Укажите название города под цифрой «3».

№ 16. Какие суждения, относящиеся к событиям, обозначенным на схеме, являются верными? Выберите три суждения из шести предложенных.

- 1) Главнокомандующий Белой армией, разгром которой показан на карте, имел титул Верховного правителя России.
- 2) Главнокомандующий Белой армией, разгром которой показан на карте, был расстрелян в городе под цифрой «3».
- 3) В событиях, обозначенных на карте, активное участие принимал Михаил Фрунзе.
- 4) Под цифрой «2» на карте указан город Тобольск.
- 5) В том же году, когда начались события, описанные на карте, Красная армия взяла Владивосток и освободила от японской оккупации северный Сахалин.
- 6) В период событий, описанных на карте, в РСФСР проводилась Новая экономическая политика.



Линии наибольшего продвижения войск интервентов и белогвардейцев
 — к концу мая — к началу октября
 — Линии укреплений белогвардейцев
 — Наступление Красной Армии
 — Действия войс и флота интервентов и белогвардейцев
 - - - - - Западная граница советских республик по Рижскому мирному договору
 - - - - - Границы государств

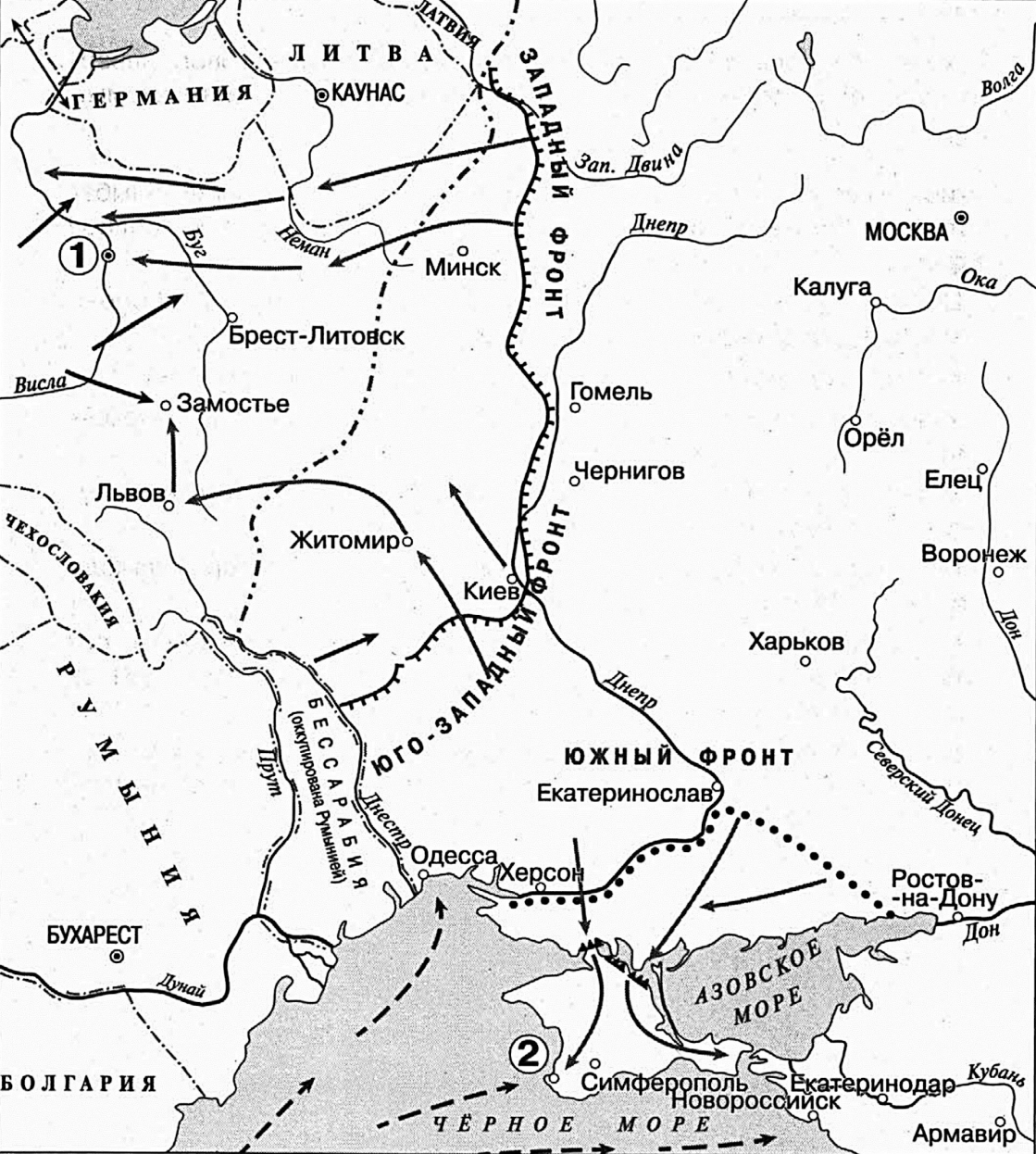
№ 13. Укажите год, когда произошли события, обозначенные на схеме.

№ 14. Укажите название государства, отмеченного на карте цифрой «1».

№ 15. Укажите главнокомандующего войсками Белого движения в период событий, обозначенных на схеме.

№ 16. Какие суждения, относящиеся к событиям, обозначенным на схеме, являются верными? Выберите три суждения из шести предложенных.

- 1) Под цифрой «3» на карте отмечена Одесса.
- 2) В событиях, отраженных на карте, принимал участие Михаил Тухачевский.
- 3) Согласно Рижскому договору, в состав одной из советских республик вошел Брест-Литовск.
- 4) Столица РСФСР была перенесена в город под цифрой «2» в 1918 г.
- 5) В событиях, отраженных на карте, принимал участие Александр Колчак.
- 6) В ходе событий, отраженных на карте, советским войскам удалось взять Варшаву.



№ 13. Заполните пропуск в предложении: «Военные действия, обозначенные на схеме, относятся к 19___ году».

№ 14. Укажите название города, отмеченного на карте цифрой «1».

№ 15_1. Укажите фамилию командующего обозначенным на схеме Южным фронтом.

№ 15_2. Укажите название города, где был подписан мирный договор, завершивший войну, события которой обозначены в левой части схемы.

№ 16. Какие суждения, относящиеся к событиям, обозначенным на схеме, являются верными? Выберите пять суждений из семи предложенных.

- 1) Цифрой «2» на схеме обозначен город, в героической обороне которого в XIX в. участвовал Павел Нахимов.
- 2) К концу мая войска противника Красной армии взяли Киев.
- 3) Участником событий, обозначенных на схеме, был Михаил Тухачевский.
- 4) В период, когда произошли события, обозначенные на схеме, существовала Германская империя.
- 5) На схеме обозначен город, где был подписан договор о выходе России из Первой мировой войны.
- 6) По мирному договору, подписанному по результатам войны, события которой обозначены на схеме слева, Житомир оказался за границей советских республик.
- 7) По мирному договору, подписанному по результатам войны, события которой обозначены на схеме слева, Львов оказался за границей советских республик.