

Историческая география

ЕГЭ по истории. Задания 8-11

Табашникова Ю.В., учитель истории и обществознания высшей
квалификационной категории

Задания ЕГЭ 13-16

- Комплекс из четырёх заданий на работу с исторической картой (краткий ответ и множественный выбор)

Периоды истории России:

- 1) VIII–XV вв.;
- 2) XVI – конец XVII в.;
- 3) конец XVII – начало XX в.;
- 4) начало XX – начало XXI в.

Оценивание:

13-15 задания – 1 балл

16 задание – 2 балла

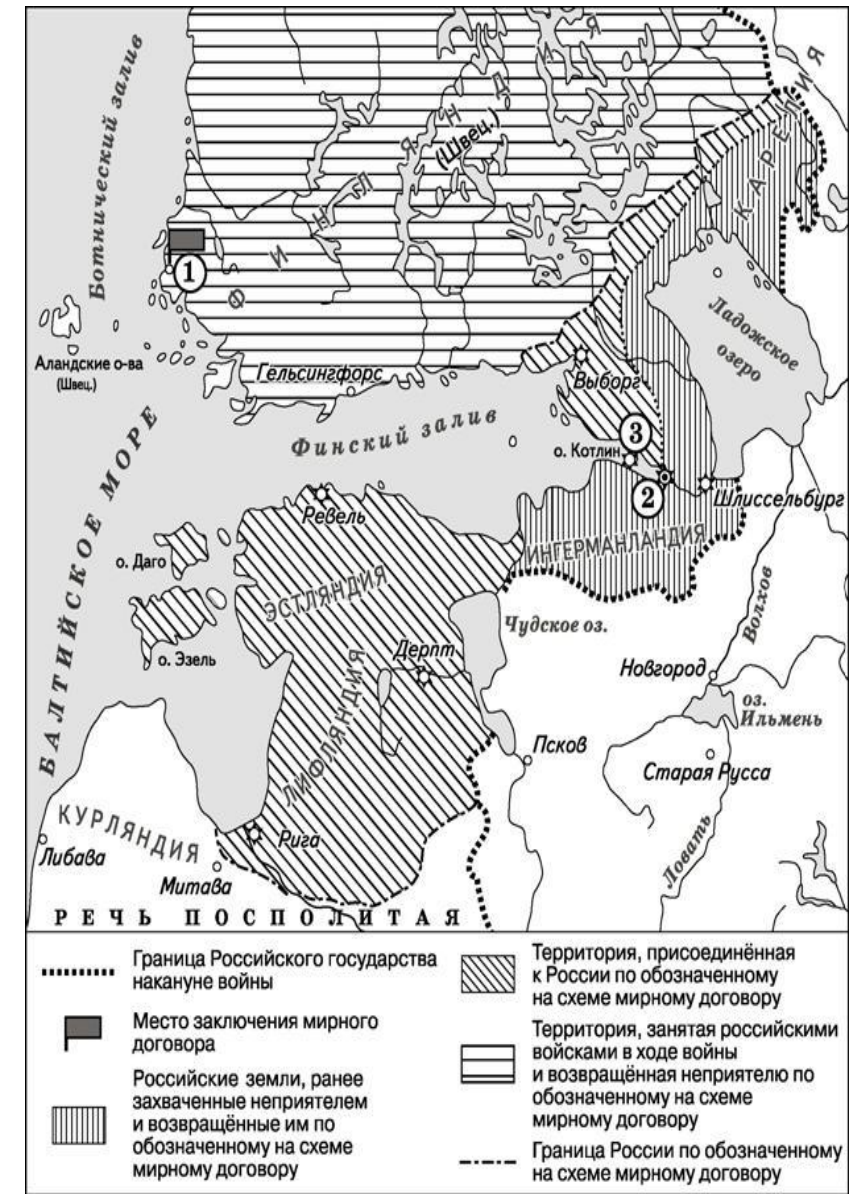
В вопросах 13-15 необходимо написать слово, описывающее непосредственно представленные на карте события.

13. Укажите век, когда была установлена граница по обозначенному на схеме мирному договору. Ответ запишите словом. - **Восемнадцатый**

14. Назовите монарха, по указу которого был основан город, обозначенный на схеме цифрой «2». - **Петр Первый**

15. Укажите название мирного договора, подписанного в городе, обозначенном на схеме цифрой «1». - **Ништадтский**

Вопрос 16 требует выбрать три верных суждения. Они будут касаться не только представленных на карте событиях. Но и о тех, что были в предшествующие или последующие эпохи.



16. Какие суждения, относящиеся к схеме, являются верными? Выберите три суждения из шести предложенных. Запишите в таблицу цифры, под которыми они указаны.

- 1) На схеме обозначены водные объекты, по которым проходила часть древнего торгового пути «из варяг в греки».
- 2) Все заштрихованные на карте территории вошли в состав СССР в 1922 г.
- 3) Участниками войны, которая завершилась обозначенным на схеме мирным договором, были П.И. Багратион и Д.В. Давыдов.
- 4) В 1921 г. в городе, обозначенном на схеме цифрой «3», произошло антибольшевистское восстание.
- 5) В подписании мирного договора, завершившего войну, события которой отражены на схеме, участвовал Фридрих II Великий.
- 6) На схеме обозначены два российских города, в которых в XII–XV вв. существовала республиканская форма правления.

• Ответ: 146

Задания ЕГЭ 13-16. Проблемы: умение читать историческую карту

- Географические объекты на исторической карте
- Атрибуция карты – события какой исторической эпохи отражены на карте. Понять каким событиям и какой эпохе посвящена карта
- Связь исторического деятеля с событиями, отраженными на исторической карте
- Связь географического объекта с эпохой деятельности исторического деятеля и ключевыми историческими событиями эпохи
- Географический объект в разные эпохи

АТЛАС

СОМ

оты, определите историческое время, период

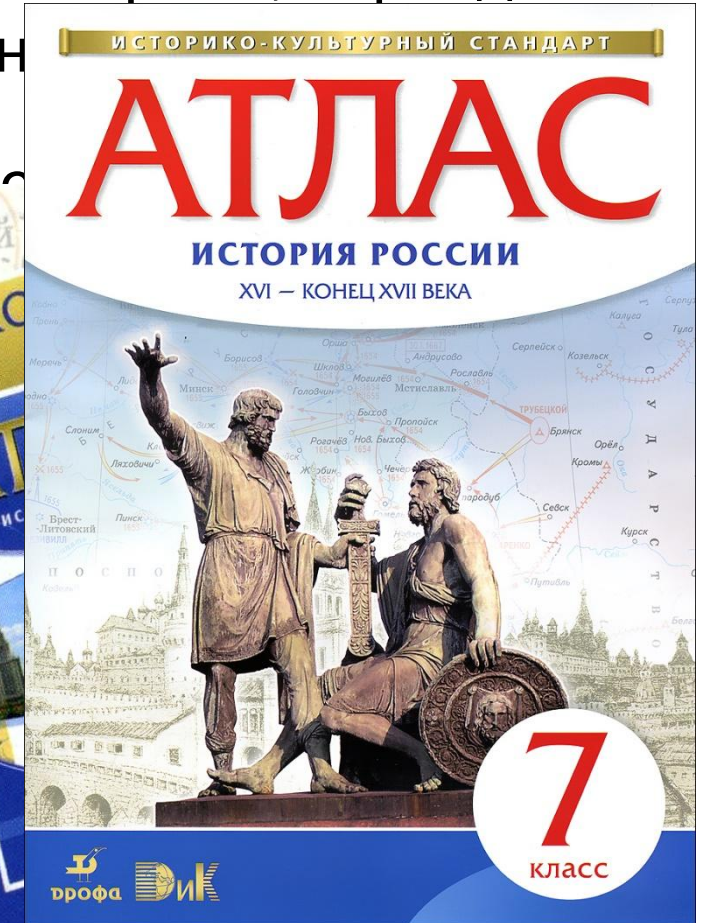

10-11

классы

ИСТОРИЯ РОССИИ
с древнейших времён
до начала XXI века

исаны условные обозначен
события.

ПОЛНЫЙ КУРС ИСТОРИИ РОССИИ



ГОТОВИМСЯ
К
ЕГЭ

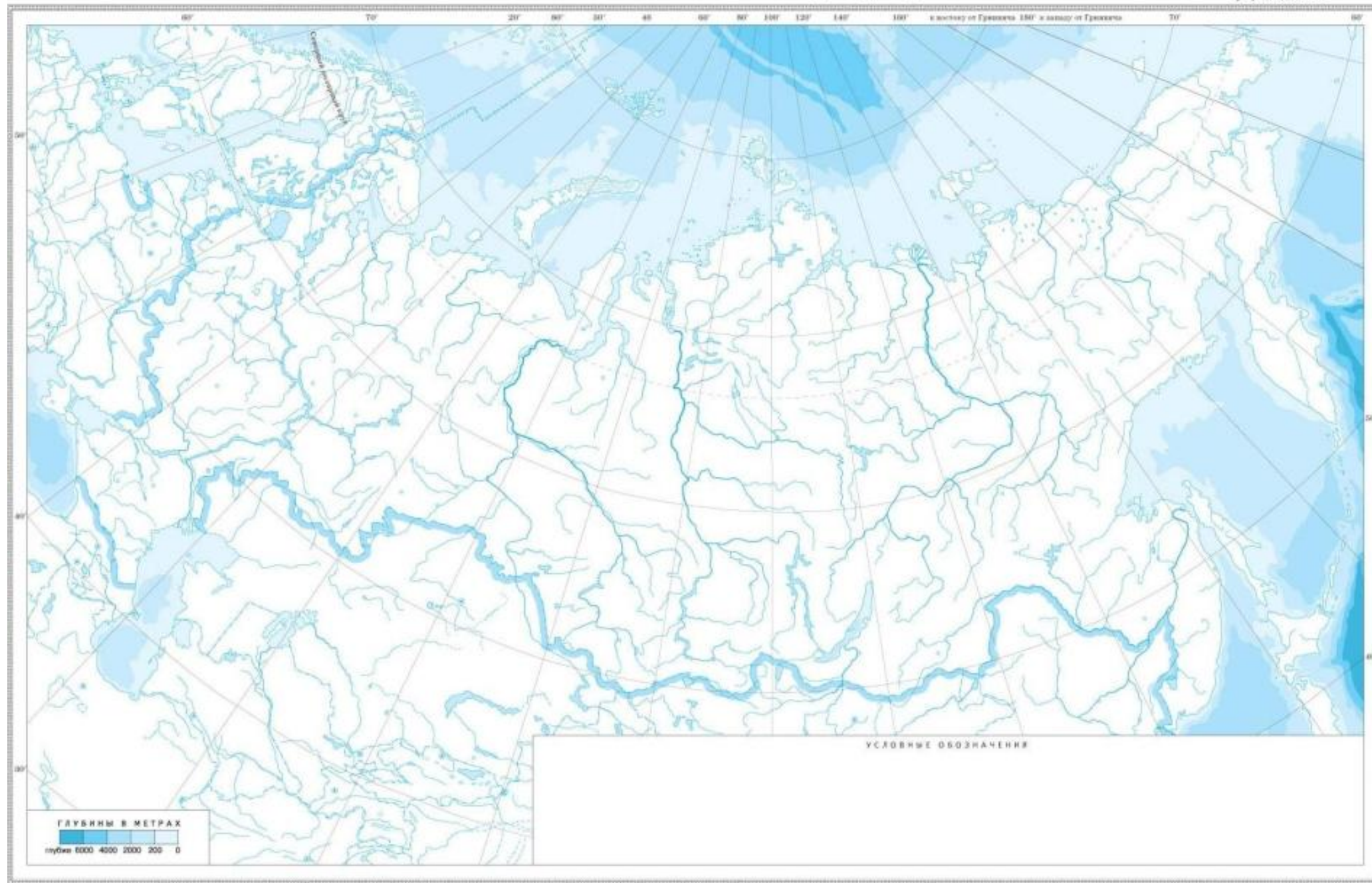
Этап 1

- Для начала необходимо проанализировать свои знания географии и определить уровень незнания ключевых географических объектов на физической карте России
- **моря, реки, острова** и т.д. – это минимальный «пакет», который поможет «привязать» к этим объектам города. Вам необходимо научиться узнавать эти объекты независимо от того, какая часть страны изображена на карте и каков масштаб изображения. Поскольку фрагменты карт постоянно меняются (а вместе с этим и угол, под которым показано изображение), необходимо научиться узнавать эти объекты по взаимному положению и очертанию.

Масштаб 1:6 500 000 000

ФИЗИЧЕСКАЯ КАРТА РОССИИ (контурная)

Для общеобразовательных учреждений



РОССИЯ. ФИЗИЧЕСКАЯ КАРТА



0 200 км

Объекты физической географии для запоминания:

- *1. Балтийское море*
- *2. Черное море /пролив Босфор /Дарданеллы*
- *3. Азовское море /Керченский пролив*
- *4. Каспийское море*
- *5. Белое море*
- *6. Охотское море*

Объекты физической географии для запоминания:

- 7. П-ов Крым /Перекоп
- 8. П-ов Камчатка, о. Сахалин, Курильские острова
- 9. Финский залив
- 10. Ладожское озеро
- 11. Чудское озеро
- 12. Озеро Ильмень
- 13. Озеро Байкал

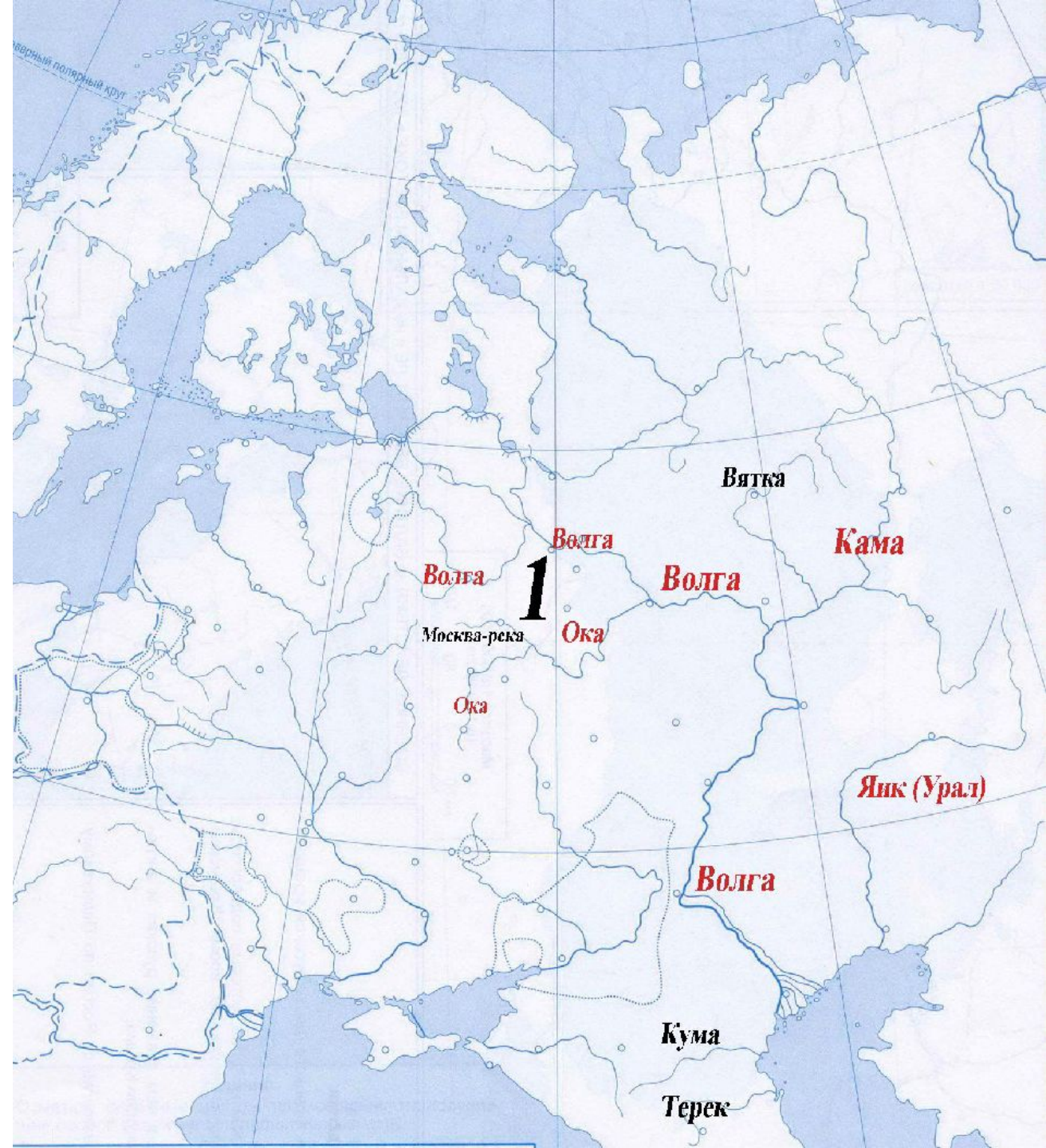
Объекты физической географии для запоминания:

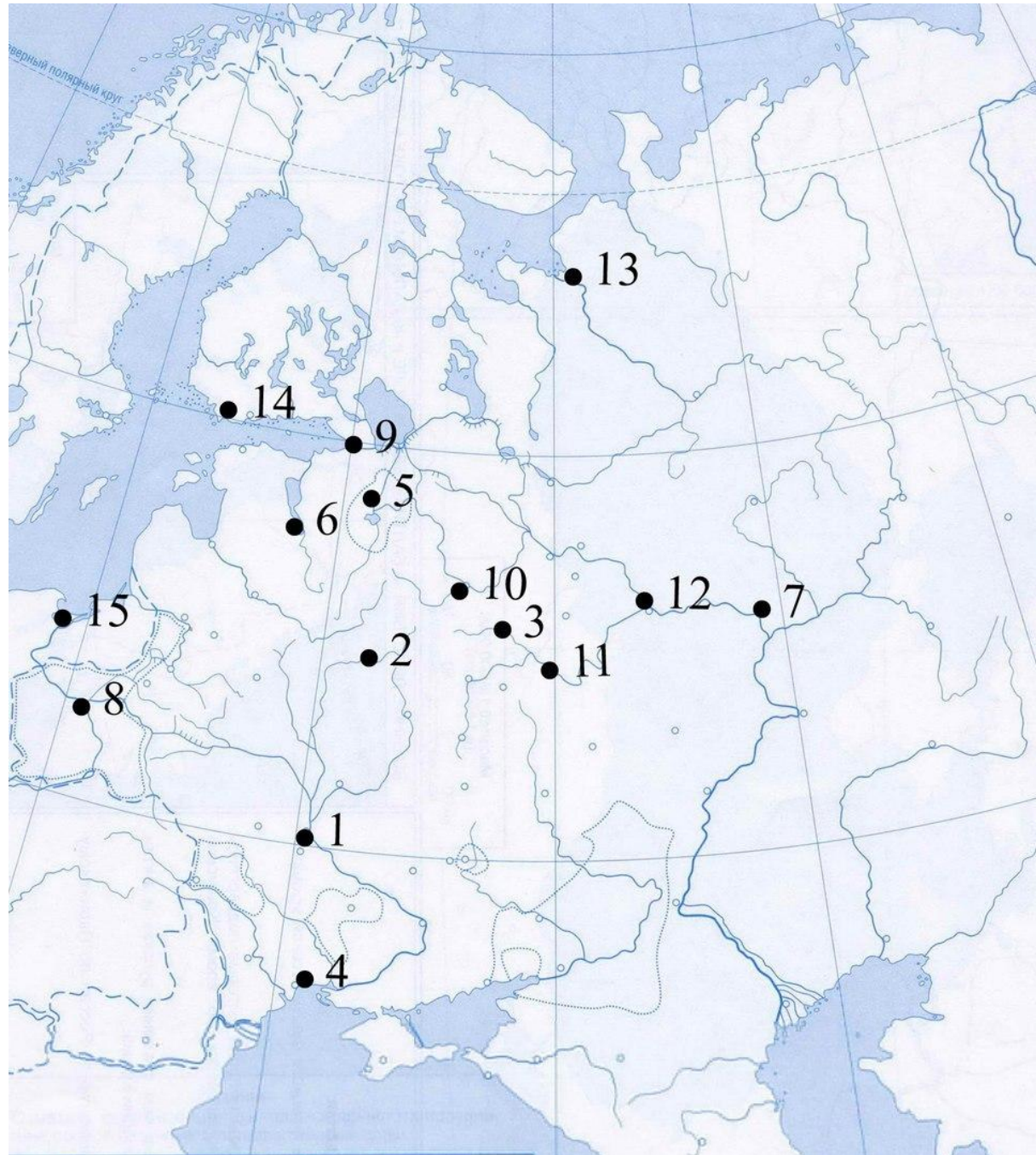
- 14. *Волга*
- 15. *Днепр*
- 16. *Дон*
- 17. *Нева*
- 18. *Амур*
- 19. *Енисей*
- 20. *Лена*
- 21. *Ока*
- 22. *Волхов*
- 23. *Нева*
- 24. *Дунай*

- **Красным** выделены реки, которые будут окружать Черное море на картах практически любого масштаба – они слишком крупные
- **Черным** выделены реки, которые надо запомнить, но они иногда не нарисованы.

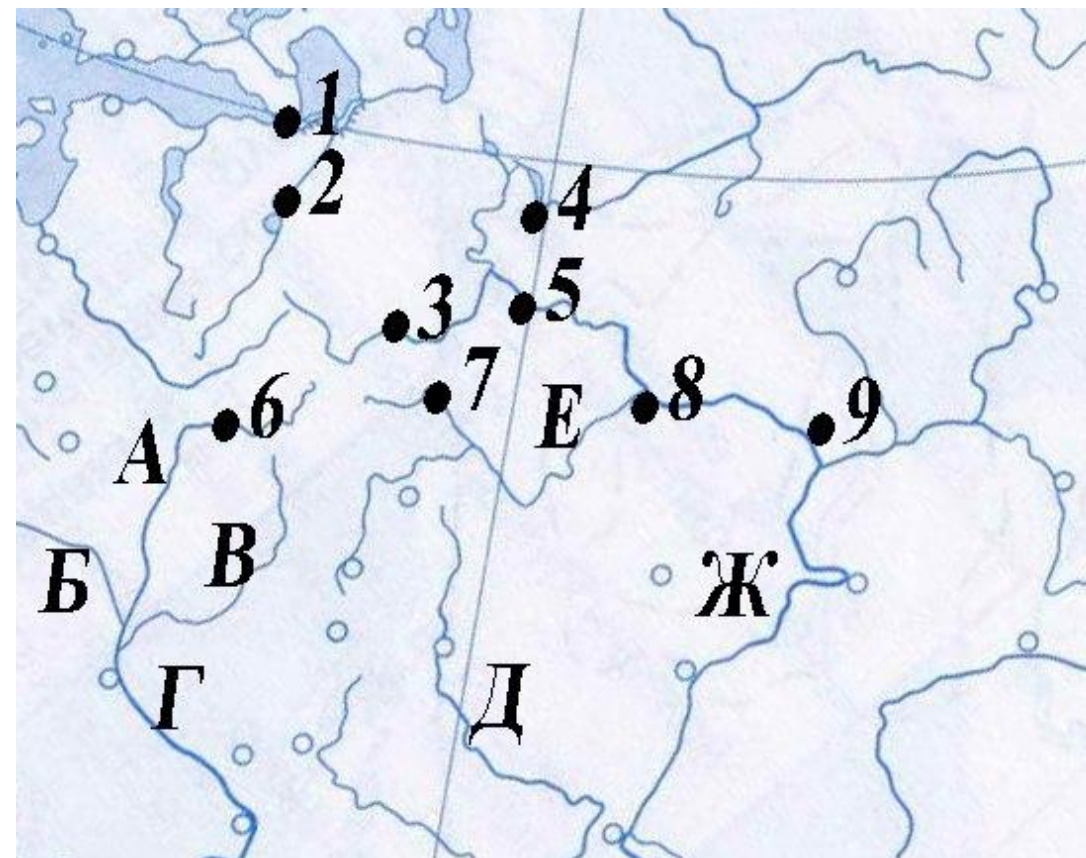


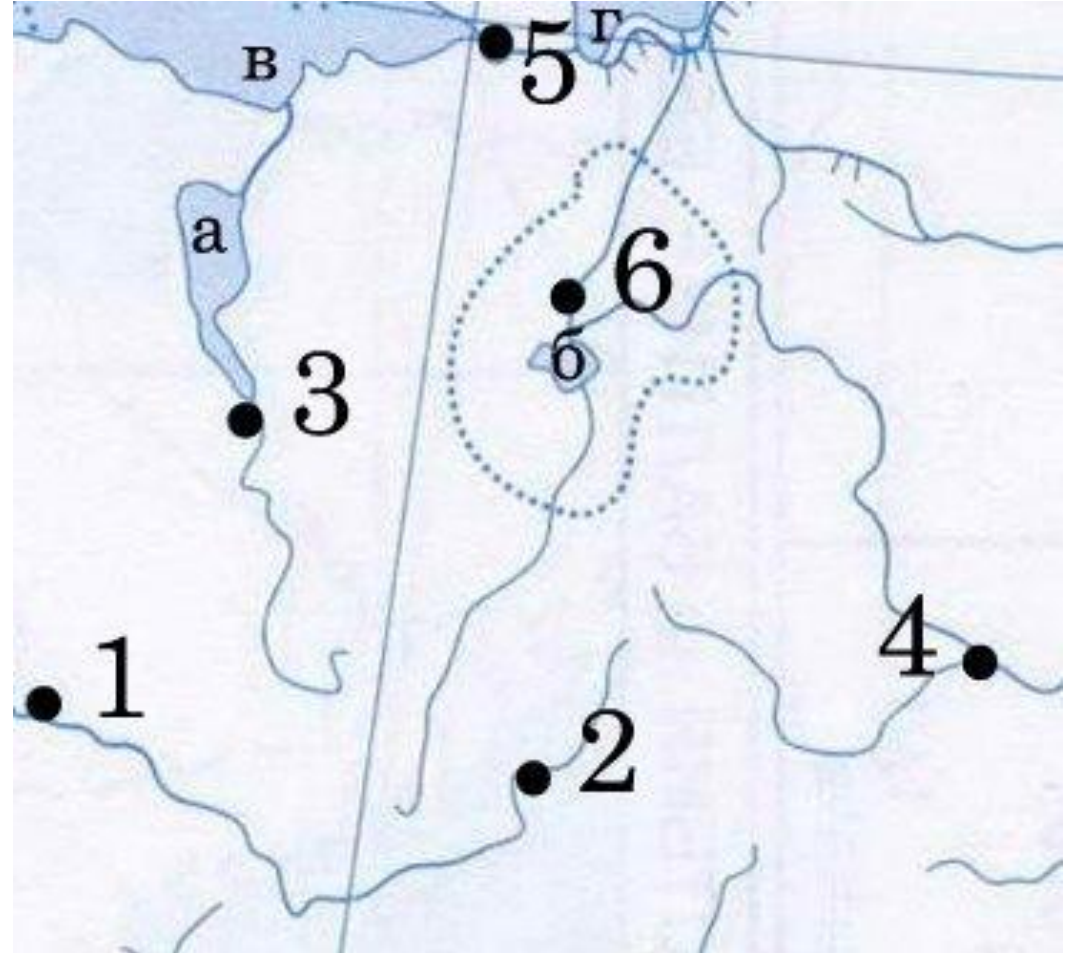
- Бассейн Каспийского моря





- **Анализируйте** географию участка, **фиксируйте** внимание на основных объектах — больших городах, реках, горах, рельефных особенностях.
- **Начинайте** с самых крупных, постепенно **двигаясь** к меньшим.
- **Достаточно** опознать несколько опорных точек — обычно этого хватает, чтобы **дать** событию **название** и **выяснить**, о каком **периоде** и **регионе** идет речь.





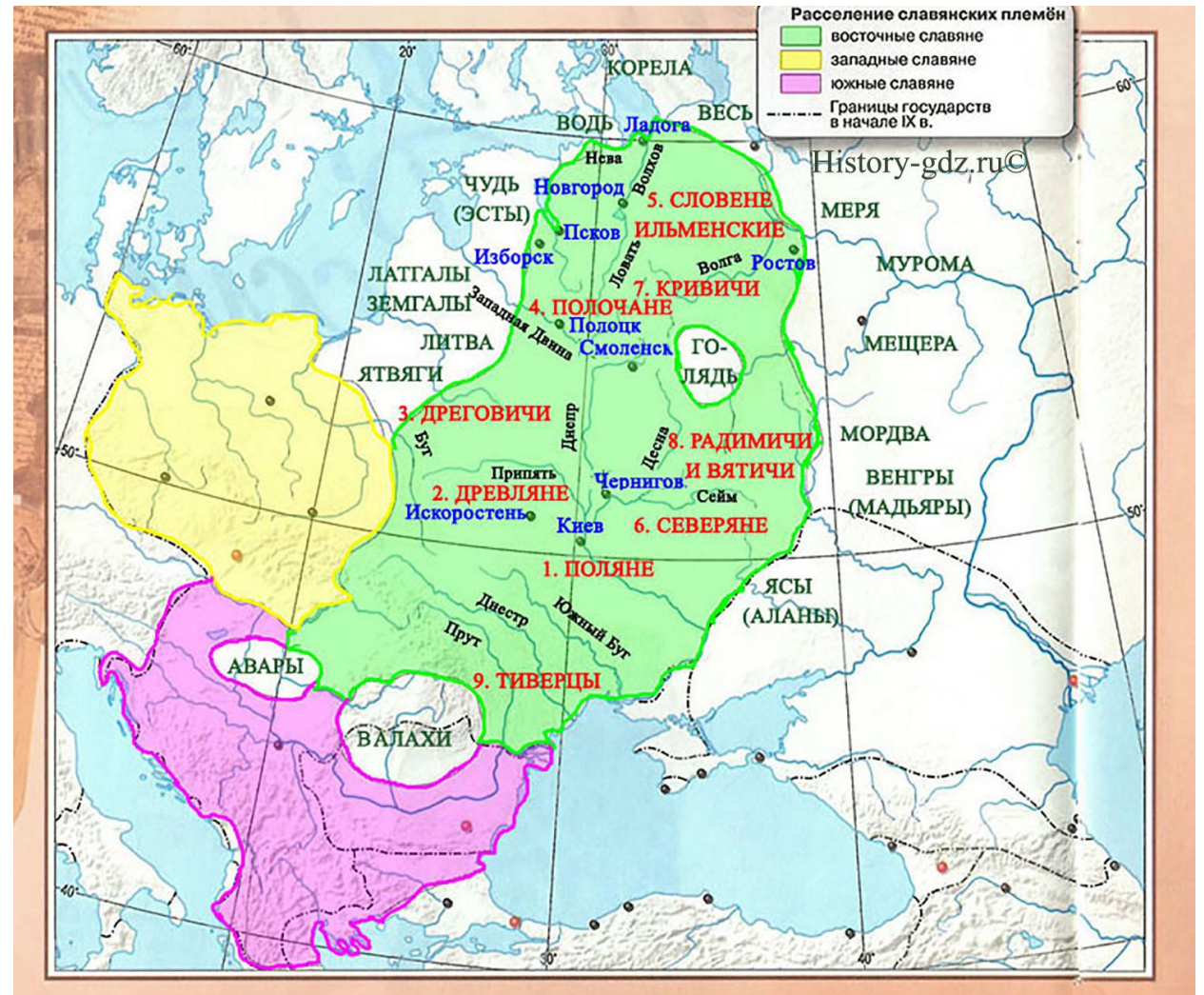
Расселение славянских племен и их

• соседи

- – поляне
- – древляне
- – кривичи
- – ильменские словене
- – северяне
- – вятичи

Соседи славян

- Хазары
- Печенеги
- Волжские булгары



Расселение восточных славян

Племена	Места расселения	Центры
Вятичи	Междуречье рек Волги, Оки, Клязьмы	Неизвестно
Кривичи	Верховья рек Волги, Днепра, западной Двины.	Полоцк, Изборск, Смоленск.
Ильменские Словене	Вокруг Озера Ильмень	Ладога, Новгород
Радимичи	По реке Сож	Неизвестно
Древляне	По реке Припять	Искростень
Дреговичи	Между реками Припять и Березина	Туров
Поляне	Днепр. От устья Припяти до Роси	Киев
Уличи	Нижнее Поднепровье, Побужье	Пересечений
Тиверцы	По реке Днестр и близ устья Дуная	Неизвестно
Северяне	По Днепру и по реке Десна	Чернигов
Полчане	Бассейн Западной Двины	Неизвестно
Дулебы	На территории западной Волыни	Неизвестно

Торговые пути и направления походов

- – «путь из варяг в греки»
- – «путь из варяг в арабы»

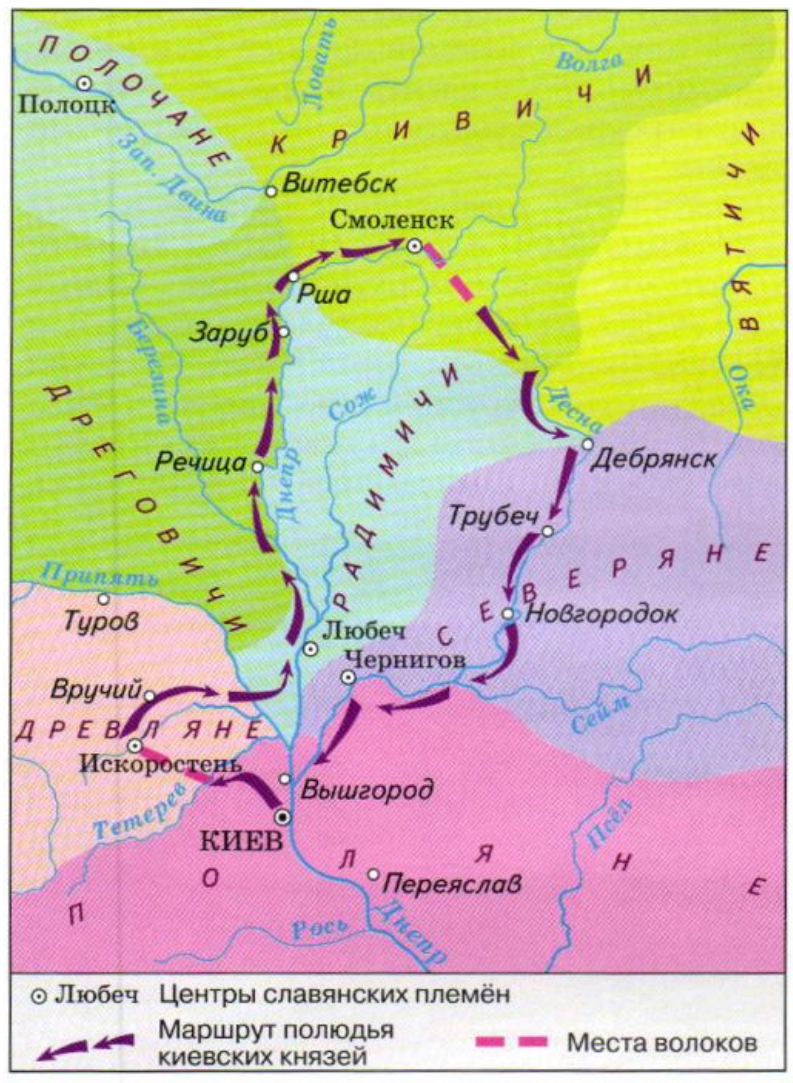


Походы Олега

- Из Новгорода в Киев 882г.
- В Византию 907, 911 гг.



Маршрут полюдья киевских князей

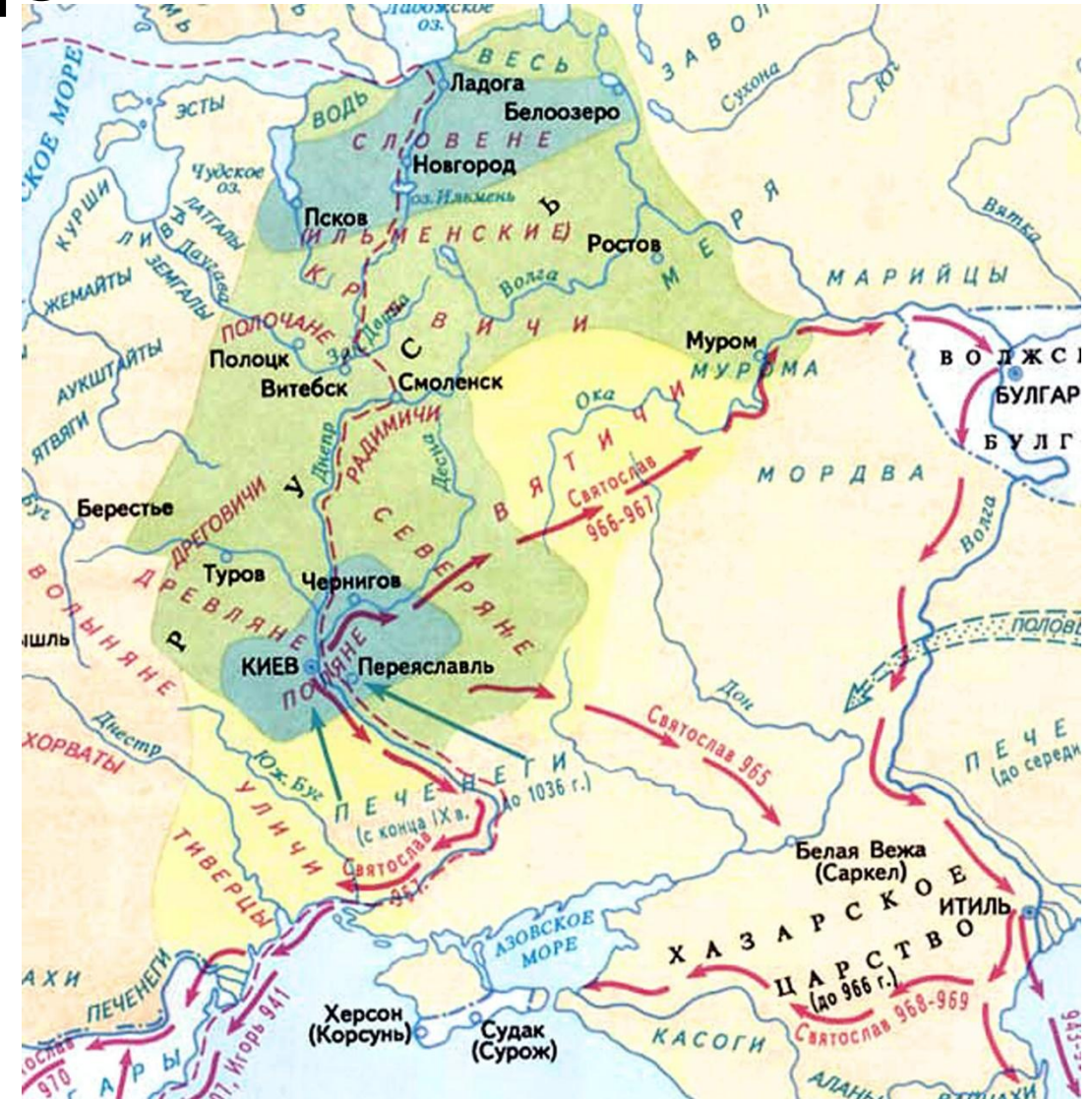


Походы Игоря на Византию



Направления походов

- – походы Святослава



Направления походов

- Походы Владимира I
- 980 – на Полоцк
- 980 – на Киев
- 981, 982 – на Вятичей
- 983 – на ятвягов (приграничные племена между Польшей и Русью)
- 985 – на волжских булгар
- 985/986 – на хазар
- 988 – осада Корсуни



Обязательные географические пункты и связанные с ними факты

- – Новгород – призвание варягов
- – Киев – поход Олега против князей Аскольда и Дира, захват города и создание единого государства
- – Искоростень – гибель князя Игоря во время полюдья и месть княгини Ольги
- - Итиль – столица Хазарского каганата
- - Саркел /Белая Вежа – походы Святослава
- - Булгар – Волжская Булгария – походы Святослава

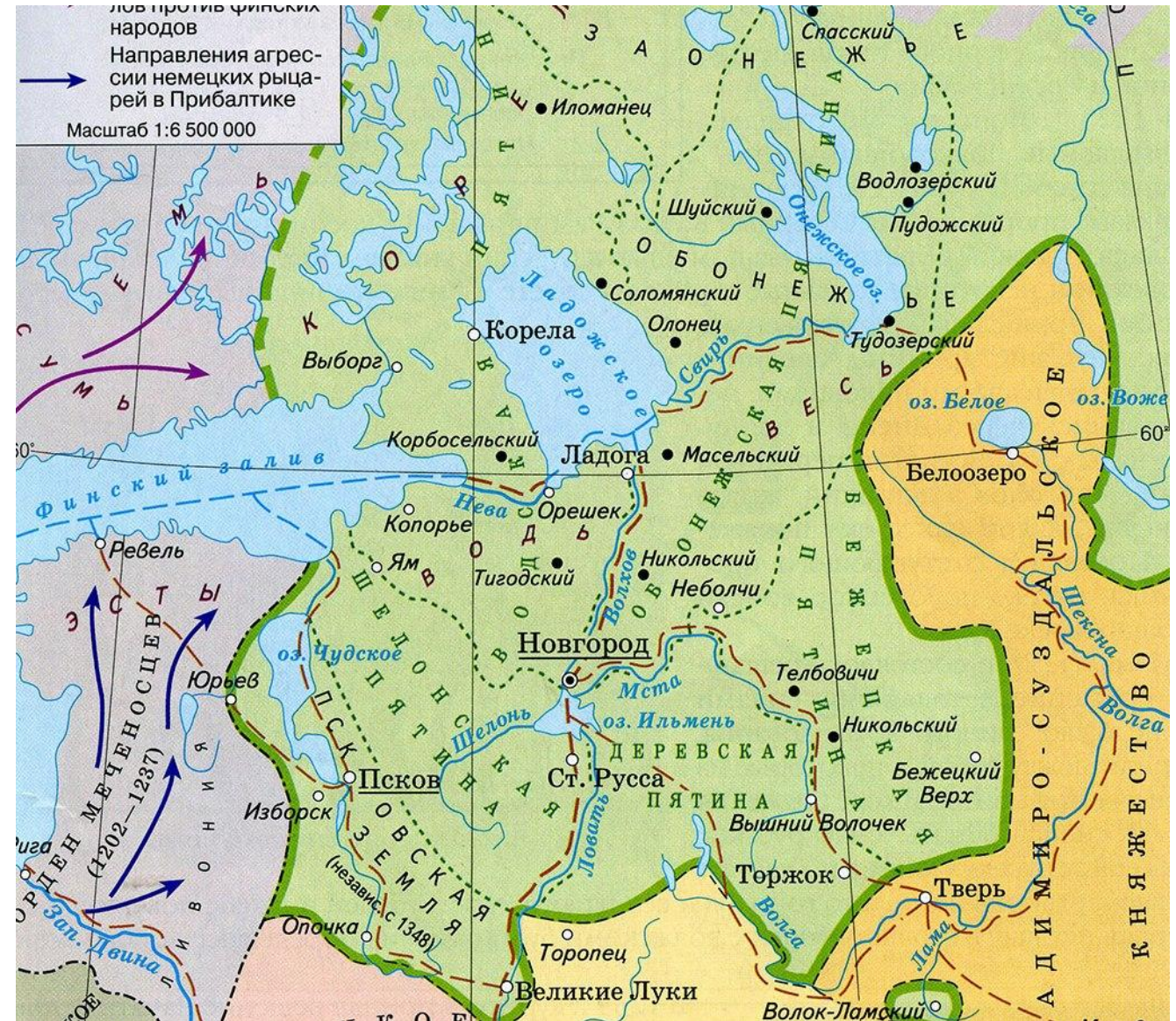
Запоминание расположения городов

- Опираясь на знание расположения рек, озер и морей, становится гораздо легче узнать города, которые в 99% случаев четко привязаны к воде.
- ***Проанализируйте по карте, на каких реках или возле каких других географических объектов были основаны города из списка и научитесь узнавать их по контурной карте (в разных масштабах) с опорой только на знание географии. Отметьте города из списка на всех контурной карте***

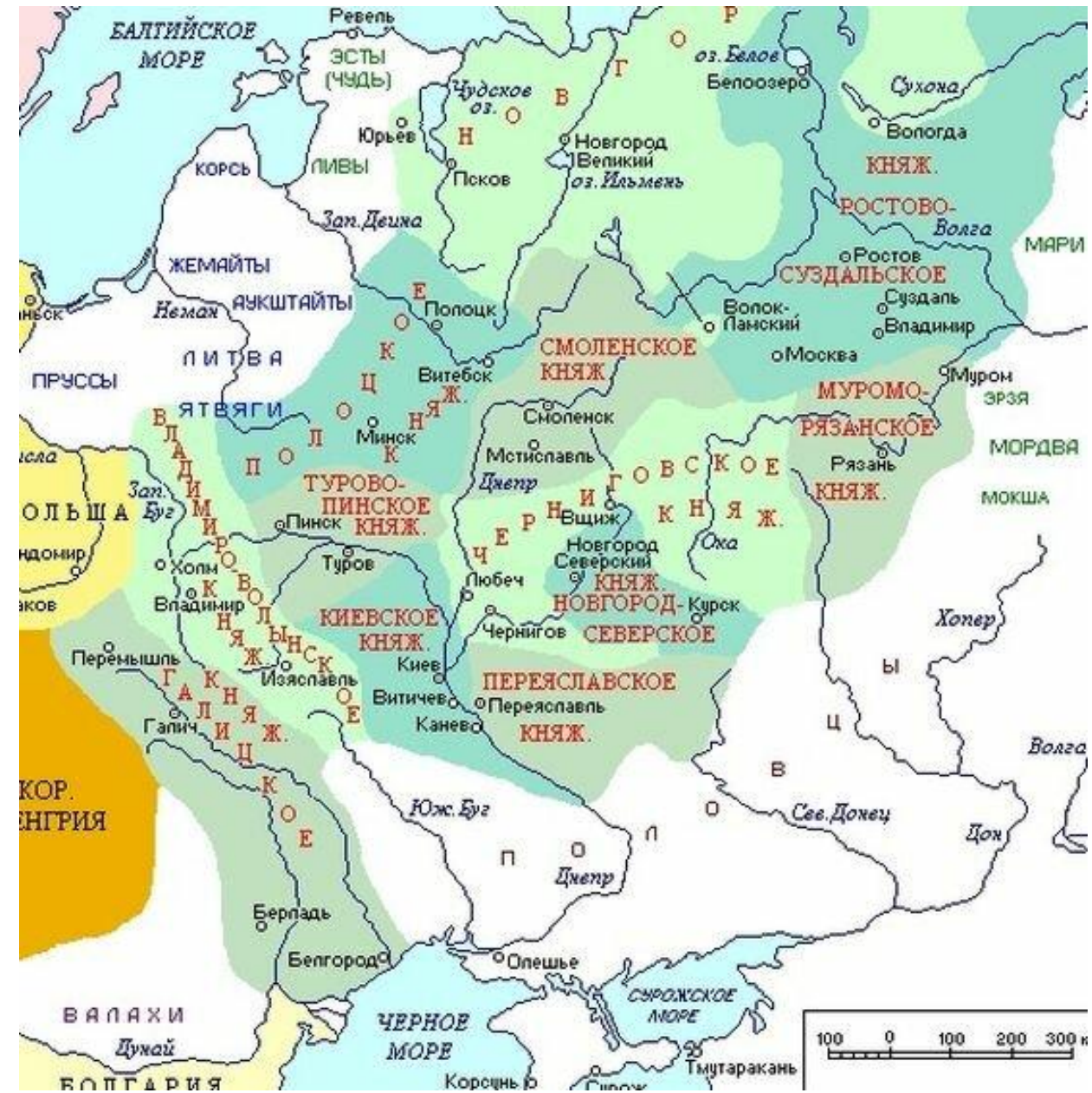
Ключевые города (первый период)

- 1. *Новгород*
- 2. *Киев*
- 3. *Смоленск*
- 4. *Владимир*
- 5. *Псков*
- 6. *Чернигов*
- 7. *Нижний Новгород*
- 8. *Москва*
- 9. *Херсонес (Корсунь)*
- 10. *Константинополь (Царьград)*

- Например, найти на карте город Новгород,
- ищем на Северо-Западе, чуть ниже и правее Финского залива. Нам нужен Ильмень, самое маленькое озеро в этом районе, оно «свисает» с Ладожского озера. Новгород «сидит» прямо сверху на озере.
- определить реку Волхов, на берегах которой он расположен



- **Киев, ищем над Черным морем. Стоит на берегу Днепра, чуть ниже «развилки» трех рек.**



Города: бассейн Черного моря

- *Азов*
- *Таганрог*
- *Севастополь*
- *Симферополь*
- *Керчь*
- *Евпатория*
- *Запорожская Сечь*
- *Очаков*
- *Одесса*
- *Херсон /Корсунь*

Города: бассейн Каспийского моря

- *Москва*
- *Тверь*
- *Нижний Новгород*
- *Казань*
- *Царицын / Волгоград / Сталинград*
- *Астрахань / Итиль*
- *Симбирск*
- *Саратов*

- *Суздаль*
- *Владимир*

Переименованные города России

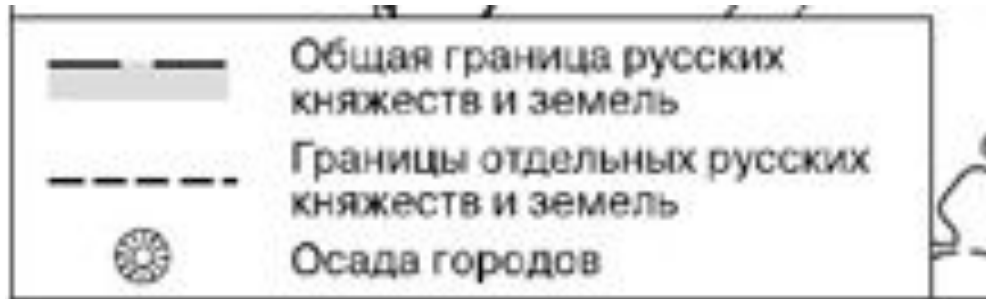
- Екатеринбург (1723) Свердловск (1924) Екатеринбург (1991)
- Екатеринодар (1793) Краснодар (1920)
- Нижний Новгород (1221) Горький (1932) Нижний Новгород (1991)
- Санкт-Петербурх (1703) Петроград (1914) Ленинград (1924) Санкт-Петербург (1991)
- Самара (1586) Куйбышев (1935) Самара (1990)
- Тверь Калинин (1931) Тверь (1990)
- Царицын (1589) Сталинград (1925) Волгоград (1961)
- **Симбирск – Ульяновск**
- **Вятка - Хлынов - Вятка – Киров**
- **Кенигсберг – Калининград**
- **Загорск – Сергиев Посад**
- **Тильзит – Советск**
- **Орешек - Нотебург - Шлиссельбург —Петрокрепость - Шлиссельбург**
- **Саркел – Белая Вежа**
- **Рязань – Переяславль- Рязанский**

Переименованные города России (советские деятели на карте)

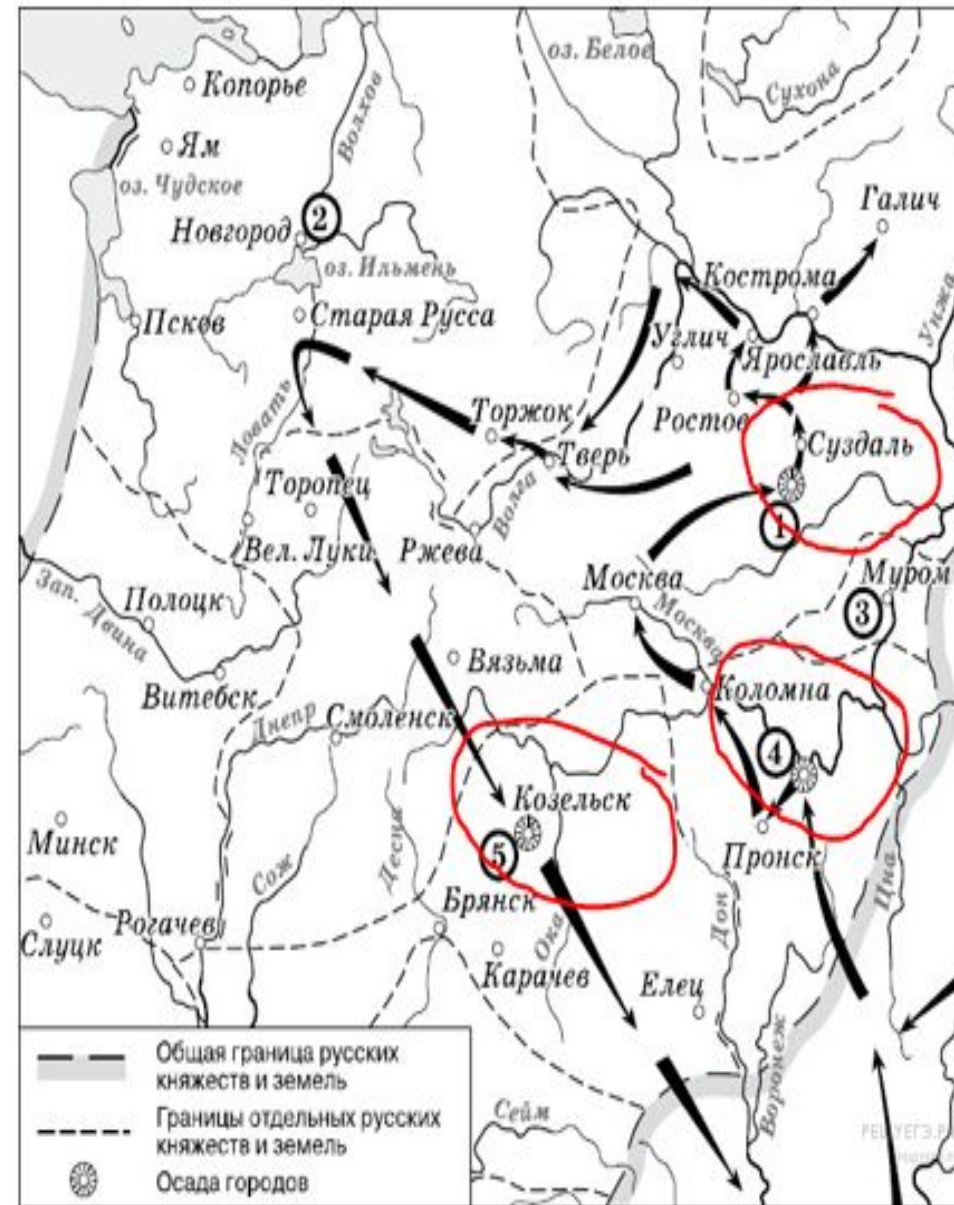
- Вятка – Киров
- Луганск – Ворошиловград
- Самара – Куйбышев
- Тверь – Калинин
- Симбирск – Ульяновск
- Новокузнецк – Сталинск
- Пермь – Молотов
- Бишкек – Фрунзе
- Екатеринбург – Свердловск
- Ижевск – Устинов

Этап 2. Работа с открытым банком заданий ФИПИ, пособиями по подготовке к ЕГЭ

- Рассмотреть карту, прочитать задания к карте 13-16
- Если есть легенда карты, то определить с ее помощью ключевые точки
- Найти (если есть) на карте даты
- В случае явного положения на карте какой-то войны/похода/перемещений выделить «опорные точки» для идентификации события
- В случае явного определения каких-либо границ обратить внимание: на пограничные территории/название нашего государства на карте (это может помочь с определением периода)/прочие неестественные объекты (любые стрелки и точки)



- Здесь показана Русь в период раздробленности, т. к. ключевое слово — **КНЯЖЕСТВА**
- обратим внимание на осаду городов: осадили города ...
- войска идут с Востока — это поход Батыя на Русь



Пособия

