

Тема занятия: «Измерение объема»



Необходимый материал:

- 2 одинаковых стакана.
- Вода
- Бутылка.
- Баночка.





Здравствуйте, ребята! Я
знаю, что вы очень умные,
сообразительные и всегда
хотите много знать,
поэтому я хочу пригласить
вас к себе в лабораторию и
кое-что рассказать
интересное. О чем?
Узнаете, когда прилетите
ко мне на ковре-самолете.

Ваш друг Профессор
Водолей



RedotoVA

Я – профессор Водолей. Я сегодня
как раз проводил опыты с одним
веществом. Угадайте, что это за
вещество.

*«Что в руках не удержишь и в
решете не унесешь?»*





Обратите внимание, у
меня на столе разные
сосуды. Хотите узнать в
какой из них
уместится больше
воды?
А как это узнать?

Как узнать в какой сосуд поместиться больше воды?

- а С помощью линейки.
- б Перелить воду из одного сосуда в другой.
- в С помощью мерного стакана.



Неверно...

← Еще раз

Продолжить →



Pedoteka

Верно!

Продолжить →



FedotoVA



Оказывается, надо сравнить
эти сосуды с помощью
переливания: налить воду в
один сосуд, потом перелить
в другой и посмотреть, что
получится.





Наполним 1 стакан до краев и перельем из него воду во 2 стакан. Видите, и второй стакан наполнился до краев, а в первом ничего не осталось. Значит в эти стаканы уместается одинаковое количество воды. Как вы думаете, какой из сосудов больше – бутылочка или баночка? Давайте проверим!

1) Зависит ли размер сосуда от его цвета? Высоты?

Да

Нет

2) Что важно когда мы сравниваем объем?

Цвет сосуда

Количество воды, которая уместается в сосудах


Размер сосуда



Неверно...

← [Еще раз](#)

[Продолжить](#) →



Pedoteka

Верно!

[Продолжить](#) →



FedotoVA

Задание по теме:

1)

1 В кувшин, который стоит слева от девочки, вошло 8 стаканов воды, в кувшин, стоящий справа от неё, — 7 таких же стаканов. Соедини кувшины с нужными числами. Поставь цветок в тот кувшин, объём которого больше.













5 7
8 6
9



Задание по теме:

2)







3 Дорисуй и соедини с нужными равенствами.

	+		=		$3 + 2 = 5$
	+		=		$5 - 3 = 2$
	-		=		$5 - 2 = 3$
	-		=		$2 + 3 = 5$

Задание по теме:

3)

4 Сравни числа с помощью знаков $>$, $<$ или $=$. На сколько одно число больше или меньше другого?

					
6	3	1	4	2	5

Спасибо за внимание!

