

ГОТОВНОСТЬ К ШКОЛЬНОМУ обучению




**Развивающие
задания и
упражнения для
подготовки к школе.**






**Найди лишний
предмет:**











Зачеркни лишний предмет на каждой картинке.
Назови оставшиеся предметы одним словом.





Логические задачи:



Выбери правильный ответ.

32) Какая фигура — круг?



33) Какая фигура — трапеция?



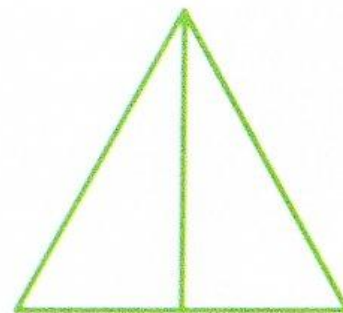
Выбери правильный ответ.

34) Сколько сторон и углов у квадрата?

- а) 3 стороны и 4 угла;
- б) 4 стороны и 4 угла;
- в) 4 стороны и 3 угла;
- г) 3 стороны и 3 угла.

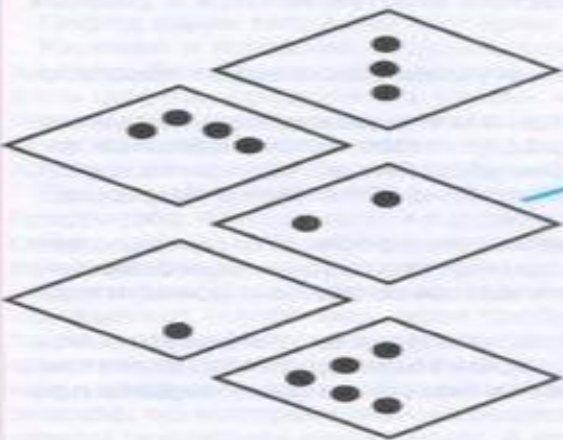
35) Сколько треугольников изображено на рисунке?

- а) 3;
- б) 2;
- в) 5;
- г) 6.





Соедини



- 4
- 2
- 1
- 3
- 5

- ПЯТЬ
- ЧЕТЫРЕ
- ТРИ
- ДВА
- ОДИН



- I
- II
- III
- IIII
- IIIII



Соедини одинаковые

ПО ФОРМЕ

ПО ЦВЕТУ



15 Какой предмет
в этом ряду
встречается один раз?



1



2



3



4



16 Выбери
точно
такую же
фигуру.



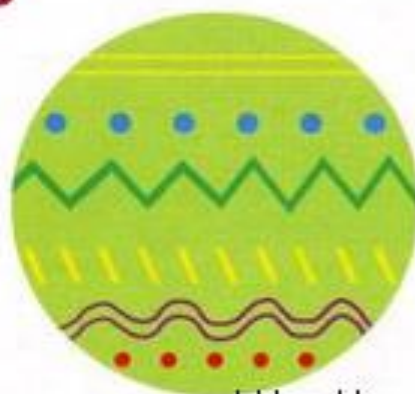
1



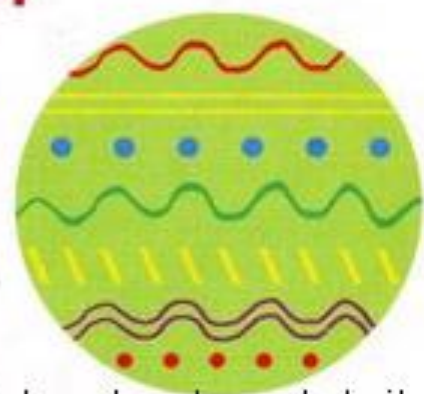
2



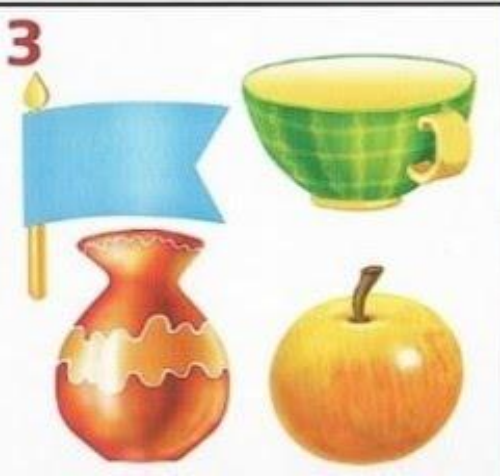
3




4



23) Выбери картинку, на которой один предмет заменили на другой.



24) В какой группе присутствуют только эти предметы?



Реши задачи:



Задача №1

Гуляя по парку, Асель нашла 5 кленовых листьев и 1 дубовый лист. Сколько всего листьев нашла Асель в парке?




Задача №2

У Тани в наборе детской посуды есть 3 маленькие и 2 большие кастрюли. Сколько всего кастрюль в наборе у девочки?



Задача №3

У Володи было всего 4 абрикоса. Он отдал 1 абрикос своей сестре Маше. Сколько абрикосов осталось у Володи?



Задача №4

У Жанары на подоконнике росло 3 кактуса. Утром девочка полила только 2 кактуса. Сколько кактусов не успела полить Жанара утром?





Сравни числа:





Каких фруктов больше? Сравни и впиши подходящие математические знаки «>», «<» или «=».



Сравни числа. Впиши подходящие математические знаки: «>», «<» или «=».

18

15

19

16

14

14

10

10

16

13

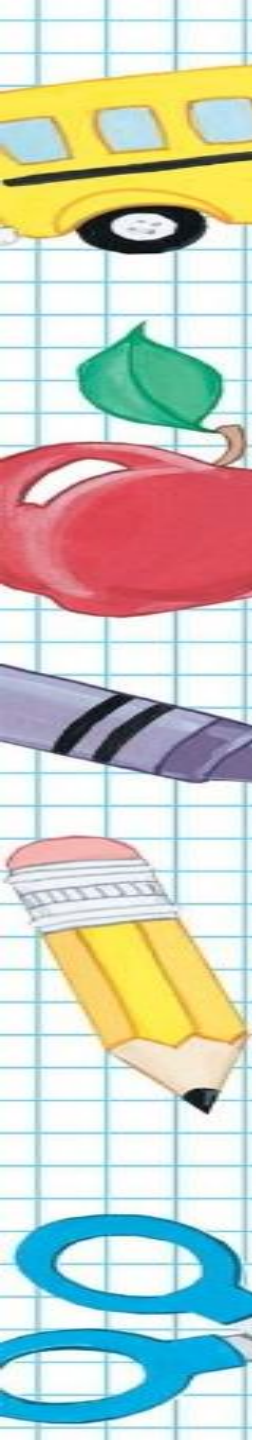
12




16

**Реши примеры
на сложение и
вычитание:**



R 5 5 5 5 5



 $-$  $=$ 

 $-$  $=$ 

 $-$  $=$ 

 $-$  $=$ 

 $-$  $=$ 



$$3 + 2 = \square$$



$$4 + 3 = \square$$



$$6 - 3 = \square$$



$$7 - 4 = \square$$



1



+



1



=



1



+



3



=



2




+



3




=



4



+



1



=





Реши примеры. Соедини шарик с подходящими цифрами.

$10 + 2$

$16 + 3$

$15 + 2$

$11 + 7$

$13 + 7$

$18 - 2$

$14 - 1$

$17 - 3$

1	2
---	---

1	7
---	---

1	3
---	---

2	0
---	---

1	9
---	---

1	4
---	---

1	6
---	---

1	8
---	---

Добавь букву:



Добавь букву в каждую карточку, чтобы получилось слово

В Л К

Б О

М Л

Т У А

Р К А

Р Г

К О

 Л А З

З У

Л Т О

Ч А

Н О

Р О

К О А

Е Л

С П

С Р

Какие буквы пропущены в словах?
Допиши буквы и прочитай слова.
Картинки помогут тебе.

К О А



З О Т



Р О А



С А



Ё Л А



П Е У Х



К Л Ч



С М О Л Ё Т



М Ч



С О Н Ц Е



Т И Р



С Е Ч А





ТЫ - МОЛОДЕЦ!

У тебя все отлично получилось!!!

