

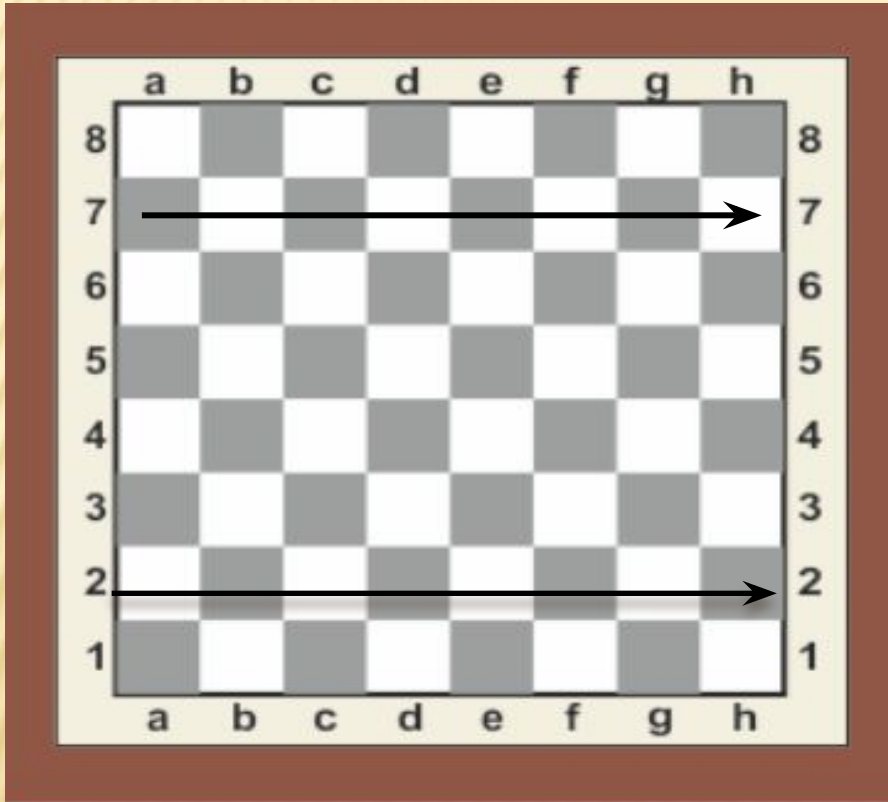
Урок № 4 Вертикаль

к УМК «Шахматы в школе» Е.А. Прудниковой. Первый год обучения


ПОДГОТОВИЛА ПЕДАГОГ ДОПОЛНИТЕЛЬНОГО ОБРАЗОВАНИЯ МБОУ
«БАРГУЗИНСКАЯ СОШ» УХИНОВА С.Б




КАК НАЗЫВАЕТСЯ ОБОЗНАЧЕННАЯ СТРЕЛКОЙ
ЛИНИЯ?
КАК ОБОЗНАЧАЮТСЯ НА ДОСКЕ ГОРИЗОНТАЛИ?



НАЙДИ ОШИБКУ




ПОВТОРЕНИЕ ИЗУЧЕННОГО



ВЕРТИКАЛЬ - ЭТО 8 ПОЛЕЙ,
РАСПОЛОЖЕННЫХ СВЕРХУ ВНИЗ

СКОЛЬКО ВЕРТИКАЛЕЙ?

ВЕРТИКАЛИ ОБОЗНАЧАЮТСЯ
ЛАТИНСКИМИ БУКВАМИ




ПЕЧАТНЫЕ БУКВЫ	Aa	Bb	Cc	Dd	Ee	Ff	Gg	Hh
РУКОПИС- НЫЕ БУКВЫ	<i>Aa</i>	<i>Bb</i>	<i>Cc</i>	<i>Dd</i>	<i>Ee</i>	<i>Ff</i>	<i>Gg</i>	<i>Hh</i>



ПОКАЖИ ОСТАЛЬНЫЕ ВЕРТИКАЛИ

Вертикаль g



РАСКРАСЬ ПРОСТЫМ КАРАНДАШОМ ДВЕ ВЕРТИКАЛИ

Возьми простой карандаш и правильно, но по-разному, раскрась две вертикали.





ИНТЕРЕСНЫЕ ФАКТЫ

- Во все времена шахматы считались атрибутом знатности, поэтому обычно располагались на самых видных местах в доме, а игровая доска и фигуры изготавливались из различных дорогостоящих материалов.





Всем СПАСИБО.
ДО СВИДАНИЯ.

