



Разряды счётных

единиц

СТР. 44-45



К уроку № 94

«Школа России» 3 класс

Устный счёт



Прочитайте числа.

509

410

398

890

109

602



389

700

964

206

411

999

912

340

587

Расположите числа в порядке возрастания.

**Запишите
числа**

в тетрадь.



| СОТНИ | ДЕСЯТКИ | ЕДИНИЦЫ |
|-------|---------|---------|
| 6 | 0 | 4 |
| 3 | 5 | 9 |
| 2 | 0 | 1 |
| 3 | 7 | 9 |
| 5 | 1 | 0 |

Найдите всю массу колобка, если одна из 4 его частей



вЕСИТ 2 кг.

$$2 \bullet 4 = 8 \text{ кг}$$

8 кг




Бабушка месило тесто **20 минут**, пекла колобка в печи

80 минут. Сколько часов и минут понадобилось бабушке.



чтобы

1 ч 40




В корзинке у зайчика **11** подосиновиков, а
подберёзовиков
в **3** раза больше. На сколько больше в корзинке
подберёзовиков, чем подосиновиков?

$$11 \bullet 3 - 11 = 22(\text{гр.})$$



на 22 гр.


От зайца до волка колобок прокатился **230 м**, это на **100 м**

меньше, чем от волка до медведя. Сколько метров катился колобок от волка до медведя? 

$$230 + 100 = 330(\text{м})$$



330 м

От зайца до волка колобок прокатился **230 м**, от волка до медведя **330 м**. А от медведя до лисы ещё **200 м**. 

Сколько всего метров катился колобок от зайца до лисы?



760 м

Задания на смекалку



Мальчик, рост которого составлял один метр, вбил в дерево гвоздь точно на высоте своего роста. Три года спустя он вернулся на это место. Мальчик вырос на двадцать сантиметров, а дерево - на сорок сантиметров. На сколько теперь гвоздь оказался выше мальчика?



Гвоздь окажется ниже мальчика на 20 см. Деревья растут верхушкой, и поэтому гвоздь не поднимется.

конец

Видеоурок:

<http://interneturok.ru/ru/school/matematika/3-klass/chisla-ot-1-do-100-0-numeracija/razryady-schetnyh-edinits>