




*Почему европейские христиане-католики организовывали походы против исламских стран?*



Чему мы должны научиться на уроке?

7.3.2.7 определять причины и последствия крестовых походов на примере 1-4 походов, обозначая на карте события в их динамике

# Критерии оценивания

- ✓ определяет причины и последствия крестовых походов на примере 1-4 крестовых походов  
обозначает на карте события 1-4 крестовых походов

В **1095** году на обширной равнине у французского города Клермона перед огромной толпой народа выступил с речью папа римский **Урбан II**. Он призвал собравшихся «опоясаться мечом» и двинуться в Палестину.

# Почему?



Pope Urban II Preaches the First Crusade

# Каковы же причины крестовых походов?

*Давайте их разберем!*



*На наш взгляд,  
главной причиной  
крестовых походов  
было....., а  
второстепенной....*



политические

Социально-  
экономические

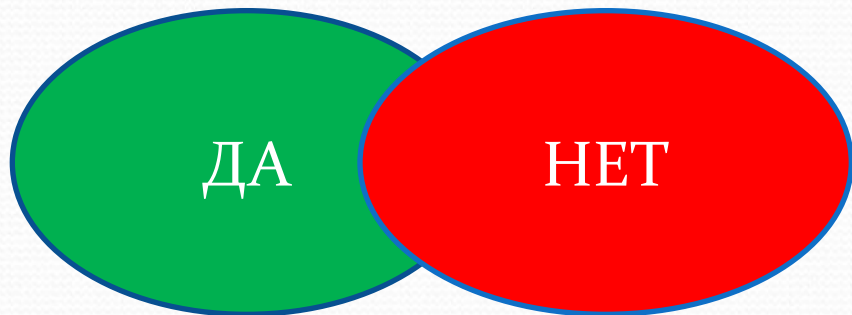
религиозные

***Внимательно посмотрите и  
прослушайте видеоролик!***





## *Группа А*




## *Группа В + В1*



## *Группа С*



# Прочитайте текст в группах и свои графы в таблице

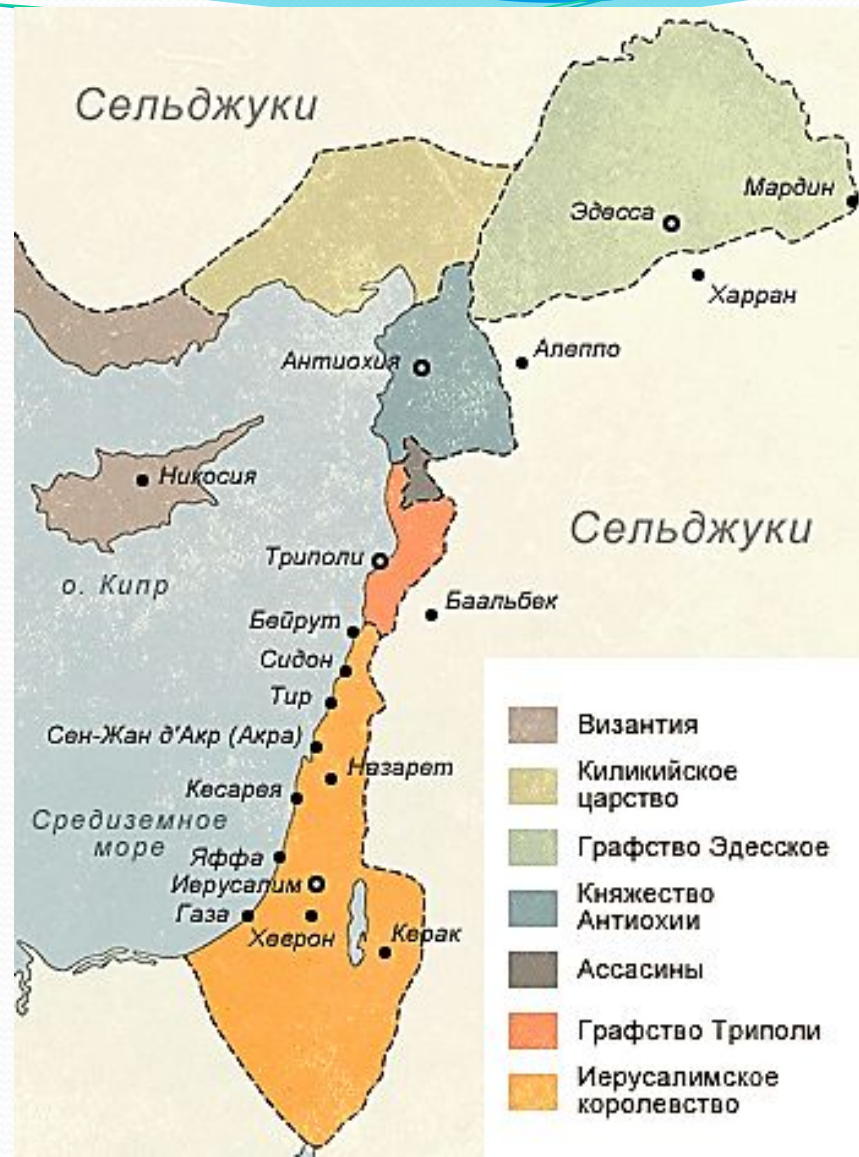


	1 ПОХОД	2 ПОХОД	3 ПОХОД	4 ПОХОД
<i>Дата</i>				
<i>участники</i>				
<i>Результат</i>				



**Домашнее задание:** по заполненной таблице знать даты крестовых походов, направления крестовых походов по карте, и их результат

По карте записать направления крестовых походов? Знать места расположения важнейших объектов (Византийская империя, город Рим, город Константинополь, Средиземное море, город Иерусалим, владения крестоносцев на востоке) см в презентации.





**Филипп II Август**



**Ричард I  
Львиное Сердце**



**Фридрих I  
Барбаросса**

**Тамплиеры  
(от франц. «тамбль») -  
храм**



**Госпитальеры**



**Тевтонский  
орден**



