

**Практическая работа по
теме «Древнерусское
государство в IX – первой
половине XII века**



Кто правил в Древнерусском государстве позже других?

- 1) Святослав
- 2) Игорь
- 3) Олег
- 4) Владимир Мономах

Владимир Мономах



Какой князь считается родоначальником династии русских князей

- 1) Аскольд
- 2) Кий
- 3) Дир
- 4) Рюрик



Рюрик



Что изображено на этой картине?



Васнецов А. Вече



Какая задача стояла перед Древнерусским государством?

- 1) Прекращение контактов с другими странами
- 2) Представление всем крестьянам-общинникам земельных наделов
- 3) Усиление власти старейшин
- 4) Обеспечение первенства Руси на важнейших торговых путях



Обеспечение первенства Руси на важнейших торговых путях



Стремление укрепить государственную власть заставило князя Владимира Святославовича:

- 1) Учредить погосты и уроки**
- 2) Принять христианство**
- 3) Создать русскую правду**
- 4) Убить киевских князей Аскольда и Дира**



Принять христианство



- Когда произошли события, описанные в отрывке из летописи
- И собрались в Любече для устранения мира. И обращались к себе, говоря: «зачем губим Русскую землю, сами на себя вражду воздвигая, а половцы землю нашу терзают на части и радуются. Что между нами войны и доньне. С этого времени соединимся в одно сердце и будем охранять Русские земли. Пусть каждый держит вотчину свою... и на этом целовали крестбесли кто пойдет на кого (войной), то на того будем все... и принеся клятву, разошлись восвояси.

1) в 862г.

3) в 988 г.

2) в 882 г.

4) в 1097 г.

В 1097 г.



- Кто относится к категории зависимого населения Древнерусского государства

- 1) вотчинник 2) холопы 3) дружинник
4) закупы 5) рядовичи



Холопы, закупы, рядовичи



Установите соответствие между элементами левого и правого столбца

Имя князя	характеристика
1. Олег	А. Нанес половцам сокрушительное поражение. Принял новый свод законов «Устав», который облегчил положение зависимого населения на Руси Б. Объединил Киев и Новгород под своей властью, совершил ряд успешных походов против Византии В. Совершил неудачный поход против Византии, убит древлянами
2. Игорь	
3. Владимир Мономах	

1 – Б, 2 – В, 3 - А

Установите соответствие между элементами левого и правого столбиков

термин	определение
1. Бортничество	А. сбор дани
2. Погост	Б) сбор меда диких пчел
3. Полюдье	В) место сбора дани

1 – Б, 2 – В, 3 - А



Расставьте предложенные ниже слова в местах пропусков.


слова	текст
А. Владимир Мономах	<p>С момента образования Древнерусского государства его правителям постоянно приходилось защищать южные границы от набегов кочевников. Князь Святослав погиб на днепровских порогах от рук степняков. Его сын, киевский князь _____ построил на южных границах Руси линию оборонительных сооружений. Только в первой половине 11 века Ярославу Мудрому удалось нанести сокрушительное поражение _____. Однако позже у русских границ появились новые враги _____. В 1068 году на реке Альте они разбили русское войско. Возглавлял войско князь _____. Вдохновителем общерусской борьбы с новой угрозой стал _____. Весной 1111 года он нанес кочевникам сокрушительный удар.</p>
Б. Владимир Святой	
В. Изяслав	
Г. печенеги	
Д. половцы	


Соотнеси древнерусский термин и его объяснение


Древнерусский термин	Объяснение
1) Смерд	А) Человек, попавший в полную зависимость от господина, раб
2) Закуп	Б) Человек, заключивший договор о выполнении определенных обязанностей в пользу господина
3) рядович	В) Разорившийся общинник, пошедший в долговую кабалу за ссуду, проценты с которой он отрабатывал на поле у человека, ссудившего ему деньги
4) Холоп	Г) Человек, выполняющие какие-либо повинности в пользу князя


1 – Г, 2 – В, 3 – Б, 4 – А

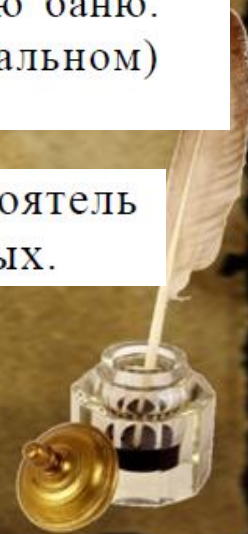



 — государственное образование в VI в. н. э. в Подунавье (Паннония), созданное *аварами*, включавшее в себя завоеванные территории от Дуная до Сев. Кавказа. Воевало с Византией, германцами, славянами. В нач. X в. покорено венграми. Гл. занятие — полукочевое скотоводство.


 — союз кочевых племен. Известны с сер. V в. н. э., объединял племена Центр. Азии, Зап. Сибири, Предуралья и Поволжья. Во время переселения на запад подчинили себе восточнославянских дулебов. В летописи рассказывается об их жестокостях и гибели: «Погибли аке обры».


 — первый из 12 близких апостолов (учеников) Христа, поэтому и прозвище. По преданию, изложенному в *Повести временных лет*, Андрей в числе прочих стран проповедовал *христианство* и на Руси, пройдя по «пути из варяг в греки» из Черного моря в Балтийское. Андрей, как указывает *летопись*, воздвиг крест на Киевских горах и предсказал Киеву великое будущее. Был он и в Новгороде, где посетил русскую баню. Принял мученическую кончину, будучи распятым на косом (диагональном) иксообразном кресте.


 (983-1073) - основатель и первый настоятель (игумен) Киево-Печерского монастыря (1051). Причислен к лику святых.



 — объединения славянских племен IV—VII вв. н. э. Так называют их византийские и готские писатели (Иордан, Прокопий Кессарийский). Они жили в лесостепи между Днестром и Днепром. Общественный строй — военная демократия. Основное занятие — пашенное земледелие. Воевали с Византией, аварами, готами. Среди их вождей — Боз (Бож, Бооз). Их южными соседями были склавины.

 (? — 882) — киевские *князья*, по летописному сказанию были *боярами* князя *Рюрика*. В 866 г. Аскольд совершил поход на Царьград. По одной из версий — продолжатели династии легендарного *Кия*, по другой — возможно, не были его современниками. Убиты князем *Олег*ом, захватившим Киев в 882 г.

 (? — 453) — предводитель *гуннов*, при котором гуннский союз племен достиг наивысшего могущества. Прославился походами на *Византию* и Рим.

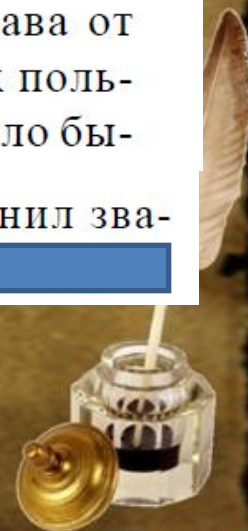
 — драгоценные оплечья, украшенные религиозными изображениями, у византийских *императоров*, русских *великих князей* и *царей*. Одевались во время коронации и торжественных выходов. Часть «большого наряда».



_____ — старейшина славян, убитый готским предводителем *Vitumnarom* в IV в. н. э. Первое свидетельство о политической истории славян. •• Время Бусово» упоминается в «Слове о полку Игоревен.

_____ государство в Ср. Поволжье и Прикамье, образовалось в X в. после прихода на эти земли, где /жили финно-угорские племена, тюрко-язычных племен из Великой Болгарии (Приазовье). Основа хозяйства - плужное земледелие. Религия — ислам. (голица — Булгар, Биляр. Завоевана монголо-татарами в 1236 г. и включена п состав *Золотой Орды*. В 1438 г. на сс территории образовалось *Казанское ханство*.

_____ — высшее *сословие феодалов* в IX—XVII вв. В Русском государстве — потомки родовой знати, старшие дружинники, *вассалы великих князей*. В XIV—XVII вв. наряду с обозначением крупных землевладельцев термин использовался и как обозначение высшего служебного чина, а также лица, пожалованного этим чином. Крупные землевладельцы, передававшие свои права от отца к сыну по наследству. Они были вассалами князя и на первых порах пользовались правом отъезда к новому сюзерену. В Московской Руси это правило было отменено, а права _____ были ограничены. *Петр I* в нач. XVIII в. отменил звание _____. Позже это слово трансформировалось в понятия _____



ВАРЯГИ — собирательное название скандинавов (от сканд. *var* — обет, клятва). Наемные дружинники русских князей в IX—XI вв. и, возможно, скандинавские купцы, торговавшие на пути из «варяг в греки». Первые русские полупрозрачные князья *Рюрик*, *Синеус*, *Трувор* названы летописцем варягами.



В исторической науке существуют дискуссионные проблемы, по которым высказываются различные, часто противоречивые точки зрения. Ниже приведена одна из спорных точек зрения, существующих в исторической науке.

Киевскую Русь 10-начала 12вв. нельзя назвать централизованным государством.

Используя исторические знания, приведите два аргумента , которыми можно подтвердить данную точку зрения , и два аргумента , которыми можно её опровергнуть. При изложении аргументов обязательно используйте исторические факты.

Ответ запишите в следующем виде.

Аргументы в подтверждение:

1)...

2)...

Аргументы в опровержение:

1)...

2)...



1 Напишите название союза племён, территория проживания которого обозначена на схеме цифрой «2».

Ответ: _____.

2 Напишите название союза племён, территория проживания которого обозначена на схеме цифрой «5».

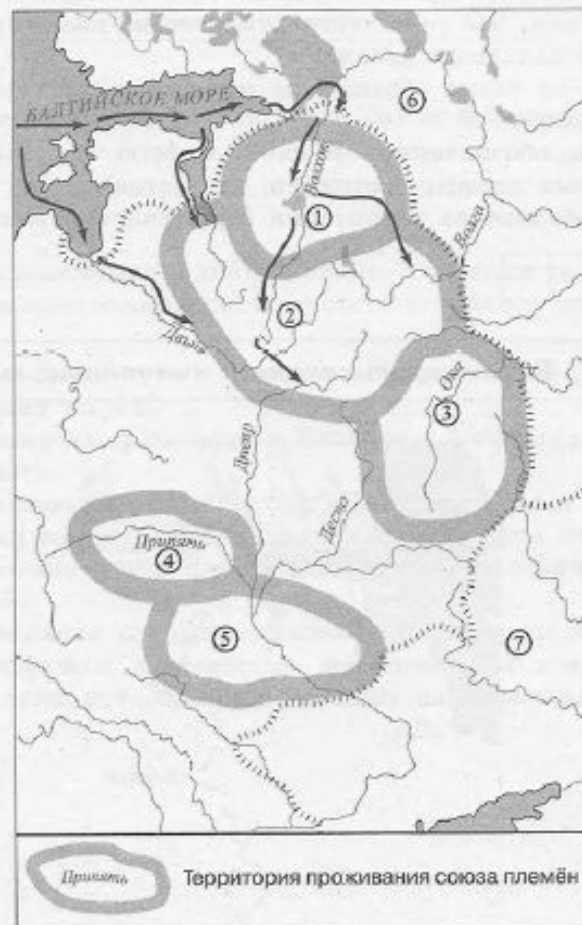
Ответ: _____.

3 Напишите название озера, вокруг которого проживал союз племён, отмеченный на схеме цифрой «1».

Ответ: _____.

4 Какие суждения, относящиеся к данной схеме, являются верными? Выберите три суждения из шести предложенных. Запишите в таблицу цифры, которыми они обозначены.

- 1) На схеме обозначены районы расселения народов Восточной Европы в IX в.
- 2) С народами, проживавшими на территориях, обозначенных на схеме цифрой «6», славянам приходилось постоянно воевать.
- 3) Союзы племён, чьё расселение отмечено на схеме цифрами 1, 2, 3, 4 и 5, относились к западным славянам.
- 4) Стрелками на схеме обозначены маршруты проникновения норманнов в Восточную Европу.
- 5) Территория, обозначенная на схеме цифрой «7», была местом обитания тюркских кочевых племён (например, печенегов).
- 6) На схеме обозначена территория Византийской империи.



5 Напишите название реки, обозначенной на схеме цифрой «1».

Ответ: _____.

6 Напишите название города, обозначенного на схеме цифрой «2».

Ответ: _____.

7 Напишите название пути, обозначенного на схеме пунктирной линией.

Ответ: _____.

8 Какие суждения, относящиеся к данной схеме, являются верными? Выберите три суждения из шести предложенных. Запишите в таблицу цифры, которыми они обозначены.

- 1) Обозначенный на схеме путь — один из водных путей экспансии варягов из района проживания на юг.
- 2) По представленному на схеме пути в Византию доставляли шёлк, фарфор, благовония и пряности.
- 3) На схеме указан путь, который потерял своё значение в XII в. как оптимальный маршрут для торгово-экономических связей Руси со странами Запада.
- 4) Города, обозначенные на схеме, появились ещё до возникновения Древнерусского государства.
- 5) Обозначенный на схеме путь скандинавы использовали исключительно с мирными целями: торговля, дипломатия, миссионерство и т. д.
- 6) Указанный на схеме путь был кратчайшим из Константинополя в Западную Европу.



9

Напишите имя полководца, который возглавлял походы, обозначенные на схеме стрелками.

Ответ: _____.

10

Напишите название народа, государство которого, обозначенное на схеме цифрой «2», было разгромлено в ходе изображённых на схеме походов.

Ответ: _____.

11

Напишите название союза племён, обозначенного на схеме цифрой «1».

Ответ: _____.

12

Какие суждения, относящиеся к событиям, обозначенным на схеме, являются верными? Выберите три суждения из шести предложенных. Запишите в таблицу цифры, которыми они обозначены.

- 1) Князь, который возглавлял изображённые на схеме походы, отправлял своим врагам послание «Иду на вы».
- 2) Одним из последствий походов, представленных на схеме, стал союз Руси с государством, обозначенным на схеме цифрой «4».
- 3) В результате походов, обозначенных на схеме, к Руси была присоединена территория, обозначенная на схеме цифрой «3».
- 4) Князя, ходившего в обозначенные на схеме походы, упрекали в том, что, увлечшись завоеваниями, он забыл об обороне собственной земли.
- 5) Жизнь князя, походы которого обозначены на схеме, окончилась гибелью в битве при Доростоле.
- 6) Походы, отмеченные на схеме, привели к установлению на Руси феодальной раздробленности.



1 Расположите в хронологической последовательности исторические события. Запишите цифры, которыми обозначены события, в правильной последовательности в таблицу.

- 1) принятие Русской Правды
- 2) легендарное призвание Рюрика
- 3) Великое переселение народов

Ответ:

--	--	--

2 Установите соответствие между событиями и годами: к каждой позиции первого столбца подберите соответствующую позицию из второго столбца.

СОБЫТИЯ

ГОДЫ

- | | |
|---------------------------------|------------|
| А) Крещение Руси | 1) 882 г. |
| Б) поход Олега на Новгород | 2) 945 г. |
| В) Стояние на Угре | 3) 988 г. |
| Г) присоединение Твери к Москве | 4) 1240 г. |
| | 5) 1480 г. |
| | 6) 1485 г. |

Запишите в таблицу выбранные цифры под соответствующими буквами.

Ответ:

А	Б	В	Г

3 Ниже приведён список терминов. Все они, за исключением двух, относятся к экономике Древней Руси.

- 1) *борть*; 2) *мануфактура*; 3) *соха*; 4) *мозаика*; 5) *гривна*; 6) *вотчина*.

Найдите и запишите порядковые номера терминов, не относящихся к экономике Древней Руси.

Ответ:

--	--

4 Запишите термин, о котором идёт речь.

Народное собрание у славян, на котором решались главные вопросы общественной жизни.

Ответ: _____.

5 Установите соответствие между процессами (явлениями, событиями) и фактами, относящимися к этим процессам (явлениям, событиям): к каждой позиции первого столбца подберите соответствующую позицию из второго столбца.

ПРОЦЕССЫ (ЯВЛЕНИЯ, СОБЫТИЯ)

- А) распад Древнерусского государства
- Б) борьба русских земель с ордынским владычеством
- В) образование единого Российского государства
- Г) развитие древнерусского законодательства

ФАКТЫ

- 1) присоединение Новгорода к Москве
- 2) издание указа о резах и закупах
- 3) заключение Флорентийской унии
- 4) восстание в Твери
- 5) формирование Новгородской вечевой республики
- 6) провозглашение Киева матерью городов русских

Запишите в таблицу выбранные цифры под соответствующими буквами.

Ответ:

А	Б	В	Г



6

Установите соответствие между фрагментами исторических источников и их краткими характеристиками: к каждому фрагменту, обозначенному буквой, подберите по две соответствующие характеристики, обозначенные цифрами.

ФРАГМЕНТЫ ИСТОЧНИКОВ	
А)	«Князь, собрав множество воинов, двинулся на Москву, на великого князя Дмитрия Ивановича. Он по своему обычаю тайно выступил и скрытно вел свое войско... Когда же до великого князя (московского) дошли вести, что ... идёт войной, он приказал без промедления рассылать грамоты по городам и начал собирать воинов... но было уже поздно, ниоткуда из дальних мест военные отряды уже не могли подойти... Великий князь (московский)... затворился в крепости с князьями, с боярами и со всем народом. И ... стоял под стенами три дня и три ночи, сжёг всё на посаде, и церкви многие и монастыри и отступил от Москвы, не взяв Кремля».
Б)	«И когда пришёл, повелел опрокинуть идола — одних изрубить, а других сжечь. Перуна же приказал привязать к хвосту коня и волочить его с горы по Боричеву взвозу к Ручью и приставил 12 мужей колотить его палками. Делалось это не потому, что дерево что-нибудь чувствует, но для поругания беса, который обманывал людей в этом образе, — чтобы принял он возмездие от людей. «Велик ты, Господи, и чудны дела твои!» Вчера ещё был чтим людьми, а сегодня поругаем. И, притащив, кинули его в Днепр».

ХАРАКТЕРИСТИКИ

- 1) Описанные события происходили в Киеве.
- 2) Противником Дмитрия Ивановича был князь Ольгерд.
- 3) Приказ об уничтожении идолов отдал князь Ярослав Мудрый.
- 4) Москву удалось отстоять благодаря белокаменным укреплениям.
- 5) Уничтожение идолов произошло вскоре после похода на Корсунь.
- 6) Описанные события относятся к 1238 г.

Запишите в таблицу выбранные цифры под соответствующими буквами.

Ответ:	Фрагмент А		Фрагмент В	
	<input type="text"/>	<input type="text"/>	<input type="text"/>	<input type="text"/>



- 11 Заполните пустые ячейки таблицы, используя приведённый ниже список пропущенных элементов: для каждого пропуска, обозначенного буквами, выберите номер нужного элемента.

Событие	Дата	Участник
Захват Константинополя	_____ (А)	Мехмед II
Разгром Хазарского каганата	_____ (Б)	_____ (В)
_____ (Г)	945 г.	Ольга
Поход на Константинополь	_____ (Д)	_____ (Е)

Пропущенные элементы:

- 1) 966 г.
- 2) убийство Бориса и Глеба
- 3) 907 г.
- 4) Олег
- 5) Юрий Долгорукий
- 6) налоговая реформа
- 7) 1019 г.
- 8) Святослав
- 9) 1453 г.

Запишите в таблицу выбранные цифры под соответствующими буквами.

Ответ:

А	Б	В	Г	Д	Е





18

Какие суждения о памятнике, изображённом на фотографии, являются верными? Выберите два суждения из пяти предложенных. Запишите в таблицу цифры, под которыми они указаны.

- 1) Памятник посвящён событию, отражённому в «Повести временных лет».
- 2) Памятник был установлен в Новгороде.
- 3) Автор памятника — скульптор А. М. Опекушин.
- 4) Памятник был уничтожен в годы Великой Отечественной войны.
- 5) Памятник был создан в период Северной войны.

19

Какие из зданий, представленных ниже, были построены в том же городе, где установлен памятник? В ответе запишите две цифры, под которыми указаны эти здания.

1)



2)



3)



4)



Фрагмент из «Повести временных лет»

«В тот год сказала дружина Игорю: “Отроки Свенельда изоделись оружием и одеждой, а мы наги. Пойдём, князь, с нами за данью, и себе добудешь, и нам”. И послушал их Игорь — пошёл к древлянам за данью и прибавил к прежней дани новую, и творили насилie над ними мужи его. Взяв дань, пошёл он в свой город. Когда же шёл он назад, — поразмыслив, сказал своей дружине: “Идите с данью домой, а я возвращусь и похожу ещё”. И отпустил дружину свою домой, а сам с малой частью дружины вернулся, желая большего богатства. Древляне же, услышав, что идёт снова, держали совет с князем своим Малом: “Если повадится волк к овцам, то вынесет всё стадо, пока не убьют его; так и этот: если не убьём его, то всех нас погубит”. И послали к нему, говоря: “Зачем идёшь опять? Забрал уже всю дань”. И не послушал их Игорь; и древляне, выйдя из города Искоростеня, убили Игоря и дружину его, так как было их мало. И погребён был Игорь, и есть могила его у Искоростеня в Деревской земле и до сего времени».

- 20** Кто был отцом Игоря? Кого Игорь сменил на княжеском престоле в Киеве? В каком году произошли описанные в летописи события?
- 21** Как звали древлянского князя? Какой город был племенным центром древлян? Что явилось причиной смерти Игоря?
- 22** Используя свои знания по истории, напишите имя жены князя Игоря, которая стала править после его смерти. Укажите два мероприятия, которые она предприняла после гибели мужа.



Событие	Дата	В России:
1 - падение Западной Римской империи	476	
2 - возникновение государства франков	486	
3 - правление Юстиниана в Византийской империи	527-565	
4 - возникновение ислама	VII в	
5 - возникновение государства у арабов	632	
6 - провозглашение Карла Великого императором	25 декабря 800	
7 - распад Франкской империи	843	
8 - образование Священной Римской империи	2 февраля 962	
9 - разделение Христианской церкви на Восточную (православную) и Западную (католическую)	1054	
10 - нормандское завоевание Англии	1066	
11 - Крестовые походы	1096-1291	



Многие города Древней Руси возникали на берегах рек. Объясните, в чём состояли преимущества такого расположения города (приведите три объяснения).

23

Многие города Древней Руси возникали на берегах рек. Объясните, в чём состояли преимущества такого расположения города (приведите три объяснения).

Содержание верного ответа и указания по оцениванию (допускаются иные формулировки ответа, не искажающие его смысла)	Баллы
<p>Могут быть приведены следующие <u>объяснения</u>:</p> <p>1) расположение города на берегу реки облегчало его торговые связи, поскольку в Древней Руси водные пути зачастую были более удобными, чем сухопутные;</p> <p>2) расположение на берегу (особенно высоком) реки делало город менее уязвимым для врагов в случае штурма;</p> <p>3) город, расположенный на берегу реки, имел больше шансов успешно справиться с пожарами, поскольку большинство построек в Древней Руси были деревянными.</p> <p>Могут быть приведены другие объяснения</p>	
Правильно приведены три объяснения	3
Правильно приведены два объяснения	2
Правильно приведено одно объяснение	1
Приведены рассуждения общего характера, не соответствующие требованию задания.	0
ИЛИ Ответ неправильный	
<i>Максимальный балл</i>	<i>3</i>

№1. Из исторического источника.

«В год 6370 изгнали варягов за море, и не дали им дани, и начали сами собой владеть, и не было среди них правды, и встал род на род, и была у них усобица, и стали воевать друг с другом. И сказали себе: «Поищем себе князя, который бы владел нами и судил по праву». И пошли за море к варягам, к руси... Сказали руси чудь, славяне, кривичи и весь: «Земля наша велика и обильна, а порядка в ней нет. Приходите княжить и владеть нами». И избрались трое братьев со своими родами, и взяли с собой всю русь, и пришли и сел старший, Рюрик, в Новгороде, а другой, Синеус, на Белоозере, а третий, Трувор, — в Изборске. И от тех варягов прозвалась Русская земля».

- С1.** Приведите название документа и имя его автора. О событиях какого века говорится в документе?
- С2.** О каком событии идёт речь в отрывке? Что послужило его причиной? Укажите не менее двух причин.
- С3.** Каковы были последствия описанного в историческом источнике события? Назовите не менее трёх последствий.

- **Из исторического источника.**
- «В год 6370 изгнали варягов за море, и не дали им дани, и начали сами собой владеть, и не было среди них правды, и встал род на род, и была у них усобица, и стали воевать друг с другом. И сказали себе: «Поищем себе князя, который бы владел нами и судил по праву». И пошли за море к варягам, к руси... Сказали руси чудь, славяне, кривичи и весь: «Земля наша велика и обильна, а порядка в ней нет. Приходите княжить и владеть нами». И набрались трое братьев со своими родами, и взяли с собой всю русь, и пришли и сел старший, Рюрик, в Новгороде, а другой, Синеус, на Белоозере, а третий, Трувор, — в Изборске. И от тех варягов прозвалась Русская земля».
- **С1. Приведите название документа и имя его автора. О событиях какого века говорится в документе?**
- **С2. О каком событии идёт речь в отрывке? Что послужило его причиной? Укажите не менее двух причин.**
- **С3. Каковы были последствия описанного в историческом источнике события? Назовите не менее трёх последствий.**

№2. Из договора князя Игоря с греками 945 г.

«В год 6453 прислали Роман, и Константин, и Стефан послов к Игорю восстановить прежний мир... И привели русских послов, и велели им говорить и записывать речи тех и других на хартию:

Если кто из русских замыслит разрушить эту дружбу, то крещенные из них да примут за то месть от Бога Вседержителя, и осуждение на погибель вечную, а некрещеные да не примут помощи от Бога и от Перуна, да не защитятся они щитами своими и иным своим оружием, и да будут они рабами навеки в будущей жизни.

А великий князь русский и бояре его пусть посылают в Греческую землю к великим царям Греческим корабли, сколько хотят, с послами и с купцами, как это установлено для них...

Если убежит раб от Руси, то раба следует поймать, поскольку Русь пришла в страну нашего царства, если раб бежал от святого Мамы; если же убежавшего не обнаружат, то пусть наши христиане дадут присягу Руси по своей вере, а не христиане по своему закону, и пусть тогда Русь берет на нас (греках) цену рабу, как установлено прежде, по 2 шелковых за раба...»

- С1.** Назовите хронологические рамки периода княжения Игоря. Какова была цель договора 945 г.? Каков был характер условий договора для Руси?
- С2.** Какое наказание предполагалось в документе за нарушение его условий? Назовите не менее двух положений. Сделайте вывод о верованиях населения Руси в середине X в.
- С3.** Какие можно сделать выводы по тексту договора об экономическом развитии Руси с использованием знания курса отечественной истории? Укажите не менее двух выводов.



№ 3. Из шведской саги «Круг земной» Снорри Стурлусона.

«Из письма Ингигерды, конунговой дочери, он узнал, что к конунгу шведов Олаву прибыли с востока из Хольмгарда послы Ярицлейва конунга, чтобы сватать дочь конунга шведов Олава за Ярицлейва, и что Олав конунг хорошо принял их сватовство...

Следующей весной в Швецию прибыли послы Ярицлейва конунга из Хольмгарда узнать, собирается ли Олав конунг сдержать обещание, данное предыдущим летом, и выдать свою дочь Ингигерду за Ярицлейва конунга. Олав конунг сказал об этом Ингигерде и заявил, что он хочет, чтобы она вышла замуж за Ярицлейва конунга. Она отвечает: «Если я выйду замуж за Ярицлейва конунга, то я хочу получить от него как вено [выкуп невесты] все владения ярла [правителя города] Альдейгьюборга и сам Альдейгьюборг [г. Ладога]». Послы из Гардарики согласились от имени своего конунга. ...

Тем же летом они вместе отправились на восток в Гардарики. Ингигерда вышла замуж за Ярицлейва конунга. Сыновьями их были Вальдамар, Виссивальд и Хольти Смелый.

Ингигерда, конунгова жена, пожаловала Рёгнвальду ярлу Альдейгьюборг, и он стал ярлом всей той области».

С1. О событиях какого века говорится в документе? О каком русском князе идёт речь в отрывке?

С2. Какая страна названа в тексте Гардарикой? Используя текст, определите, каким правом обладали женщины Гардарики в указанный период?

С3. С какой целью к королю Олаву прибыли русские послы? Используя текст документа, укажите условия, которые выдвигала Инггерда для того, чтобы согласиться с требованием отца — короля Олава.



№ 4. Из исторического источника.

«Всего же более убогих не забывайте, но, насколько можете, по силам кормите, и подавайте сироте, и вдовицу оправдывайте сами, а не давайте сильным губить человека. Ни правого, ни виноватого не убивайте и не повелевайте убить его; если и будет повинен смерти, то не губите никакой христианской души...

А теперь поведаю вам, дети мои, о труде своем, как трудился я в разъездах и на охоте с тринадцати лет. Сначала я к Ростову пошел сквозь землю вятичей; послал меня отец, а сам он пошел к Курску...

И на весну посадил меня отец в Переяславле выше всей братии ... и по пути к Прилуку-городу встретили нас внезапно половецкие князья, с восьмью тысячами, и хотели было с ними справиться, но оружие было отослано вперед на возах, и мы вошли в город...

И потом Олег на меня пошел со всею Половецкую землюю к Чернигову, и билась дружина моя с ними восемь дней за малый вал и не давала им войти в острог; пожалел я христианских душ, и сёл горящих, и монастырей и сказал: «Пусть не похваляются язычники». И отдал брату отца его стол, а сам пошел на стол отца своего в Переяславль...

А из Чернигова в Киев около ста раз ездил к отцу, за один день проезжая до вечера. А всего походов было восемьдесят и три великих, а остальных и не упомяну меньших. И мир заключил с половецкими князьями без одного двадцать, и при отце и без отца...

Не осуждайте меня, дети мои или другой, кто прочтет: не хвалю ведь я ни себя, ни смелости своей, но хвалю Бога и прославляю милость за то, что он меня, грешного и худого, столько лет оберегал от смертельных опасностей, и не ленивым меня создал, а на всяческие дела человеческие годным».



С1. К какому веку относится произведение, из которого взят данный отрывок? Как оно называется? Кто его автор?

С2. Используя знания из курса истории, укажите, чем знаменит автор произведения. Укажите не менее трёх положений.

С3. Используя текст отрывка, назовите, не менее двух проблем которые волнуют автора. Какие черты характера он прославляет? Приведите не менее двух черт характера.



№ 5. Из книги «Мир истории» академика Б.А. Рыбакова.

«Пожалуй, ни об одном из деятелей Киевской Руси не сохранилось столько ярких воспоминаний, как о Владимире Мономахе. Его вспоминали и во дворцах, и в крестьянских избах спустя много веков. Народ сложил о нем былины как о победителе грозного половецкого хана Тугоркана — «Тугарина Змеевича», и из-за одинаковости имен двух Владимиров влил эти былины в старый цикл киевского эпоса Владимира I...

Неудивительно, что в конце XV века московским историкам заметнее всего в родном прошлом была фигура Мономаха, с именем которого они связали легенду о царских регалиях, будто бы полученных Владимиром от императора Византии...

Неудивительно, что в мрачные годы усобиц русские люди искали утешения в своем величественном прошлом; их взгляды обращались к эпохе Владимира Мономаха. «Слово о погибели Русской земли», написанное накануне татаро-монгольского нашествия, идеализирует Киевскую Русь, воспекает Владимира Мономаха и его эпоху...

Владимир получил хорошее образование, которое позволило ему в своей политической борьбе использовать не только меч рыцаря, но и перо писателя».

- С1.** Укажите хронологические рамки великого княжения Владимира Мономаха. Какие царские регалии, будто бы им полученные, имел в виду историк?
- С2.** Как вы понимаете утверждение, что великий князь в политической борьбе использовал «не только меч рыцаря, но и перо писателя»? Приведите не менее двух положений.
- С3.** Почему «Слово о погибели Русской земли» воспекает Владимира Мономаха? Назовите не менее трёх заслуг великого князя.

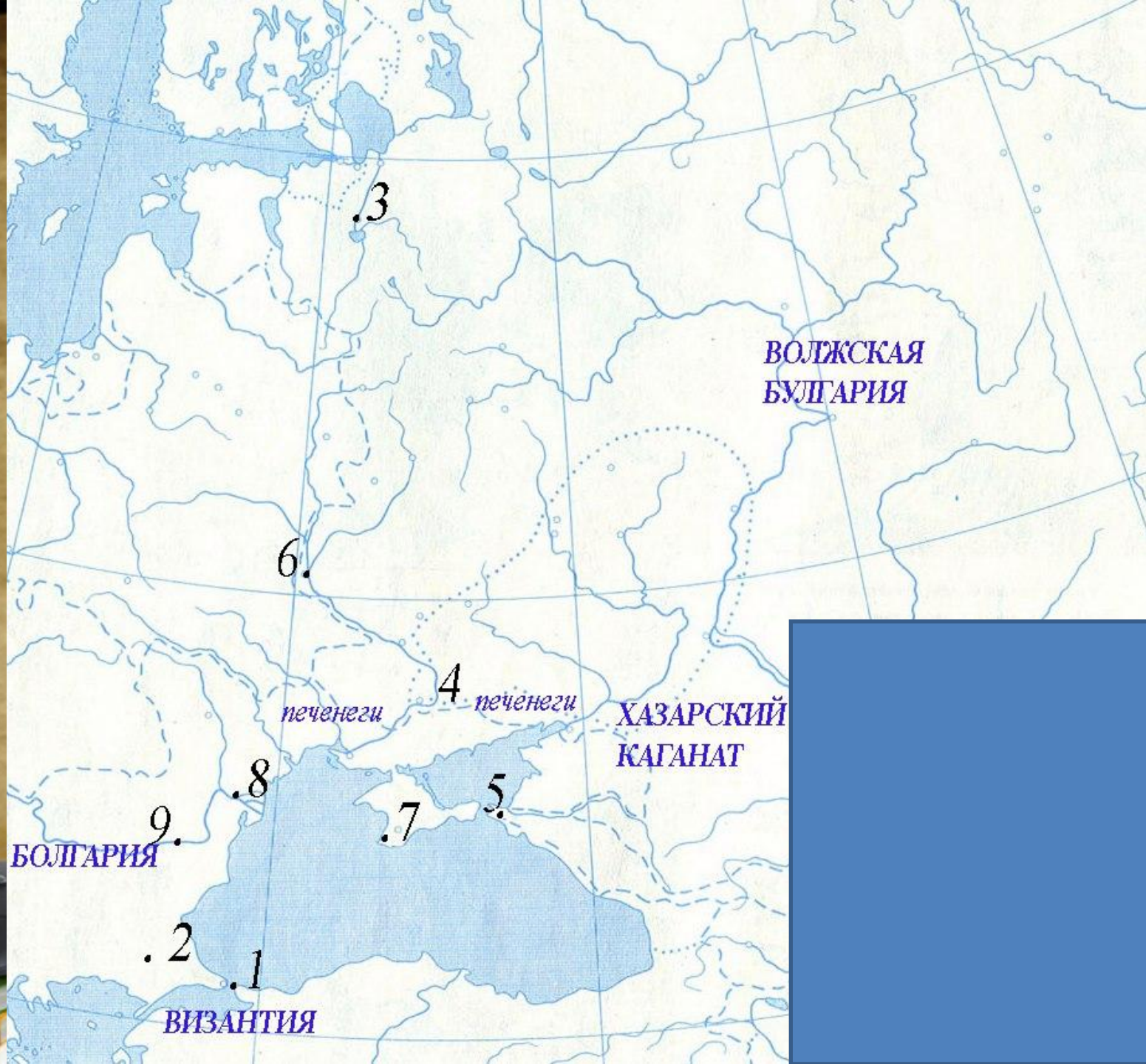


- Назовите основные этапы и ключевые события становления и развития Древнерусского государства.
-
- **№7. С5.** Ниже приведены две точки зрения на вопрос о происхождении Древнерусского государства: 1. Государственность на Руси была привнесена извне, варягами (так считают сторонники «норманнской теории»).
- 2. Древнерусское государство возникло в результате внутреннего развития общества, социальных и хозяйственных сдвигов; к образованию Древнерусского государства привела необходимость регулирования отношений между людьми, проживающими на одной территории, а также защиты своей земли от внешних врагов.
- Укажите, какая из названных точек зрения представляется вам более предпочтительной. Приведите не менее трех фактов, положений, которые могут служить аргументами, подтверждающими избранную вами точку зрения.
-

- **№8. С6.** В X в. киевляне обратились к князю Святославу со словами: «Ты, князь, чужой земли ищешь и о ней заботишься, а свою покинул». С чем связан этот упрек в адрес Святослава? Приведите не менее двух примеров, подтверждающих эти слова. Какие еще внутренние и внешние задачи стояли перед киевской княжеской властью? Назовите не менее двух внутренних и двух внешних задач.
- **№9. С6.** Согласно «Повести временных лет» начало русской государственности связано с призванием на княжение варягов Рюрика, Синеуса и Трувора. Какие условия необходимы для возникновения государственной власти? Назовите не менее двух условий. Какие предпосылки для создания государства у славян имелись в IX в. (назовите не менее трех предпосылок).
- **№10. С6..** Рассмотрите историческую ситуацию и выполните задания.
- Владимир Святославич стремился укрепить единство Древнерусского государства путем создания общерусского пантеона богов, однако вскоре он изменил свое намерение.
- Укажите не менее двух причин изменения религиозной политики великого князя. Укажите не менее двух последствий принятия новой религии.









В8.2.3. Напишите название мероприятия, маршрут которого обозначен на схеме стрелками.

Ответ: _____.

В9.2.3. Напишите название города, обозначенного на схеме цифрой 2.

Ответ: _____.

В10.2.3. Напишите цифру, которой обозначена территория проживания племени, во время восстания которого погиб киевский князь.

Ответ: _____.

В11.2.3. Какие суждения, относящиеся к событиям, обозначенным на схеме, являются верными? Выберите три суждения из шести предложенных. Запишите в таблицу цифры, под которыми они указаны:

1) на схеме обозначен военный поход князя Олега с целью объединения восточнославянских племен под властью Киева;

2) мероприятие, маршрут которого обозначен на схеме стрелками, продолжалось с ноября по март;

3) частично маршрут обозначенного на схеме мероприятия проходил по торговому пути «из варяг в греки»;

4) одним из последствий мероприятия, маршрут которого обозначен на схеме стрелками, было вхождение в состав Руси новых земель;

5) в результате мероприятия, маршрут которого обозначен на схеме стрелками, русские земли попали в зависимость от Византии;

6) с середины X в. мероприятие, маршрут которого обозначен на схеме стрелками, не проводилось.

Ответ: _____.





В8.2.4. Напишите имя полководца, совершившего поход, обозначенный на схеме стрелками.

Ответ: _____.

В9.2.4. Напишите название города, обозначенного на схеме цифрой 4.

Ответ: _____.

В10.2.4. Напишите цифру, которой обозначено государство, уничтоженное русским войском в том же веке, в котором состоялся поход, обозначенный на схеме.

Ответ: _____.

В11.2.4. Какие суждения, относящиеся к событиям, обозначенным на схеме, являются верными? Выберите три суждения из шести предложенных. Запишите в таблицу цифры, под которыми они указаны:

- 1) на схеме обозначен военный поход с целью объединения восточно-славянских племен под властью Киева;
- 2) поход, обозначенный на схеме стрелками, состоялся в начале X в.;
- 3) частично маршрут обозначенного на схеме похода проходил по торговому пути «из варяг в греки»;
- 4) одним из последствий похода, маршрут которого обозначен на схеме стрелками, было вхождение в состав Руси новых земель;
- 5) в результате похода, маршрут которого обозначен на схеме стрелками, русские земли попали в зависимость от Византии;
- 6) до середины IX века походы, подобные тому, маршрут которого обозначен на схеме стрелками, не проводились.





В8.2.6. Напишите имя полководца, осуществившего поход, обозначенный на схеме стрелками.

Ответ: _____.

В9.2.6. Напишите название города, обозначенного на схеме цифрой 1.

Ответ: _____.

В10.2.6. Напишите цифру, которой обозначен город, ставший вскоре после похода, обозначенного на карте, столицей русского княжества.

Ответ: _____.

В11.2.6. Какие суждения, относящиеся к событиям, обозначенным на схеме, являются верными? Выберите три суждения из шести предложенных. Запишите в таблицу цифры, под которыми они указаны:

- 1) одно из государств, обозначенных на схеме, после этого похода перестало существовать;
- 2) поход, обозначенный на схеме стрелками, длился более трех лет;
- 3) в результате похода был установлен контроль Руси над волжским торговым путем;
- 4) одним из последствий событий, обозначенных на схеме, было вхождение в состав Древнерусского государства новых земель;
- 5) в результате событий, обозначенных на схеме, русские земли попали в зависимость от одного из государств, обозначенных на схеме;
- 6) полководец, поход которого обозначен на схеме, является основателем Древнерусского государства.



- **9-10 в**
- **862** — легендарное призвание братьев-варягов Рюрика, Синеуса и Трувора в Новгород.
- **862—879** — княжение Рюрика в Новгороде.
- **879—912** — правление Олега.
- **882** — поход Олега на Киев. **Объединение Киева и Новгорода.** Подчинение большинства восточнославянских племен власти киевского князя.
- **907** — успешный поход Олега на Византию.
- **911** — заключение **выгодного для Руси договора** с греками. Предоставление русским купцам права беспошлинной торговли в Византии и других привилегий.
- **912—945** — княжение Игоря (сына Рюрика) в Киеве.
- **915-** первое появление печенегов на Руси
- **941** — неудачный поход Игоря на Византию.
- **944** — новый поход на Царьград, заключение договора с Византией. Русь теряет право на беспошлинную торговлю.
- **945** — восстание древлян из-за попытки Игоря повторно собрать дань с племени. Убийство Игоря.



- **945—964 — правление Ольги.** Провела налоговую реформу (вместо полюдья). Установление размеров дани (**уроков**) и мест ее сбора (**погостов**). Сближение Византии и Руси.
- 957- крещение Ольги
- **964—972 — княжение Святослава** (сын Игоря и Ольги). Походы против Волжской Булгарии, разгром Хазарского каганата. Войны против Дунайской Болгарии и Византии.
- 9171- битва под **Доростолом**, победа над Болгарией
- 972 — убийство Святослава печенегам.
- **972—980 — княжение Ярополка.** Усобица между сыновьями Святослава. Первая феодальная война
- **980—1015 — княжение Владимира I Святого.**
- 980 — первая религиозная реформа Владимира — попытка унификации языческого культа.
- **988 — крещение Руси.**
- 992 — разгром Владимиром левобережных печенегов на **реке Суле.**



Источники

- **КОНТРОЛЬНО-ИЗМЕРИТЕЛЬНЫЕ МАТЕРИАЛЫ. ИСТОРИЯ РОССИИ: 6 КЛАСС/СОСТ. К.В. ВОЛКОВА – М.: ВАКО, 2011.**

