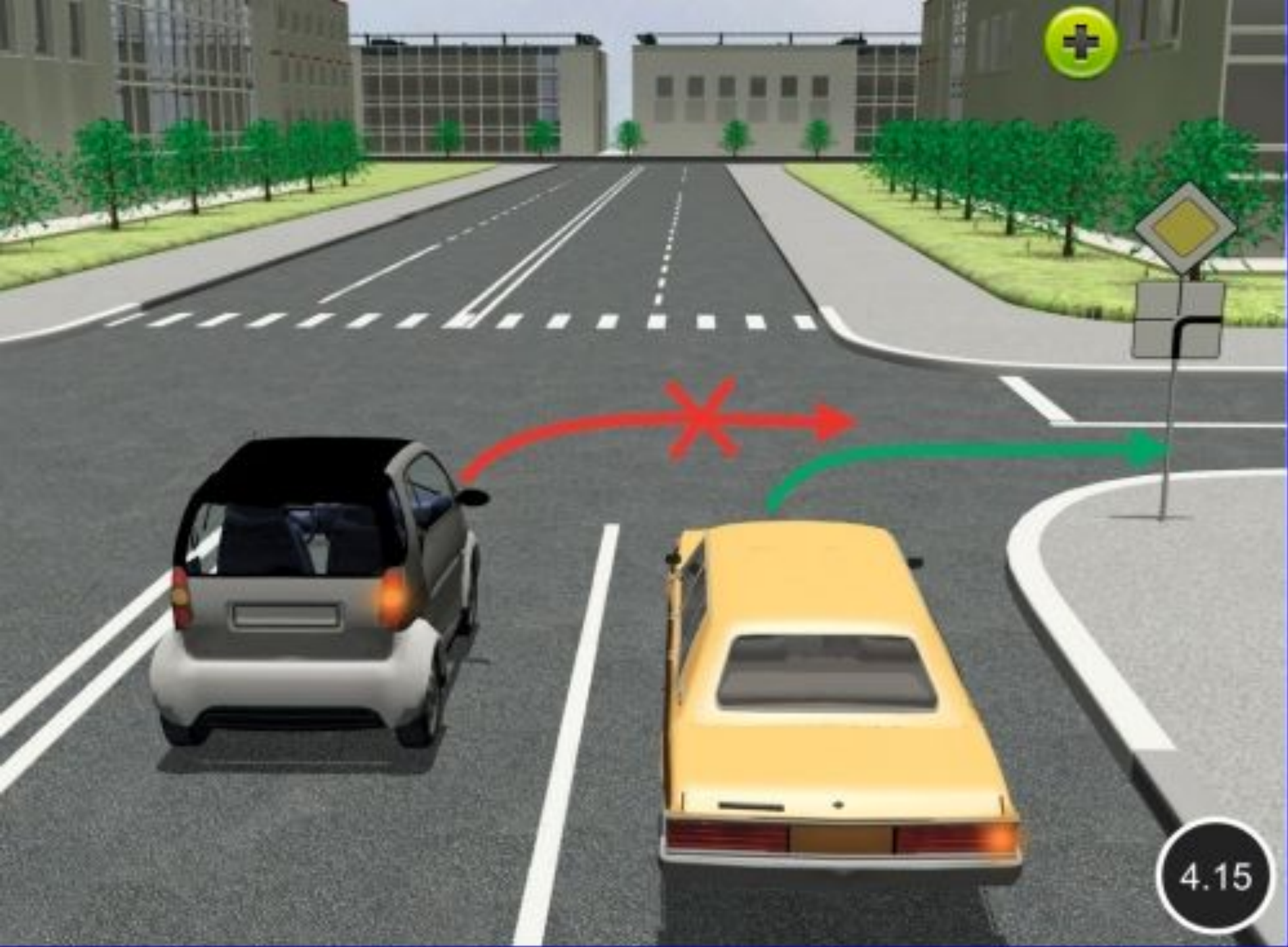

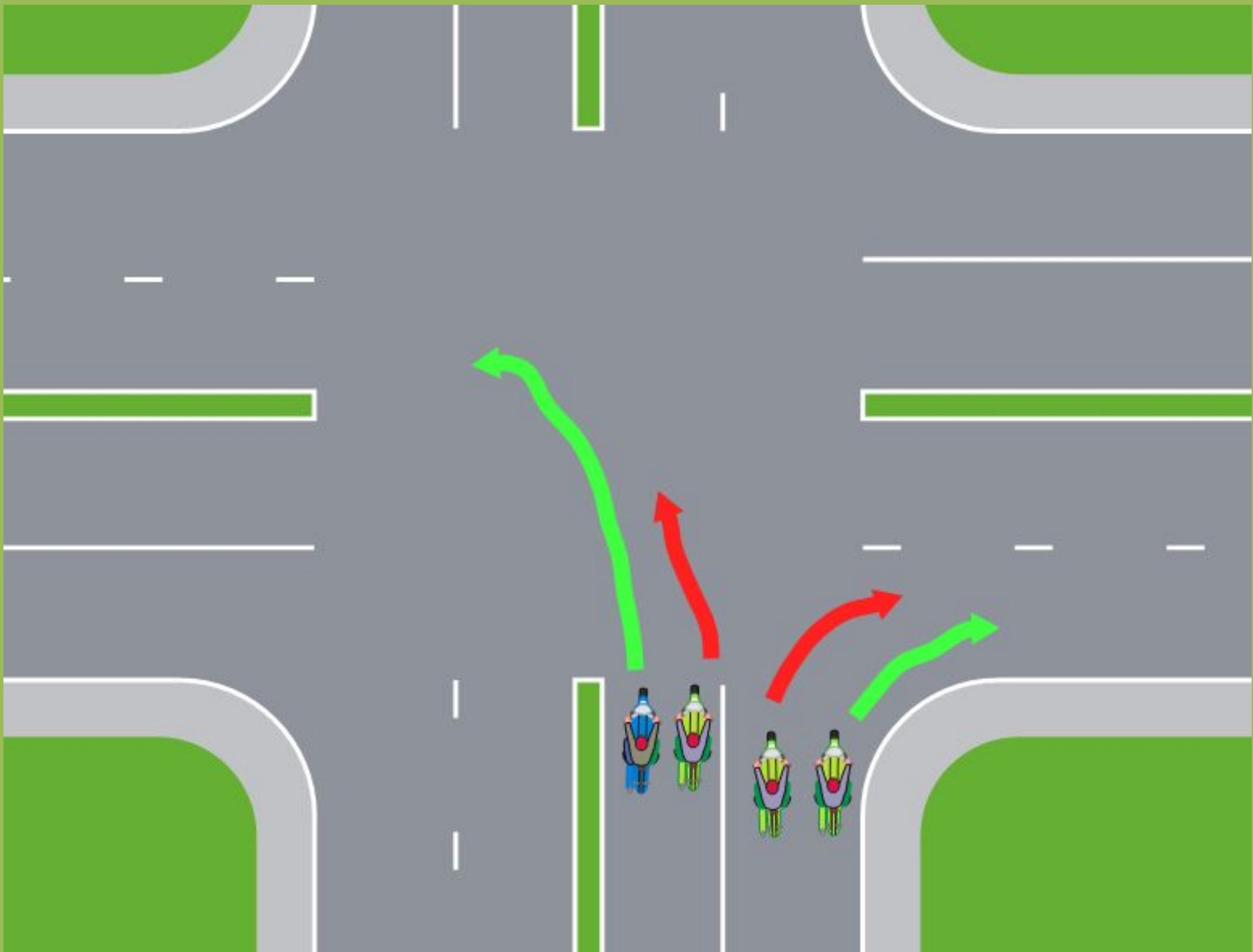
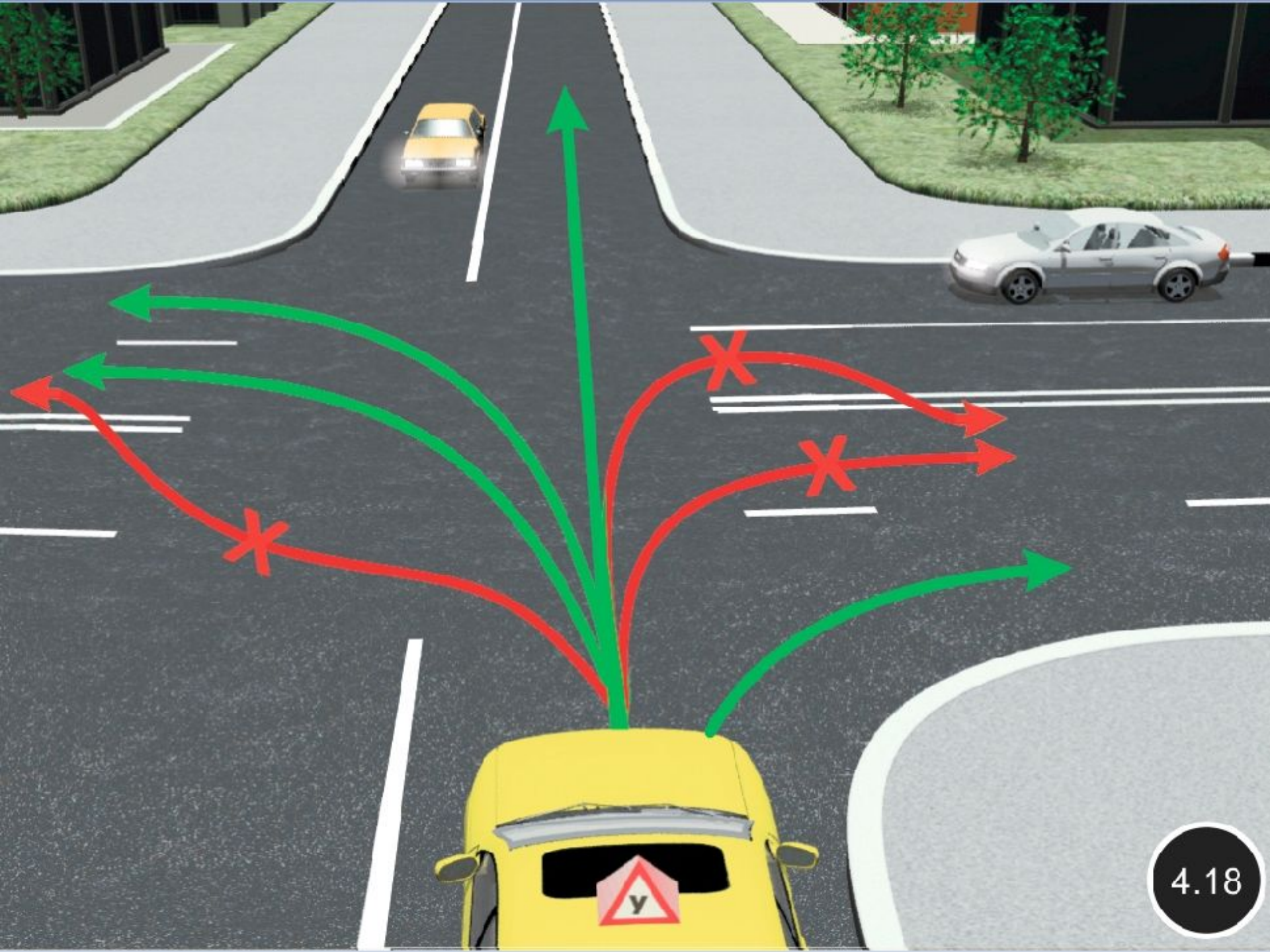



Повороты

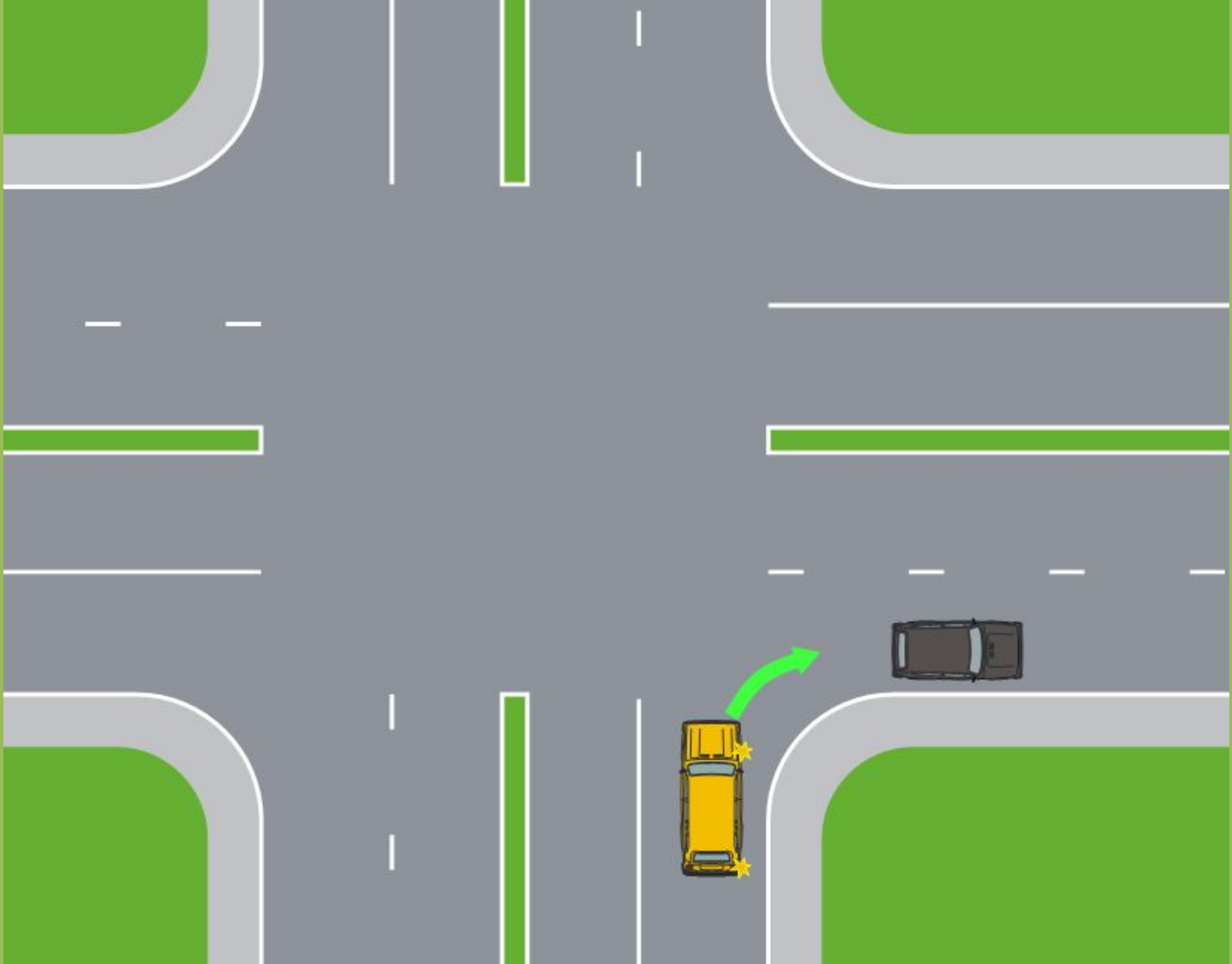




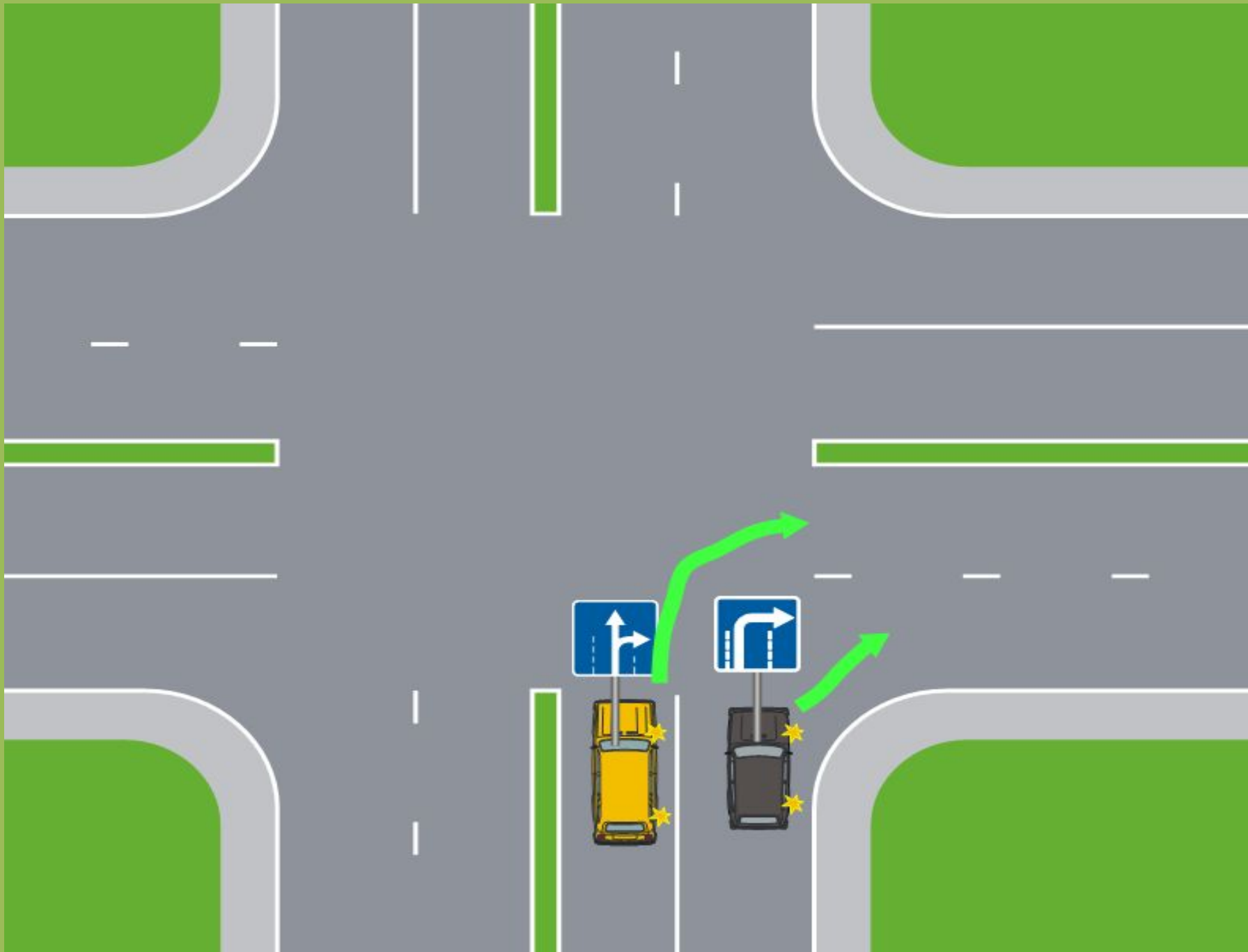


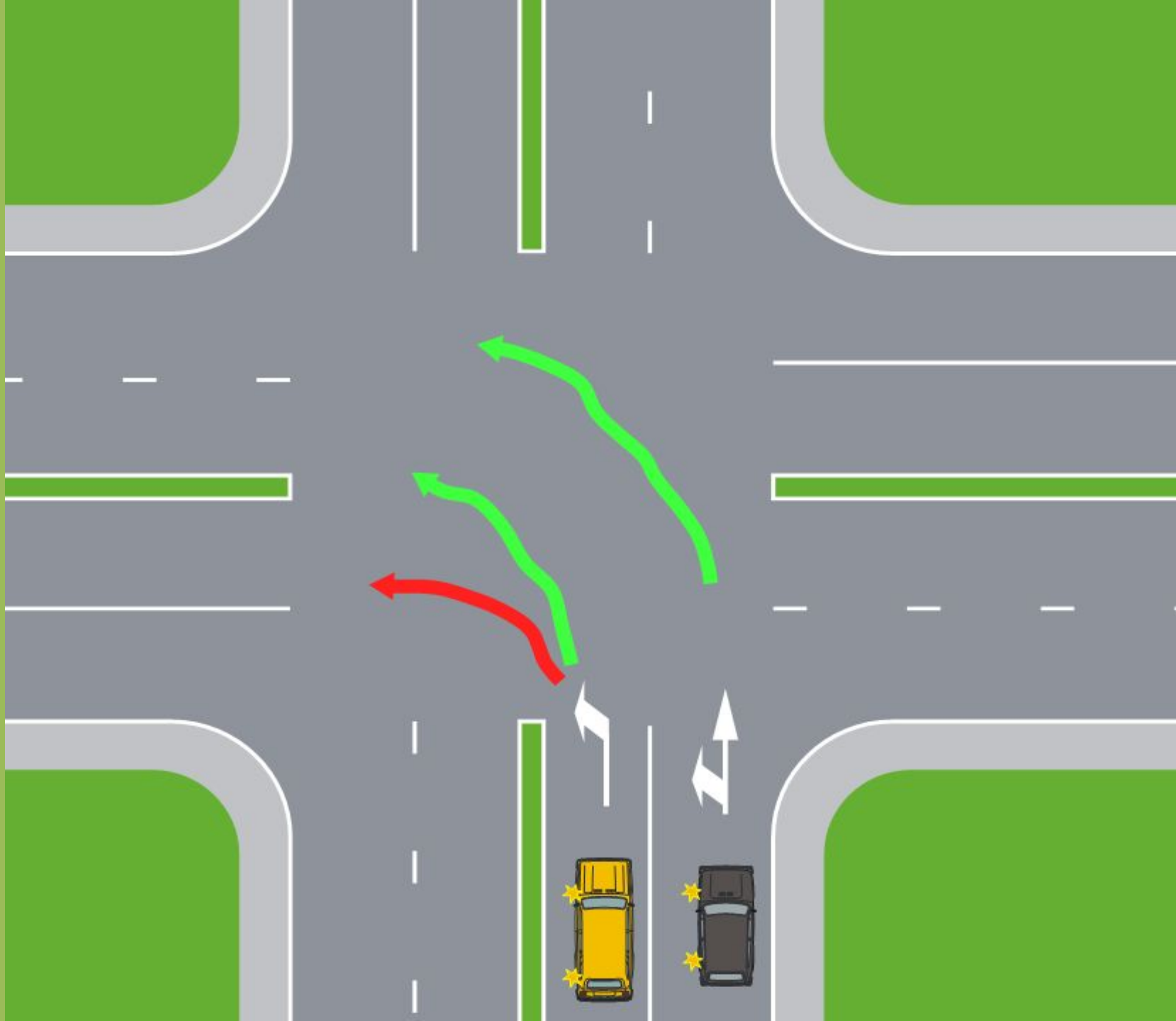


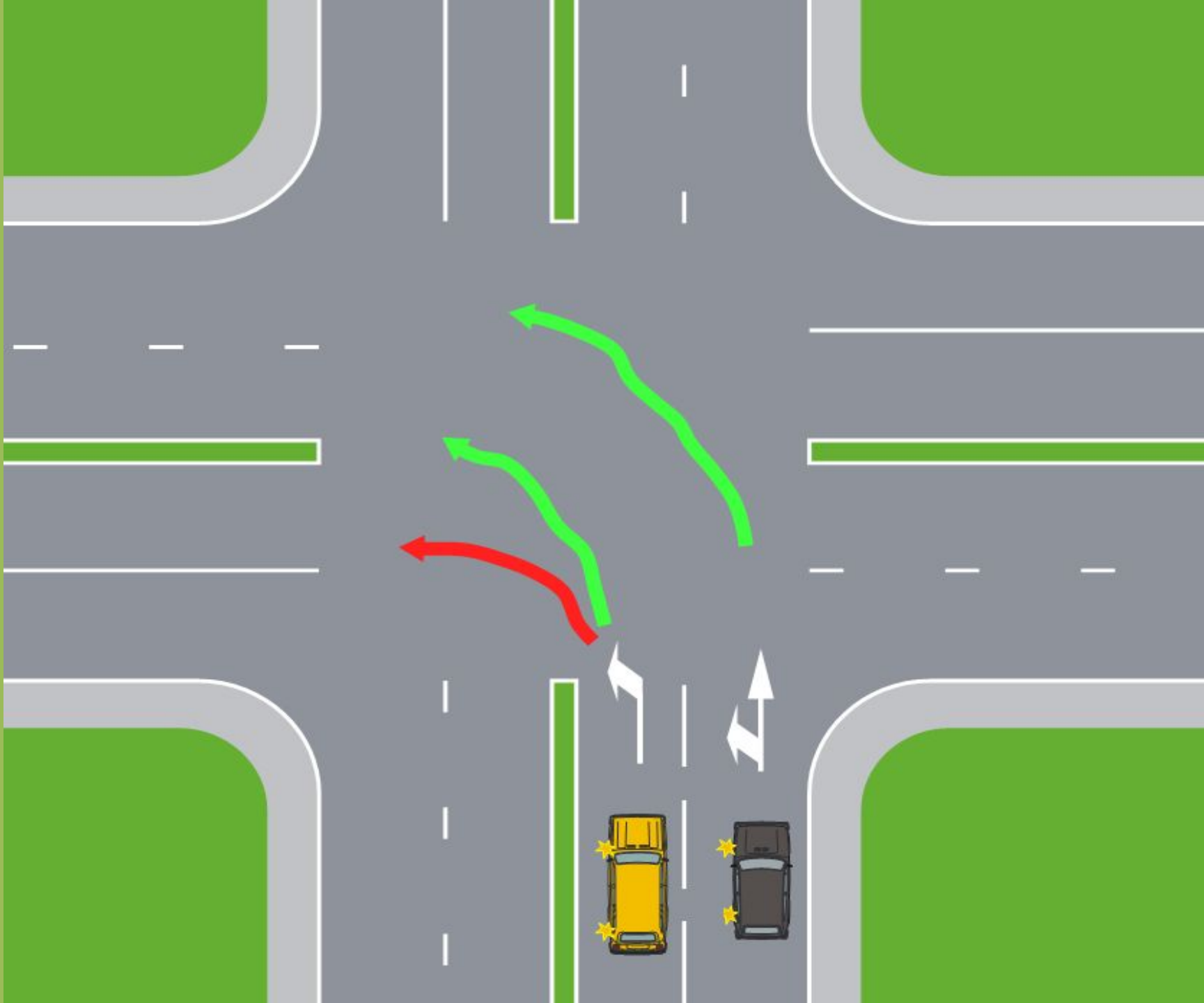


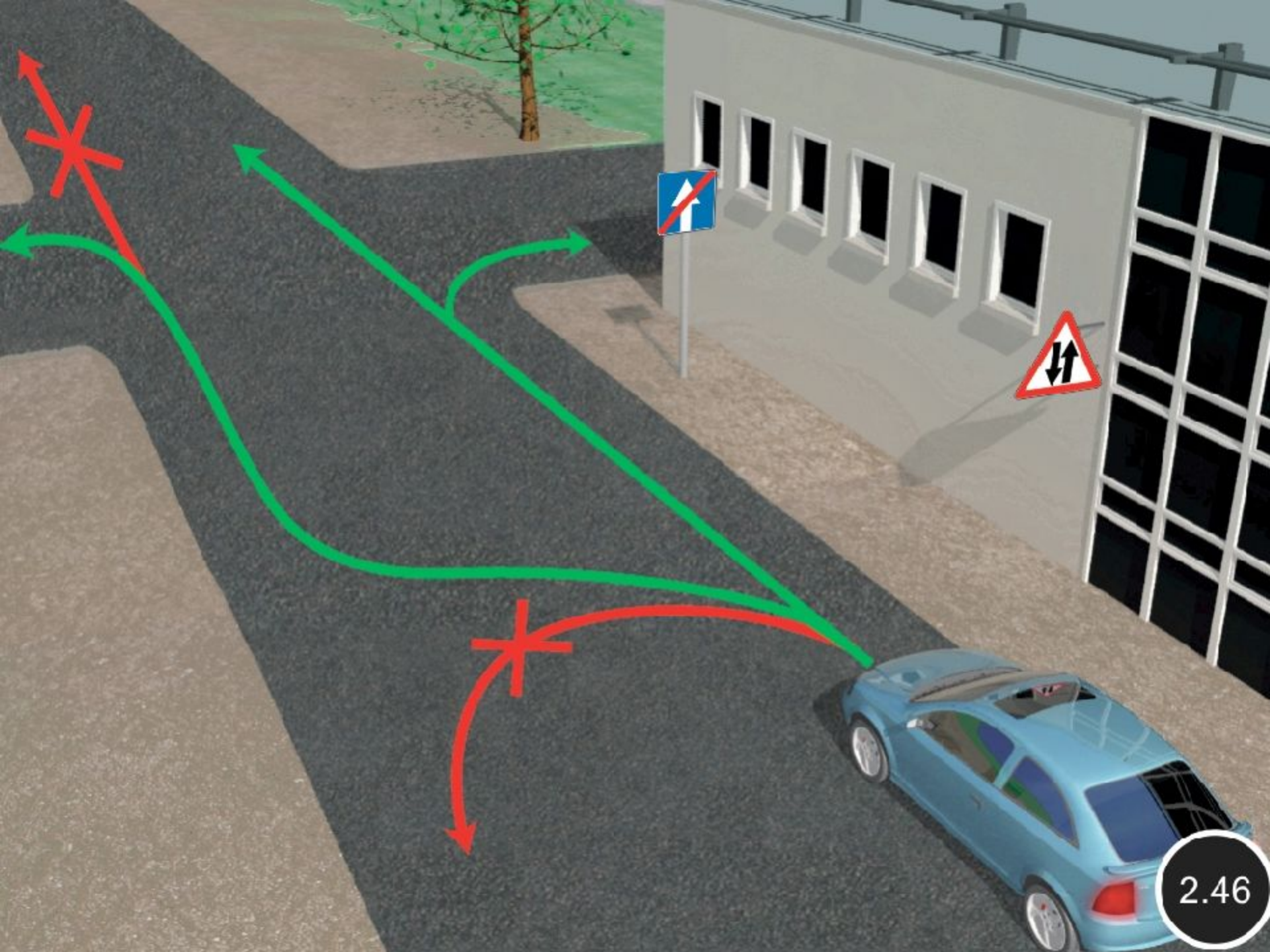




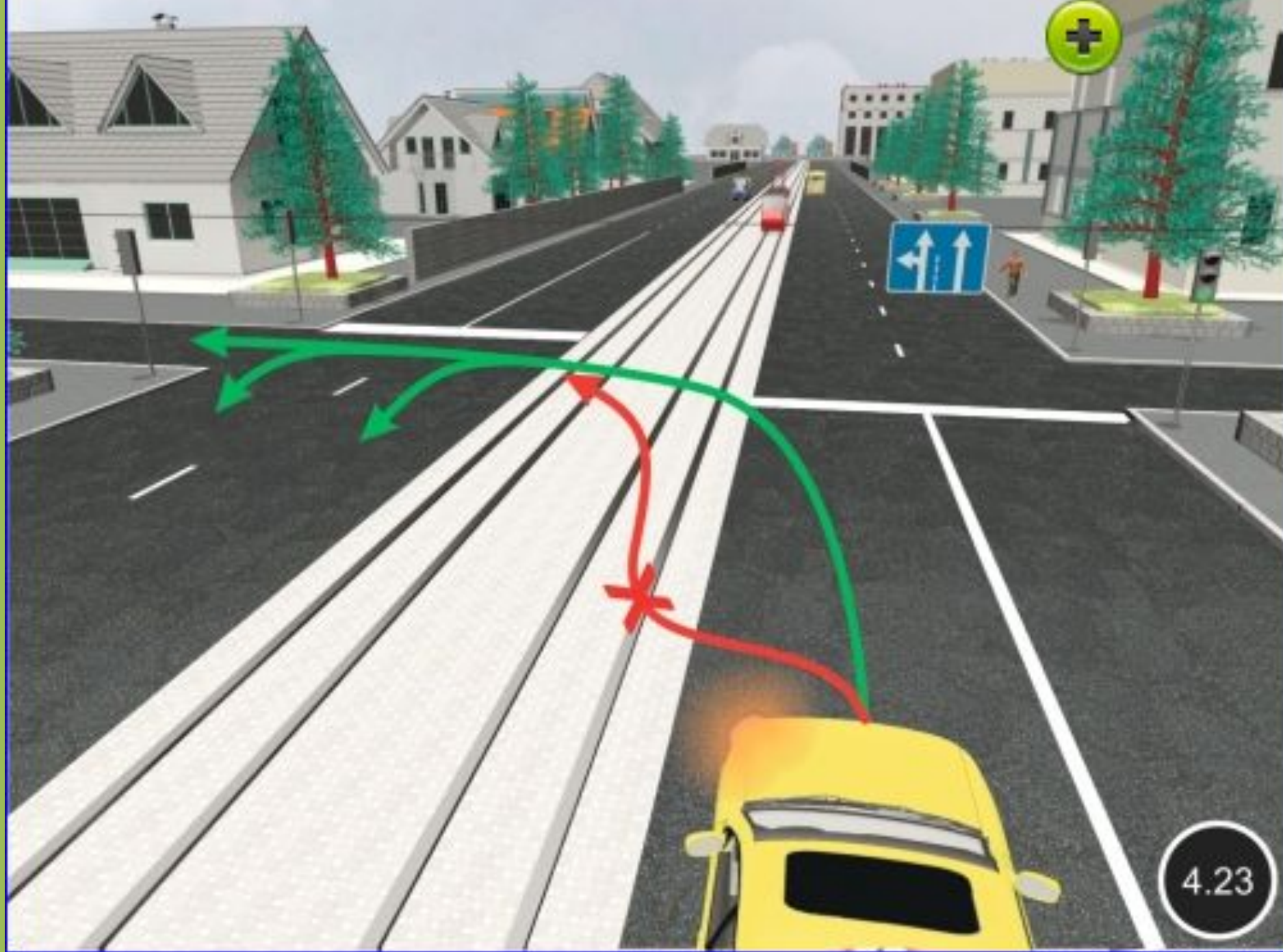




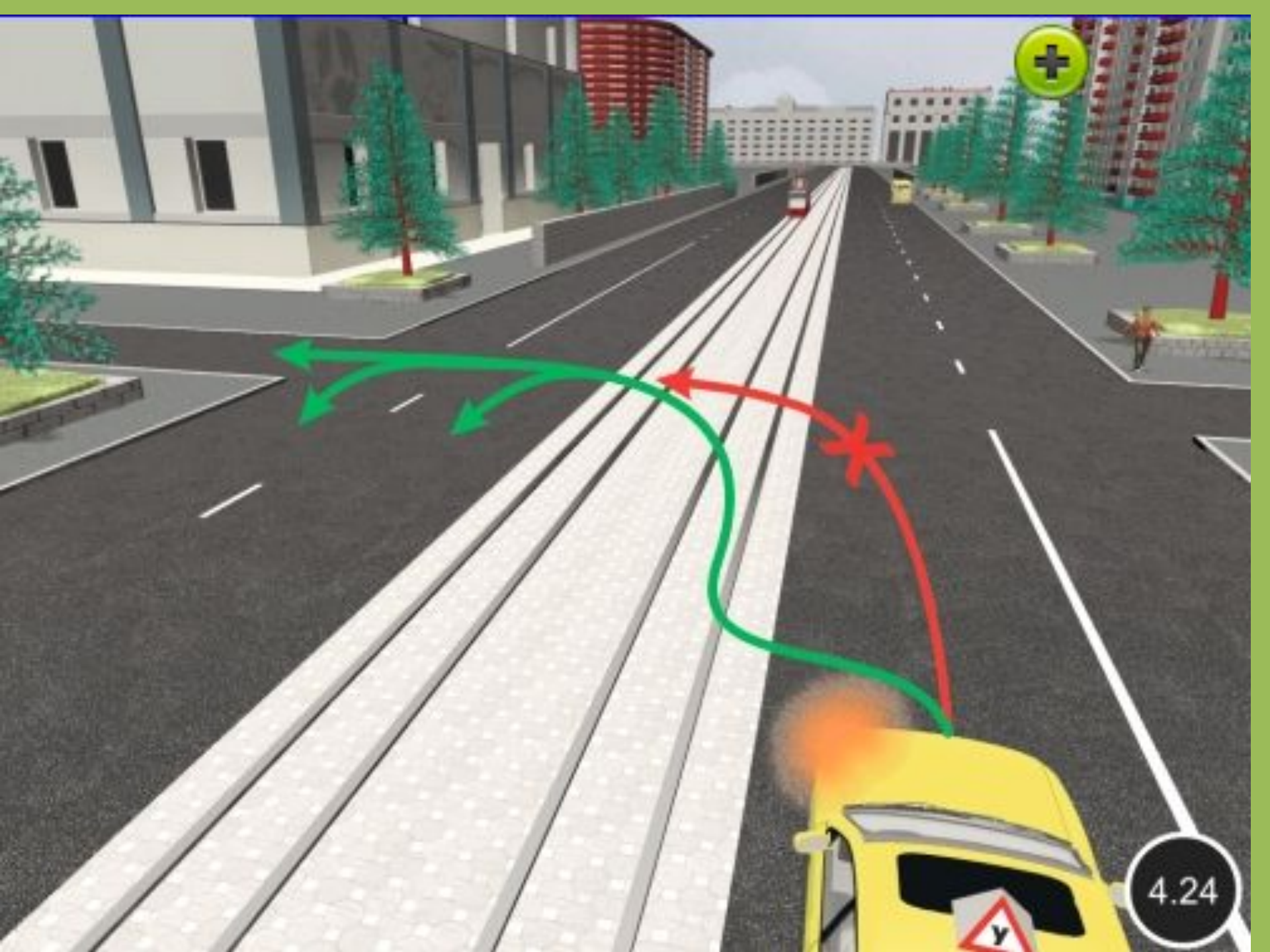




2.46



4.23



4.24



Разрешается ли Вам выполнить поворот направо по указанной траектории в данной ситуации?

- 1. Разрешается.**
- 2. Запрещается.**

?

1

2

3

4

5

Пропустить задачу

.

X X



Разрешается ли Вам выполнить поворот направо по указанной траектории в данной ситуации?

- 1. Разрешается.**
- 2. Запрещается.**

1?

1

2

3

4

5

Пропустить
задачу

**Подтвердить
ответ 1**

.

X X X X X X X X X X X X X X X X X



Вам разрешено выполнить поворот направо:

- 1. Только по траектории А.**
- 2. Только по траектории Б.**
- 3. По любой траектории из указанных.**

?

1

2

3

4

5

Пропустить
задачу



.

X X



Вам разрешено выполнить поворот направо:

- 1. Только по траектории А.**
- 2. Только по траектории Б.**
- 3. По любой траектории из указанных.**

1?

1

2

3

4

5

Пропустить
задачу

Подтвердить
ответ 1



.

X X



По какой траектории Вам разрешено продолжить движение?

- 1. Только по А.**
- 2. По А или Б.**
- 3. По любой из указанных.**

?

1

2

3

4


5

Пропустить
задачу



.

X X



По какой траектории Вам разрешено продолжить движение?

- 1. Только по А.
- 2. По А или Б.
- 3. По любой из указанных.

1?

1

2

3

4

5

Пропустить задачу

Подтвердить ответ 1



X X X X X X X X X X X X X X X X X X X X



**На перекрестке Вы намерены повернуть направо.
Как Вам следует поступить?**

- 1. Перестроиться на правую полосу, затем осуществить поворот.**
- 2. Продолжить движение по левой полосе до перекрестка, затем повернуть.**
- 3. Возможны оба варианта действий.**

?

1

2

3

4

5

Пропустить
задачу



X X X X X X X X X X X X X X X X X X X X



**На перекрестке Вы намерены повернуть направо.
Как Вам следует поступить?**

- 1. Перестроиться на правую полосу, затем осуществить поворот.**
- 2. Продолжить движение по левой полосе до перекрестка, затем повернуть.**
- 3. Возможны оба варианта действий.**

3?

1

2

3

4

5

Пропустить
задачу

**Подтвердить
ответ 3**



X X



По какой траектории Вам разрешено выполнить поворот направо?

- 1. Только по А.**
- 2. Только по Б.**
- 3. По любой из указанных.**

?

1


2

3

4

5

Пропустить
задачу



.

X X



По какой траектории Вам разрешено выполнить поворот направо?

1. Только по А.
2. Только по Б.
3. По любой из указанных.

1?

1

2

3

4

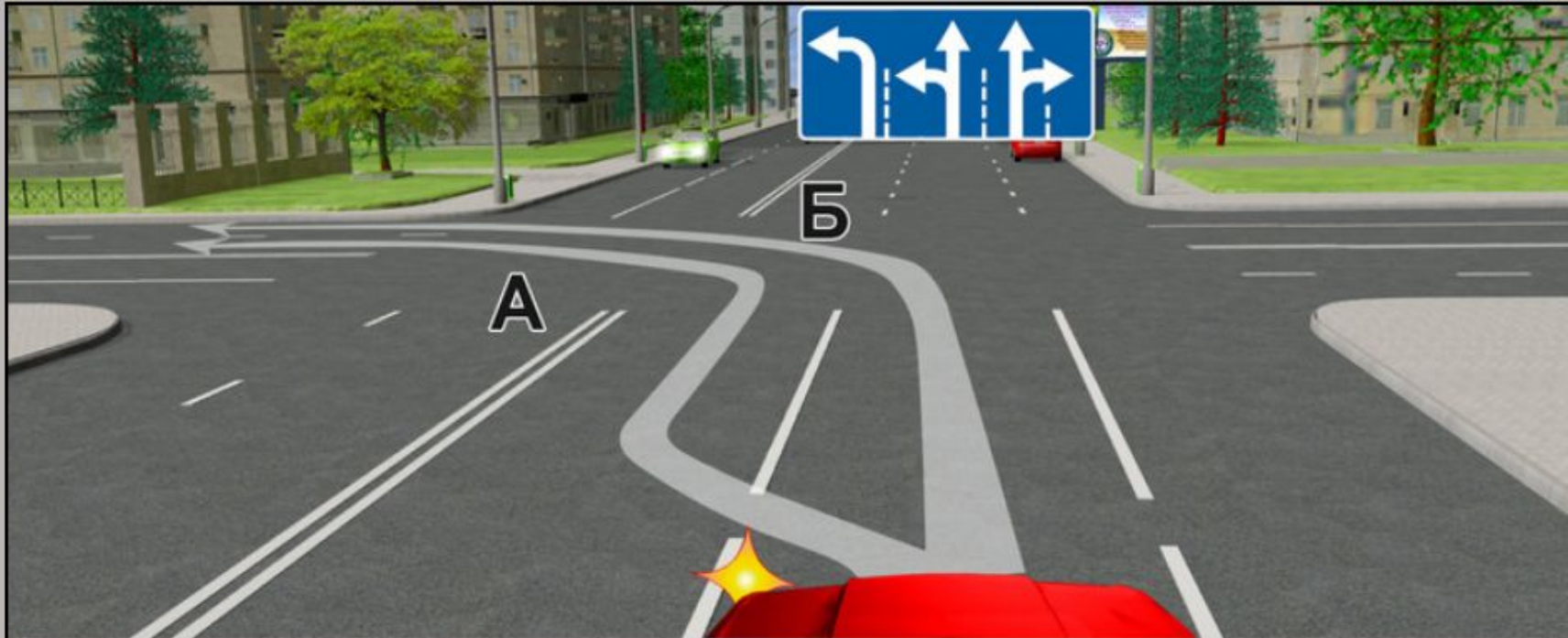
5

Пропустить
задачу

Подтвердить
ответ 1



X X



Вам можно выполнить поворот налево:

- 1. Только по траектории А.**
- 2. Только по траектории Б.**
- 3. По любой траектории из указанных.**

?

1

2

3

4

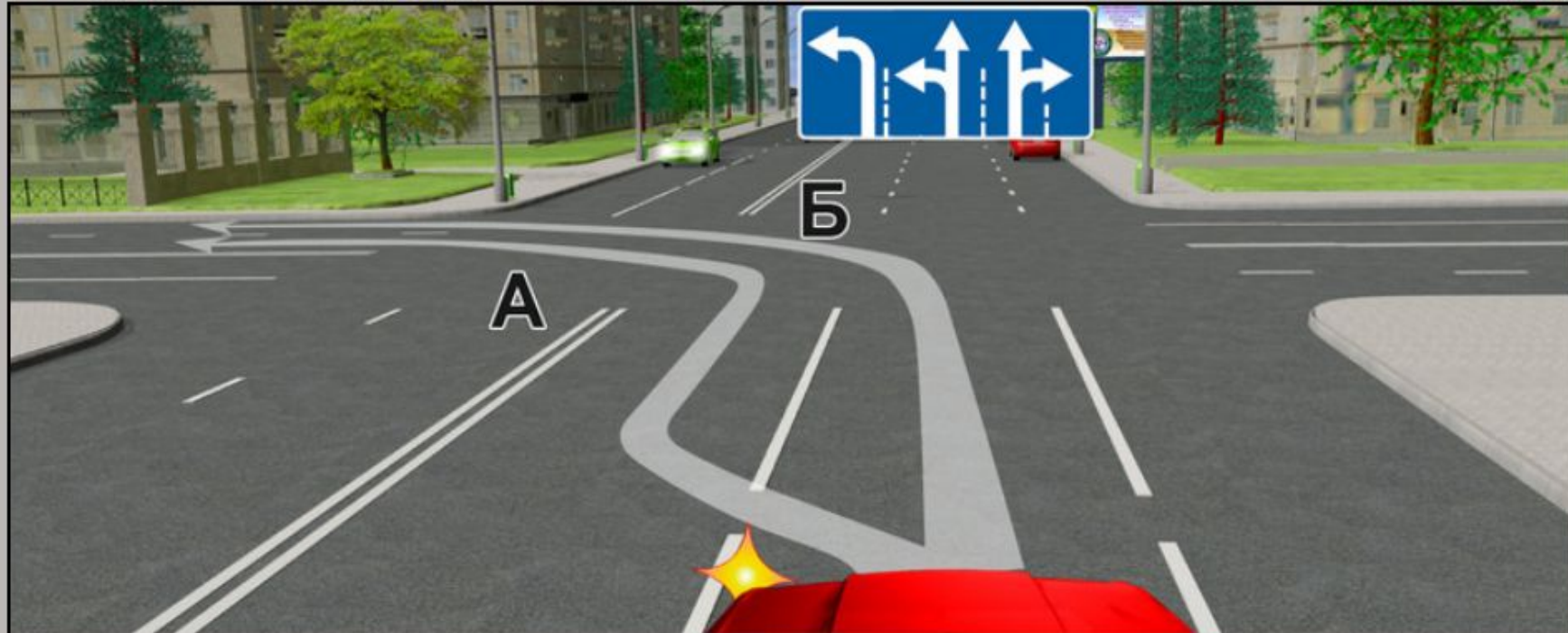
5

Пропустить
задачу



.

X X



Вам можно выполнить поворот налево:

- 1. Только по траектории А.**
- 2. Только по траектории Б.**
- 3. По любой траектории из указанных.**

3?

1

2


3

4

5

Пропустить
задачу

Подтвердить
ответ 3



X X



Как Вам следует поступить при повороте направо?

- 1. Перестроиться на правую полосу, затем осуществить поворот.**
- 2. Продолжить движение по второй полосе до перекрестка, затем повернуть.**
- 3. Возможны оба варианта действий.**

?

1


2

3

4

5

Пропустить
задачу



.

X X X X X X X X X X X X X X X X X X X X



Как Вам следует поступить при повороте направо?

1. Перестроиться на правую полосу, затем осуществить поворот.
2. Продолжить движение по второй полосе до перекрестка, затем повернуть.
3. Возможны оба варианта действий.

3?

1

2


3

4

5

Пропустить
задачу

Подтвердить
ответ 3



X X



Вам можно выполнить поворот налево:

- 1. Только по траектории А.**
- 2. Только по траектории Б.**
- 3. По любой траектории из указанных.**

?

1

2

3

4

5

Пропустить
задачу



X X



Вам можно выполнить поворот налево:

- 1. Только по траектории А.**
- 2. Только по траектории Б.**
- 3. По любой траектории из указанных.**

1?

1

2

3

4

5

Пропустить
задачу

Подтвердить
ответ 1



Кто из водителей нарушает правила поворота на перекрестке?

- 1. Оба.**
- 2. Только водитель мотоцикла, поворачивающего налево.**
- 3. Только водитель автомобиля.**
- 4. Никто не нарушает.**

?

1

2

3

4

5

Пропустить
задачу



.

X X



Кто из водителей нарушает правила поворота на перекрестке?

- 1. Оба.**
- 2. Только водитель мотоцикла, поворачивающего налево.**
- 3. Только водитель автомобиля.**
- 4. Никто не нарушает.**

1?

1

2

3

4

5

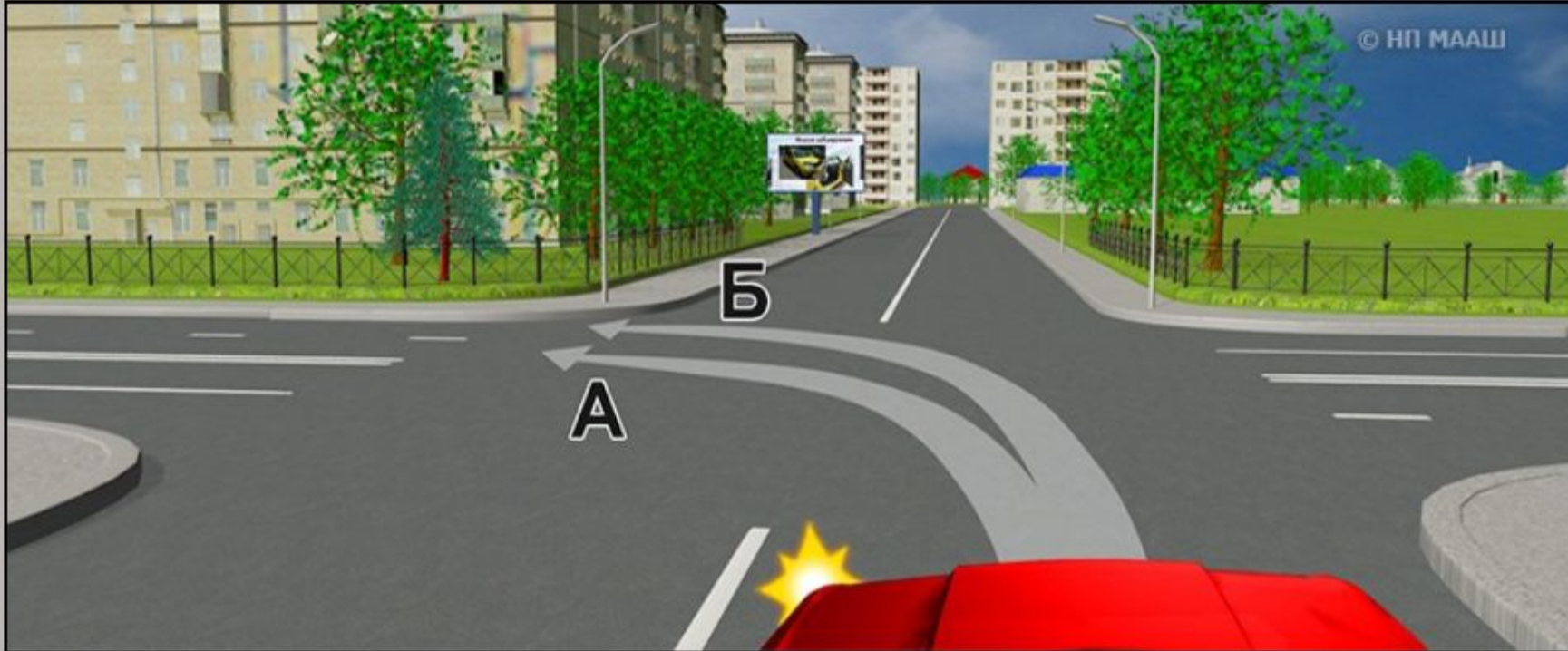
Пропустить
задачу

**Подтвердить
ответ 1**



.

X X



По какой траектории Вам разрешено продолжить движение налево?

- 1. Только по А.**
- 2. Только по Б.**
- 3. По любой из указанных.**

?

1

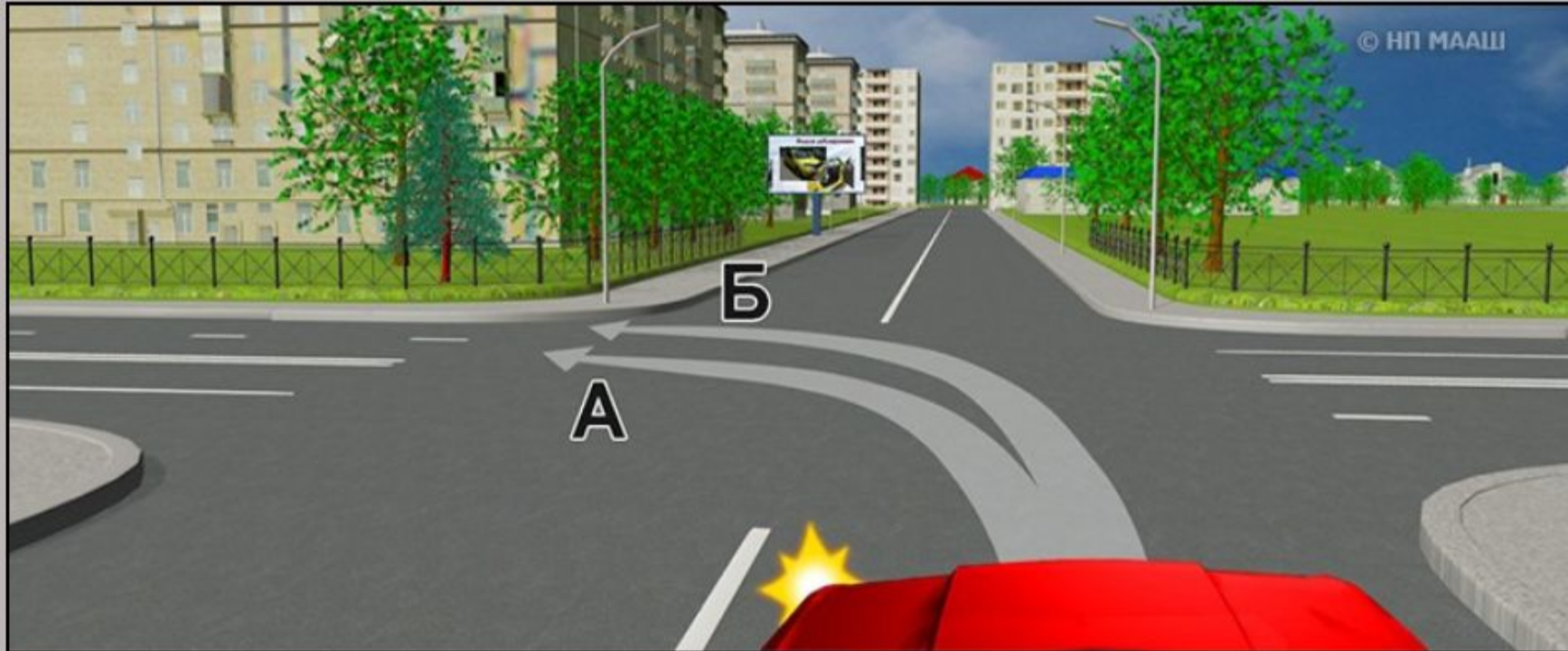
2

3

4

5

Пропустить
задачу



По какой траектории Вам разрешено продолжить движение налево?

- 1. Только по А.**
- 2. Только по Б.**
- 3. По любой из указанных.**

3?

1

2

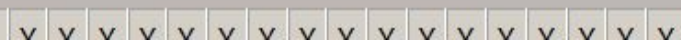
3


4

5

Пропустить
задачу

**Подтвердить
ответ 3**





По какой траектории Вам разрешается выполнить поворот налево?

- 1. Только по А.**
- 2. Только по Б.**
- 3. По любой из указанных.**

?

1


2

3

4

5

Пропустить
задачу



По какой траектории Вам разрешается выполнить поворот налево?

1. Только по А.
2. Только по Б.
3. По любой из указанных.

2?

1

2

3

4

5

Пропустить
задачу

Подтвердить
ответ 2



.

X X



По какой траектории Вам разрешается выполнить поворот налево?

- 1. Только по А.**
- 2. Только по Б.**
- 3. По любой из указанных.**

?

1

2

3

4

5

Пропустить
задачу



.

X X



По какой траектории Вам разрешается выполнить поворот налево?

1. Только по А.
2. Только по Б.
3. По любой из указанных.

3?

1

2

3

4

5

Пропустить
задачу

Подтвердить
ответ 3



.

X X



Разрешено ли Вам выполнить поворот направо в данной ситуации?

- 1. Разрешено.**
- 2. Разрешено, если при этом не будут созданы помехи транспортным средствам, движущимся с других направлений.**
- 3. Запрещено.**

?

1


2

3

4

5

Пропустить
задачу



.

X X



Разрешено ли Вам выполнить поворот направо в данной ситуации?

- 1. Разрешено.**
- 2. Разрешено, если при этом не будут созданы помехи транспортным средствам, движущимся с других направлений.**
- 3. Запрещено.**

3?

1

2

3

4

5

Пропустить задачу

Подтвердить ответ 3



.

X X



В каком направлении разрешено продолжить движение водителю легкового автомобиля?

- 1. Только по кругу.**
- 2. Только направо.**
- 3. В любом направлении из перечисленных.**

?

1

2

3

4

5

Пропустить
задачу



X X X X X X X X X X X X X X X X X X X



В каком направлении разрешено продолжить движение водителю легкового автомобиля?

- 1. Только по кругу.**
2. Только направо.
3. В любом направлении из перечисленных.

1?

1

2

3

4

5

Пропустить
задачу

Подтвердить
ответ 1



.

X X



Вам можно продолжить движение при повороте налево:

- 1. Только по траектории А.**
- 2. Только по траектории В.**
- 3. По любой траектории из указанных.**

?

1

2

3

4

5

Пропустить задачу



.

X X



Вам можно продолжить движение при повороте налево:

1. Только по траектории А.
2. Только по траектории В.
3. По любой траектории из указанных.

3?

1

2

3

4

5

Пропустить
задачу

Подтвердить
ответ 3



.

X X



В каких направлениях Вам можно продолжить движение по левой полосе на грузовом автомобиле с разрешенной максимальной массой не более 3,5 т?

- 1. Только прямо.**
- 2. Прямо и направо.**
- 3. Прямо, налево и в обратном направлении.**

?

1

2

3

4


5

Пропустить
задачу



.

X X



В каких направлениях Вам можно продолжить движение по левой полосе на грузовом автомобиле с разрешенной максимальной массой не более 3,5 т?

1. Только прямо.
2. Прямо и направо.
3. Прямо, налево и в обратном направлении.

3?

1

2

3

4

5

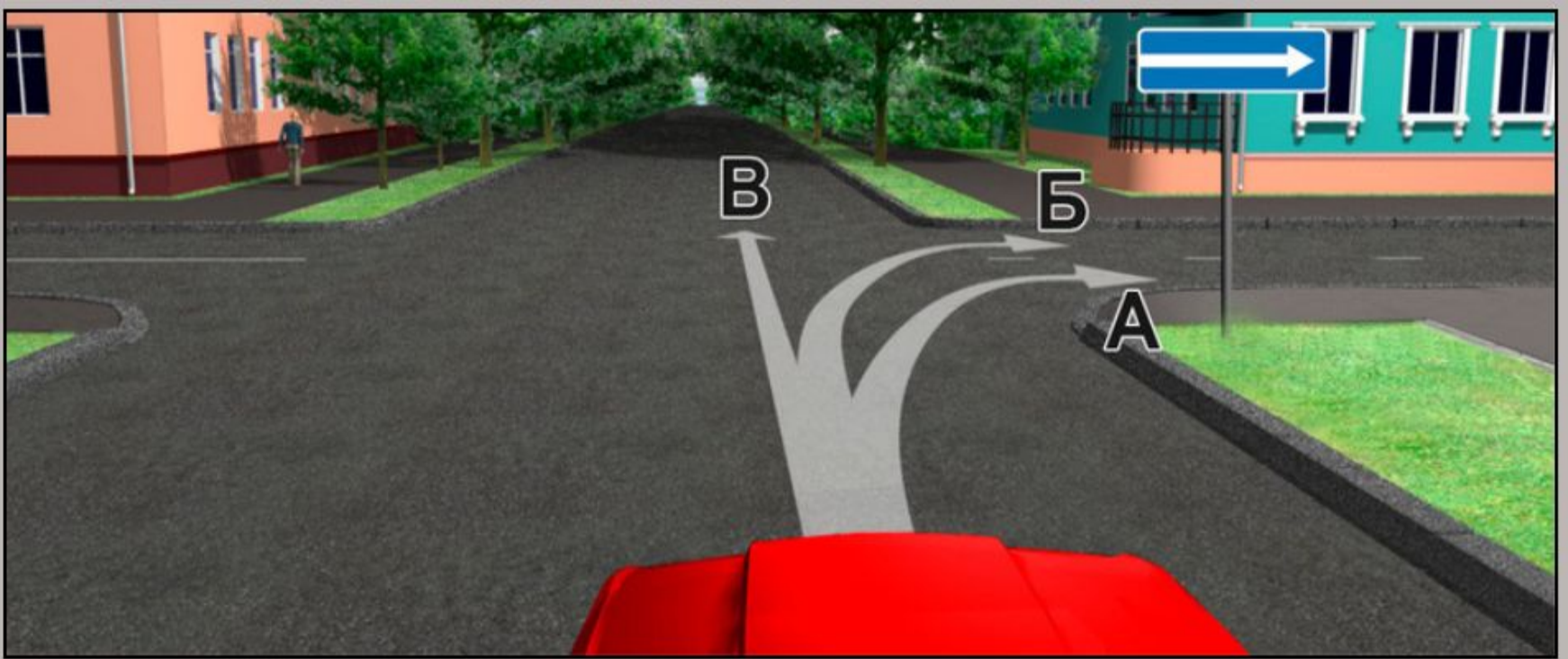
Пропустить
задачу

Подтвердить
ответ 3



.

X X



Вам можно продолжить движение:

- 1. Только по траектории А.**
- 2. По траекториям А или В.**
- 3. По любой траектории из указанных.**

?

1


2

3

4

5

Пропустить
задачу



Вам можно продолжить движение:

- 1. Только по траектории А.**
- 2. По траекториям А или В.**
- 3. По любой траектории из указанных.**

2?

1

2

3

4

5

Пропустить
задачу

**Подтвердить
ответ 2**





В каких направлениях Вам можно продолжить движение по второй полосе?

1. Только налево.
2. **Налево и в обратном направлении.**
3. Направо, налево и в обратном направлении.

2?

1

2

3

4

5

Пропустить
задачу

Подтвердить
ответ 2



.

X X



По какой траектории Вам можно выполнить поворот налево?

- 1. Только по А.**
- 2. Только по Б.**
- 3. По любой из указанных.**

?

1


2

3

4

5

Пропустить
задачу



.

X X



По какой траектории Вам можно выполнить поворот налево?

- 1. Только по А.**
- 2. Только по Б.**
- 3. По любой из указанных.**

2?

1

2

3

4

5

Пропустить
задачу

Подтвердить
ответ 2



Вам можно продолжить движение на перекрестке:

- 1. Только налево.**
- 2. Налево и в обратном направлении.**
- 3. В любом направлении.**

?

1

2

3

4

5

Пропустить
задачу





Из какой полосы разрешено въехать на данный перекресток?

- 1. Только из правой.**
- 2. Только из левой.**
- 3. Из любой.**

?

1

2

3

4

5

Пропустить
задачу





Из какой полосы разрешено въехать на данный перекресток?

1. Только из правой.
2. Только из левой.
3. Из любой.

3?

1

2

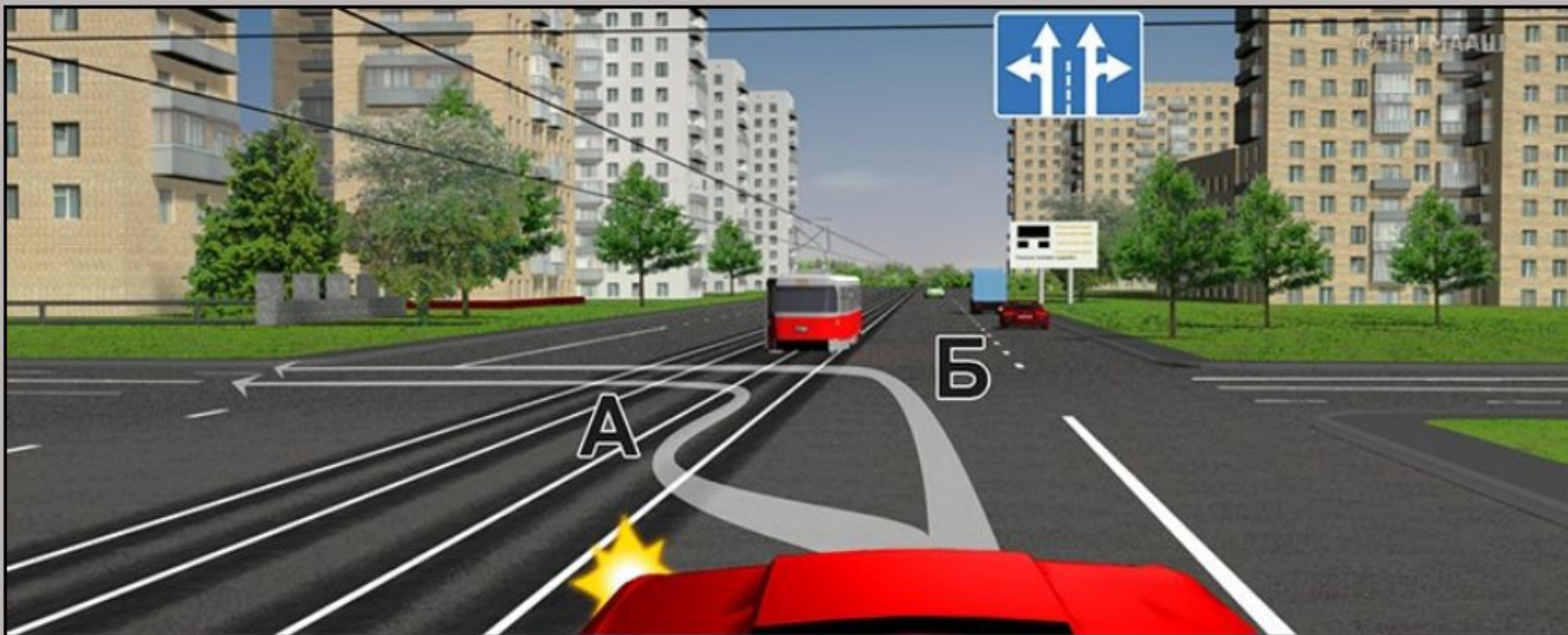
3

4

5

Пропустить
задачу

Подтвердить
ответ 3



По какой траектории Вам разрешается выполнить поворот налево?

- 1. Только по А.**
- 2. Только по Б.**
- 3. По любой из указанных.**

?

1

2

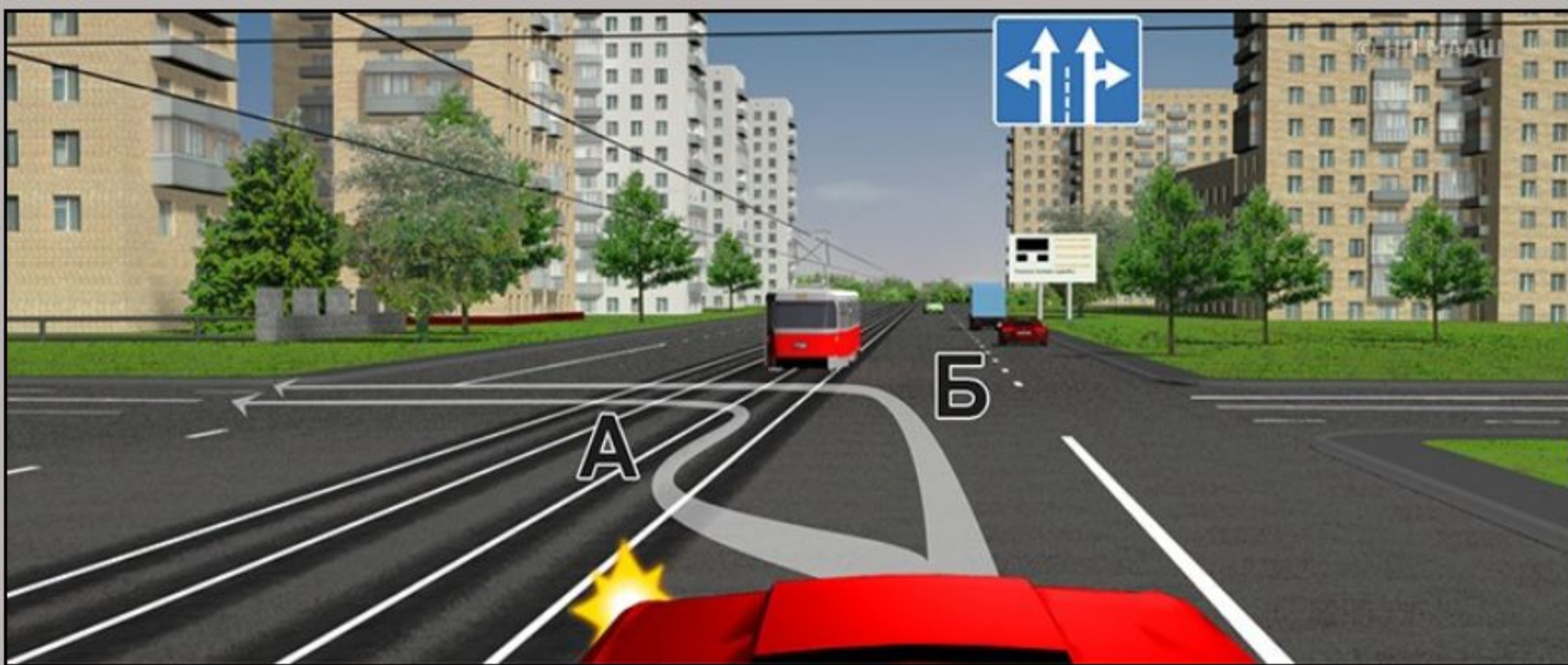
3

4

5

Пропустить
задачу





По какой траектории Вам разрешается выполнить поворот налево?

1. Только по А.
2. Только по Б.
3. По любой из указанных.

2?

1

2

3

4

5

Пропустить
задачу

Подтвердить
ответ 2



В каких направлениях Вам можно продолжить движение?

- 1. Только прямо.**
- 2. Прямо и налево.**
- 3. Прямо, налево и в обратном направлении.**

?

1

2

3

4

5

Пропустить
задачу





В каких направлениях Вам можно продолжить движение?

1. Только прямо.
2. Прямо и налево.
3. Прямо, налево и в обратном направлении.

3?

1

2

3

4

5

Пропустить
задачу

Подтвердить
ответ 3

