


Викторина по технологиям

7 класс





Интерьер жилого дома

Загадка


Интерьер жилого дома

Он с хоботом резиновым,
Желудком парусиновым,
А загудит его мотор –
Глокает он и пыль и сор.



Ребус

Интерьер жилого дома



3 = М



Анаграмма

Интерьер жилого дома

Так называют широкую рамку из многослойного картона, которая обрамляет рисунок, фотографию, коллаж или другое произведение искусства.

А	П	А	П	С	У	Р	Т
---	---	---	---	---	---	---	---

Задание

Интерьер жилого дома

Установите соответствие между указанными видами уборки помещений и выполняемыми работами.

1

Ежедневная (сухая) уборка

А

Чистка ковров и дорожек; протирание батарей, подоконников; чистка дверных ручек, водопроводных кранов, ванной; мытьё комнатных растений; чистка украшений; мытьё полов.

2

Еженедельная (влажная) уборка

Б

Обметание стен и потолков; чистка вентиляционных решёток; мойка шкафов; мойка подоконников, рам, окон, батарей, дверей; мытьё полов.

3

Сезонная (генеральная) уборка

В

Проветривание помещений; уборка постели, мест общего пользования; подметание пола; удаление пыли.



Кулинария

Загадка

Кулинария

Их готовить нелегко:
Яйца, соль и молоко,
Сахар, дрожжи и мука –
Всё взбивается слегка
Деревянным круглым пестом
В жидкое сырое тесто.
В сковородке выпекаем –
Сладким мёдом поливаем
Или сыром посыпаем.
Будут с маслицем вкусны
Аппетитные...



Ребус

Кулинария



Анаграмма

Так называют сваренные в сахарном сиропе,
а затем подсушенные и засахаренные фрукты.

У	Ы	К	Ц	А	Т
---	---	---	---	---	---

Задание

Сопоставьте указанные продукты со временем их хранения в холодильнике при температуре 4–8 °С.

1 Сметана

А 20 часов

2 Молоко


Б 72 часа

3 Сливочное масло

В 36 часов

4 Творог

Г 10 дней



Создание
изделий из
текстильных
материалов



Загадка

Создание изделий из текстильных материалов

Шелковицу кушает,
Листьев шелест слушает.
Не паук, а нить прядёт
Да из нити кокон вьёт.
Шёлковый себе наряд
Изготовит...



Ребус

Создание изделий из текстильных материалов



3 = Л



3 = В



Анаграмма

Создание изделий из текстильных материалов

Так называют влажно-тепловую обработку материала для предотвращения последующей усадки.

А	Е	Е	К	Р	Д	А	В	О	Т	Н	И	И
---	---	---	---	---	---	---	---	---	---	---	---	---

Задание

Создание изделий из текстильных материалов

Установите соответствие между названиями мерок
и их условными обозначениями.

1 Ст

2 Сб

3 Дтс

4 Ди

А Длина спины до линии талии

Б Полуобхват бёдер

В Длина изделия

Г Полуобхват талии



Художественные ремёсла



Загадка

Художественные ремёсла

Колпачок какой на пальце
Вышивать помог на пяльцах.
Пальчик мой он охраняет,
От иглы оберегает!



Ребус

Художественные ремёсла



,



”

”



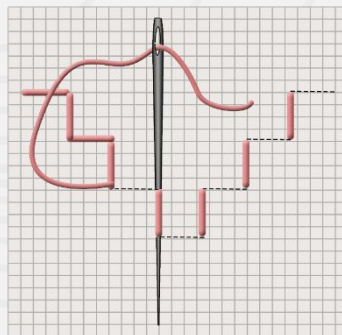
”



Анаграмма

Художественные ремёсла

Так называют двустороннее шитьё,
которое состоит из тонких линий.



С	П	О	Р	Ь	С	И
---	---	---	---	---	---	---

Задание

Художественные ремёсла

Укажите, в какой очерёдности следует выполнять указанные операции при подготовке к вышивке.

?

определить центр ткани

?

отрезать нитки

?

заправить ткань в пальцы

?

отутюжить ткань для вышивки

?

разметить центральные линии

?

обметать края