

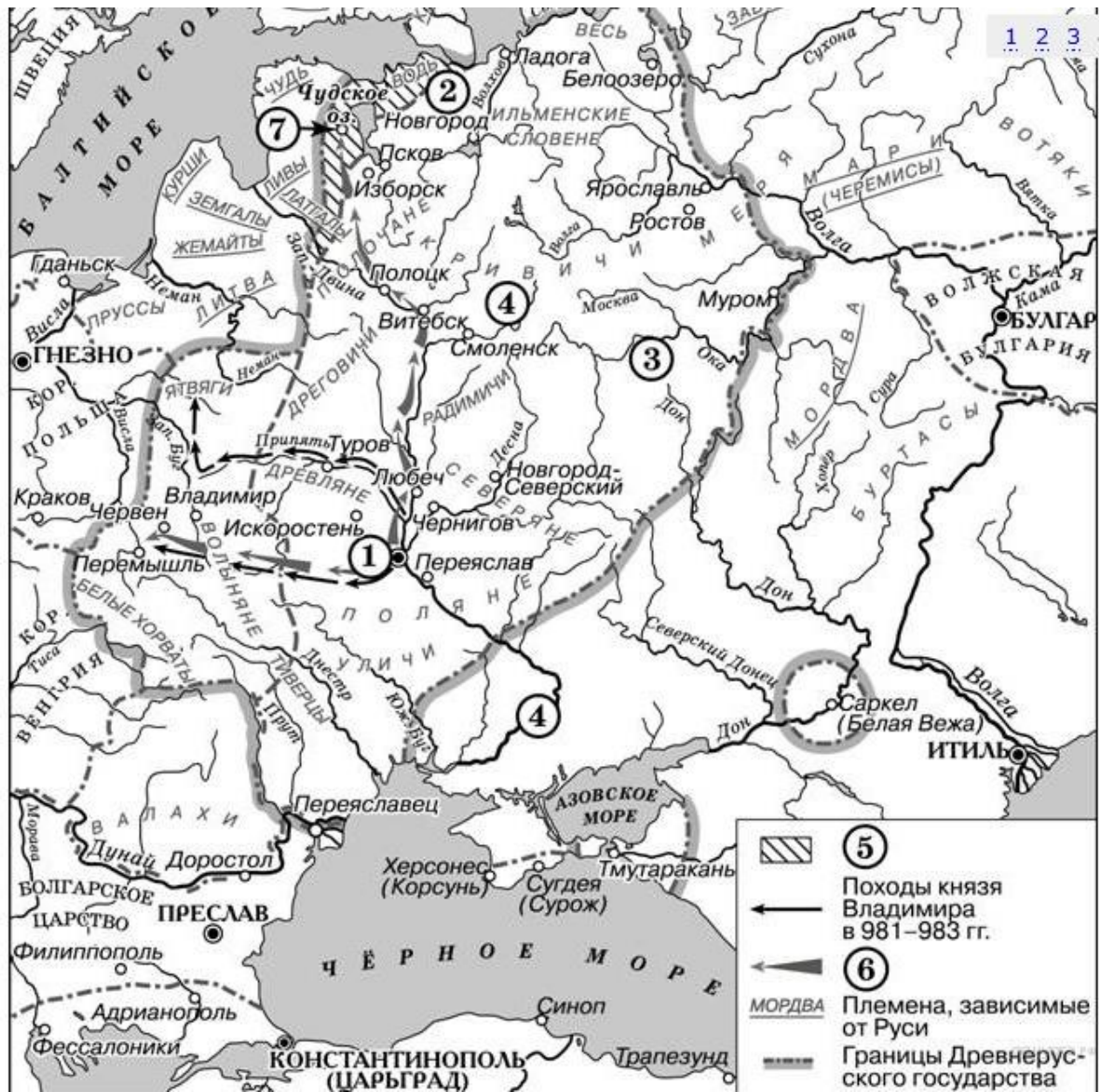
Работа с картами 2

- Напишите название отмеченного на карте пути.
- Напиши имя князя, который установил контроль над этим торговым путем.
- Напиши цифру, обозначающую город, который на Руси называли Царьград.

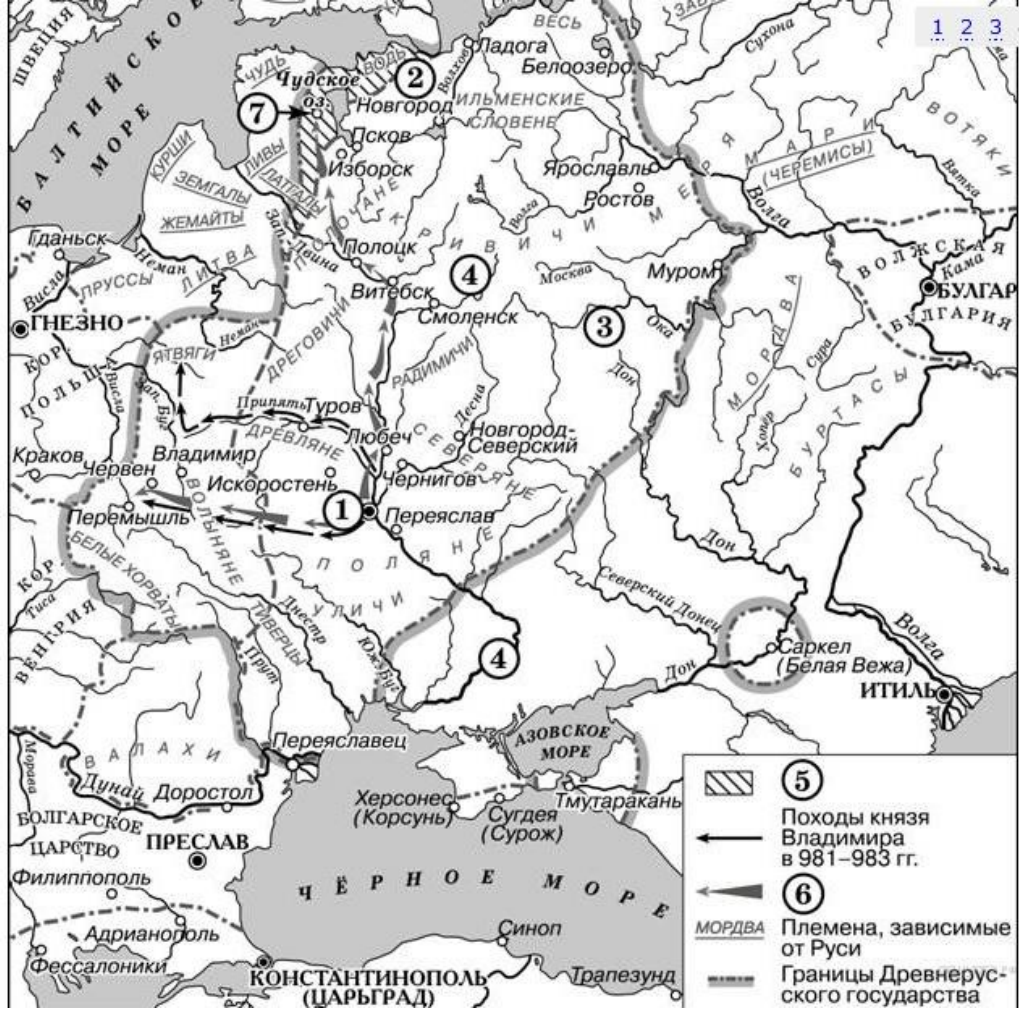


Укажите имя князя, который совершил поход, обозначенный на схеме цифрой «6». В ответ запишите его имя и прозвание (например, Алексей Тишайший).

Прочитайте отрывок из работы историка и укажите цифру, под которой на схеме обозначено территория проживания народа, название которого пропущено в данном



• «По свидетельствам _____ были прекрасными степными наездниками и имели свой военный строй. Занятиями _____ были кочевое скотоводство (разведение рогатого скота, коней, овец, верблюдов) и ремесло. Поначалу ... вели так называемое таборное кочевание, впоследствии (с конца XI века) сменившееся другим типом кочевья, когда за ордами, куренями и аулами закреплялись определённые участки земли под пастбища. Есть версия, что городов _____ не строили, хотя в их землях упоминаются города Шарукань, Сугров, Чешуев, заложенные именно



- Укажите век, когда русскими князьями были совершены походы, обозначенные на схеме. Ответ запишите словом.
- Назовите князя, с именем которого связано первое летописное упоминание города, обозначенного на схеме цифрой «2». В ответе укажите его имя и и прозвание. (Например, Иван



- «Настоящее окняжение этих областей началось с Владимира Мономаха, который должен был проехать «сквозе Вятиче», чтобы добраться до далекого Ростова. Те долгие годы, когда Мономах, будучи переяславским князем, владел и Ростовским уделом, сказались на жизни Северо-Востока. Здесь возникли такие города, как _____ на Клязьме, Переяславль, названный, в отличие от южного, Залесским, сюда были перенесены даже названия южных рек. Здесь Мономах строил города, украшал их зданиями, здесь он вёл войну с Олегом «Гориславичем»,



- Напишите название русского города, обозначенного на схеме под цифрой «1».
- Напишите образное название битвы, обозначенной на схеме цифрой «2».





Грюнвальдская битва

Начало сражения





- | | | | |
|-------------|---|--|--|
| 1503 | Годы присоединения территорий к Московскому княжеству | | Поход хана Ахмата на Русь (1480 г.) |
| | Граница единого Российского государства к 1533 г. | | «Стояние на Угре» |
| | Поход Ивана III на Новгород в 1471 г. | | Осада и взятие Смоленска русскими войсками в 1514 г. |
| 1471 | Битва на реке Шелони | | Набеги войск Крымского ханства |

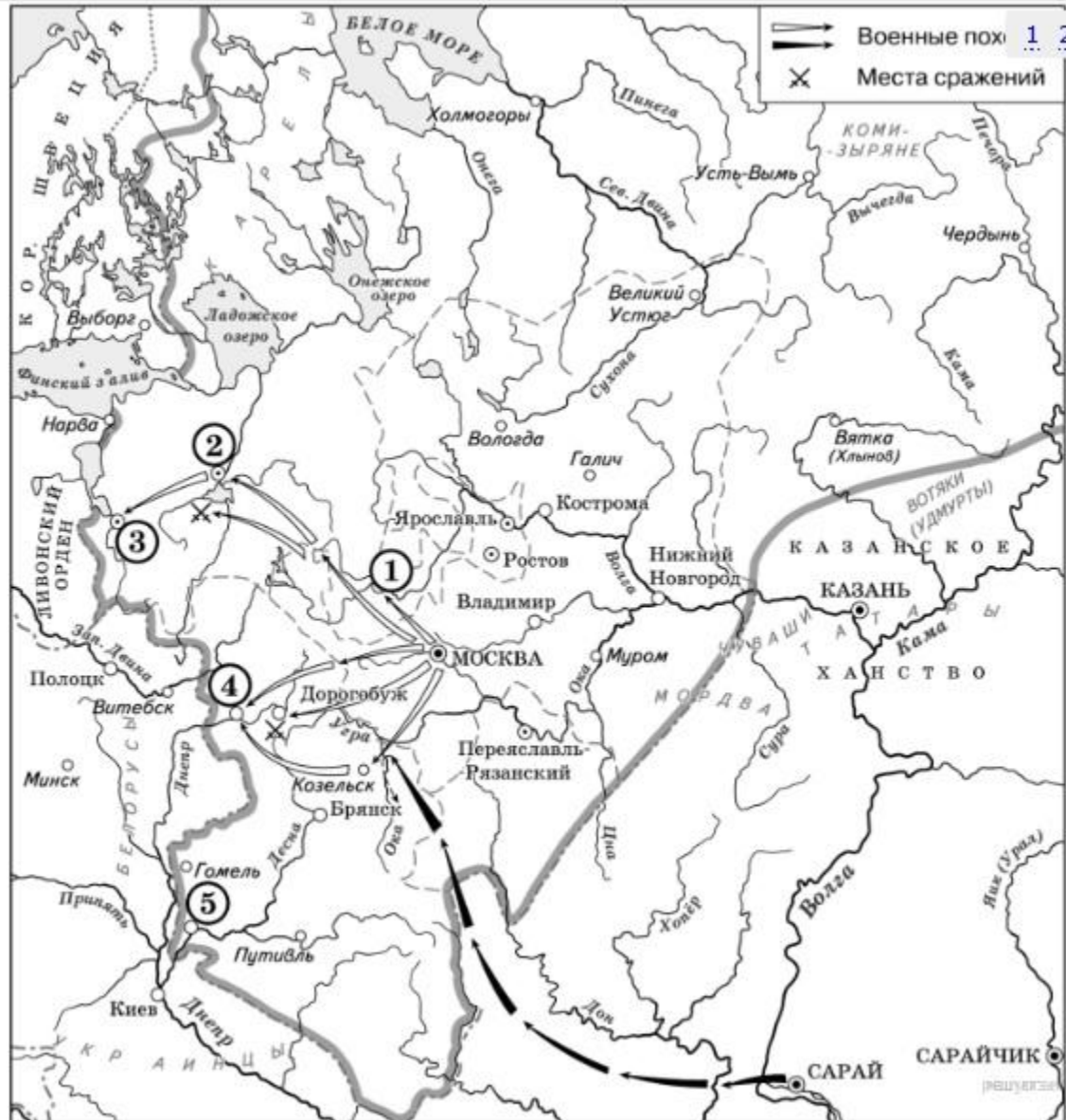
Собирание земель





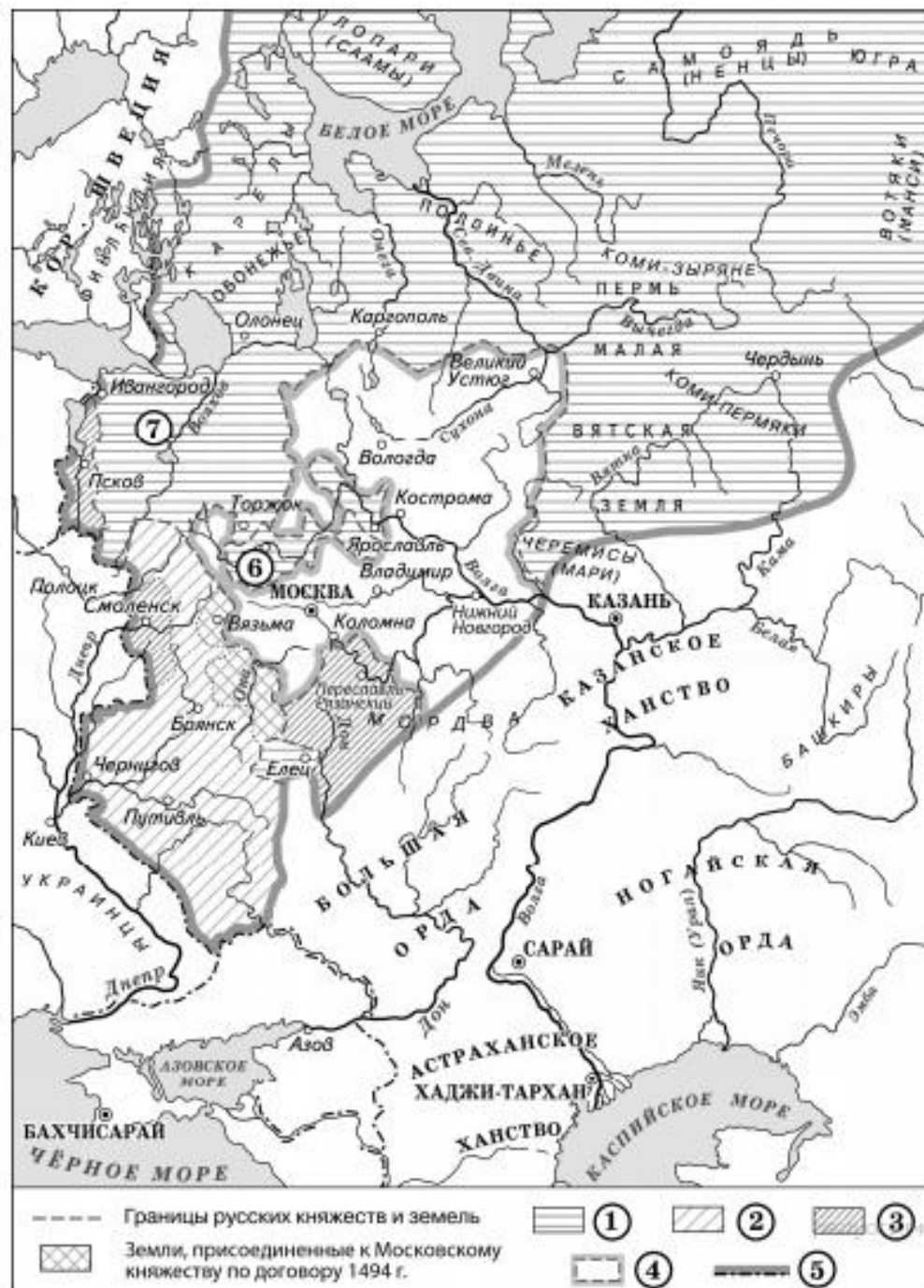
- Укажите век, когда преимущественно произошли события, изображенные на схеме. Ответ запишите слово.

- Укажите название города, который обозначен на схеме цифрой 1



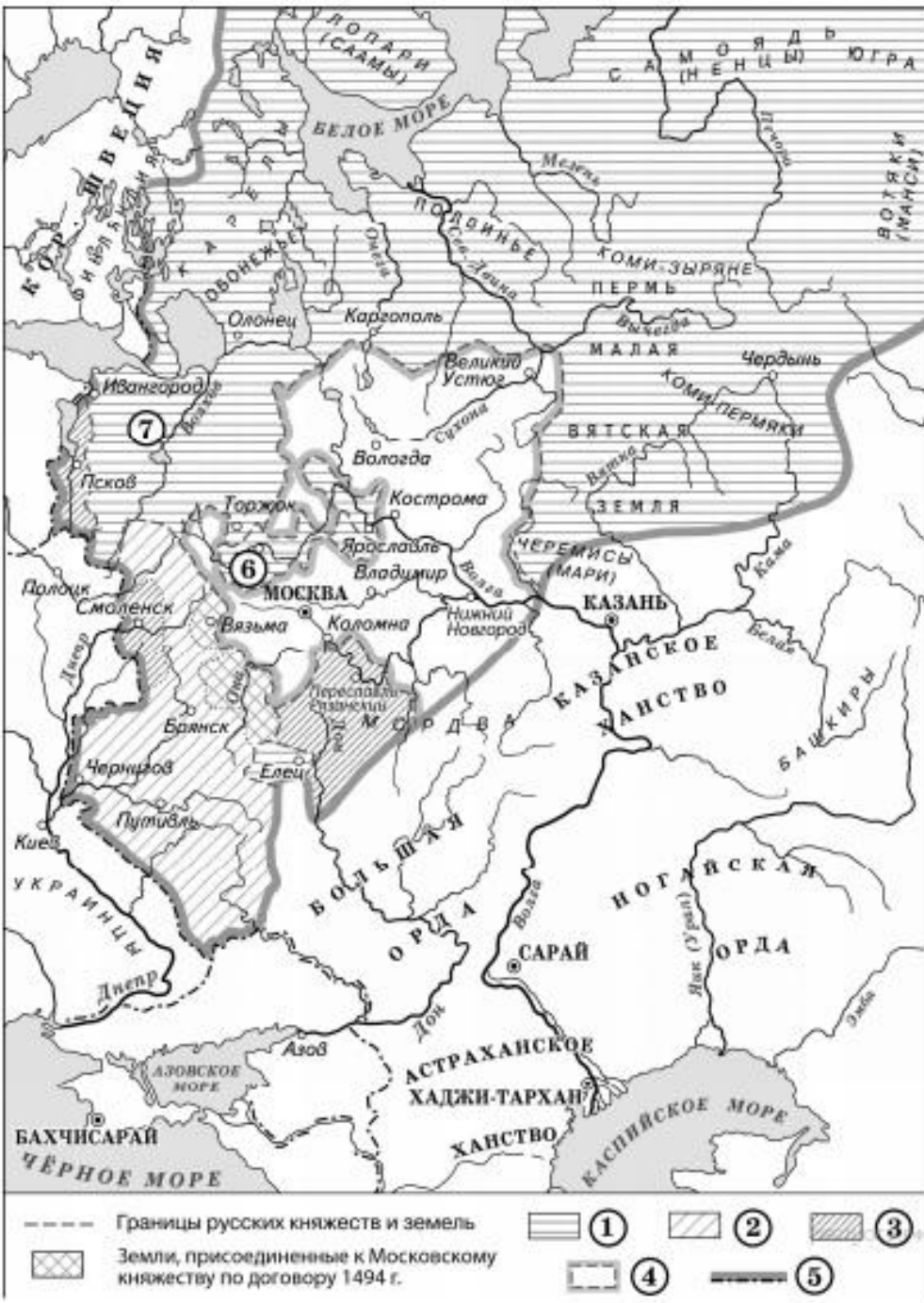
- Укажите век, когда в состав Московского государства вошли города, обозначенные на схеме цифрами «6» и «7». Ответ запишите словом.

- «Цифрой «5» в легенде схемы обозначена граница Московского государства к началу правления _____.



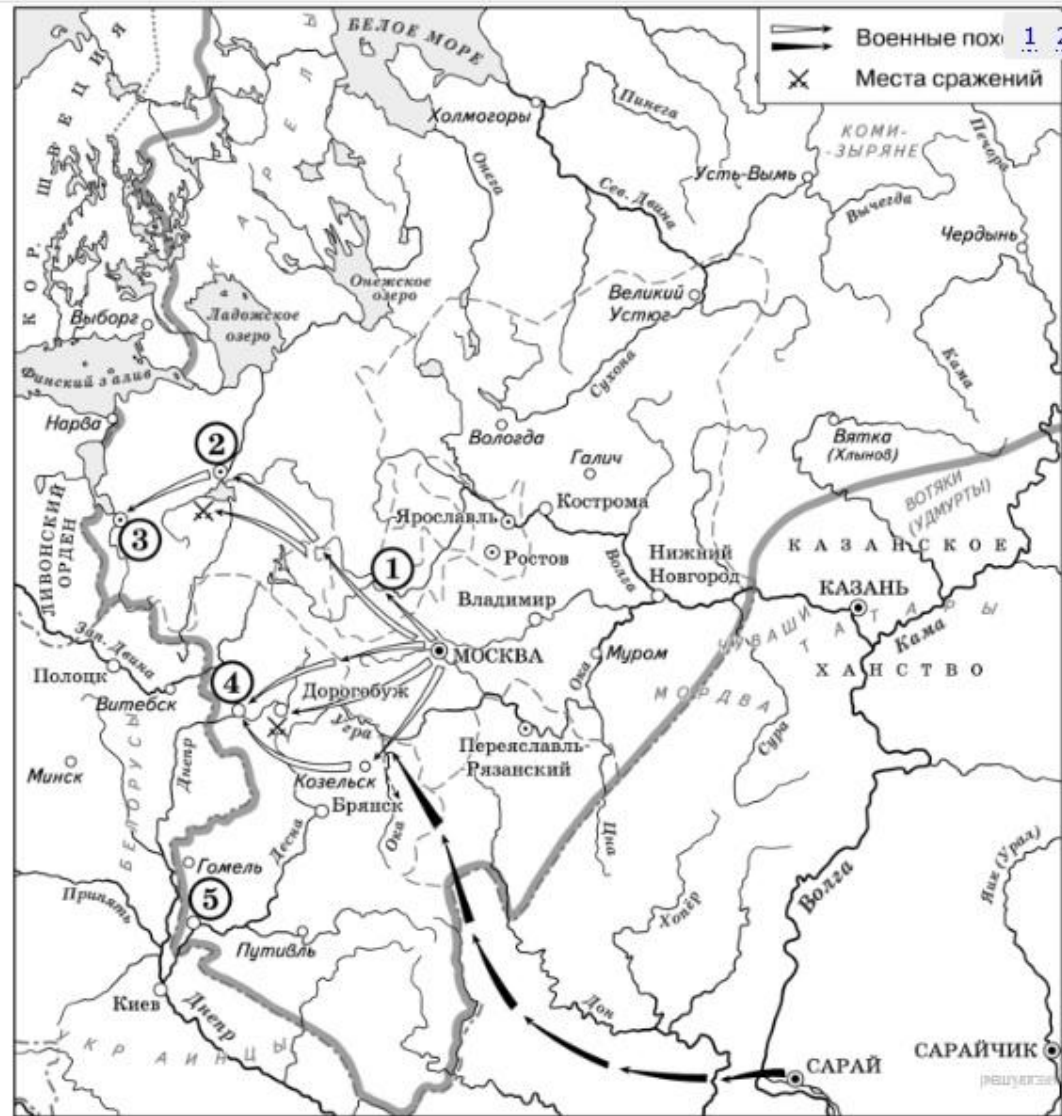
«Новый правитель Московского государства в своей политике в отношении других княжеств продолжал политику отца по завершению собирания русских земель. Князю удалось вынудить вольнолюбивых псковичей покориться воле правителя Московского государства. Большое значение для завершения процесса собирания русских земель имело присоединение Рязанской земли.

Во внешней же политике на западном направлении самым крупным военным успехом Василия III за всё время его правления было взятие Смоленска, ставшее результатом трёх смоленских

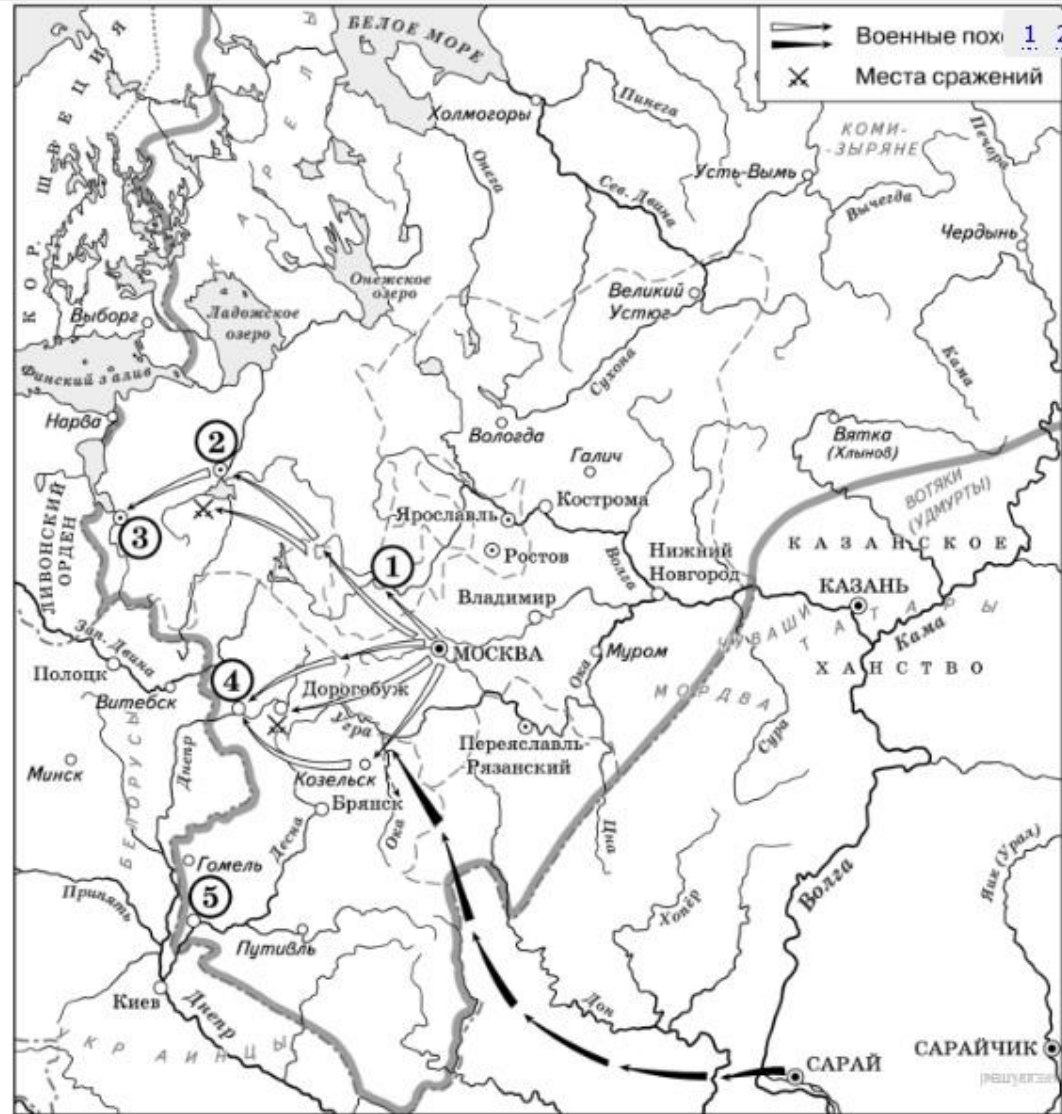


- Назовите князя, в годы правления которого в состав единого Русского государства вошли города, обозначенные на схеме цифрами «1» и «2».

- Укажите век, когда в состав единого Русского государства вошли города, обозначенные на схеме цифрами «3», «4» и «5» (ответ напишите словом).



- Назовите князя, при котором Русское государство достигло границ, обозначенных на схеме жирной чертой.



- Назовите московского князя, в правление которого происходили события, обозначенные на схеме.
- Напишите название реки, обозначенной на схеме цифрой «3».
- Напишите название города, обозначенного на схеме цифрой «2».
- Назовите предводителя ордынского войска, действия которого обозначены на схеме. В ответе укажите только его имя.

