

Древнерусское государство

ЗАДАНИЯ НА ОПРЕДЕЛЕНИЕ ХРОНОЛОГИЧЕСКОЙ ПОСЛЕДОВАТЕЛЬНОСТИ СОБЫТИЙ

1

Расположите в хронологической последовательности имена князей в соответствии с периодами их правления.

1) Святослав

4) Олег Вещий

2) Игорь

5) Владимир Святой

3) Ярослав Мудрый

42153

Ответ:

--	--	--	--	--

2

Расположите в хронологическом порядке следующие события:

1) поход князя Олега на Константинополь

2) восстание древлян

3) гибель князей Бориса и Глеба

4) походы князя Святослава

5) принятие христианства княгиней Ольгой

12543

Ответ:

--	--	--	--	--

ЗАДАНИЯ НА ОПРЕДЕЛЕНИЕ ХРОНОЛОГИЧЕСКОЙ ПОСЛЕДОВАТЕЛЬНОСТИ СОБЫТИЙ

3 Расположите в хронологическом порядке следующие имена:

- 1) Мстислав Великий
- 2) Всеволод Большое Гнездо
- 3) Андрей Боголюбский
- 4) Даниил Московский
- 5) Симеон Гордый

13245

Ответ:

--	--	--	--	--

4 Расположите следующие события в хронологической последовательности:

- 1) разгром князем Ярославом печенегов
- 2) захват князем Олегом Киева
- 3) отмена местничества
- 4) разгром князем Святославом хазар
- 5) отмена кормлений

24153

Ответ:

--	--	--	--	--

ЗАДАНИЯ НА ОПРЕДЕЛЕНИЕ ХРОНОЛОГИЧЕСКОЙ ПОСЛЕДОВАТЕЛЬНОСТИ СОБЫТИЙ

5 Расположите названия памятников русской культуры в хронологической последовательности их появления.

- 1) «Слово о полку Игореве»
- 2) Собор Василия Блаженного в Москве
- 3) белокаменный Кремль в Москве
- 4) «Повесть временных лет»
- 5) Софийский собор в Киеве

Ответ:

--	--	--	--	--

54132

6 Расположите события в хронологической последовательности.

- 1) княжение Ивана Калиты
- 2) первое летописное упоминание о Москве
- 3) битва на реке Калке
- 4) основание Троицкого монастыря Сергием Радонежским
- 5) княжение Владимира Мономаха 1113

Ответ:

--	--	--	--	--

52314

ЗАДАНИЯ НА ОПРЕДЕЛЕНИЕ ХРОНОЛОГИЧЕСКОЙ ПОСЛЕДОВАТЕЛЬНОСТИ СОБЫТИЙ

6. Расположите в хронологической последовательности следующие события

- 1) русско-византийская война
- 2) Принятие христианства на Руси
- 3) Поездка Ольги в Константинополь
- 4) Княжение Рюрика
- 5) Первая усобица на Руси

43152

7. Расположите в хронологическом порядке имена

- 1) Иоанн Цимисхий
- 2) Мал
- 3) Владимир Святой
- 4) Ярослав Мудрый
- 5) Аскольд и Дир

52134

Задания на множественный выбор

1 Какие три термина из перечисленных ниже обозначали категории людей, зависимых от крупных землевладельцев в Древней Руси?

- 1) рядович
- 2) холоп
- 3) закуп

- 4) дьяк
- 5) волхв
- 6) инок

123

Ответ:

--	--	--

2 Какие три из перечисленных ниже терминов относятся к строительству и убранству церквей в Древней Руси?

- 1) крестово-купольный храм
- 2) скань
- 3) витраж

- 4) фреска
- 5) мозаика
- 6) парсуна

145

Ответ:

--	--	--

Задания на множественный выбор

3 Какие три из перечисленных ниже памятников зодчества были построены в Северо-Восточной Руси в XII в.?

- 1) Успенский собор во Владимире
- 2) Архангельский собор в Москве
- 3) Дмитриевский собор во Владимире
- 4) церковь Спаса на Нередице
- 5) церковь Параскевы Пятницы на Торгу
- 6) церковь Покрова на Нерли

136

Ответ:

--	--	--

4. Выбери три имени исторических персонажей, связанных с правлением княгини Ольги

- 1) Константин Багрянородный
- 2) Куря
- 3) Мал
- 4) Андрей Боголюбский
- 5) Мальфред
- 6) Владимир II

135

Задания на установление соответствия

- 1 Установите соответствие между именами князей и событиями, связанными с их княжением. К каждой позиции первого столбца подберите соответствующую позицию второго и запишите в таблицу выбранные цифры под соответствующими буквами.

ИМЕНА

- А) Ольга
- Б) Святослав
- В) Владимир Святославович
- Г) Владимир Мономах

СОБЫТИЯ

- 1) разгром половцев
- 2) крещение Руси
- 3) принятие Судебника
- 4) установление новой формы сбора дани
- 5) дунайские походы

Ответ:

А	Б	В	Г

4521

Задания на установление соответствия

- 2** Установите соответствие между именами князей и событиями, связанными с их деятельностью. К каждому элементу первого столбца подберите соответствующий элемент из второго и внесите в строку ответов выбранные цифры под соответствующими буквами.

КНЯЗЬЯ

- А) Владимир Святославович
- Б) Олег
- В) Ярослав Мудрый
- Г) Игорь Старый

СОБЫТИЯ

- 1) завершение в основном процесса создания единого Российского государства
- 2) объединение Киева и Новгорода
- 3) восстание древлян
- 4) языческая реформа и установление пантеона богов во главе с Перуном
- 5) принятие «Русской Правды»

Ответ:

А	Б	В	Г

1453

Задания на поиск исторической информации в источниках разного типа

1 Прочтите отрывок из сочинения историка и укажите, как назывались в Древней Руси сборы, о которых идет речь.

«Большую часть зимы князь и дружина ездили по городам, крупным селам, собирая с городских и крестьянских общин-вервей серебро, меха, продовольствие и различные товары <...> Князь Игорь был убит в одном из походов на древлян за повторной данью».

Ответ: _____.

2 Прочтите отрывок из сочинения Н. М. Карамзина и укажите имя князя, о котором идет речь.

«Узнав о набеге печенегов, он спешил из Новгорода в Южную Россию и сразился с варварами под стенами Киева <...> Князь одержал победу <...> В память сего знаменательного торжества Великий князь заложил на месте сражения великолепную церковь и, распространив Киев, обвел его каменными стенами <...> он назвал главные врата Златыми, а новую церковь Святой Софиею».

Ответ: _____.

полюдье

Ярослав
Мудрый

Задания на поиск исторической информации в источниках разного типа

3 Прочтите отрывок из сочинения современных историков и укажите, как назывались произведения, в которых действовали описанные герои.

«Необычные и подчас фантастические силы героев — палицы у богатырей по 100 пудов <...> Враги, выходившие на богатырей, были чудовищно могучи. Войска вражьего стана, растянувшегося в степях, серому волку в три дня не обрыскать, черному ворону не облететь».

Ответ: _____.

былина

Задания на указание лишнего элемента из перечня

- 1 Ниже приведён перечень терминов. Все они, за исключением одного, являются названиями восточнославянских племен.

Поляне, древляне, дреговичи, радимичи, вятичи, хазары, кривичи.

Найдите и укажите термин, выпадающий из общего ряда.

Ответ: _____.

хазары

- 2 Ниже приведён перечень названий социальных групп. Все они, за исключением одного, связаны с периодом Киевской Руси.

Бояре, смерды, рядовичи, мещане, закупы, холопы.

Найдите и укажите термин, выпадающий из общего ряда.

Ответ: _____.

мещан
е

Задания на систематизацию исторической информации, представленной в различных знаковых системах, таблицах

1. Заполните пустые ячейки таблицы, используя представленные в приведённом ниже списке данные. Для каждой ячейки, обозначенной буквами, выберите номер нужного элемента.

Древнерусский князь	Даты	События
(А)	882 г.	(Б)
(В)	862 г.	(Г)
Игорь	(Д)	Поход киевского князя на Константинополь
(Е)	967-971 гг.	Война с Византией

281963

Пропущенные элементы

- 1) Рюрик
- 2) Олег
- 3) Святослав
- 4) Ольга
- 5) 911 г.
- 6) 941 г.
- 7) введение уставов, уроков и погостов
- 8) объединение Новгорода и Киева
- 9) призвание варягов в Новгород

Ответ:

А	Б	В	Г	Д	Е

Задания на систематизацию исторической информации, представленной в различных знаковых системах, таблицах

2. Заполните пустые ячейки таблицы, используя представленные в приведённом ниже списке данные. Для каждой ячейки, обозначенной буквами, выберите номер нужного элемента.

Древнерусские князья	Время правления	События
Святослав Игоревич	(А)	(Б)
(В)	980-1015 гг.	(Г)
Ярослав Мудрый	(Д)	Разгром печенегов под Киевом
(Е)	1113-1125 гг.	Принятие «Устава о резах»

Пропущенные элементы

- 1) Владимир Святославич 2) Мстислав Великий 3) Владимир Мономах
4) 912-945 гг. 5) 945-972 гг. 6) 1019-1054 гг.
7) Принятие «Русской Правды»
8) Разгром Хазарского каганата 9) Крещение Руси

Ответ:

А	Б	В	Г	Д	Е

581963

Рассмотрите схему и выполните задания №13-16



13. Укажите название крепости, обозначенной на схеме цифрой «1».

Ответ: _____

Саркел
(Белаявежа)

Рассмотрите схему и выполните задания №13-16



14. Назовите имя полководца, совершившего поход, обозначенный на схеме стрелками. Ответ: _____

Святослав

Рассмотрите схему и выполните задания №13-16



15. Какой цифрой обозначен на схеме город Итиль?
Ответ: _____

Рассмотрите схему и выполните задания №13-16

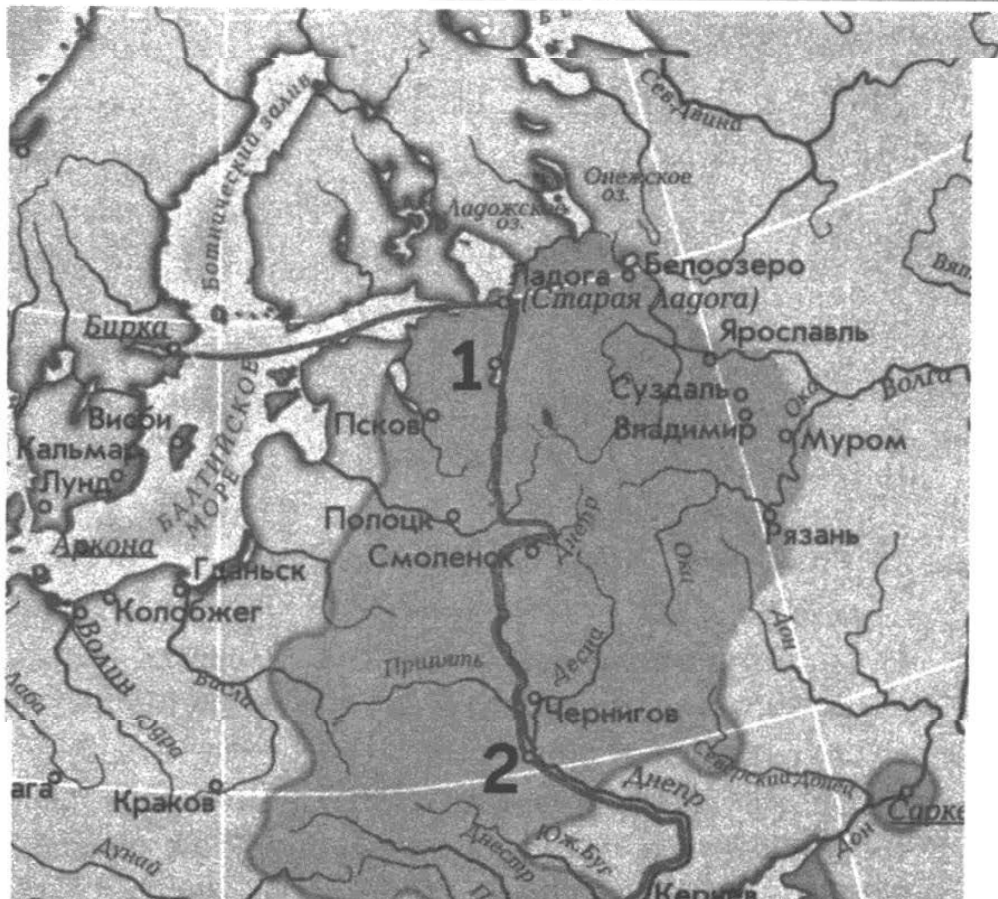
16. Какие суждения, относящиеся к событиям, обозначенным на схеме, являются верными? Выберите три суждения из шести предложенных.

Запишите в таблицу цифры, под которыми они указаны.

- 1) Поход, обозначенный на схеме стрелками, длился более пяти лет.
- 2) Союзниками полководца, совершившего поход, отмеченный на схеме стрелками, выступали печенеги.
- 3) В результате похода, обозначенного на схеме стрелками, был разгромлен Хазарский каганат.
- 4) Столицей князя, совершившего поход, обозначенный на схеме стрелками, был Великий Новгород.
- 5) В результате похода, обозначенного на карте стрелками, крепость, отмеченная цифрой «1», стала частью Древнерусского государства.
- 6) Полководец, совершивший походы, обозначенные на схеме стрелками, был убит печенегами в 972 г.

Ответ: _____

Рассмотрите схему и выполните задания 13–16.

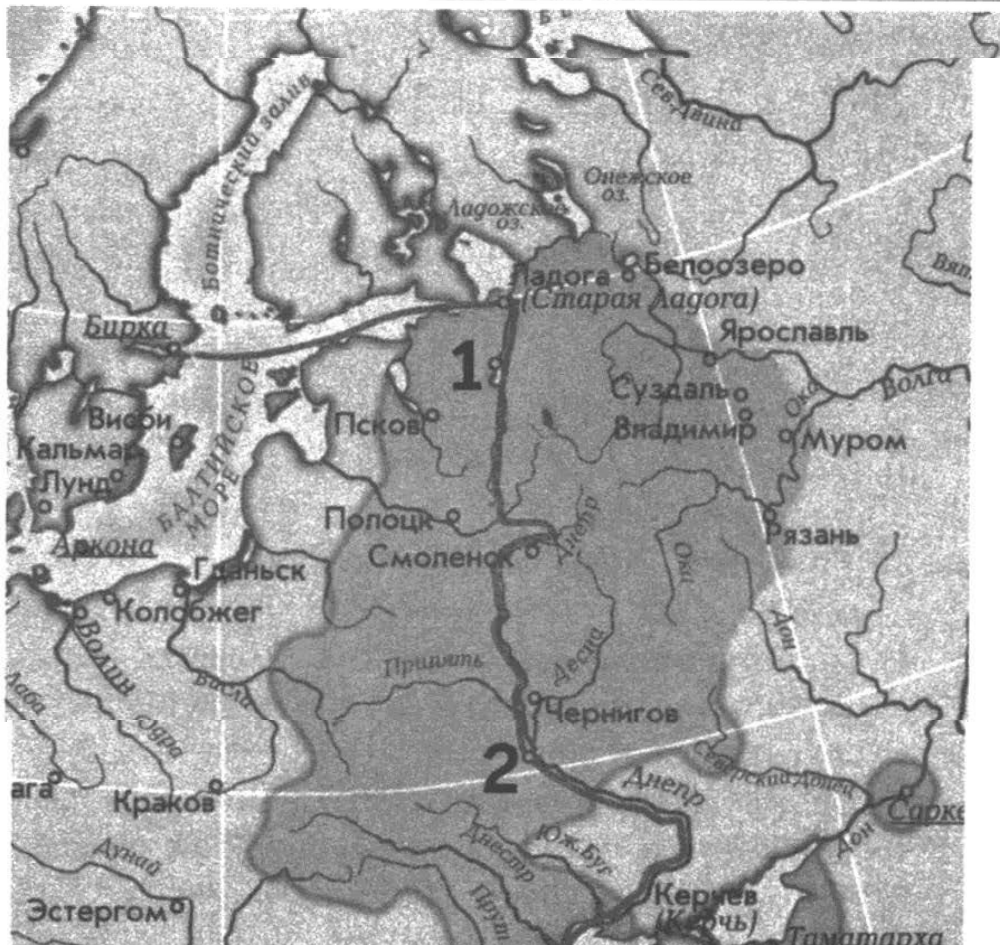


Владимир

13. Напишите имя правителя, возглавлявшего государство на рубеже X–XI вв.

Ответ: _____ .

Рассмотрите схему и выполните задания 13–16.

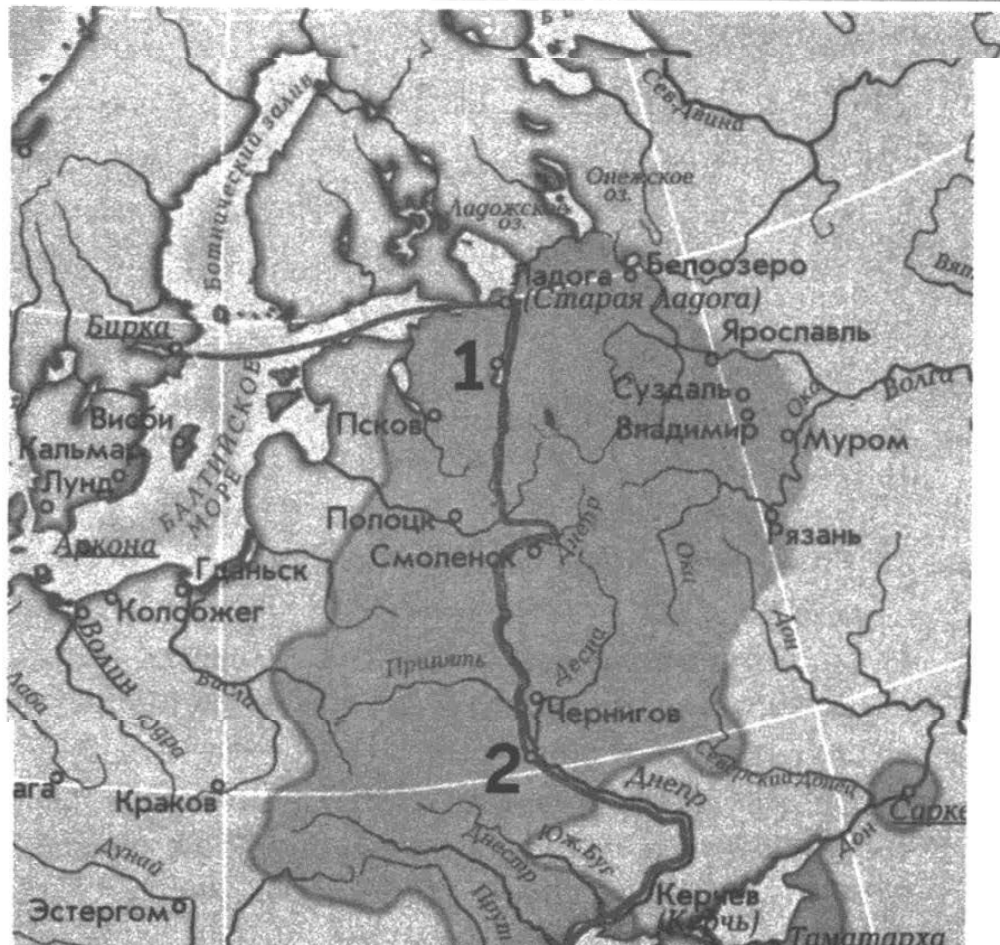


Новгород

14. Напишите название города, обозначенного на схеме цифрой «1».

Ответ: _____ .

Рассмотрите схему и выполните задания 13–16.



Киев

15. Укажите название города, обозначенного на карте цифрой «2», и напишите название реки, на которой он стоит.



Рассмотрите схему и выполните задания 13–16.

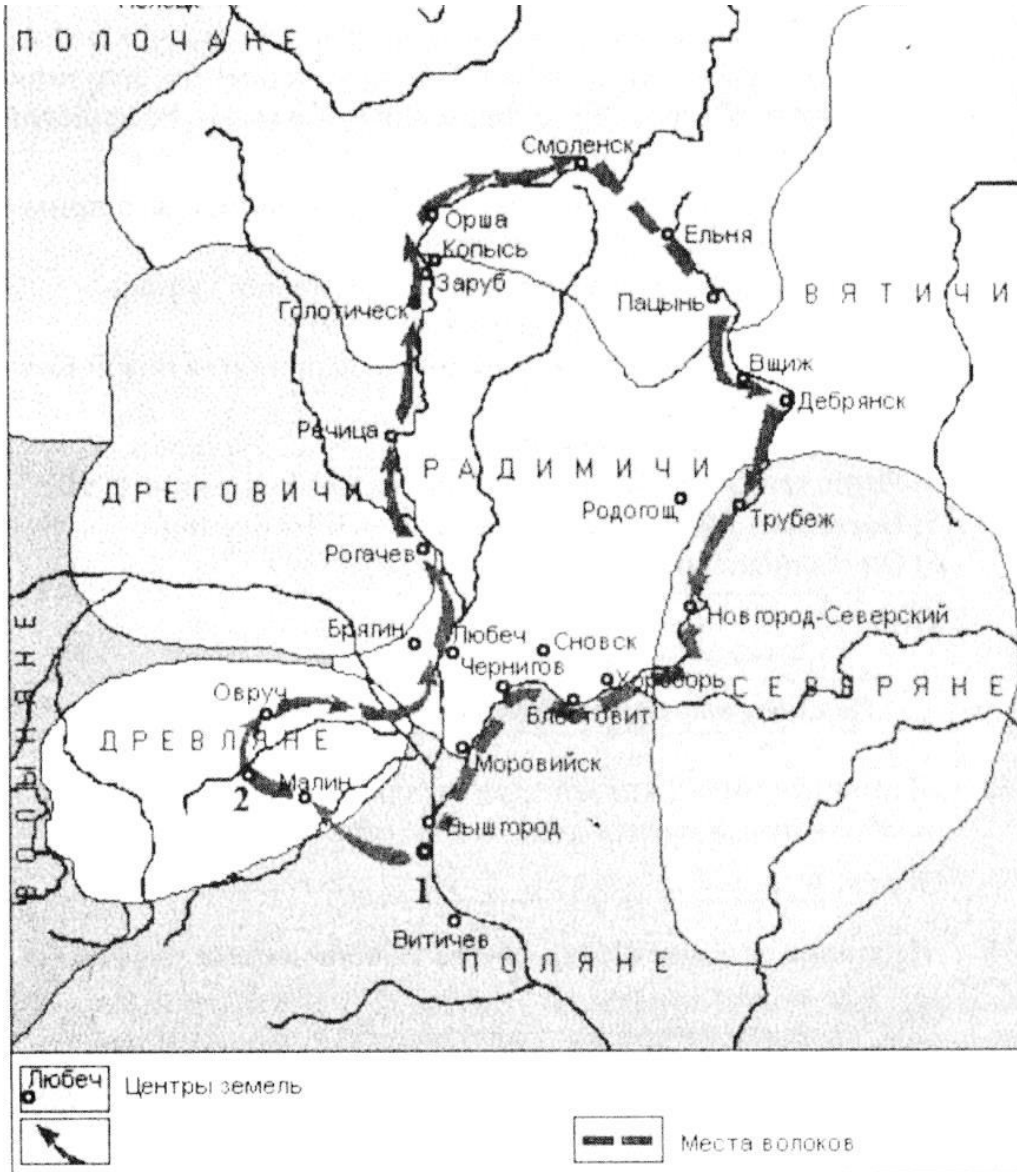


16. Какие суждения, относящиеся к событиям, обозначенным на схеме, являются верными? Выберите три суждения из шести предложенных. Запишите в таблицу цифры, под которыми они указаны.

- 1) Крещение Руси, произошедшее в это время, на многие столетия определило судьбу страны.
- 2) При этом князе Русь располагала морским военным флотом.
- 3) При этом князе на Руси чеканились монеты — «златники» и «серебренники».
- 4) Христианство при этом князе быстро вытеснило языческие культы из повседневной жизни народа.
- 5) Женидьба на византийской принцессе укрепила престиж государства на международной арене.
- 6) Этому князю первому пришлось столкнуться с монголо-татарским войском.

Ответ:

Рассмотрите схему и выполните задания №13-16

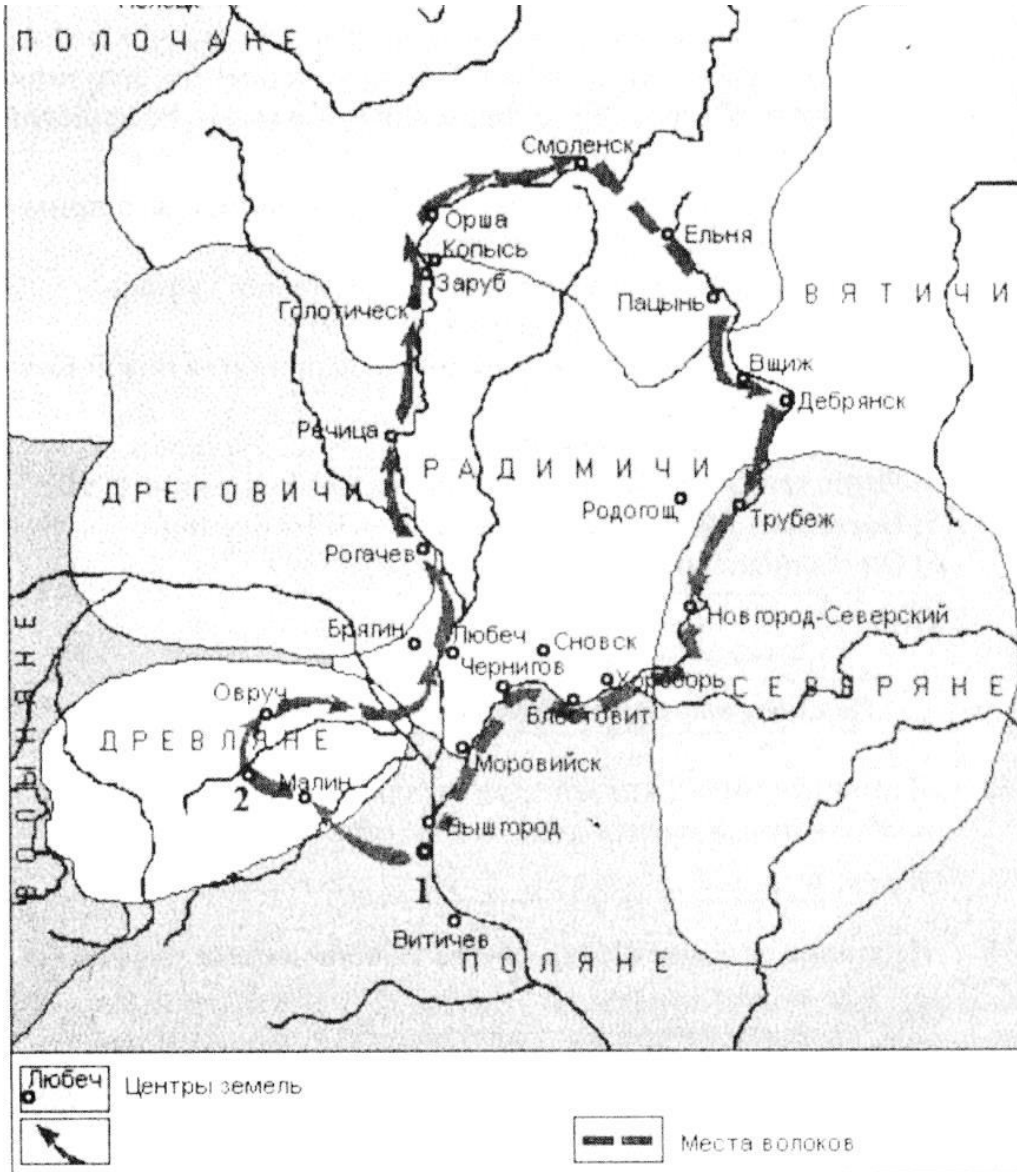


13. Напишите имена князей, при которых происходил процесс, изображённый на схеме стрелками.

Ответ:

ОлегИгорь

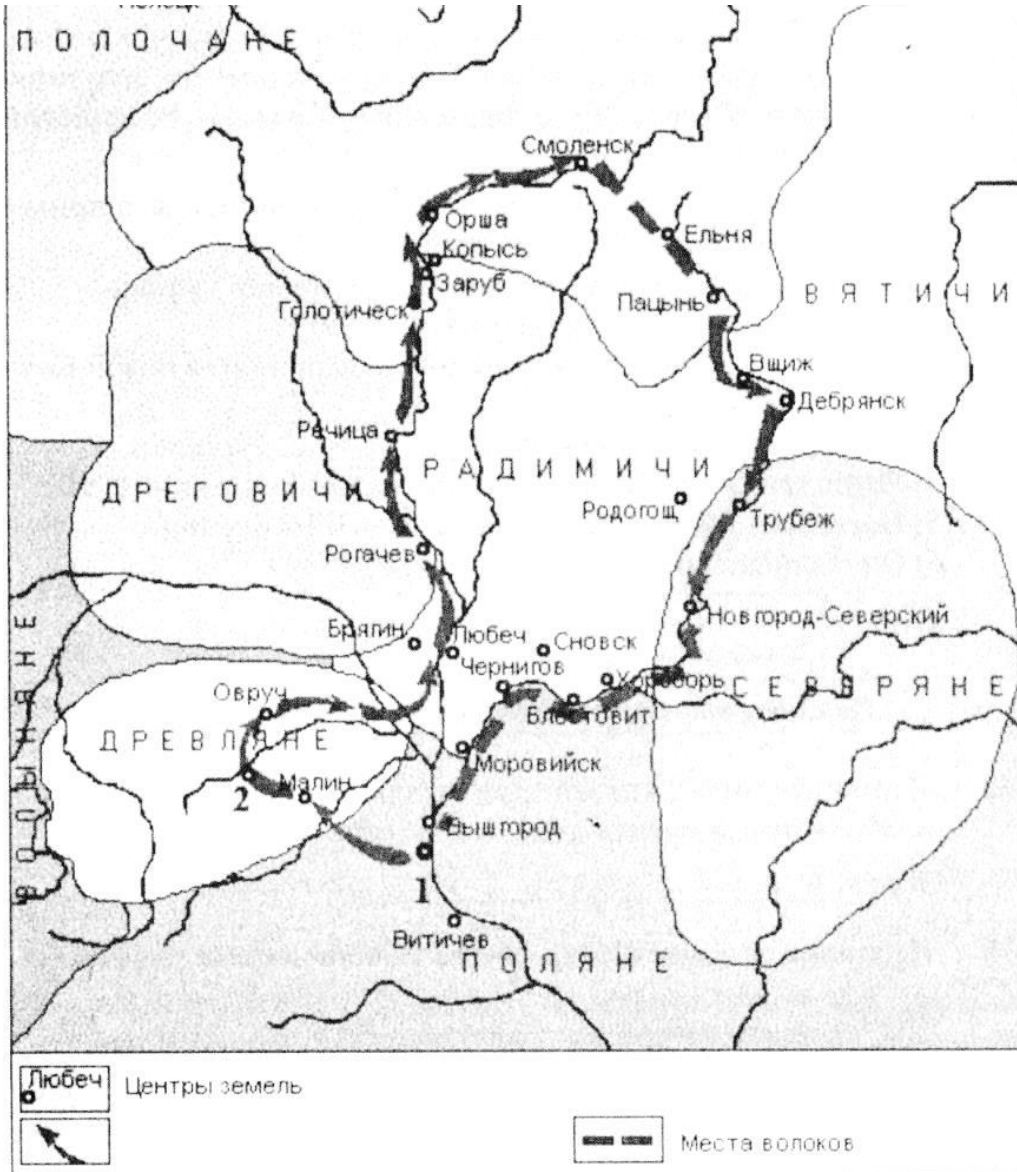
Рассмотрите схему и выполните задания №13-16



14. Напишите название города, обозначенного на схеме цифрой «1».
Ответ:

Киев

Рассмотрите схему и выполните задания №13-16



15. Укажите название города, обозначенного на схеме цифрой «2», где был убит один из князей, осуществлявший данный процесс

Искоростень

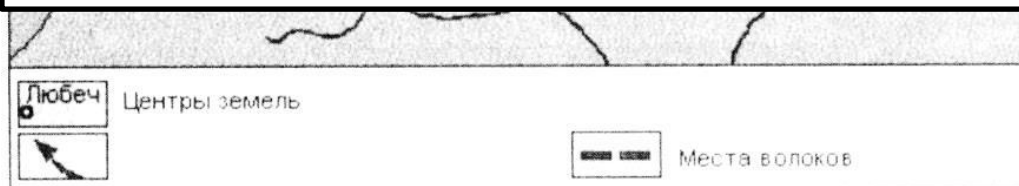
Рассмотрите схему и выполните задания №13-16

16. Какие суждения, относящиеся к событиям, обозначенным на схеме, являются верными? Выберите три суждения из шести предложенных.

Запишите в таблицу цифры, под которыми они указаны.

- 1) Один из князей, осуществлявший данный процесс, являлся основателем Древнерусского государства.
- 2) Данный процесс просуществовал до феодальной раздробленности русских земель.
- 3) Жена одного из князей отомстила за смерть мужа и изменила данный процесс.
- 4) В результате событий, обозначенных на схеме, русские земли попали в зависимость.
- 5) Поход, обозначенный на схеме стрелками, начинался осенью и длился до начала весны.
- 6) Города подвергались осаде.

Ответ:



Политическая раздробленность

ЗАДАНИЯ НА ОПРЕДЕЛЕНИЕ ХРОНОЛОГИЧЕСКОЙ ПОСЛЕДОВАТЕЛЬНОСТИ СОБЫТИЙ

6 Расположите события в хронологической последовательности.

- 1) княжение Ивана Калиты
- 2) первое летописное упоминание о Москве
- 3) битва на реке Калке
- 4) основание Троицкого монастыря Сергием Радонежским
- 5) княжение Владимира Мономаха

52314

Ответ:

--	--	--	--	--

7 Расположите в хронологической последовательности следующие события:

- 1) антиордынское восстание в Твери
- 2) приход Рюрика в Новгород
- 3) Ледовое побоище

24531

ЗАДАНИЯ НА ОПРЕДЕЛЕНИЕ ХРОНОЛОГИЧЕСКОЙ ПОСЛЕДОВАТЕЛЬНОСТИ СОБЫТИЙ

3

Расположите в хронологическом порядке следующие имена:

1) Мстислав Великий

4) Даниил Московский

2) Всеволод Большое Гнездо

5) Симеон Гордый

3) Андрей Боголюбский

13245

Ответ:

--	--	--	--	--

Задания на установление соответствия

3

Установите соответствие между историческими личностями и их деятельностью. К каждому элементу первого столбца подберите соответствующий элемент из второго и внесите в строку ответов выбранные цифры под соответствующими буквами.

ИСТОРИЧЕСКИЕ ЛИЧНОСТИ

- А) Святослав
- Б) Александр Невский
- В) Дмитрий Донской
- Г) Михаил Воротынский

ДЕЯТЕЛЬНОСТЬ

- 1) покорение Хазарии
- 2) победа над шведским войском в Полтавском сражении
- 3) победа над крестоносцами в Ледовом побоище
- 4) победа над крымским войском в битве при Молодах
- 5) победа над войском Мамай на Куликовом поле

Ответ:

А	Б	В	Г

1354

Задания на поиск исторической информации в источниках разного типа

4 Прочтите отрывок из сочинения историка В. О. Ключевского и назовите имя князя, о котором идет речь.

« [Он] строил много церквей, основывал монастыри, не жалел издержек на украшение храмов <...> Он построил церковь Покрова при устье реки Нерли и много других каменных церквей <...> Властолюбивый князь, изгнавши братьев и тех бояр, которые недостаточно ему повиновались, правил в своей земле самовластно, забывши, что он был избран народом, отягощал народ поборами и по произволу казнил смертью всякого, кого хотел».

Ответ: _____.

Андрей
Боголюбски
й

Задания на поиск исторической информации в источниках разного типа

5 Прочтите отрывок из сочинения историка и укажите имя князя, с которым связаны описываемые в источнике события.

«В 1240 г. в момент, когда Восточная и Средняя Русь подверглась опустошительному татарскому нашествию, северный сосед Великого Новгорода, шведы, вместе с подчиненными им финскими племенами, напали на новгородскую землю; пришли они «в силе велице, в кораблех множество много зело».

Ответ: _____.

Александр
Невский

Задания на поиск исторической информации в источниках разного типа

6 Прочтите отрывок из сочинения историка В. О. Ключевского и укажите имя князя, о котором идет речь.

«Поручение собирать ордынскую дань со многих, если только не со всех, князей и доставлять ее в Орду [он] получил <...>, когда стал великим князем владимирским. Это полномочие послужило в руках великого князя могучим орудием политического объединения удельной Руси. Не охотник и не мастер бить свою братию мечом, московский князь получил возможность бить ее рублем».

Ответ: _____.

Иван
Калита

Задания на поиск исторической информации в источниках разного типа

- 7 Прочтите отрывок из сочинения историка Н. М. Карамзина и назовите имя князя, о котором идет речь.

«<...> Ибо никто из потомков Ярослава Великого, кроме Мономаха и Александра Невского, не был столь любим народом и боярами, как он, за его великодушие, любовь ко славе отечества, справедливость, добросердечие. Воспитанный среди опасностей и шума воинского, он не имел знаний, почерпанных в книгах, но знал Россию и науку правления; силою одного разума и характера заслужил от современников имя орла высокопарного в делах государственных; словами и примером вливал мужество в сердца воинов <...> Современники особенно удивлялись его смирению в счастье. Какая победа в древние и новые времена была славнее победы над Мамаем, где каждый россиянин сражался за отечество и ближних?»

Ответ: _____.

Дмитрий
Донской

Задания на поиск исторической информации в источниках разного типа

8 Прочтите отрывок из сочинения историка и укажите, о нашествии какого хана Золотой Орды идет речь.

«Куликовская битва высоко вознесла славу Москвы, но Золотая Орда была еще сильна и отомстила русской столице разорением <...> После гибели Мамаю, убитого в одном из крымских городов, власть над Золотой Ордой перешла к [хану], задумавшему отомстить за поражение татар на Куликовом поле. [Хан] подошел к Москве неожиданно со стороны Рязани, взял и сжег Серпухов, после чего двинулся к Москве. Приближение [хана] стало известно Дмитрию Донскому, но отсутствие единства среди князей и недостаток в Москве воинской силы заставили его отказаться от битвы с татарами и покинуть Москву».

Ответ: _____.

Тохтамыш

Задания на множественный выбор

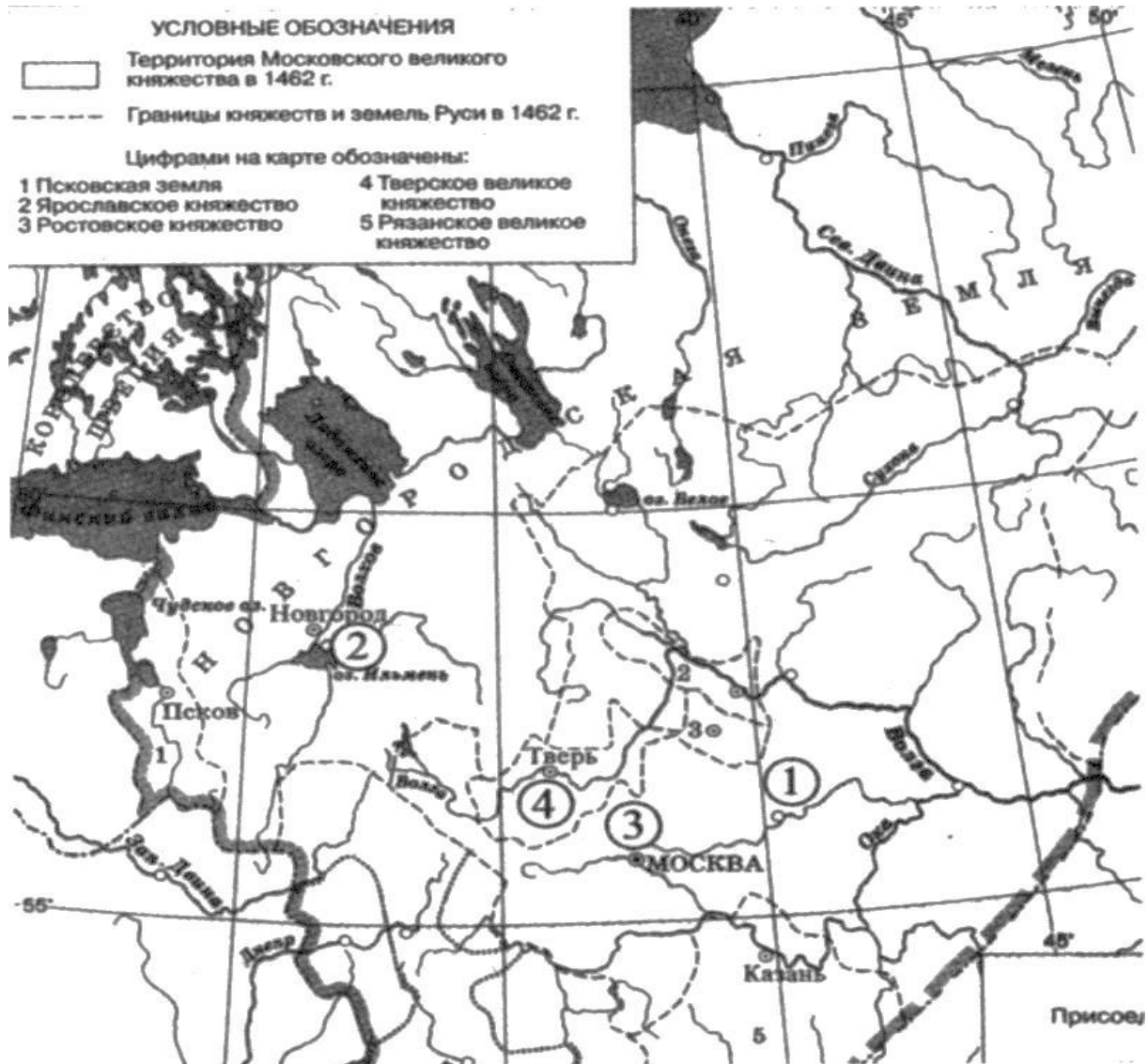
7. Что из перечисленного было характерно для Владимиро-Суздальского княжества в XII–XIII вв.? Выберите три положения. Запишите в таблицу цифры, под которыми они указаны.

- 1) неразвитость вечевых традиций
- 2) независимость боярства и его стремление к ограничению княжеской власти
- 3) центральная роль посадника
- 4) верховная собственность великого князя на землю
- 5) непрочные позиции боярской знати
- 6) призвание князя на престол по договору

Ответ:

Рассмотрите схему и выполните задания №13-16

Рассмотрите карту и выполните задания 13-16.

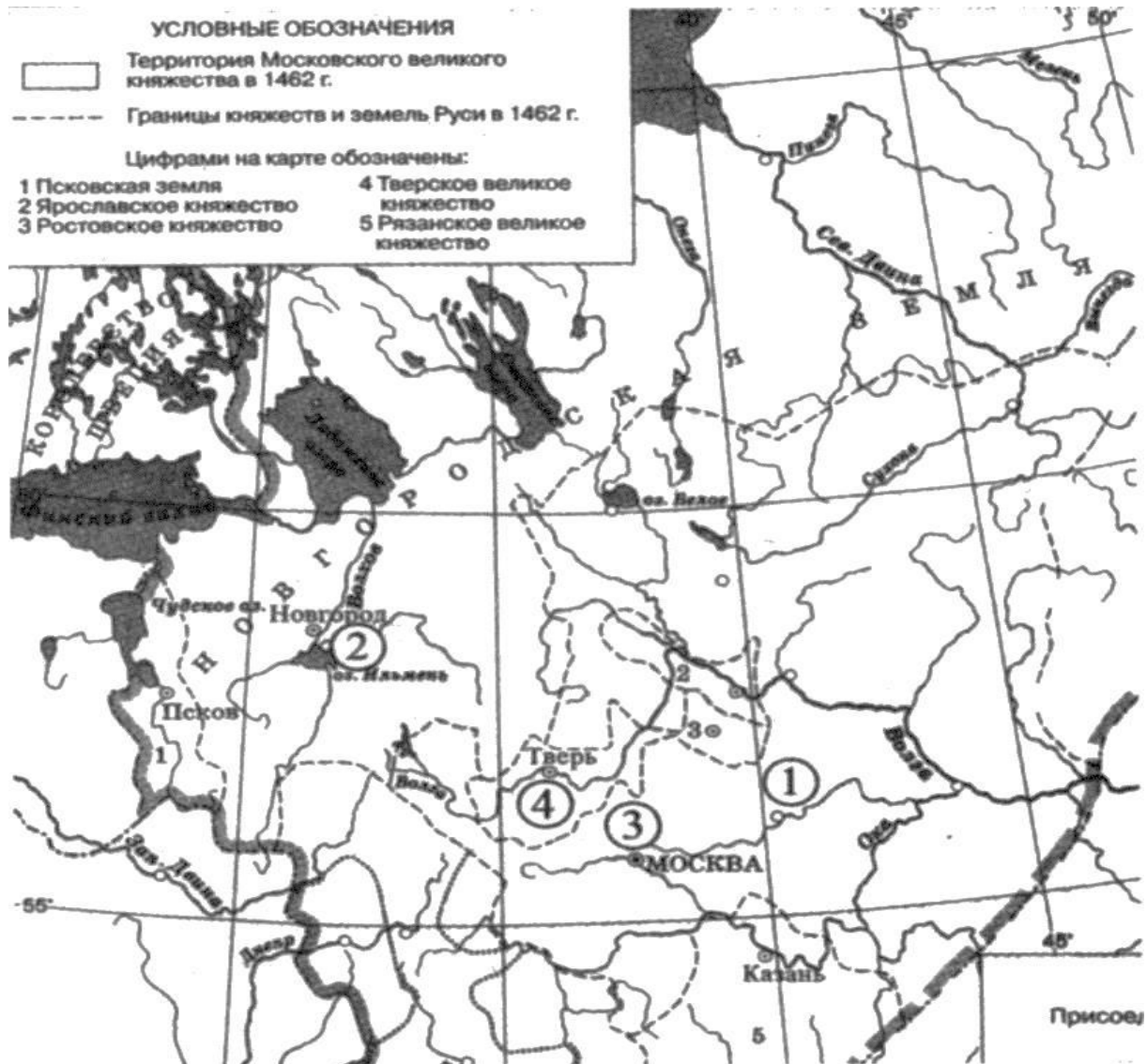


13. Напишите имя князя, при котором Москва стала удельным княжеством.
Ответ:

Даниил
Александрович
ч

Рассмотрите схему и выполните задания №13-16

Рассмотрите карту и выполните задания 13-16.



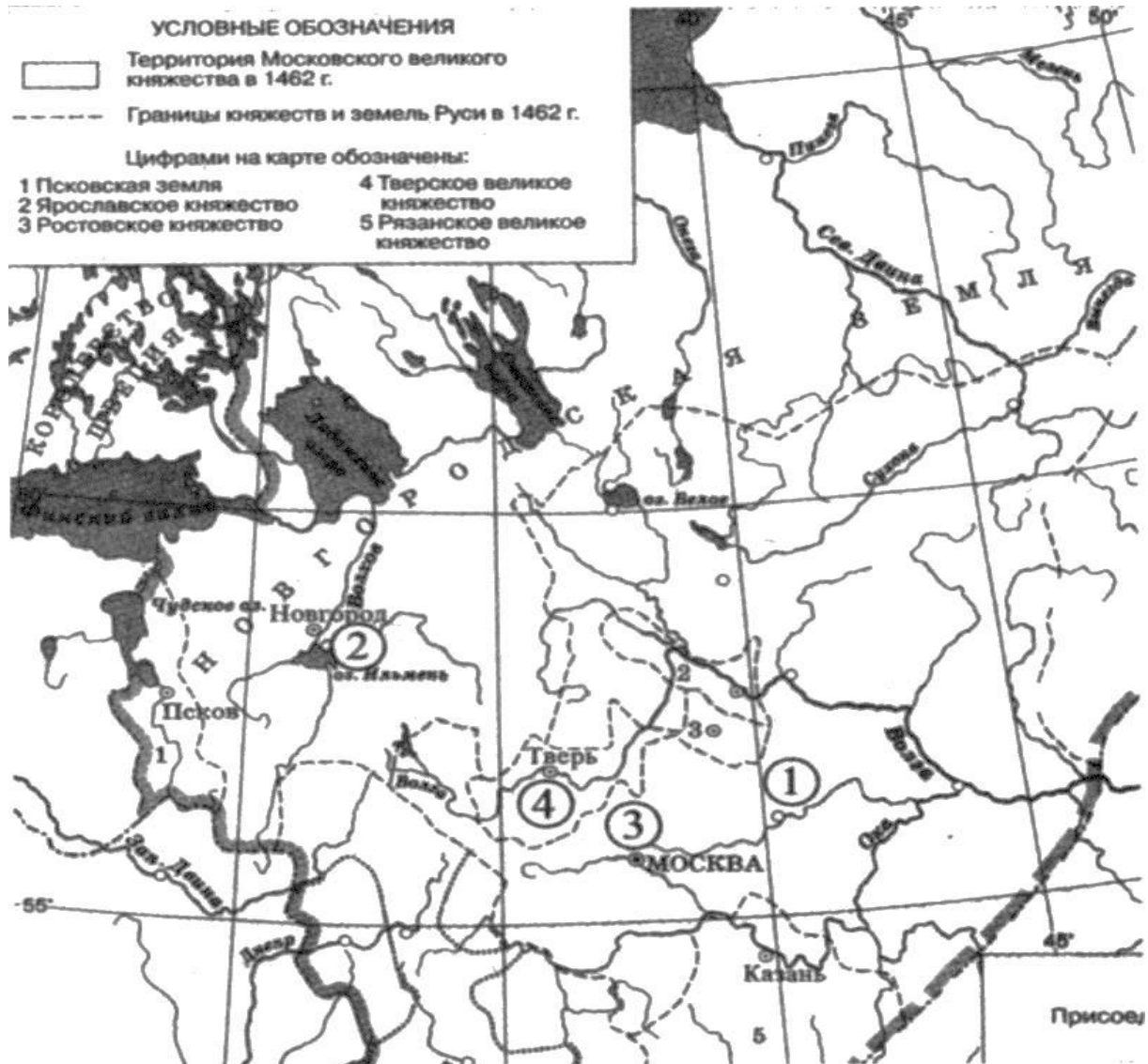
14. Напишите название города, обозначенного на карте цифрой «1».

Ответ:

Владимир

Рассмотрите схему и выполните задания №13-16

Рассмотрите карту и выполните задания 13-16.



15. Напишите цифру, которой обозначен город, где в период, изображённый на карте, сохранялась вечевая система управления.

Ответ:

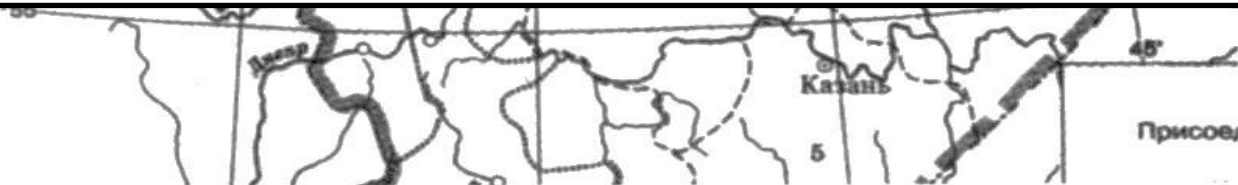
1

Рассмотрите схему и выполните задания №13-16

16. Какие суждения, относящиеся к событиям, обозначенным на карте, являются верными? Выберите три суждения из шести предложенных. Запишите в таблицу цифры, под которыми они указаны.

- 1) Расширение границ Московского княжества началось при Данииле Александровиче.
- 2) Одним из соперников Москвы в объединении русских земель было Литовское княжество.
- 3) Присоединение Твери к Москве произошло при Иване Калите.
- 4) Рязанские князья поддерживали московских в борьбе за лидерство в русских землях.
- 5) Первым московским князем, получившим ярлык на великое Владимирское княжение, был Дмитрий Донской.
- 6) Усилению авторитета Москвы способствовало перенесение в город митрополичьей кафедры.

Ответ:



Монгольское нашествие

ЗАДАНИЯ НА ОПРЕДЕЛЕНИЕ ХРОНОЛОГИЧЕСКОЙ ПОСЛЕДОВАТЕЛЬНОСТИ СОБЫТИЙ

7

Расположите в хронологической последовательности следующие события:

- 1) антиордынское восстание в Твери
- 2) приход Рюрика в Новгород
- 3) Ледовое побоище
- 4) крещение Руси князем Владимиром
- 5) разорение Киева ханом Батыем

24531

Ответ:

--	--	--	--	--

ЗАДАНИЯ НА ОПРЕДЕЛЕНИЕ ХРОНОЛОГИЧЕСКОЙ ПОСЛЕДОВАТЕЛЬНОСТИ СОБЫТИЙ

8 Установите события в хронологической последовательности.

- 1) поход Тохтамыша на Москву *1482*
- 2) «Стояние на р. Угре» *1480*
- 3) образование Золотой Орды -
- 4) битва на р. Сити
- 5) набег Девлет-Гирея на Москву

43125

Ответ:

--	--	--	--	--

9 Установите события в хронологической последовательности.

- 1) установление монголо-татарского ига
- 2) образование Московского княжества
- 3) перенос митрополичьей кафедры из Владимира в Москву
- 4) битва на р. Воже
- 5) битва на р. Шелонь

12345

Ответ:

--	--	--	--	--

Задания на поиск исторической информации в источниках разного типа

9

Прочтите отрывок из сочинения историка В. Янина и укажите, о каком художнике идет речь.

«Нет в XV веке более звонкого имени. Перечень сохранившихся работ величайшего русского художника Средневековья невелик <...>, но даже части сохранившегося, даже одной-единственной неповторимой Троицы было бы достаточно для бессмертия его имени».

Ответ: _____.

Андрей
Рублев

Рассмотрите схему и выполните задания 13–16.



Рязань

14. Напишите название города, обозначенного на схеме цифрой «1».

Ответ: _____

Рассмотрите схему и выполните задания 13–16.



Козельск

15. Укажите обозначенное на схеме название города, который за упорное сопротивление врагу был прозван «злым».

Ответ: _____ .

Рассмотрите схему



16. Какие суждения, относящиеся к событиям, обозначенным на схеме, являются верными? Выберите три суждения из шести предложенных. Запишите в таблицу цифры, под которыми они указаны.

- 1) Ключевым событием походов, обозначенных на схеме чёрными стрелками, стала битва на реке Калке.
- 2) В результате походов, обозначенных на схеме чёрными стрелками, было разорено сильнейшее в то время русское княжество.
- 3) Город, обозначенный на схеме цифрой «2», после всех указанных событий пришёл в упадок.
- 4) Руководителем походов, обозначенных на схеме белыми стрелками, был князь Александр Невский.
- 5) Все походы, обозначенные на схеме, состоялись во второй половине 1230-х — первой половине 1240-х гг.
- 6) Все походы, обозначенные на схеме, состоялись в XIV в.

Ответ:

--	--	--