

Числов ой луч

МБОУ СОШ № 99 г.о. Самара


Предмет: Математика

Класс: 1

Учебник: Башмаков М.И. 2012 г

Учитель: Гаврилова Г.А.

Год издания: 2014



Какое число стоит между
числами (запиши)

4 . 5 . 6

2 . 3 . 4

7 . 8 . 9

6 . 7 . 8

**Запиши числа от 8 до 2 в
порядке уменьшения**



8, 7, 6, 5, 4, 3, 2

Продолжи ряд

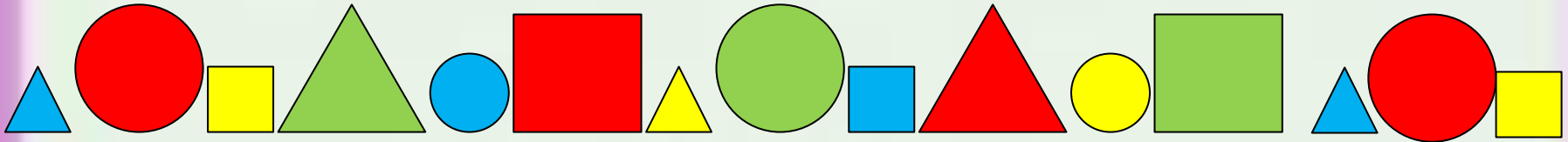
1, 3, 5...7...9...

9, 7, 5...3...1...


Раздели предметы на две группы



Повторение. Как можно продолжить ряд фигур?



1. Какие фигуры ты видишь на этом рисунке?



- Сколько на рисунке точек? отрезков? кругов? овалов? квадратов? прямоугольников?

Это лучи света от маяка.



Это лучи прожектора.




А это **числовой луч**. Точка обозначает начало луча.



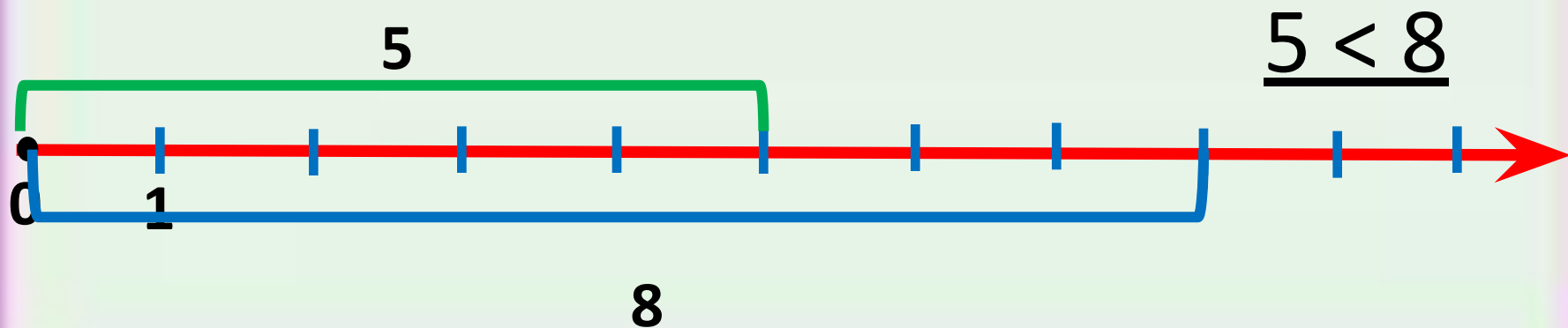
Теперь ты

сможешь...

Отмечать числа на луче:



Сравнивать числа с помощью числового луча:



2. Незнайка сделал 5 шагов и увидел гусеницу. Сколько ещё шагов надо ему пройти до гусеницы?

- Сколько всего он сделает шагов?



- Сколько шагов сделает Незнайка до Огурцовой реки?
- А сколько шагов от Огурцовой реки до дома?

Числовой луч иначе называют шкалой. Шкалы используют в различных приборах и инструментах.

Знаешь ли ты, как называются эти приборы?



Сравни:



5 < 7

8 > 4

9 > 3

2 < 6

**Что нового узнали?
Что было трудно?
Оцени себя?**

