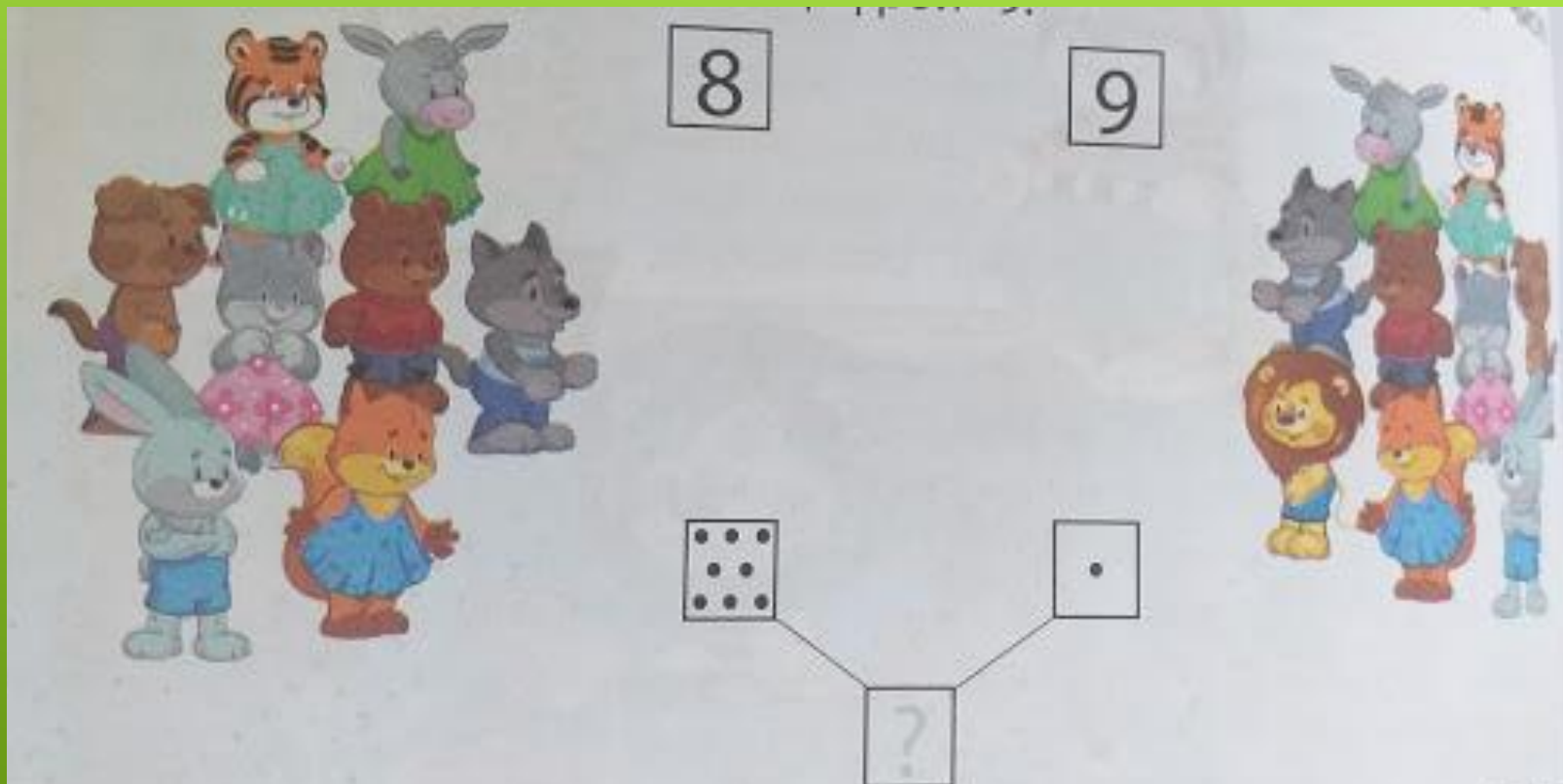


ЧИСЛО 9.
ДЕВЯТЫЙ.






В ИГРУШЕЧНЫЙ ДЕТСКИЙ САД ПРИШЁЛ ЕЩЁ
ОДИН МАЛЫШ. ЭТО ЛЬВЁНОК ВОРЧУН.
СКОЛЬКО ТЕПЕРЬ МАЛЫШЕЙ? ЗАПИШИ ЧИСЛО
9 ТОЧКАМИ.

2

В саду растут 9 жёлтых и 9 красных цветов.
Раскрась цветы.



В САДУ РАСТУТ 9 КРАСНЫХ И 9 ЖЁЛТЫХ
ЦВЕТКОВ.
НАРИСУЙ КАРТИНКУ.

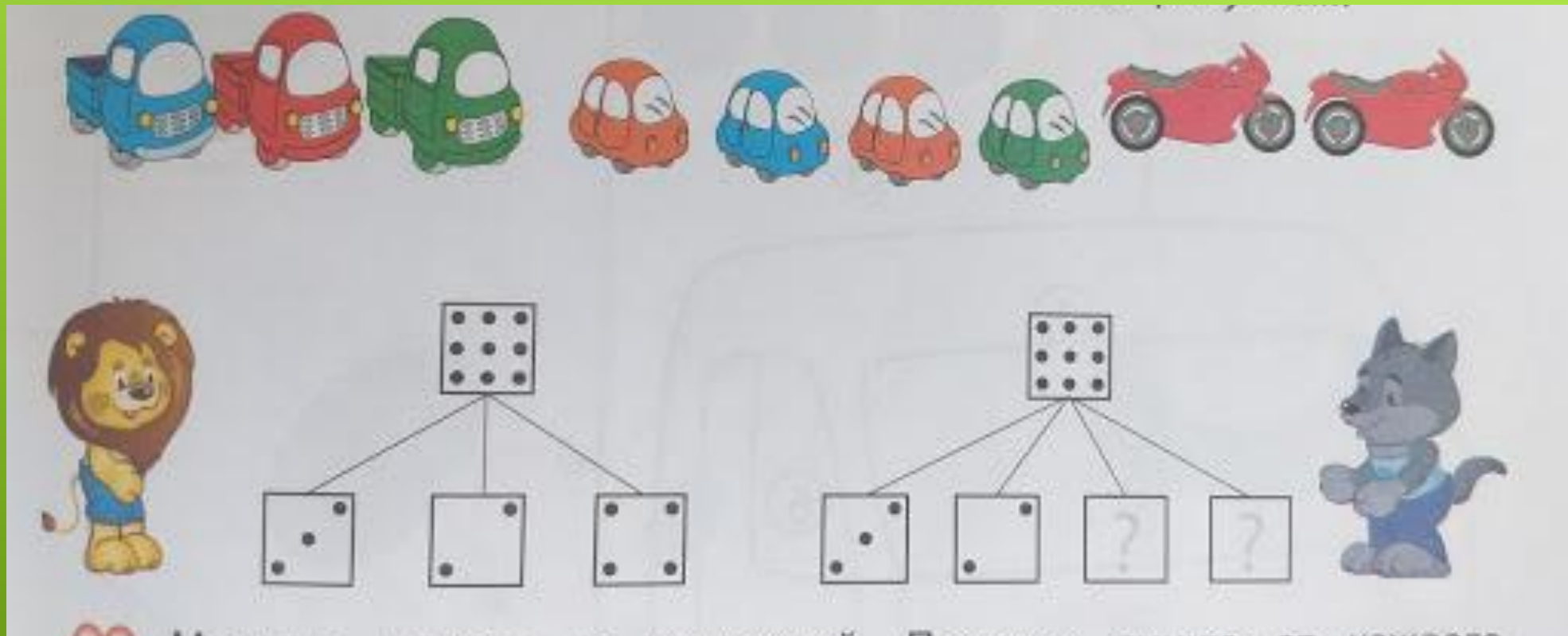


В САДУ ПОРХАЮТ БАБОЧКИ. ПО КАКИМ ПРИЗНАКАМ ИХ МОЖНО РАЗБИТЬ НА ГРУППЫ? ЗАПИШИ С ПОМОЩЬЮ ТОЧЕК.


1 С ЖЁЛТЫМИ ПЯТНАМИ НА КРЫЛЬЯХ+8 БЕЗ ПЯТНЫШЕК; 2 БОЛЬШИЕ+7 МАЛЕНЬКИХ, 3 МАЛЕНЬКИЕ КРАСНЫЕ + ОСТАЛЬНЫЕ; 4 МАЛЕНЬКИЕ ЗЕЛЁНЫЕ + ОСТАЛЬНЫЕ.



ПОСМОТРИ ВНИМАТЕЛЬНО: НА КАКОЙ
ЦВЕТОК СЯДЕТ КАЖДОЕ НАСЕКОМОЕ?



В ДЕТСКОМ САДУ МАЛЫШИ НАВОДЯТ ПОРЯДОК НА ПОЛКАХ С ИГРУШКАМИ. СКОЛЬКО ВСЕГО МАШИН В ДЕТСКОМ САДУ? НА КАКИЕ ГРУППЫ ИХ МОЖНО РАЗБИТЬ? ЗАПИШИ ВОЗМОЖНЫЕ ВАРИАНТЫ ТОЧКАМИ.



НА КАЖДОЙ ПОЛКЕ ПОКАЖИ СТОЛЬКО
ОДИНАКОВЫХ ПРЕДМЕТОВ, СКОЛЬКО
ПОКАЗЫВАЕТ ЦИФРА.

“

УМНИЦА!

”

