




**Он** саны – бірінші екі таңбалы сан. Сан түзуінде 10 санының сол жағында бір таңбалы, оң жағында екі таңбалы сандар орналасады.





10

*САНЫ*

# 10 САНЫНЫҢ ҚҰРАМЫ

10

10

5

5

8

2

6

4

9

1

7

3

10

0

Суретте барлығы қанша сан бар?

Бір таңбалы сандар нешеу?

Екі таңбалы сандар нешеу?





# САНДАРДЫ САЛЫСТЫР:

$10*9$

$7*10$

$0*10$

$10*10$

$2*10$

$8*10$

$10*6$

$4*10$

$10*5$

$10*3$

# Жауабы

$$10 > 9$$

$$0 < 10$$

$$2 < 10$$

$$10 > 6$$

$$10 > 5$$

$$7 < 10$$

$$10 = 10$$

$$8 < 10$$

$$4 < 10$$

$$10 > 3$$



## Қанша жеміс бар?

Әрқайсысы оннан болу үшін енді қанша жемістен қосу керек?





$$10-9=1$$

$$10-5=5$$


$$10-5=5$$


$$10-8=2$$


$$10-6=4$$

$$10-5=5$$

# Жемістердің артында қандай белгілер жасырынған?


10  5 = 5

4  6 = 10

7  3 = 10

10  4 = 6

6  4 = 10

5  5 = 10


# Жауап

$$10-5=5 \quad \text{ы} \quad 4+6=10$$

$$7+3=10 \quad 10-4=6$$

$$6+4=10 \quad 5+5=10$$

**Шығарып көр**  
Сұрақ белгісінің  
орнына қандай  
сандарды қоямыз?



$$10 - 7 = 3$$

$$10 - 9 = 1$$

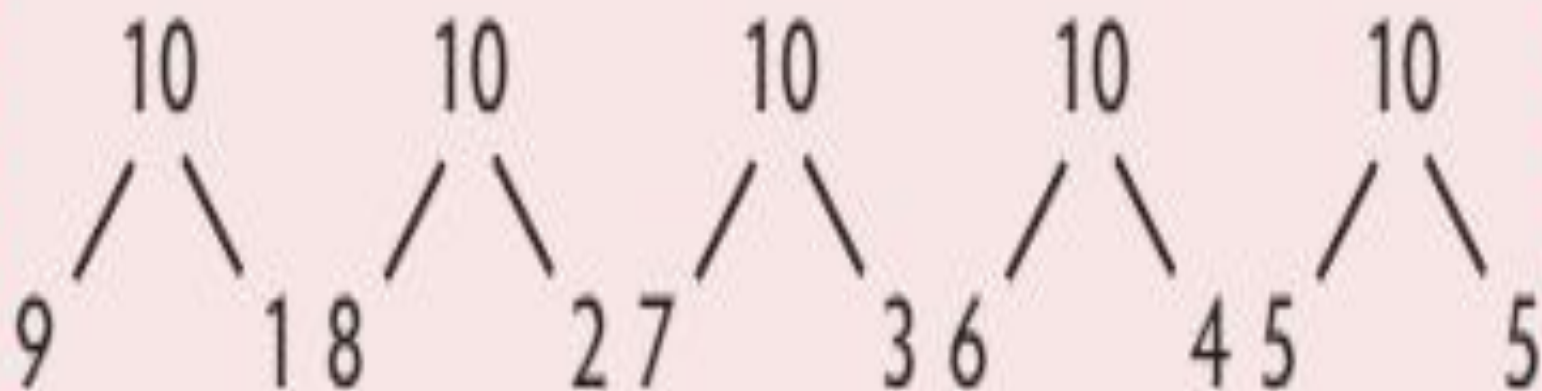
$$10 - 5 = 5$$

$$10 - 6 = 4$$

$$10 - 8 = 2$$



**Есте сақта!**



Түсінбедім  
Түсіндім

