

# Северной Европы

7 класс

Д3 параграф  
22



# Работа в контурной карте

Нанесите на к.к.

1. Страны Северной Европы:  
Норвегию\* Швецию\*  
Финляндию Данию\*  
Исландию

2. Подпишите столицы этих государств.



3. Отметьте усл. знаком королевства\*

4. Раскрасьте регион одним цветом

5. Подпишите береговую линию этого региона: моря, заливы, п-ова



# Характеристика ГП и рельефа - читаем карту

Используйте атлас и учебник с.98

Опишите ГП стран С.Европы.

- Где расположены, какими морями, заливами омываются?

2. Какая форма рельефа преобладает (определите высоту)

3. Что называют фьордами и шхерами?

4. Какую из 5 стран можно назвать страной тысячи озер?

**Фьорды – узкие морские заливы, образованные ледником.**

**Шхеры – скалистые острова, «отполированные» ледником.**

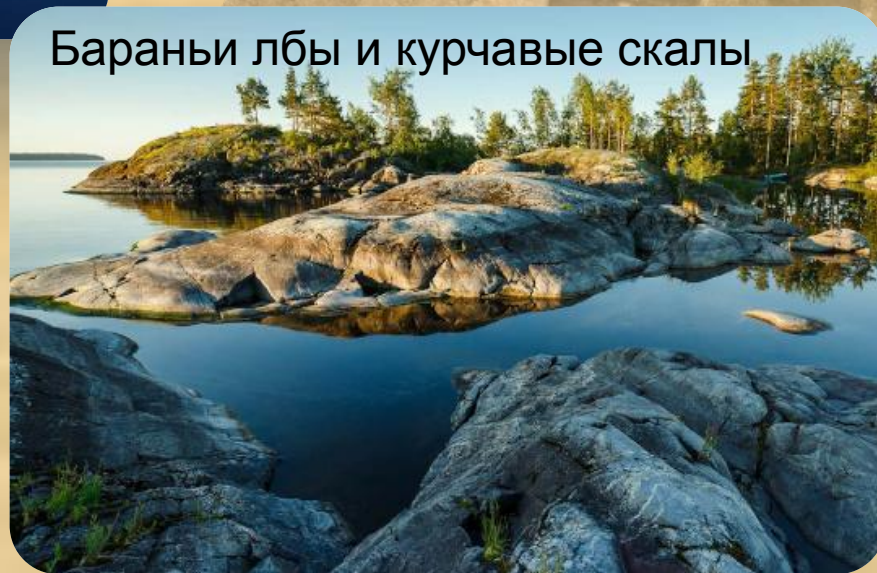


# Средние и высокие фьорды

## рельефа:

шхеры

фьорды

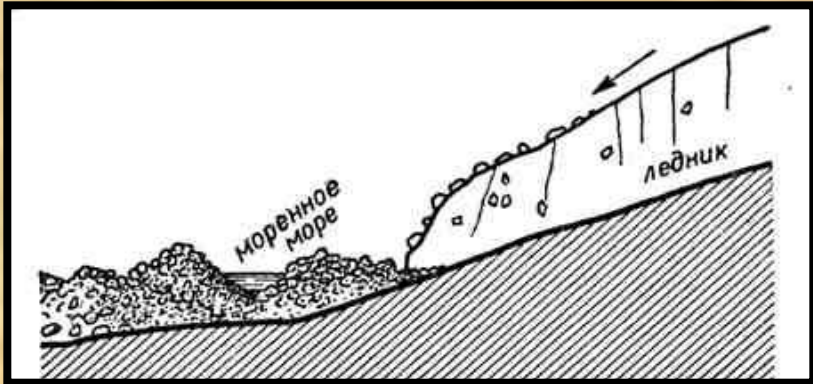


# Холмы и озерные котловины. Финляндия – страна тысячи озер



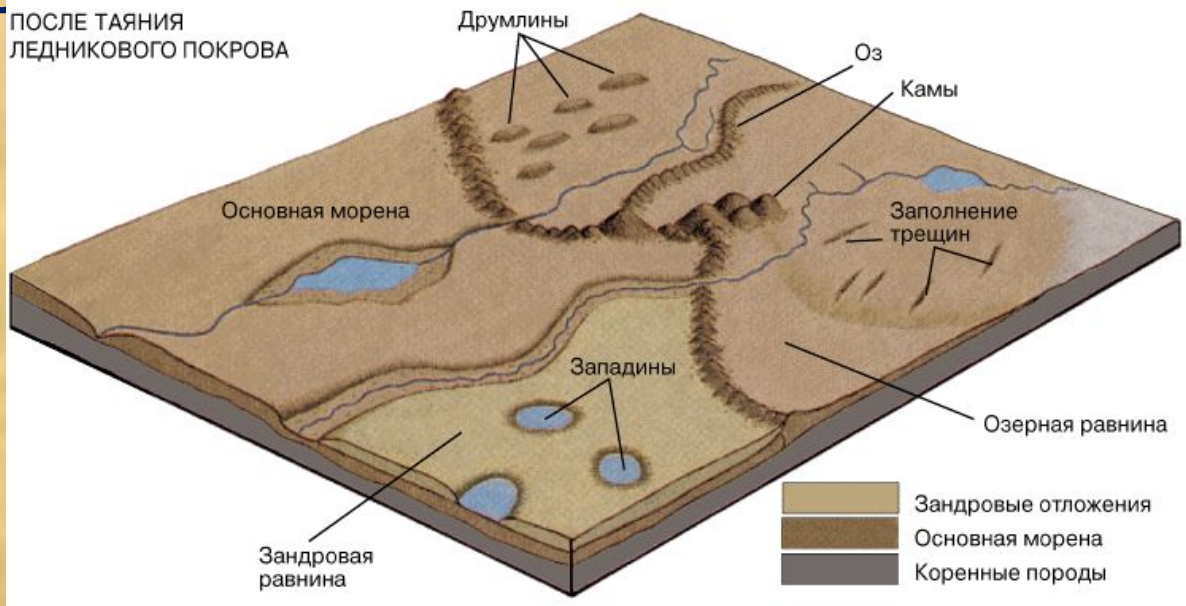
• Озеро Сайма

Читай учебник стр. 99.



**Центр древнего оледенения – территория, где формировался ледник (t ниже 0 и много осадков)**

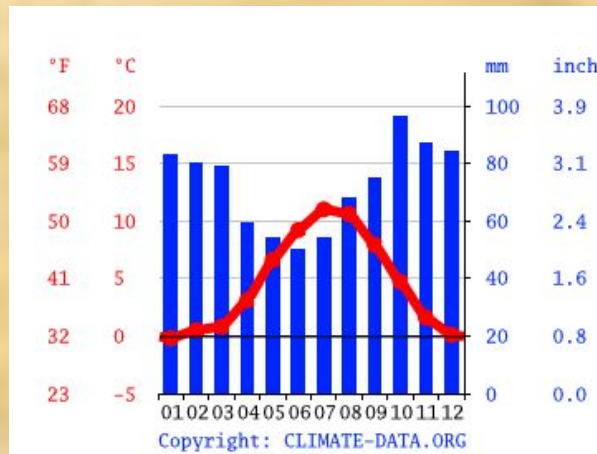
**В Европе – это Скандинавские горы и острова СПО**



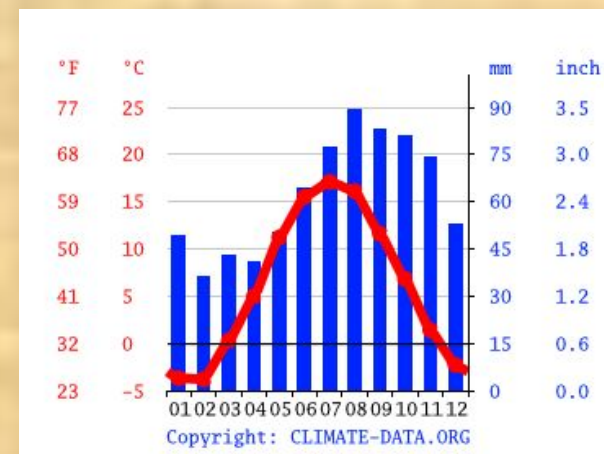
# Климатические пояса



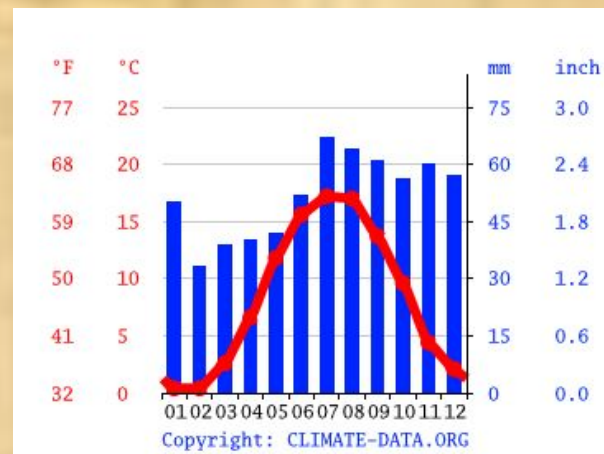
Определите тип климата (КП) для стран  
Северной Европы  
по карте климатических поясов стр. 12 атласа



Рейкьявик



Осло



Копенгаген

1. В каких КП лежат страны Северной Европы?

2. Почему в этих странах не бывает суровой зимы? Что их «согревает»?  
Нанесите этот объект на к.к.

Определите в каких ПЗ  
расположены страны  
Северной Европы






**Тундра** (от **фин.** *tunturi* — безлесная плоская вершина). Преобладает мохово-лишайниковая и кустарничковая растительность.  
**Лесотундра** – это сочетание растительности тундры и тайги





Швеция  
Финляндия  
крупнейшими  
ресурсов

страны Европы,  
обладающие  
запасами лесных





норвежцы



Королевская семья Дании



Дольф Лундгрэн швед

Королевские семьи Норвегии и Швеции

1. К какой расе и языковым семьям и группам относятся жители Северной Европы? 2. От кого произошли эти народы? 3. Назови характерные черты внешности этих народов. (стр. 101 + атлас карта плотности населения)

# Традиционные дома ВИКИНГОВ



Длинные дома викингов



# ШВЕЦИЯ



# ДАНИЯ



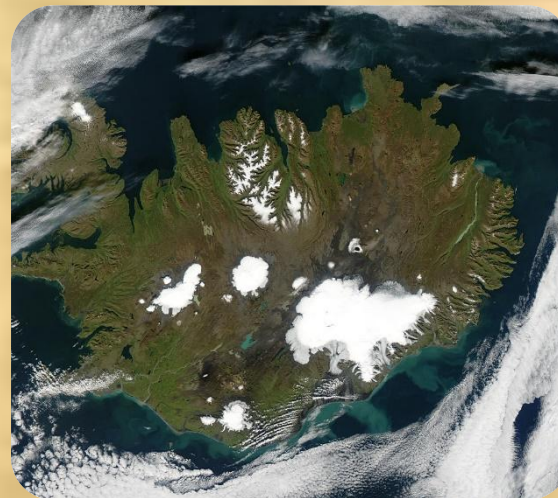
# Традиционные жилища саамов (лопарей) -

## Вежа


Вежа делалась из брёвен в форме пирамиды с дымовым отверстием вверху. Остов вежи покрывали оленьими шкурами, а сверху укладывали кору, хворост и дёрн и придавливали берёзовыми жердями для прочности. В центре жилища устраивали каменный очаг.



# Исландия – страна скал, ледников, вулканов и




**Традиционные дерновые дома  
исландцев**



1. Как живут и чем занимаются народы Северной Европы сегодня?
2. Выпиши, что производят в каждой из стран Северной Европы







Назови имена известных писателей стран Северной Европы. С какими их произведениями ты знаком?



