




Урок **61**

# Складываем и вычитаем числа





Сколько всех  
птичек?



- |   |    |
|---|----|
| 5 | 6  |
| 7 | 8  |
| 9 | 10 |

$$7 + 3 = 10 \text{ (птиц)}$$


Выбери ответ.




# Сравни записи

$$2 + 6 = 8$$

$$8 - 2 = 6$$




Чем они похожи?  
Чем отличаются?




# Сравни схемы

$$\square + \square = 10$$

$$10 - \square = \square$$



Чем они похожи?  
Чем отличаются?



# Составь записи по данным

$$\square + \square = 10$$

$$1 + 9 = 10$$

$$2 + 8 = 10$$

$$3 + 7 = 10$$

$$4 + 6 = 10$$

$$5 + 5 = 10$$

$$10 - \square = \square$$


$$10 - 1 = 9$$

$$10 - 2 = 8$$


$$10 - 3 = 7$$

$$10 - 4 = 6$$

$$10 - 5 = 5$$



Нажимай здесь и проверяй себя.



# Задание

## «Ловушки»

$$7 + 3 = 10$$

$$9 - 2 = \overset{7}{\cancel{6}}$$

$$5 + 4 = 9$$


$$10 - 3 = \overset{7}{\cancel{6}}$$

$$5 - 3 = 2$$


$$6 - 4 = 2$$

$$6 + 0 = \overset{6}{\cancel{7}}$$

$$9 - 0 = \overset{9}{\cancel{0}}$$



Нажми на примеры с ошибками.




# Вычисл

$$2 + 4 = \square$$


$$\square + 3 = \square$$

$$\square - 1 = \square$$

$$\square - 5 = \square$$



Нажимай здесь и проверь себя.




# Вычисл

$$6 + 2 = \square$$

$$\square - 4 = \square$$

$$\square + 5 = \square$$

$$\square - 2 = \square$$



Нажимай здесь и проверь себя.





# Источник

## И

Карандаш – рисунок автора.

Тюльпаны – рисунок автора.

Голос ребёнка записан с согласия родителей.

Птица. – Режим доступа:

[https://pixabay.com/static/uploads/photo/2013/07/13/01/09/bullfinch-155209\\_640.png](https://pixabay.com/static/uploads/photo/2013/07/13/01/09/bullfinch-155209_640.png)

Снегирь (звук). – Режим доступа:

<http://www.topguns.ru/images/birdsdata/data/20790.mp3>