

Практическая работа

Сварное соединение

На формате А3 вычертить рамку, основную надпись

The image shows a technical drawing template on A3 paper. It features a large, empty rectangular frame intended for the drawing. In the bottom right corner, there is a title block with the following structure:

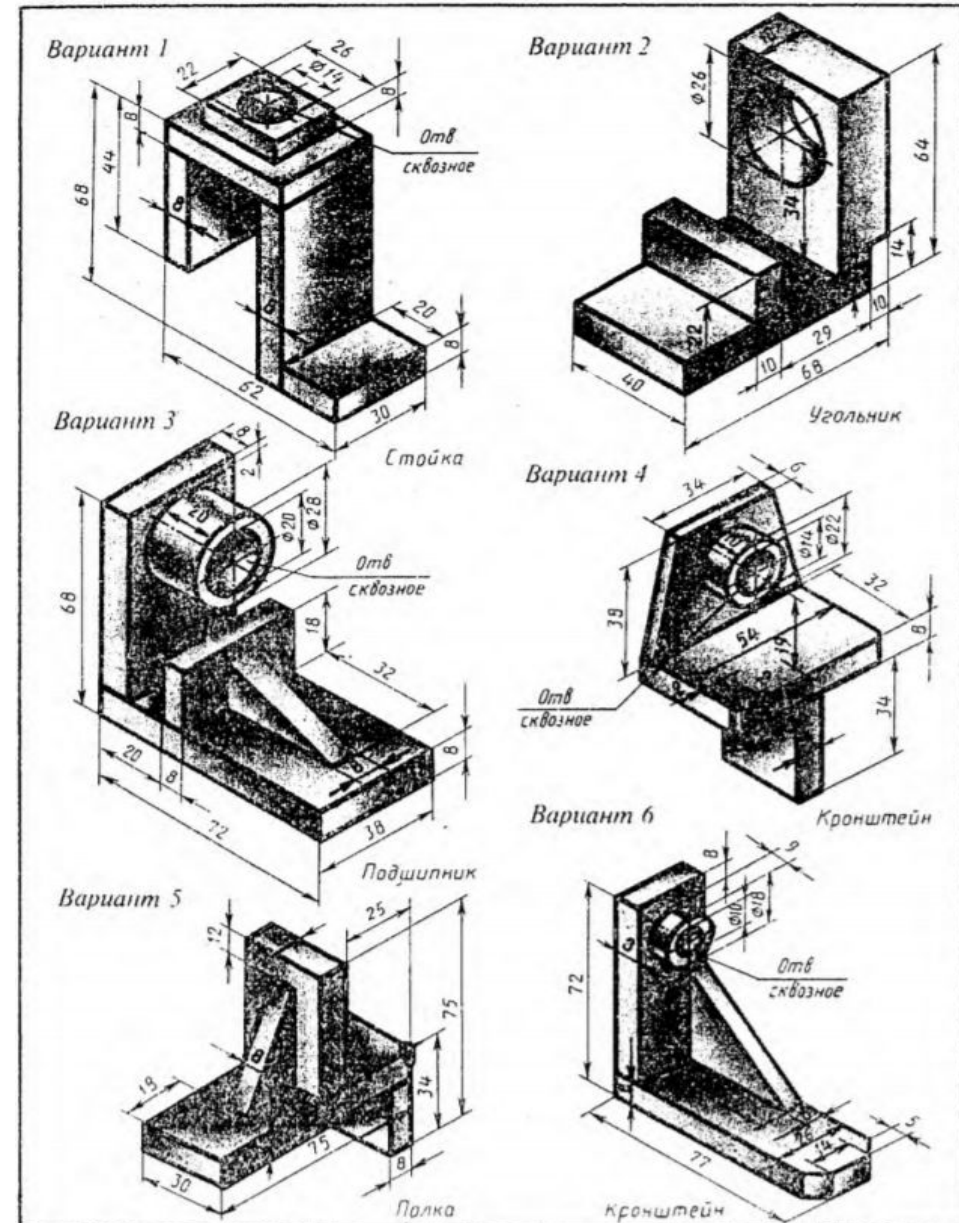
№ докум.	Исполнитель	Дата	Сборное	Лист	№
	Иванов И.И.		деталь	31	1/1
Спецификация					
Контур					
Масштаб					
Материал					
Кол.					
				КСК 321	

Над основной надписью построить таблицу спецификации

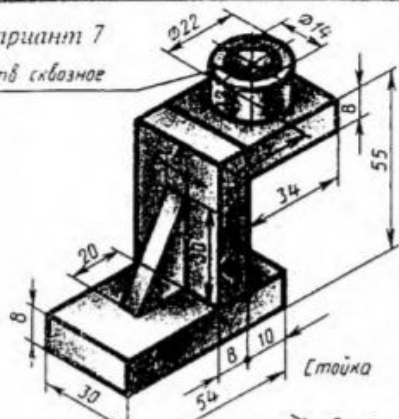
	6	6	8	70	63	10	22
15							
8							
8							
8							
8							
8							
8							
8							
0							

Задание на практическую работу принять согласно варианта:

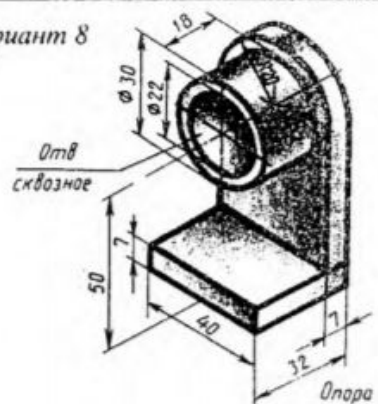
1. Лякишев А. - 13
2. Махнач А. - 2
3. Пассар А. - 15
4. Печеницына С. - 16
5. Присяжнюк А. - 5
6. Татаренко В. - 7
7. Уткина О. - 17
8. Черепанова В. - 8
9. Щербаков И. - 6
10. Шукин Д. - 10
11. Юрищева Е. - 9
12. Ядонист Я. - 14
13. Шиверских П. - 12



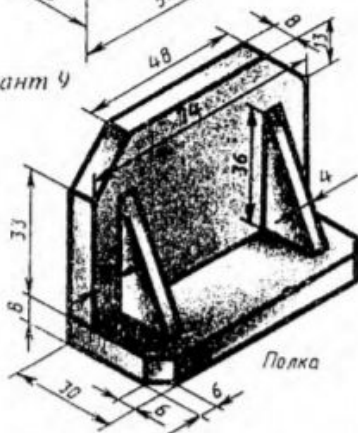
Вариант 7
Отв сквозное



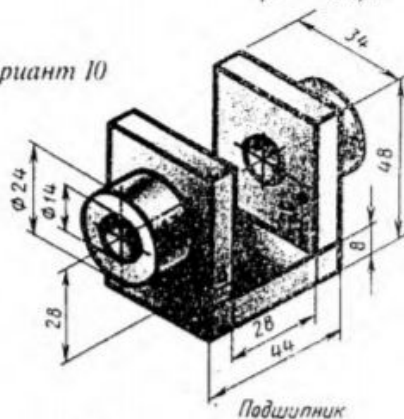
Вариант 8



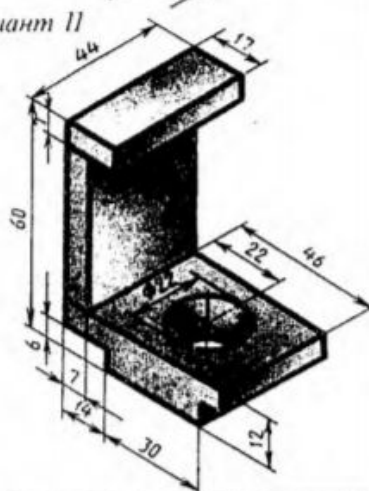
Вариант 9



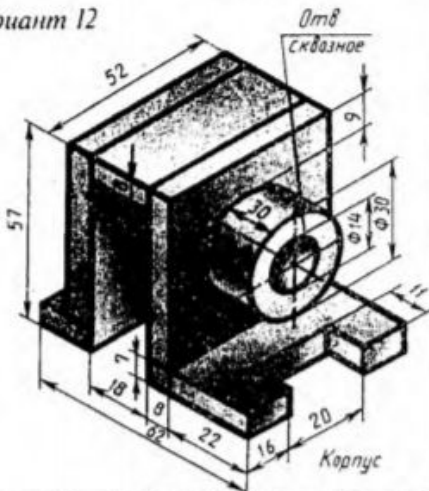
Вариант 10



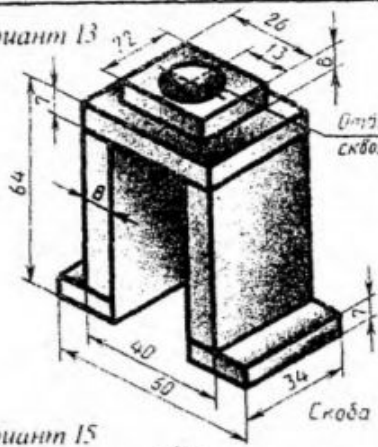
Вариант 11



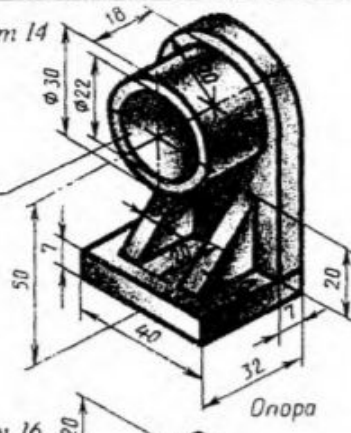
Вариант 12



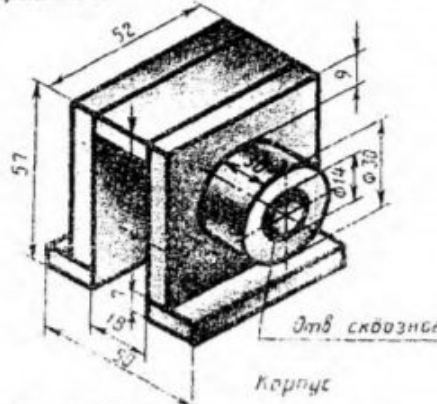
Вариант 13



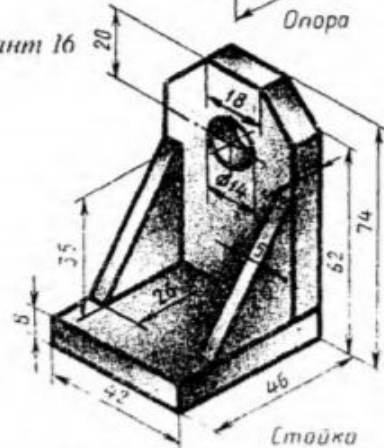
Вариант 14



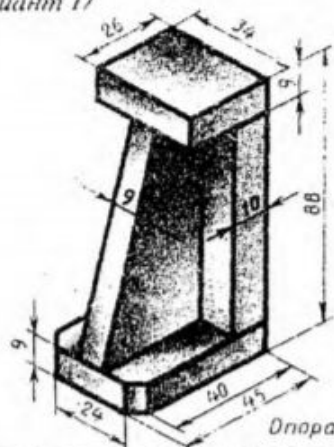
Вариант 15



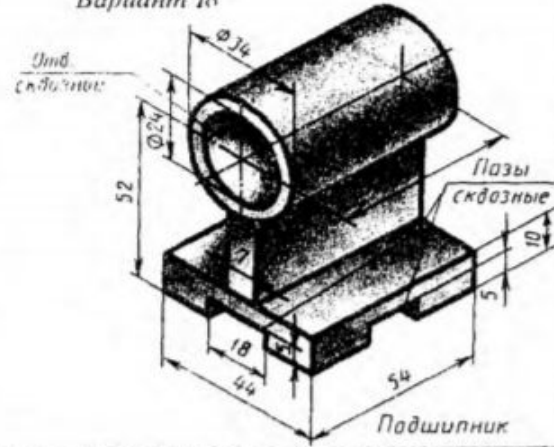
Вариант 16



Вариант 17



Вариант 18



Согласно варианта вычертить две проекции детали– вид прямо обязательно и или вид сверху, или вид слева (ту, на которой максимально показано соединение элементов)

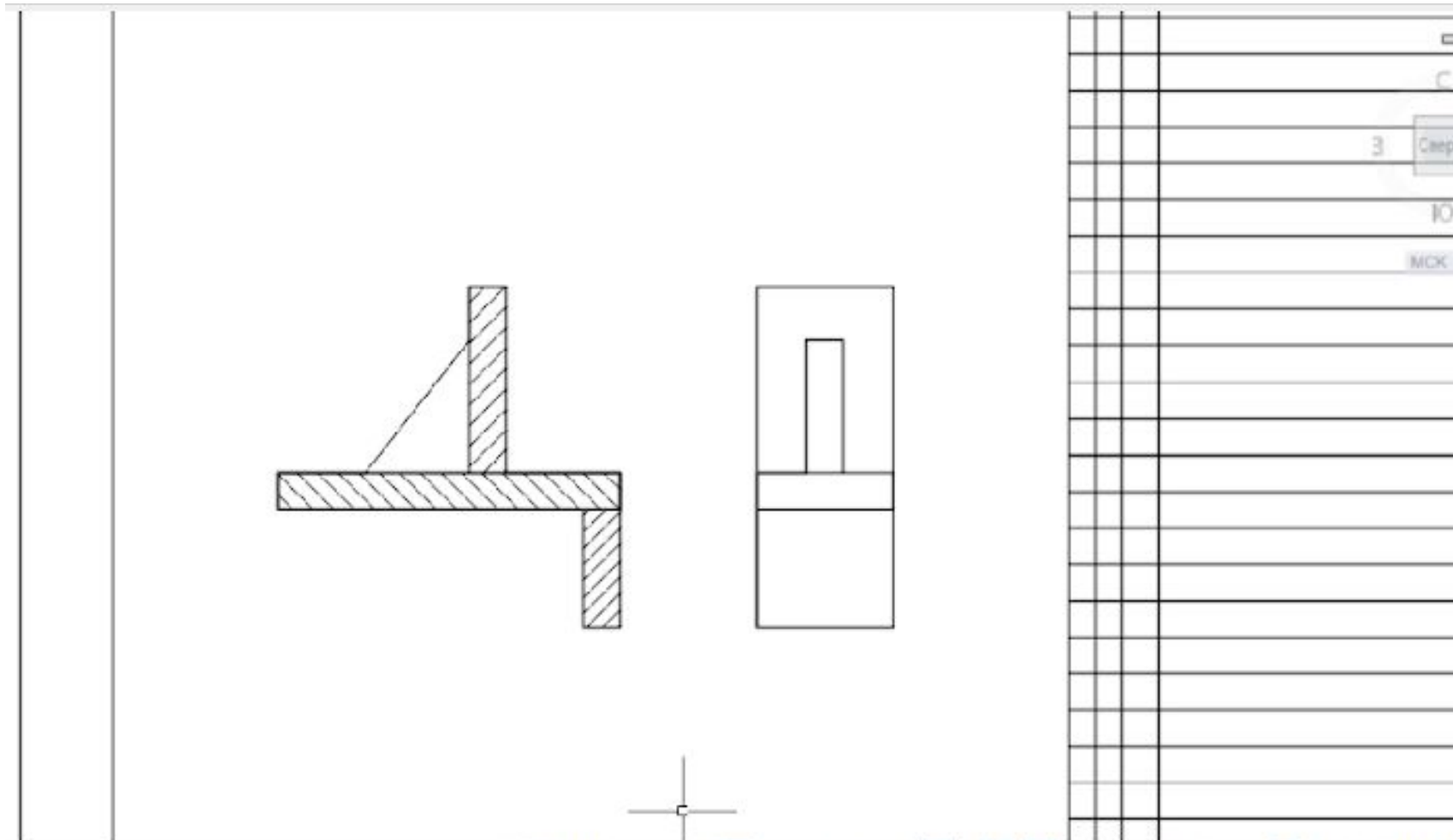
№	Лист	Курс	Группа	Фамилия	Имя
1	1	1	1	Иванов	И.И.
2	2	2	2	Петров	П.П.
3	3	3	3	Сидоров	С.С.
4	4	4	4	Кузнецов	К.К.
5	5	5	5	Лебедев	Л.Л.
6	6	6	6	Зинченко	З.З.
7	7	7	7	Васильев	В.В.
8	8	8	8	Попов	П.П.
9	9	9	9	Смирнов	С.С.
10	10	10	10	Морозов	М.М.
11	11	11	11	Новиков	Н.Н.
12	12	12	12	Харьков	Х.Х.
13	13	13	13	Колесников	К.К.
14	14	14	14	Федотов	Ф.Ф.
15	15	15	15	Волков	В.В.
16	16	16	16	Александров	А.А.
17	17	17	17	Савин	С.С.
18	18	18	18	Соловьев	С.С.
19	19	19	19	Семин	С.С.
20	20	20	20	Степанов	С.С.
21	21	21	21	Сухов	С.С.
22	22	22	22	Тихонов	Т.Т.
23	23	23	23	Тютчев	Т.Т.
24	24	24	24	Труфанов	Т.Т.
25	25	25	25	Труфанов	Т.Т.
26	26	26	26	Труфанов	Т.Т.
27	27	27	27	Труфанов	Т.Т.
28	28	28	28	Труфанов	Т.Т.
29	29	29	29	Труфанов	Т.Т.
30	30	30	30	Труфанов	Т.Т.
31	31	31	31	Труфанов	Т.Т.
32	32	32	32	Труфанов	Т.Т.
33	33	33	33	Труфанов	Т.Т.
34	34	34	34	Труфанов	Т.Т.
35	35	35	35	Труфанов	Т.Т.
36	36	36	36	Труфанов	Т.Т.
37	37	37	37	Труфанов	Т.Т.
38	38	38	38	Труфанов	Т.Т.
39	39	39	39	Труфанов	Т.Т.
40	40	40	40	Труфанов	Т.Т.

Обрисе
соединение

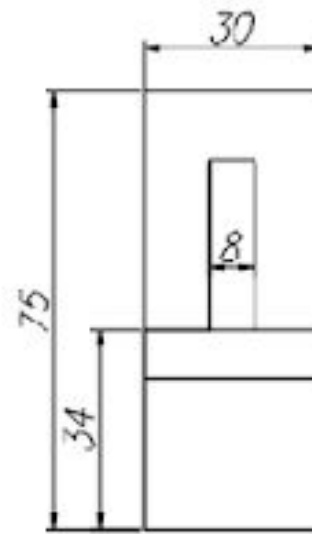
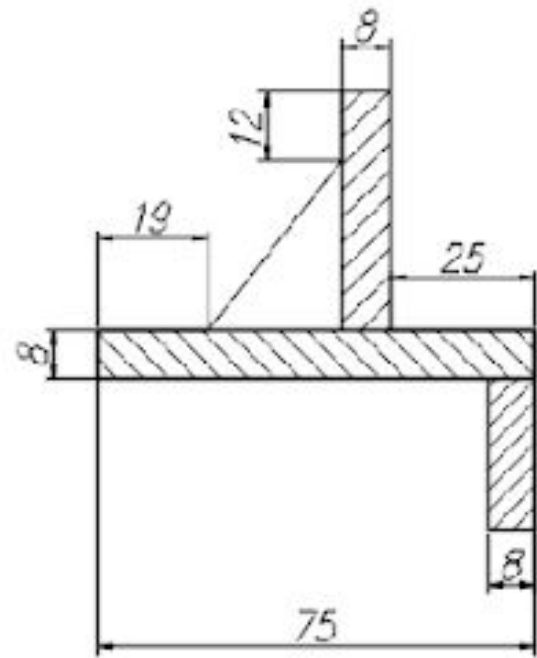
№	Лист	Курс	Группа	Фамилия	Имя
1	1	1	1	Иванов	И.И.
2	2	2	2	Петров	П.П.
3	3	3	3	Сидоров	С.С.
4	4	4	4	Кузнецов	К.К.
5	5	5	5	Лебедев	Л.Л.
6	6	6	6	Зинченко	З.З.
7	7	7	7	Васильев	В.В.
8	8	8	8	Попов	П.П.
9	9	9	9	Смирнов	С.С.
10	10	10	10	Морозов	М.М.
11	11	11	11	Новиков	Н.Н.
12	12	12	12	Харьков	Х.Х.
13	13	13	13	Колесников	К.К.
14	14	14	14	Федотов	Ф.Ф.
15	15	15	15	Волков	В.В.
16	16	16	16	Александров	А.А.
17	17	17	17	Савин	С.С.
18	18	18	18	Соловьев	С.С.
19	19	19	19	Семин	С.С.
20	20	20	20	Степанов	С.С.
21	21	21	21	Сухов	С.С.
22	22	22	22	Тихонов	Т.Т.
23	23	23	23	Тютчев	Т.Т.
24	24	24	24	Труфанов	Т.Т.
25	25	25	25	Труфанов	Т.Т.
26	26	26	26	Труфанов	Т.Т.
27	27	27	27	Труфанов	Т.Т.
28	28	28	28	Труфанов	Т.Т.
29	29	29	29	Труфанов	Т.Т.
30	30	30	30	Труфанов	Т.Т.
31	31	31	31	Труфанов	Т.Т.
32	32	32	32	Труфанов	Т.Т.
33	33	33	33	Труфанов	Т.Т.
34	34	34	34	Труфанов	Т.Т.
35	35	35	35	Труфанов	Т.Т.
36	36	36	36	Труфанов	Т.Т.
37	37	37	37	Труфанов	Т.Т.
38	38	38	38	Труфанов	Т.Т.
39	39	39	39	Труфанов	Т.Т.
40	40	40	40	Труфанов	Т.Т.

КСК 321

Выполнить разрез одной из построенных проекций, выполнить штриховку



Проставить размеры



- Выполнить чертеж
- Фото чертежа можно прикрепить в дневник.ру или вконтакте <https://vk.com/id58002915> (с указанием группы, фамилии). Срок выполнения – до обеда 23.01.2021 г.