

Информационные знаки

РОССИЯ
RUSSIA

60



90

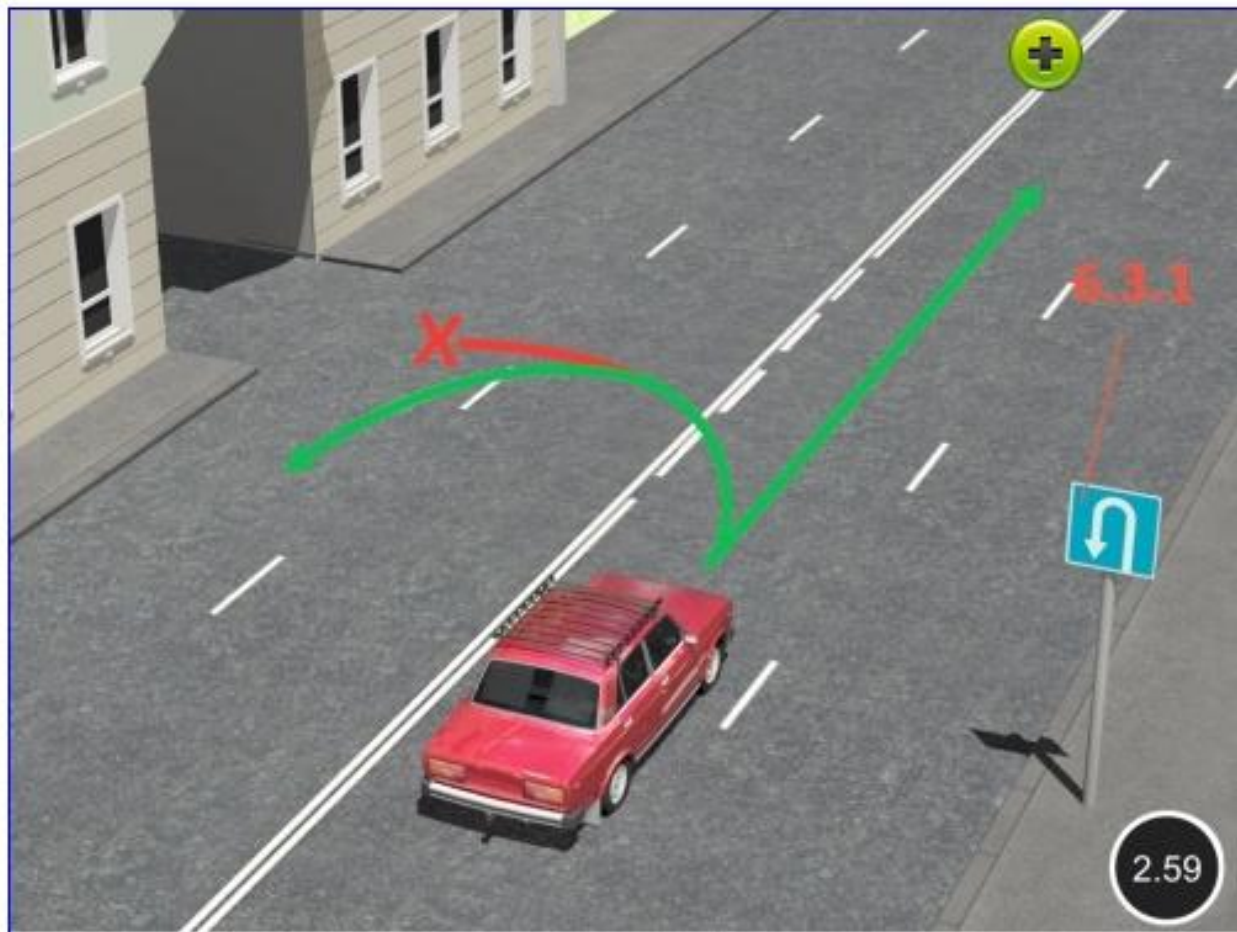


110





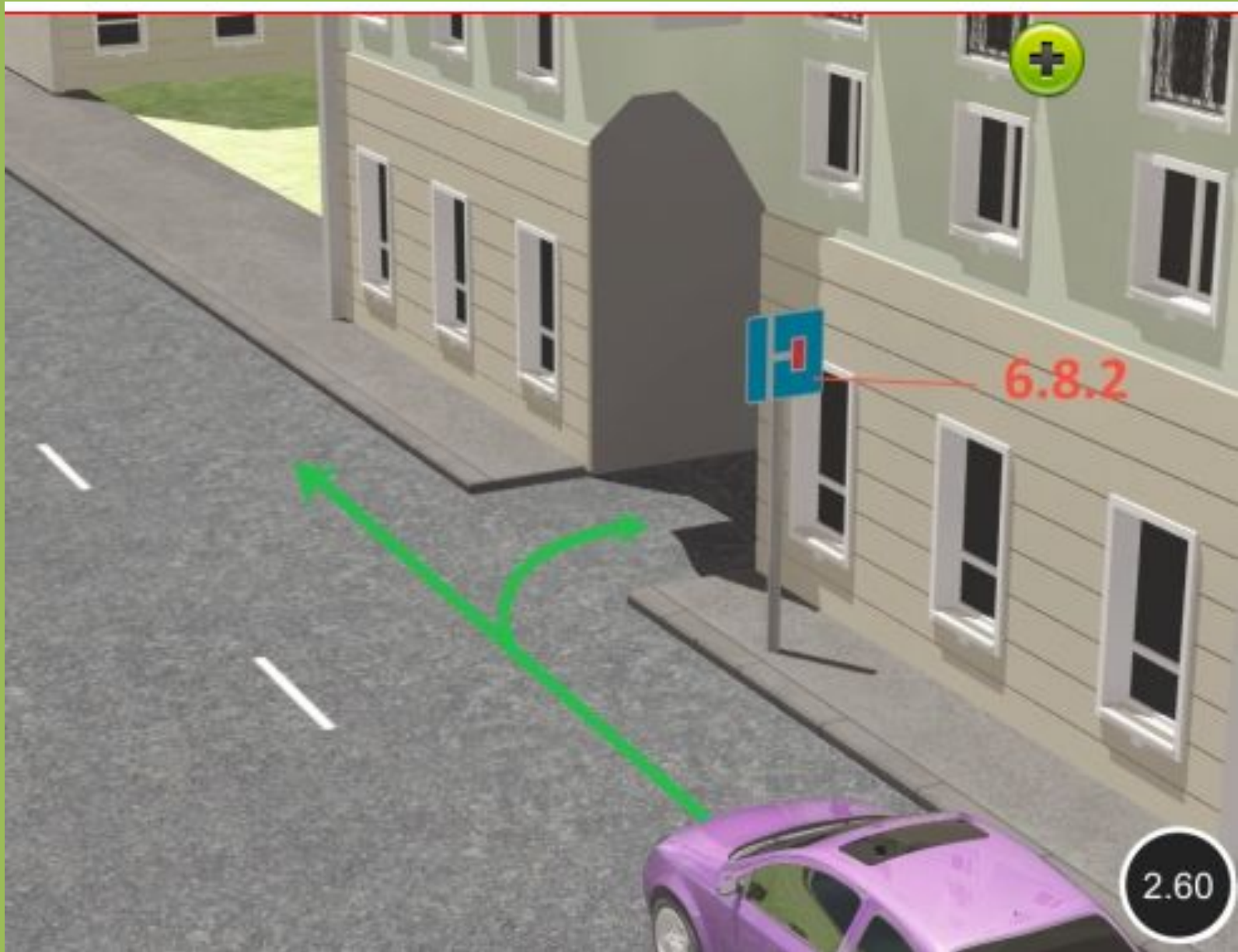
Рекомендуемая скорость – ограничений
не накладывает





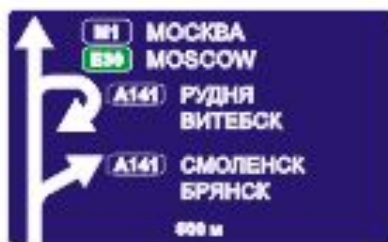






6.8.2

2.60



6.9.1





↑ Н. НОВГОРОД

← ЮРЬЕВ-ПОЛЬСКИЙ

гост. «ВЛАДИМИР»
hotel «VLADIMIR» →

С.-ПЕТЕРБУРГ 54 →

М10 С.-ПЕТЕРБУРГ 18 →

← ★ МОСКВА 12

↑ музей Ю.А. ГАГАРИНА
GAGARIN museum 94

музей "БОРОДИНО"
museum "BORODINO" 20 →

⌘ УСПЕНСКИЙ собор →

↖ СЕРГИЕВ ПОСАД
ТРОИЦЕ-СЕРГИЕВА ЛАВРА

6.10.1

→ ШЕРЕМЕТЬЕВО
SHEREMET'YEVO 3

→ стадион "ОЛИМПИЙСКИЙ"
stadium "OLIMPIYSKIY" 3

6.10.2



ул. АРБАТ

р. НАРА

ЦЕНТР 11
ВВЦ 15

ЗЕЛЕНОГРАД 23
ТВЕРЬ 132
С.-ПЕТЕРБУРГ 679

монастырь
САВВИНО - СТОРОЖЕВСКИЙ 22
музей "БОРОДИНО" 94
музей Ю.А.ГАГАРИНА 132



M5

A108

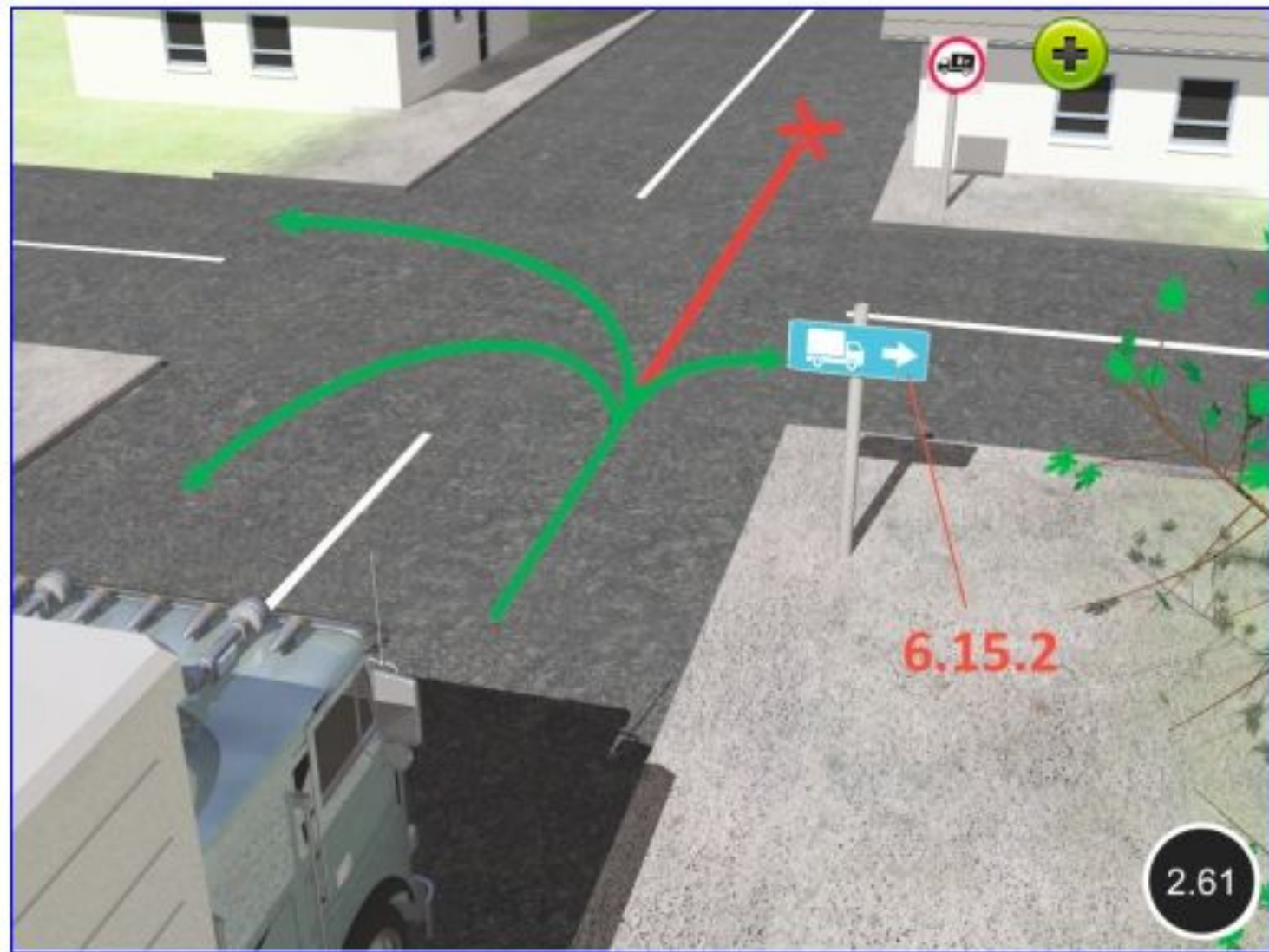
← M55

E95

P115

↑ P115

M10 ↗



СТОП









Какие из предупреждающих и запрещающих знаков являются временными?

- 1. Установленные на переносной стойке.**
- 2. Имеющие желтый фон и установленные в местах производства дорожных работ.**
- 3. Все перечисленные.**

?

1

2

3

4

5

Пропустить
задачу

.

x

x

x

x

x

x

x

x

x

x

x

x

x

x

x

Какие из предупреждающих и запрещающих знаков являются временными?

1. Установленные на переносной стойке.
2. Имеющие желтый фон и установленные в местах производства дорожных работ.
3. Все перечисленные.

2?

1

2

3

4

5

Пропустить
задачу

Подтвердить
ответ 2

.

x

x

x

x

x

x

x

x

x

x

x

x

x

x

x



Можно ли Вам повернуть направо на этом перекрестке?

- 1. Можно.**
- 2. Можно, если Вы проживаете или работаете на территории, расположенной справа от перекрестка.**
- 3. Нельзя.**

?

1

2

3

4

5

Пропустить
задачу



.

x

x

x

x

x

x

x

x

x

x

x

x

x

x

x



Можно ли Вам повернуть направо на этом перекрестке?

- 1. Можно.**
- 2. Можно, если Вы проживаете или работаете на территории, расположенной справа от перекрестка.**
- 3. Нельзя.**

1?

1

2

3

4

5

Пропустить
задачу

Подтвердить
ответ 1



.

x

x

x

x

x

x

x

x

x

x

x

x

x

x

x



Этот знак указывает:

1. Расстояние до конца тоннеля.
2. Расстояние до места аварийной остановки.
3. Направление движения к аварийному выходу и расстояние до него.

?

1

2

3

4

5

Пропустить задачу



.

x

x

x

x

x

x

x

x

x

x

x

x

x

x

x



© НП МААШ

Этот знак указывает:

1. Расстояние до конца тоннеля.
2. Расстояние до места аварийной остановки.
3. **Направление движения к аварийному выходу и расстояние до него.**

3?

1

2

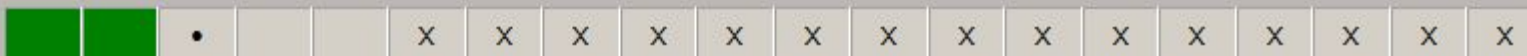
3

4

5

Пропустить
задачу

Подтвердить
ответ 3





Вам разрешено продолжить движение:

- 1. По траекториям Б или В.**
- 2. По траекториям А или В.**
- 3. По любой траектории из указанных.**

?

1

2

3

4

5

Пропустить
задачу



.

x

x

x

x

x

x

x

x

x

x

x


x

x

x

x

x



Вам разрешено продолжить движение:

1. По траекториям Б или В.
2. По траекториям А или В.
3. По любой траектории из указанных.

2?

1

2


3

4

5

Пропустить
задачу

Подтвердить
ответ 2



.

x

x

x

x

x

x

x

x

x

x

x

x

x

x

x

x



Эта табличка распространяет действие установленного с ней знака:

1. Только на легковые автомобили.
2. На легковые автомобили, а также на грузовые автомобили с разрешенной максимальной массой не более 3,5 т.
3. На легковые автомобили и мотоциклы.

?

1

2

3

4

5

Пропустить
задачу

•

x

x

x

x

x

x

x

x

x

x

x

x

x

x

x



Эта табличка распространяет действие установленного с ней знака:

1. Только на легковые автомобили.
2. На легковые автомобили, а также на грузовые автомобили с разрешенной максимальной массой не более 3,5 т.
3. На легковые автомобили и мотоциклы.

2?

1

2

3

4

5

Пропустить
задачу

Подтвердить
ответ 2

