

## **Тема урока: Целевые показатели экономического развития Республики Казахстан**

**определять выгодные для Республики Казахстан структуру хозяйства, соотношение отраслей хозяйства, территориальную структуру хозяйства и эффективные показатели экономического развития**

**Цели обучения:** 10.6.1.1 объяснять деление мира по различным признакам на физико-географические, историко-культурные, политико-географические и геополитические районы.

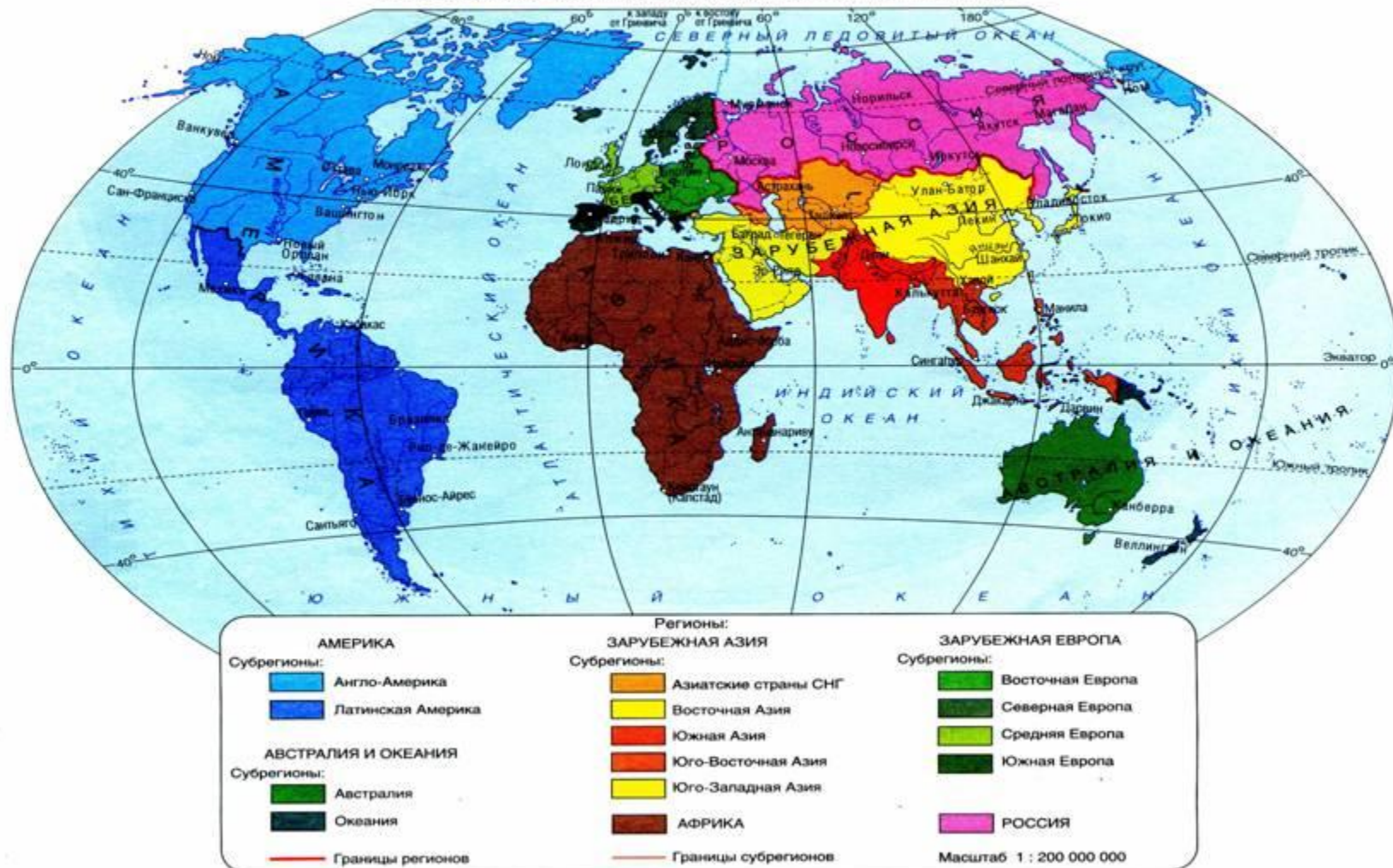
10.6.1.2 предлагать собственную модель комплексно-географического и историко-культурного районирования.

10.6.1.3 представлять в творческой форме историко-географические регионы мира, их состав и особенности, географическую характеристику.

**Физико-географическое районирование** — система территориального деления земной поверхности, основанная на выявлении и исследовании системы соподчиненных природных регионов, обладающих внутренним единством и своеобразными индивидуальными чертами природы. Районирование бывает зональным (пояса, зоны и подзоны) и азональным, (физико-географические страны, области, провинции, районы, урочища, фации), отраслевым (по рельефу, климату, почвам и др.) и комплексным. Каждый район обладает уникальным географическим положением.

# Регионы мира

РЕГИОНАЛЬНОЕ ДЕЛЕНИЕ МИРА, ИСПОЛЬЗУЕМОЕ В АТЛАСЕ



**Историко-культурными** называют районы, каждый из которых имеет свой, непохожий на другие, путь развития. Различия проявляются в своеобразии памятников культуры народов, населявших эти районы, особенностях их религий, обычаев, национального характера, традиционных видов хозяйства. Первоначальные границы историко-культурных районов были природными и по мере их развития мало изменились.



# Историко-культурные районы мира.



## Вопросы и задания

1. Чем отличаются регионы в физической географии от регионов в политической или экономической географии?

2. По каким признакам выделяют большие историко-географические регионы мира? Назовите и покажите на карте страны:

а) Северной Европы (включая страны Балтии);

б) причерноморской зоны;

в) Средиземноморья (включая территории Европы, Азии и Африки);

г) Балканского полуострова;

д) зоны Персидского залива;

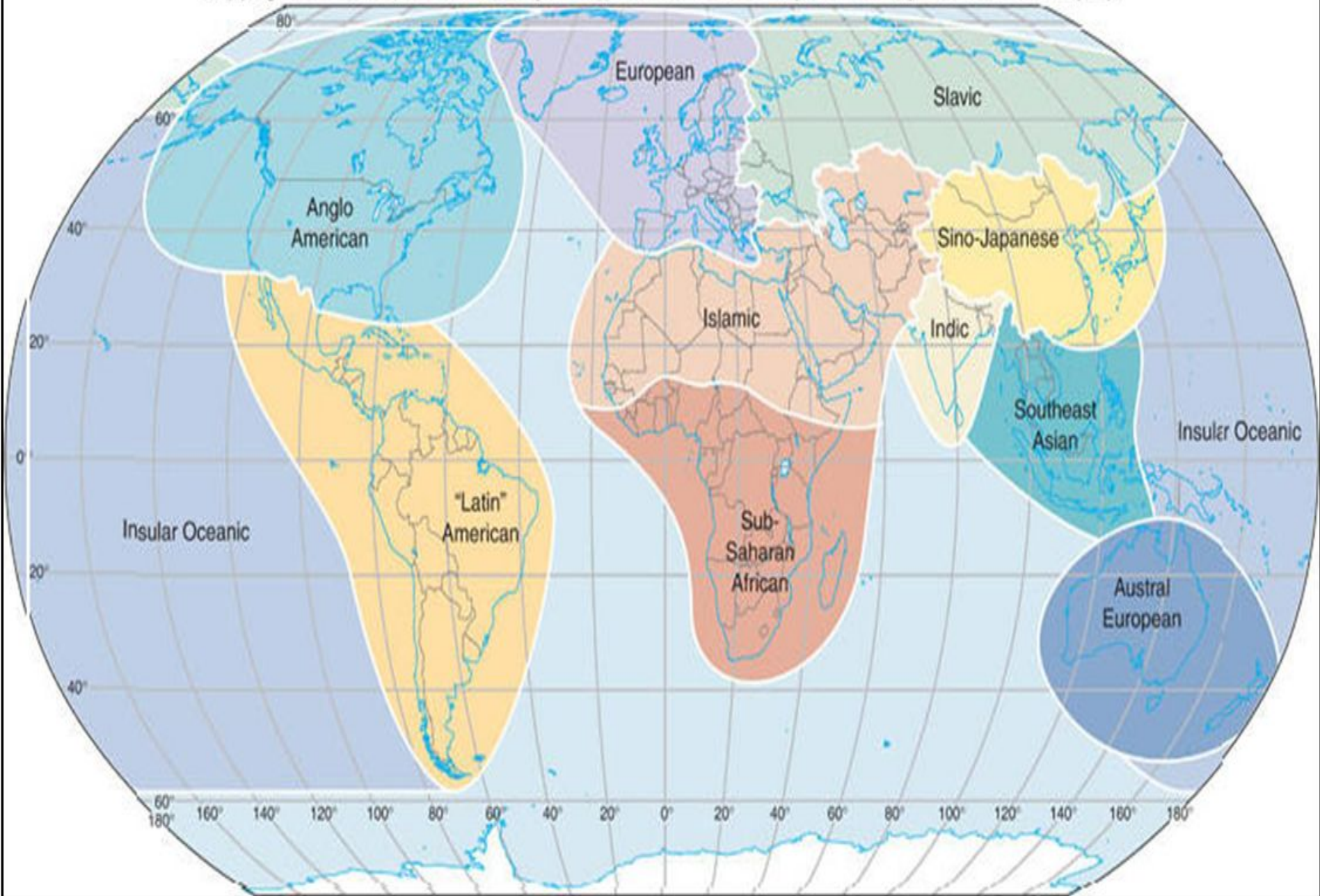
е) Центральной Азии;

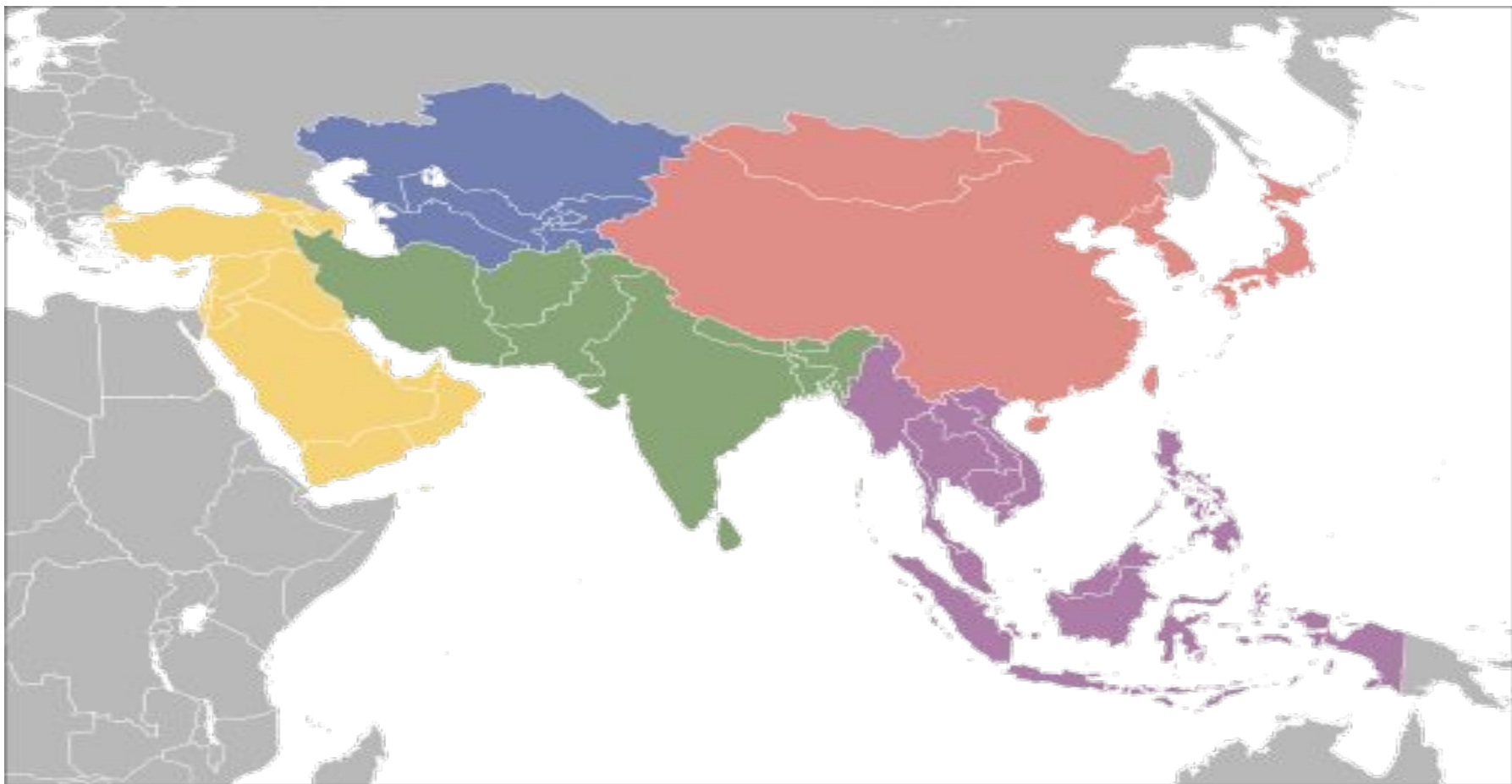
ж) Карибского бассейна;

з) Индокитая;

и) Вест-Индии.







Назовите страны, показанные на карте и определите их принадлежность регионам: физико-географическим, историко-культурным и политико-географическим.





- Западная Европа
- Центрально-Восточная Европа
- Российско-Евразийский регион
- Восточная Азия
- Южная Азия
- Юго-Восточная Азия

- Северная Африка и Средний Восток
- Африка южнее Сахары
- Северная Америка
- Латинская Америка
- Австралия
- Океания

## **Групповая работа.**

**Задание:** предложите собственную модель комплексно-географического районирования и представьте в творческой форме их состав и особенности, географическую характеристику.

**1\_ группа:** физико-географические районы мира

**2\_ группа:** историко-культурные районы,

**3\_ группа:** политико-географические районы

Источник

<http://vseprostrany.ru/index.php/2011-08-15-06-12-01/2011-08-15-06-32-37/2012-02-01-17-59-58.html>

<https://megalektsii.ru/s43747t3.html> Концепция территориально-политической организации общества

<https://megaobuchalka.ru/8/36384.html> Геополитические центры мира и система международных отношений.