

ОТЧЕТ ПО ПРАКТИКЕ

на тему «Простые листья пришкольного участка
Муниципального бюджетного
общеобразовательного учреждения – лицея №18
г. Орла»

Общая фотография на практике

(тех, кто выполнял работу по этой теме)

*Выполнили
дети 5 «А» класса
Иванов Иван
Иванов Иван
Иванов Иван
Иванов Иван
Иванов Иван*

Простой лист состоит из единственной листовой пластинки и одного черешка

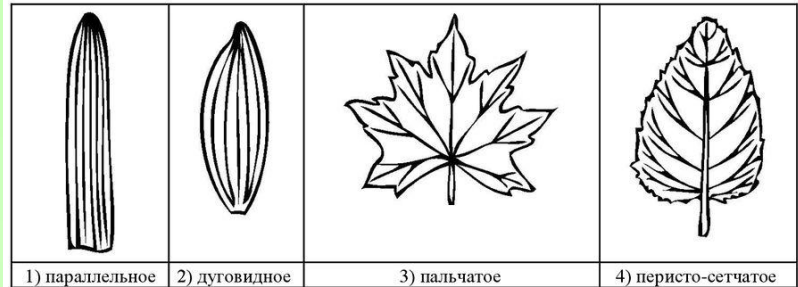
Исследование и дальнейшее описание простых листьев пришкольного участка МБОУ – лицея №18 г. Орла проводили по следующей схеме:

А. Тип листа

1) черешковый

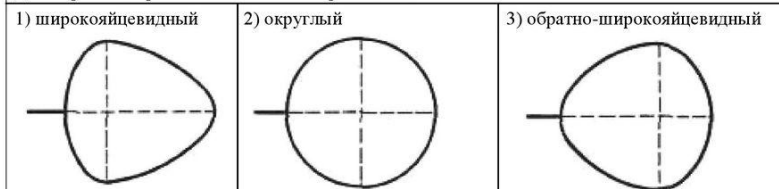
2) сидячий

Б. Жилкование листа

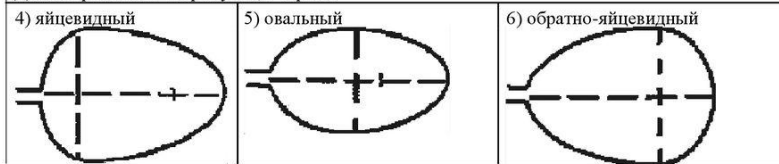


В. Тип листа по соотношению длины и ширины листовой пластинки (без черешка) и по расположению наиболее широкой части

Длина равна ширине или немного её превышает.



Длина превышает ширину в 1,5–2 раза.



1 Береза белая

**Сделанная вами
фотография листа
этого дерева**

Лист данного растения

(описывается по схеме на предыдущей странице):

А)

Б)

В)

2 Береза белая

**Сделанная вами
фотография листа
этого дерева**

Лист данного растения

(описывается по схеме на предыдущей странице):

А)

Б)

В)

3 Береза белая

**Сделанная вами
фотография листа
этого дерева**

Лист данного растения

(описывается по схеме на предыдущей странице):

А)

Б)

В)

4 Береза белая

**Сделанная вами
фотография листа
этого дерева**

Лист данного растения

(описывается по схеме на предыдущей странице):

А)

Б)

В)

5 Береза белая

**Сделанная вами
фотография листа
этого дерева**

Лист данного растения

(описывается по схеме на предыдущей странице):

А)

Б)

В)

6 Береза белая

**Сделанная вами
фотография листа
этого дерева**

Лист данного растения

(описывается по схеме на предыдущей странице):

А)

Б)

В)

7

Береза белая

**Сделанная вами
фотография листа
этого дерева**

Лист данного растения

(описывается по схеме на предыдущей странице):

А)

Б)

В)

8 Береза белая

**Сделанная вами
фотография листа
этого дерева**

Лист данного растения

(описывается по схеме на предыдущей странице):

А)

Б)

В)

9 Береза белая

**Сделанная вами
фотография листа
этого дерева**

Лист данного растения

(описывается по схеме на предыдущей странице):

А)

Б)

В)

10

Береза белая

**Сделанная вами
фотография листа
этого дерева**

Лист данного растения

(описывается по схеме на предыдущей странице):

А)

Б)

В)

**Кроме того, во время практики ухаживали
за клумбами пришкольного участка**

**Если ухаживали за
клумбами - вставьте
фотографию, если нет
- удалите этот слайд!**