

Экономика.

10 класс.

Предложение.

Сдвиг кривой предложения



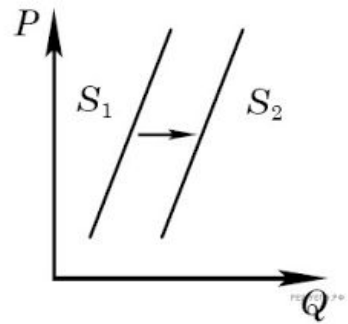
Нимерницкая И.А.

Москва

2020

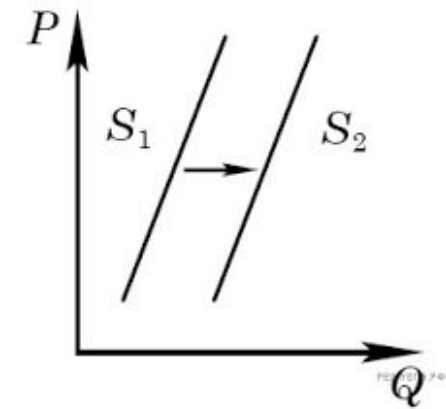
©

Задание 1



Какие ситуации из предложенных ниже соответствуют изменениям предложения на роликовые коньки на рисунке?

1. Сокращение количества фирм, производящих роликовые коньки
2. Внедрение новых технологий производства роликовых коньков
3. Рост цен на комплектующие изделия для роликовых коньков
4. Рост тарифов на электроэнергию
5. Снижение налогов на комплектующие изделия для роликовых коньков

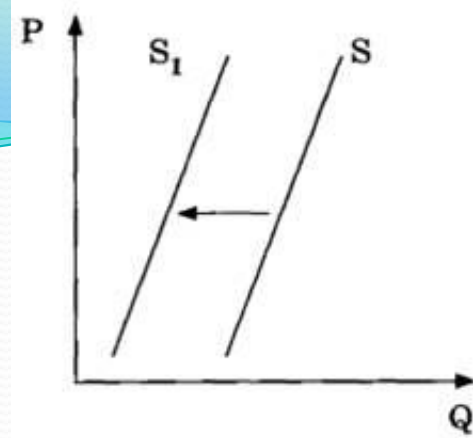


Задание 2

Какие ситуации из предложенных ниже соответствуют изменениям предложения цветов на рисунке?

1. Снижением тарифов на электричество
2. Снижением доходов населения
3. Увеличением налогов на производителей
4. Вводом в эксплуатацию цветочной теплицы
5. Увеличением тарифов на электричество

Задание 3



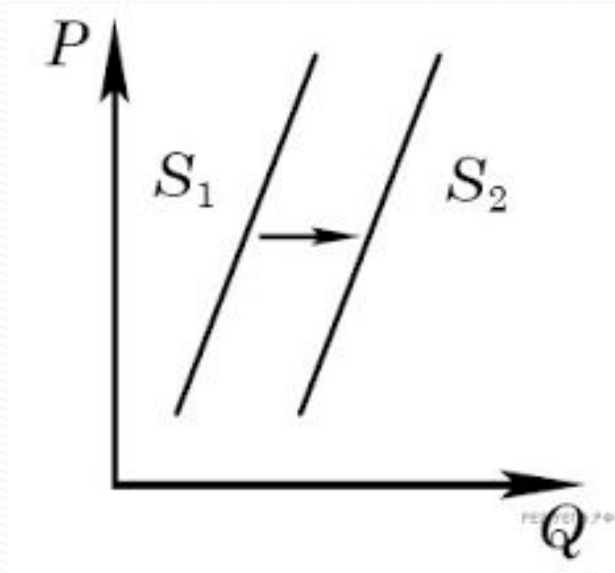
Какие ситуации из предложенных ниже соответствуют изменениям предложения на рыбу и морепродукты на рисунке?

1. Существенным ростом доходов населения
2. Спуском на воду новых траулеров для рыболовного флота страны
3. Повышением импортных пошлин на ввоз морепродуктов и рыбы
4. Увеличением количества продавцов рыбы и морепродуктов
5. Уменьшением количества продавцов рыбы и морепродуктов



Задание 4

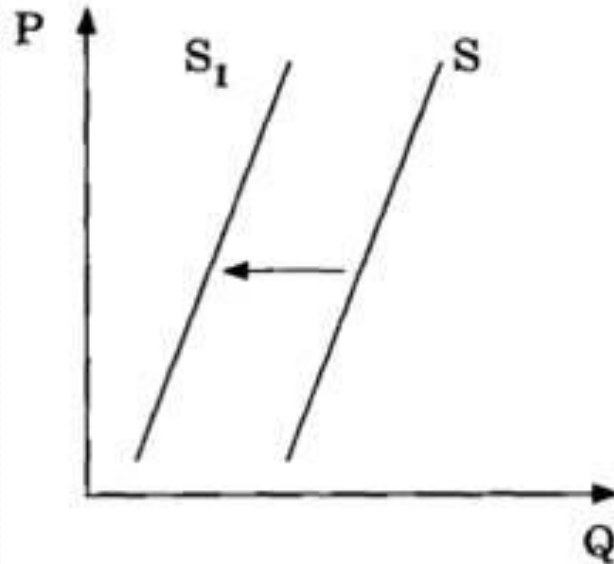
Придумайте три примера ситуаций, которые могут быть отражены графиком, приведенным ниже.



Задание 5



Придумайте три примера ситуаций, которые могут быть отражены графиком, приведенным ниже.



ИСТОЧНИК

**Собственная разработка.
Материалы с сайта Решу ЕГЭ
<https://soc-ege.sdamgia.ru/>**

